

2014年经浙江省中小学教材审定委员会审查通过  
浙江省义务教育教科书

# 历史与社会

LISHI YU

# 图 册

SHEHUI TUCE

浙江省教育厅教研室 编著

九年级  
下册



中国地图出版社



# 目次 MUCI

## 第五单元 二战后的世界变化

- 两极格局的形成·····2~7
- 当代资本主义的新变化·····8~11
- 社会主义的发展与挫折·····12~15
- 亚非拉地区的发展·····16~21
- 聚焦文化软实力·····22~23

## 第六单元 中国社会主义建设的探索与改革开放的起步

- 新生政权的巩固与社会主义制度的建立·····24~26
- 艰辛探索与建设成就·····27~29
- 改革开放的起步·····30~35
- 民族区域自治地方的发展·····36~37
- “一国两制”与统一大业·····38~41
- 独立自主的新中国外交·····42~45
- 感受新中国的精神力量·····46~47

## 第七单元 聚焦当代中国与世界的发展

- 坚持和发展中国特色社会主义·····48~53
- 经济全球化·····54~55
- 世界多极化趋势·····56~59
- 当代科技革命与社会生活·····60~61
- 认识“和平与发展”的时代主题·····62~63

## 第八单元 共同面对前所未有的全球性问题

- 不断变化的人口问题·····64~67
- 日益严峻的资源问题·····68~71
- 共同关注的环境问题·····72~75
- 发展的选择·····76~79
- 让历史告诉未来·····80

### 本册图例

	首都		海岸线
	省级驻所		河流
	重要居民点		运河
	洲界		湖泊
	未定国界		长城
	军事分界线		山峰、桥梁
	地区界		街区
	未定世界地图国界		城壕、城门
	世界地图地区界		未定铁路
	世界地图军事分界线		公路
	省级界		
	特别行政区界		

## 两极格局的形成



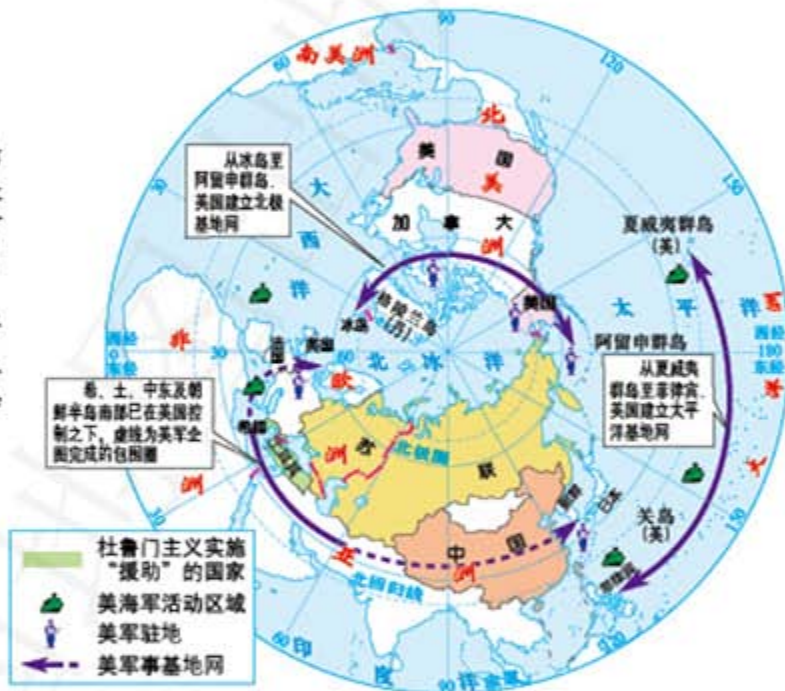
1946年，丘吉尔发表“铁幕”演说



1947年，杜鲁门发表“冷战”演说

杜鲁门主义全球军事战略计划示意图

随着第二次世界大战的结束，美苏由战时同盟、合作关系发展为战后初期的分裂、对抗。在这种情况下，1947年3月12日，“杜鲁门主义”出台，美国通过援助希腊、土耳其等“自由”国家来防止“共产主义的渗入”。它的出台，标志着美苏战时的同盟正式破裂，美苏冷战全面展开。



关于马歇尔计划的两幅宣传海报

在左上的图片中，马歇尔计划成为扶助欧洲成长的夹板。你能否看出右上图片的含义呢？根据海报上的国旗，你能判断出接受援助的国家有哪些吗？



经济互助委员会执行委员会举行会议

为恢复、发展经济和对抗马歇尔计划，1949年1月，苏联、保加利亚、匈牙利、波兰、罗马尼亚和捷克斯洛伐克6国代表在莫斯科成立经济互助委员会。

马歇尔计划援助国家示意图



针对战后欧洲国家普遍出现的经济困难，美国国务卿马歇尔提出了“欧洲复兴计划”，通称“马歇尔计划”。1948年，马歇尔计划开始实施。这一计划在一定程度上帮助西欧经济渡过难关，防止了革命的爆发，巩固了资本主义秩序。因此，杜鲁门认为杜鲁门主义和马歇尔计划是一个核桃的两个半边、异曲同工。



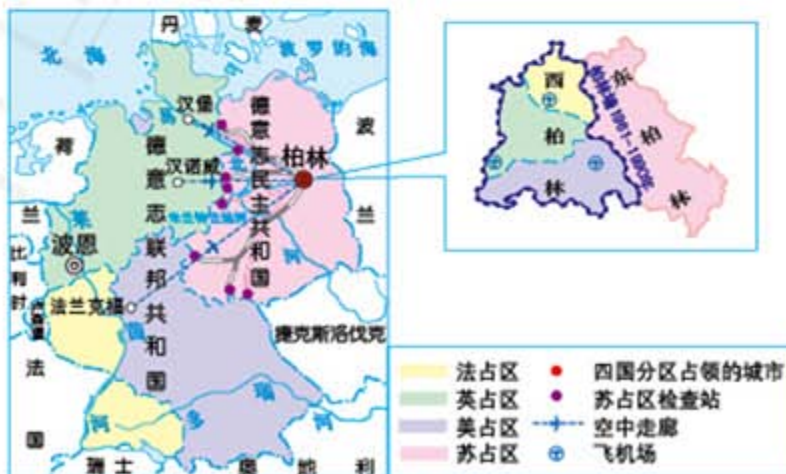
马歇尔计划援助欧洲的一台脱粒机正在奥地利工作

### 柏林危机

第二次世界大战结束后，德国及其首都柏林被4国分区占领。美、英、法占领的西柏林位于苏占区内，距西方占领区的东部边界约177千米，相互间除3条“空中走廊”外，还有铁路、公路、水路相通。1948年6月，苏联切断西柏林与西方占领区的水陆交通，美、英通过“空中走廊”为西柏林居民大规模地空运物资，同时对苏占区实行反封锁，这就是第一次柏林危机。1949年封锁解除，但德国分裂已成定局。1949年5月和10月，德意志联邦共和国和德意志民主共和国先后建立。1958年11月，苏联要求美、英、法在6个月内撤出在西柏林的驻军，美、英、法拒绝撤军，并宣称不惜诉诸武力，苏联提出强烈抗议，此为第二次柏林危机。1961年，苏联和德意志民主共和国政府修筑柏林墙，封锁东、西柏林边界，使危机达到高潮。



美、英为西柏林居民空运物资



## 两极格局的形成



第二次世界大战后，世界形势发生了重大变化：美国成为世界头号资本主义强国；社会主义苏联实力大为增强，在其影响下，欧亚出现一系列社会主义国家。“北约”和“华约”组织的建立，标志着以美国为首的资本主义阵营和以苏联为首的社会主义阵营对立局面的形成。



北大西洋公约组织标志



华沙条约组织标志



《北大西洋公约》签字仪式

1949年4月，以美国为首的12国在美国首都华盛顿签署《北大西洋公约》，北大西洋公约组织成立。



《华沙条约》签字仪式

1955年5月，苏联、捷克斯洛伐克等8国在波兰首都华沙缔结《华沙条约》，华沙条约组织建立。



位于比利时布鲁塞尔的北约总部



位于莫斯科的华约总部

两大组织对峙格局一览表

签约时间	1949年4月
签约地点	华盛顿
总部所在地	布鲁塞尔
最初的参加国	美国、加拿大、英国、法国、荷兰、比利时、卢森堡、丹麦、挪威、冰岛、葡萄牙、意大利 注：1952年，希腊、土耳其加入；1955年，联邦德国加入；1982年，西班牙加入
现状	北约东扩 现有成员国28个

北大西洋公约组织

对峙

华沙条约组织

签约时间	1955年5月
签约地点	华沙
总部所在地	莫斯科
最初的参加国	苏联、波兰、匈牙利、捷克斯洛伐克、保加利亚、罗马尼亚、阿尔巴尼亚、民主德国
现状	1991年解散

### 北约东扩

20世纪90年代以后，随着华沙条约组织的解体 and 冷战的结束，北约迅速调整战略，以“全方位应付危机战略”取代“前沿防御战略”，通过东扩和推行“和平伙伴关系计划”竭力向东欧和前苏联地区拓展，从而进一步增强了其在欧洲安全事务中的作用。1994年，北约在布鲁塞尔首脑会议上，正式提出东扩计划。1999年吸收波兰、匈牙利和捷克为正式成员。2002年11月21日，北约在捷克布拉格举行首脑会议，决定把保加利亚、罗马尼亚、斯洛伐克、爱沙尼亚、斯洛文尼亚、拉脱维亚和立陶宛等7个东欧国家列入北约新一轮东扩名单。2004年3月，7国正式加入北约。2009年4月，阿尔巴尼亚和克罗地亚正式加入北约。至今，经过多次扩充，北约成员国已达28个。



北约会议

## 两极格局的形成



美苏战略武器比较

项目	美国		苏联	
	1968年	1978年	1968年	1978年
洲际导弹(枚)	1 054	1 054	800	1 400
潜舰发射导弹(枚)	656	656	130	1 015
战略轰炸机(架)	545	432	155	135
核弹头(枚)	4 300	11 000	1 300	4 500



古巴导弹危机期间，美国警戒纠察舰在哈瓦那附近海域拦截运输导弹的苏联货船







朝韩在三八线对峙

第二次世界大战后，随着北大西洋公约组织和华沙条约组织的先后建立，美苏两个超级大国相互争霸的两极格局愈加明显。美苏争霸期间，既有敌对和对抗行动，又有局部战争。1991年，苏联解体，两极格局结束。

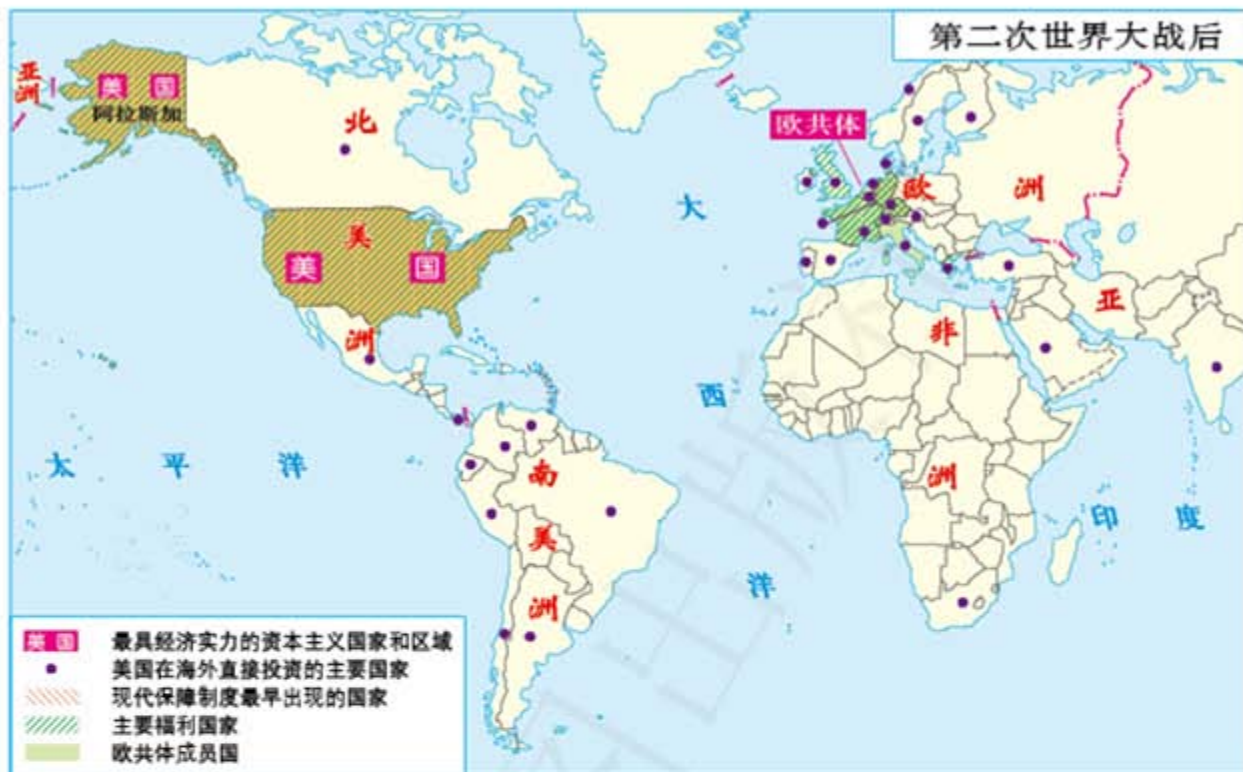


苏军入侵阿富汗

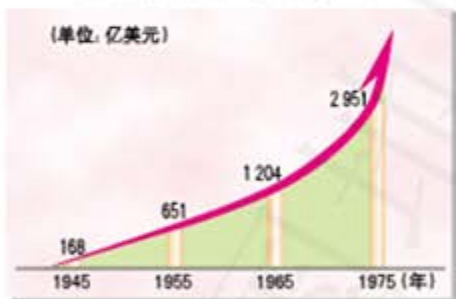


越南的丛林战使美军陷入进退两难的境地。图为在越南战场等待救援的美军

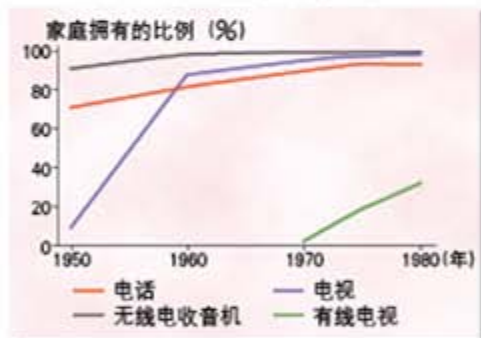
# 当代资本主义的新变化



美国海外资产总额的增长



美国耐用消费品的增长



美国本土工业的分布与发展



## 主要资本主义国家的发展变化 (迄20世纪70年代末)



20世纪50—70年代主要西方国家消费物价年增长率

国家	50年代	60年代	70年代
美国	2.0%	2.3%	6.6%
日本	2.9%	5.4%	9.6%
加拿大	2.4%	2.5%	7.2%
联邦德国	1.0%	2.4%	5.0%
英国	4.3%	3.4%	12.4%
法国	6.1%	3.9%	8.7%
意大利	2.4%	3.7%	10.6%

第二次世界大战后，美国经济迅速发展，成为世界上最富强的国家。在美国的援助、扶持下，西欧各国和日本的经济得到逐步恢复，并取得了长足的发展。

1967年，黑人学生在美国国民警卫队士兵的保护下，试图进入阿肯色州的一所白人高中，遭到倾向于种族隔离的白人学生的谩骂。



## 美国黑人反对种族歧视的斗争




# 当代资本主义的新变化



战后欧洲新的国际合作精神体现在法国总统戴高乐与德国总理阿登纳（戴高乐身边向群众挥手致意者）的合作上。两人经常会面，创造了一种作为新欧洲的伙伴关系。

欧洲经济的增长率

(单位: 年均百分比)



比利时中南部的炼钢厂




敦刻尔克临海工业区

欧洲经济共同体在1960年代中期建造的六大海岸钢铁工厂，其中之一就在敦刻尔克。



## 日本工业的分布与发展



## 福利国家

福利国家社会保险制度覆盖面情况 (占劳动力的百分比)

	养老保险			医疗保险			失业保险	
	1910年	1935年	1975年	1910年	1935年	1975年	1935年	1975年
奥地利	2	36	81	24	49	88	25	65
比利时	29	44	100	12	31	96	23	67
法国	13	36	98	18	36	94	1	65
德国	53	68	86	44	52	72	35	76
意大利	2	38	94	6	22	91	31	52
荷兰	—	56	100	—	42	74	16	78
瑞典	—	—	100	27	35	100	2	67
挪威	—	—	100	—	56	100	5	82
英国	—	79	80	—	82	100	63	73



有关高福利的漫画



2011年, 英国世纪大罢工

第二次世界大战后, 欧美等一些国家实行高福利制度, 适当调节社会需求, 刺激消费, 推动了经济的发展, 在一定程度上改善了人民的生活, 维护了社会政治的安定。但是, 这项西方引以为傲的“从摇篮到坟墓”的高福利制度也存在着很多的问题。它有可能导致一些人懒惰, 不利于社会进步。此外, 高福利成为国家的一项难以压缩的巨额开支, 加重财政负担, 甚至引发债务危机, 形成了难以摆脱的恶性循环。

## 社会主义的发展与挫折

二战后部分欧亚人民民主国家建立简表

	国家名称	建立时间	主要领导人
欧洲	波兰人民共和国	1944年7月	贝鲁特
	南斯拉夫联邦人民共和国	1945年11月	铁托
	阿尔巴尼亚人民共和国	1946年1月	霍查
	匈牙利人民共和国	1946年2月	拉科西
	保加利亚人民共和国	1946年9月	季米特洛夫
	罗马尼亚人民共和国	1947年12月	乔治乌-德治
	捷克斯洛伐克人民共和国	1948年5月	哥特瓦尔德
	德意志民主共和国	1949年10月	皮克
亚洲	越南民主共和国	1945年9月	胡志明
	朝鲜民主主义人民共和国	1948年9月	金日成
	中华人民共和国	1949年10月	毛泽东

注：20世纪60年代至70年代，捷、南、罗、阿、越先后改称社会主义共和国



航空拍摄的苏联集体农庄

1954年，赫鲁晓夫建议将上壤国库的农产品数量提高40%，为了完成目标，数以万计的年轻人来到西伯利亚等地区开垦荒地，大量集体农庄建立起来。



1950年《中苏友好同盟互助条约》签字仪式



## 赫鲁晓夫与“玉米运动”

1953年斯大林逝世后，赫鲁晓夫担任苏联共产党中央第一书记，着手进行改革。他把农业作为改革的突破点，推行一系列发展农业的措施。赫鲁晓夫尤其热衷于玉米的种植。他说“玉米能够让我们创造出奇迹”，“我是玉米的热烈拥护者”。为了解决粮食和牲畜饲料问题，他不顾苏联的自然条件，强行扩大玉米种植。玉米种植面积到1982年已达3700万公顷，比1953年增加10倍以上。结果，苏联很多地区因日照量不够，玉米结不了穗，扩种玉米的计划彻底破产，赫鲁晓夫也因此被人送了一个“玉米”的雅号。

赫鲁晓夫在农业改革中一些鲁莽草率的做法，如盲目要求将牧草地改种玉米等，造成了一定程度的生态破坏，致使土壤沙化，收成递减。赫鲁晓夫执政后期，农业再次陷入困难境地。



在1983年的“五一”游行中，苏军在莫斯科红场展示了核导弹

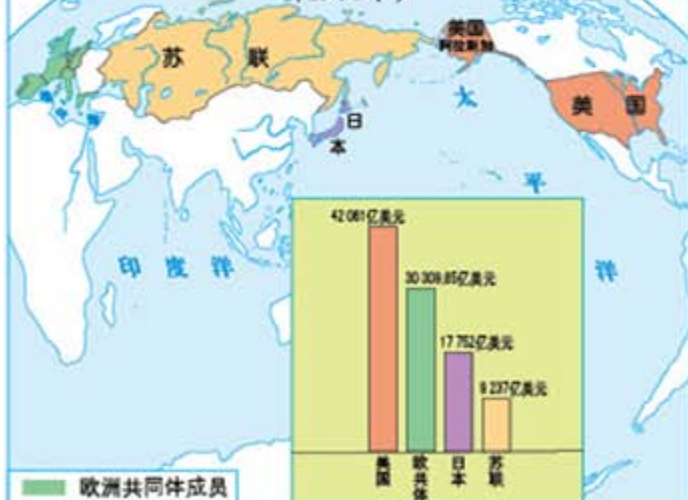


“礼炮号”空间站模型  
1971年4月19日，苏联建立“礼炮一号”空间站。

1966—1985年苏联经济的增长率(%)

年份	国民收入	工业总产值	农业总产值	人均实际收入
1966—1970	7.8	8.5	3.9	5.9
1971—1975	5.7	7.4	2.5	4.4
1976—1980	4.8	4.4	1.7	3.4
1981—1985	3.6	3.5	1.0	2.1

苏联与欧洲共同体、  
美、日国民生产总值的比较  
(1986年)



## 社会主义的发展与挫折



1956年，苏联出兵干预匈牙利改革。图为巷战后的坦克



1968年，苏联入侵捷克斯洛伐克。捷克斯洛伐克公民与苏军进行对抗



1989年，发生剧变的罗马尼亚



1989年，发生剧变的捷克斯洛伐克








演说家在街头宣传戈尔巴乔夫改革政策的情景

1980—1991年间苏联主要食品的人均产量

品名	时间	1980年	1985年	1990年	1991年
砂糖 (千克)		21.6	25.4	24.3	20.9
白糖 (千克)		6.1	6.7	7.3	6.0
肉类 (千克)		32.4	37.1	44.9	39.2
香肠制品 (千克)		12.8	13.5	15.4	14.0
肉类半成品 (千克)		5.2	6.5	7.3	5.9
动物油 (千克)		4.4	5.0	5.6	4.9
全奶制品 (用牛奶折算) (千克)		112	125	141	125
奶酪、脂肪 (千克)		2.4	2.8	3.1	2.7
植物油 (千克)		5.9	5.4	7.8	7.8
人造奶油产品 (千克)		5.2	5.7	5.5	4.2
罐头 (个)		43.2	49.2	55.5	46.7
干果 (千克)		12.0	7.5	14.3	7.4
通心粉制品 (千克)		6.6	6.6	7.0	7.5
不含乙醇饮料 (升)		12.9	13.1	19.4	15.3
精盐 (千克)		49.6	42.1	28.4	27.7



1991年12月，苏联解体，原苏联国旗从克里姆林宫上空降落（左图），俄罗斯国旗徐徐升起（右图）



# 亚非拉地区的发展



第五单元 二战后的世界变化

第二次世界大战后，亚非拉国家掀起了民族解放运动的高潮，许多国家摆脱了西方的殖民统治，赢得了民族独立，帝国主义殖民体系全面崩溃。独立后的民族国家在振兴民族经济、促进社会发展、维护国家主权和改变不合理的国际政治经济秩序等方面，进行了不懈的努力。



阿尔及利亚人民庆祝独立



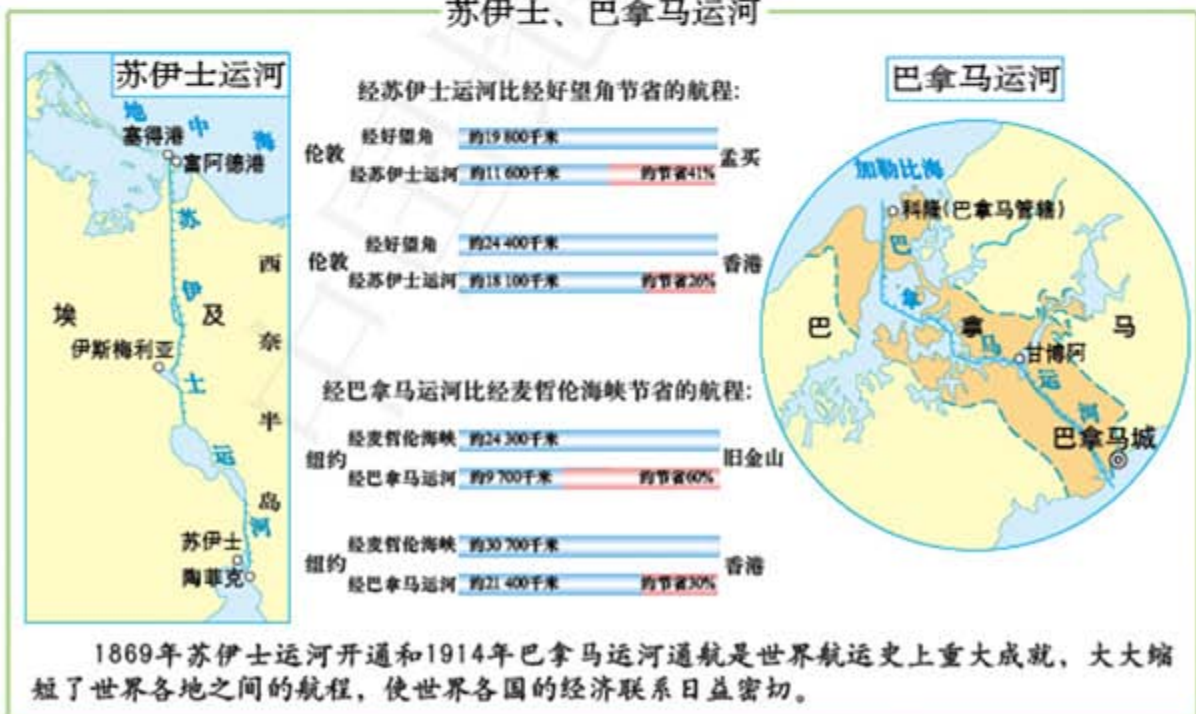
- 起义军游击活动区
- 1956年11—12月起义军进攻路线
- 革命武装力量司令部
- 1959年1月起义军进攻路线
- 武装起义和抗美斗争地区
- 美国的武装干涉

## 二战后亚非拉国家的独立与发展



尼日利亚人民庆祝独立

## 苏伊士、巴拿马运河



## 亚非拉地区的发展



韩国首尔世界贸易中心大厦



20世纪60年代至70年代，韩国启动了“经济开发战略”，实现经济起飞，创造了“汉江奇迹”。第二次世界大战后，新加坡仅是从事转口贸易的城市。20世纪60年代，新加坡抓住西方发达国家实行产业结构调整而向发展中国家转移劳动密集型产业的机遇，及时调整经济发展战略，迅速成为新兴的工业化国家。这一时期中国的香港和台湾地区的经济也取得了飞速发展。



新加坡港口



1955年4月，周恩来率中国政府代表团出席亚非会议。图为代表团抵达万隆，受到各界民众的热烈欢迎。



七十七国集团标志



不结盟运动标志



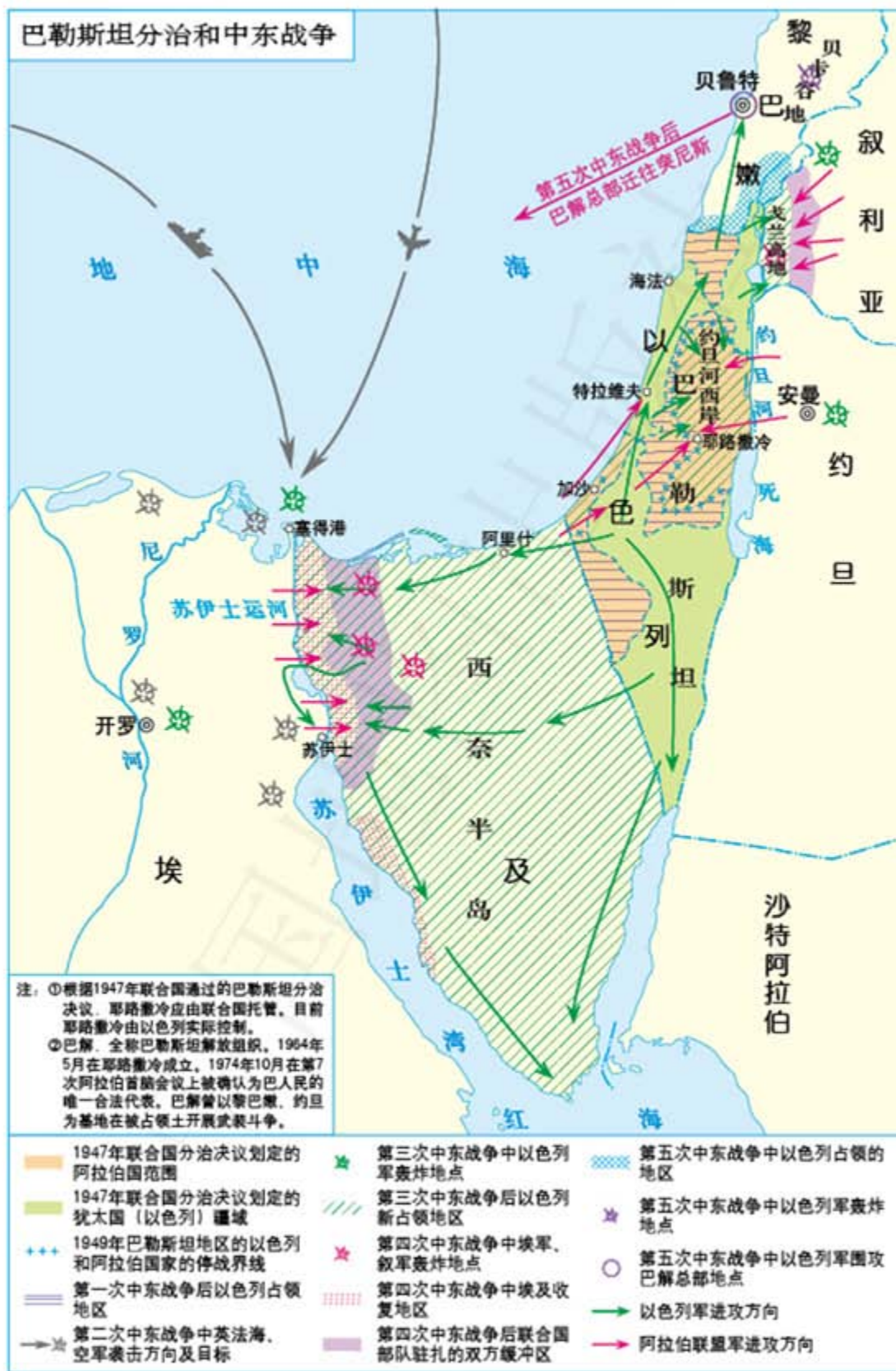
七十七国集团召开会议场景



1983年第七次不结盟国家和政府首脑会议

# 亚非拉地区的发展

巴勒斯坦分治和 中东战争





第一次中东战争中的以色列装甲部队

第二次  
中东战争期间，英国进  
攻塞得港



第三次中东战争中的以色列坦克部队

第四次中  
东战争中埃及  
军队越过苏伊  
士运河，突破  
以军防线



# 聚焦文化软实力

对国力认识的进程示意图



商鞅像

发展农业是治国之要。  
百人农、一人居者王，十人农、一人居者强，半农半居者危。



马汉著作《海权对历史的影响》封面

海上力量决定国家力量。谁能有效控制海洋，谁就能成为世界强国。



综合国力是一个主权国家生存和发展所拥有的全部实力及国际影响力的合力，由硬实力和软实力共同组成。

马汉  
黄硕风



位于韩国首尔的三星城



韩国汉江周边的商业区





### 《江南Style》

这首歌曲虽然取材于韩国的本土文化，但在对其文化背景不熟悉的西方国家也相当流行，并引起了国际媒体的关注。对《江南Style》的模仿，上到联合国秘书长，下到平民老百姓，各个阶层无所不在，可以说实现了精英与大众同乐。吸纳了国际元素又贴合时代特色再加上韩式创意的《江南Style》征服了世界，体现了韩国文化软实力的力量。

民族文化是一个民族区别于其他民族的独特标识。要加强对中华优秀传统文化的挖掘和阐发，努力实现中华传统美德的创造性转化、创新性发展，把跨越时空、超越国度、富有永恒魅力、具有当代价值的文化精神弘扬起来，把继承优秀传统文化又弘扬时代精神、立足本国又面向世界的当代中国文化创新成果传播出去。

——习近平



中华优秀传统文化——戏曲



中华优秀传统文化——园林



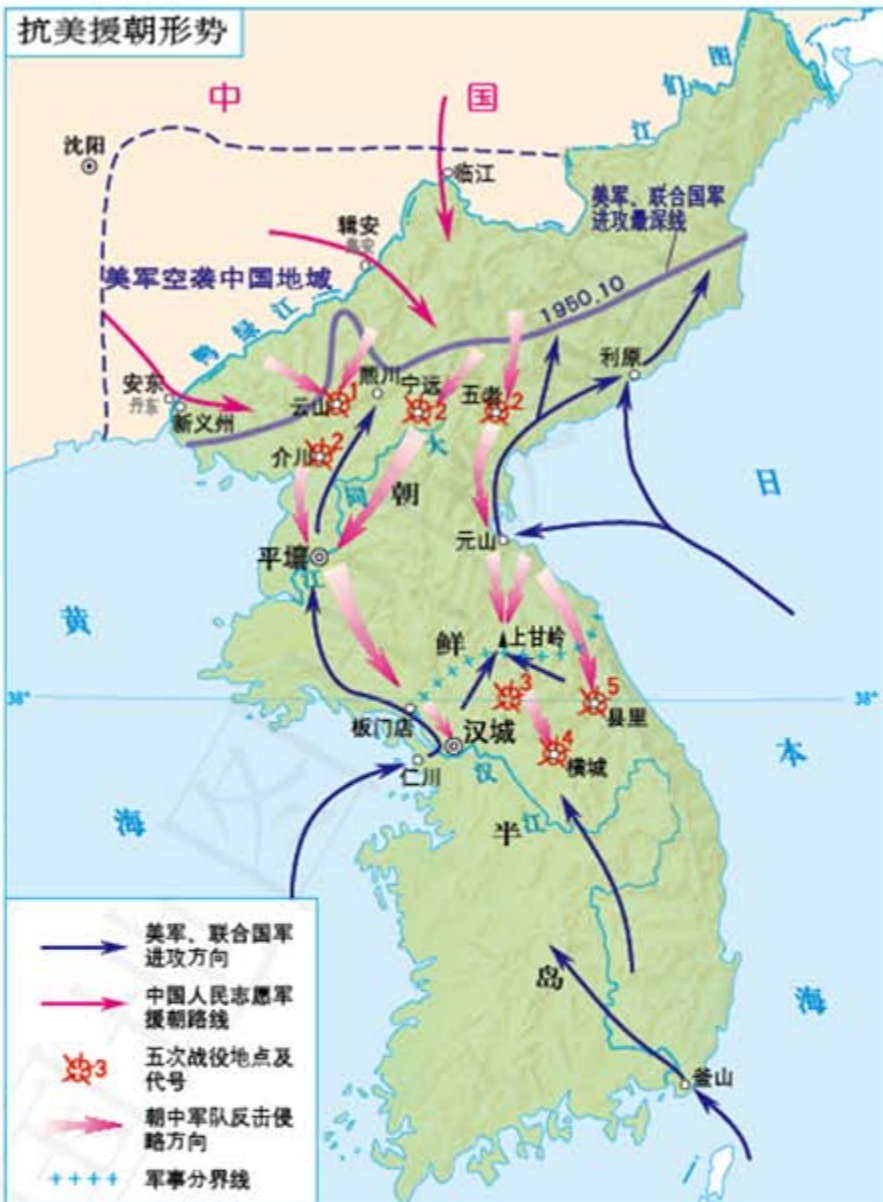
中华优秀传统文化——中国画



中华优秀传统文化——书法

# 新生政权的巩固与社会主义制度的建立

抗美援朝形势



彭德怀在朝鲜前线



中国人民志愿军凯旋

## 三八线的由来



在朝鲜地图上，你可以看到一条非常明显的纬线，这就是北纬38度线。它是抗美援朝战争中经常提到的一个地理名词，起源于第二次世界大战胜利前夕。1945年8月，苏联对日宣战后，迅速突入朝鲜。而此时的美军远在冲绳岛，眼看苏联红军有席卷朝鲜半岛之势，美国方面紧急研究对策。美方看到北纬38度线恰好位于朝鲜半岛南北中央，遂提出以38度线为美苏军队受降分界线，该线以北为苏军接受日军投降的受降区，以南为美军受降区。朝鲜半岛被一分为二，形成了美军和苏军两个占领区，板门店谈判后的军事分界线即在此线附近。

进入21世纪以来，朝鲜南北双方开始了对话和交往，中断近半个世纪的南北铁路、公路交通也开始重建。人们惊奇地发现，军事分界线附近，由于长期的军事封锁，不知不觉中居然形成了一块自然保护区，成了野生动植物的乐园。

### 土地改革



政府发给农民的土地执照

- 1949年9月以前基本完成土地改革的地区
- 1949年冬到1953年春基本完成土地改革的地区
- 1953年春以前未进行土地改革的地区



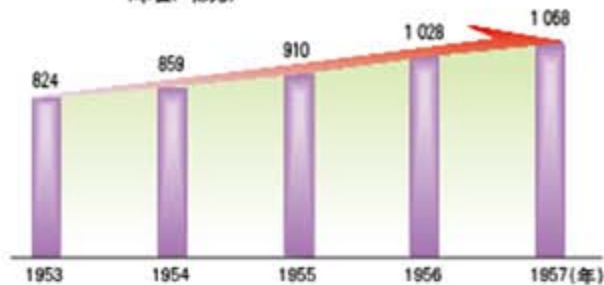
贫下中农烧毁地主的土地契

旧中国土地占有对比表

成分	占乡村人口比例	占有土地百分比
地主、富农	不足10%	70%~80%
贫农、雇农、中农	90%以上	20%~30%

# 新生政权的巩固与社会主义制度的建立

1953—1957年国内生产总值  
(单位:亿元)



1954年,第一届全国人民代表大会制定了《中华人民共和国宪法》



1953年7月,长春第一汽车制造厂举行奠基典礼



青藏公路



农民积极报名入社



资本主义工商业全行业公司合营后,1956年,北京各界庆祝社会主义改造完成,工商界代表向党中央和毛主席报喜

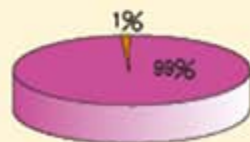
至1956年底,中国对农业、手工业、资本主义工商业的社会主义改造情况统计图



■ 已加入农业生产合作社的农民  
■ 尚未加入农业生产合作社的农民



■ 已完成社会主义改造的手工业者  
■ 尚未完成社会主义改造的手工业者



■ 已完成公私合营的工业企业职工  
■ 尚未进行公私合营的工业企业职工

## 艰辛探索与建设成就

### 大跃进



“大跃进”时期的宣传画

“一个萝卜千斤重，两头毛驴拉不动”；“稻米赶黄豆，黄豆像地瓜，芝麻赛玉米，玉米有人大”。大跃进时期，这种不符合规律的口号严重泛滥。



农业大跃进社社放卫星

工业方面，当时提出十五年“赶超英国”口号，不断提高钢产量的指标，掀起了全民大炼钢铁运动，并强调“以钢为纲”，带动其他行业的“全面跃进”。

1958年，中共中央建议当年的钢产量定为800万~850万吨。随后，冶金部提出当年钢产量可达800万吨。最后中央规定1958年钢产量在1957年基础上翻一番，达到1070万吨。到1958年底，钢产量达到1108万吨，但其中近三分之一是不合格的土钢。



沿着社会主义的道路前进！

人民公社的宣传画



人民公社实行“组织军事化，行动战斗化，生活集体化”。图为人民公社社员整队去田间劳动



1959—1961年，国民经济发生严重困难。1961年1月，中共八届九中全会决定对国民经济实行“调整、巩固、充实、提高”八字方针，号召全党大兴调查研究之风。图为大会会场



1961年，邓小平考察东北工厂，提出要加强责任制，贯彻按劳分配，实行职工代表大会制

# 艰辛探索与建设成就

1962年以后，“左”倾思潮抬头，并发展成为“以阶级斗争为纲”的指导思想。1966年5月，中共中央政治局扩大会议通过《中共中央通知》，决定设立中央文化革命小组。一场史无前例的政治动乱开始。

## “文化大革命”时期的重大政治事件



“文化大革命”全面发动



“九一三事件”中坠毁的飞机



周恩来逝世

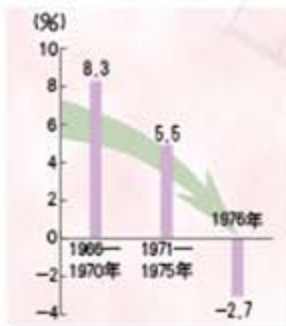


毛泽东逝世

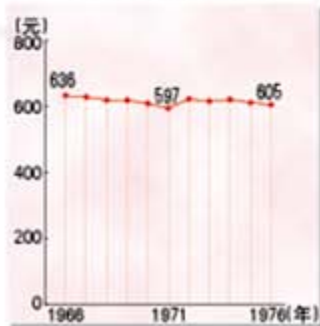


1976年10月，“四人帮”被揪出，1981年受到人民的审判

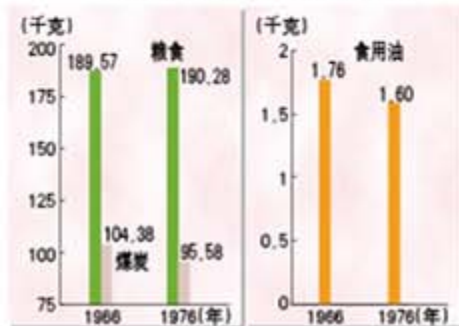
国民收入年平均增长速度的变化



全民所有制职工平均工资的变化



1966年与1976年部分生活消费品人均消费量对比表



## 社会主义建设成就



1959年，大庆油田工人欢呼第一口油井喷油

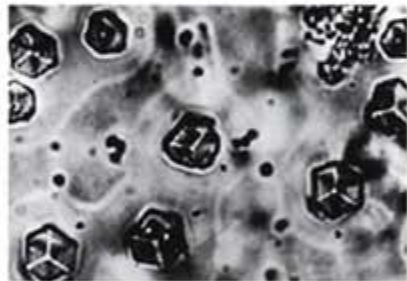
到1956年年底，国家基本完成了对农业、手工业和资本主义工商业的社会主义改造。全面社会主义建设事业开始后，中国人民在中国共产党的领导下，以高昂的热情投入社会主义建设事业，艰苦奋斗，克服了重重困难，取得了巨大成就。



1958年，武钢一号高炉炼出第一炉铁水



20世纪60年代，兰新铁路建成通车



1965年，我国首先完成了人工合成结晶牛胰岛素



1967年，我国成功爆炸了第一颗氢弹



1970年，人们争相眺望“东方红一号”通过北京上空



1973年，我国成功培育出强优势的籼型杂交水稻

## 改革开放的起步



1978年12月，中共十一届三中全会召开。会议作出把党和国家工作重心转移到经济建设上来，实行改革开放的战略决策，成为党的历史上意义深远的伟大转折



在第一份包产到户生产契约上按手印的小岗村农民



安徽省凤阳县农民喜获丰收

### 家庭联产承包责任制的兴起与推广

(1980年)





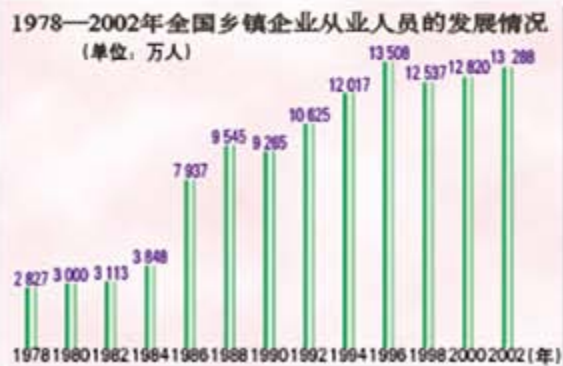
全国各省区乡镇企业的情况




现代农村新貌——江苏省江阴市华西村



广东省中山市乡镇企业



# 改革开放的起步



改革开放的总设计师——邓小平

## 对外开放格局的形成



对外开放前的大连市景



对外开放后的大连市景



云南瑞丽口岸 (毗邻缅甸)

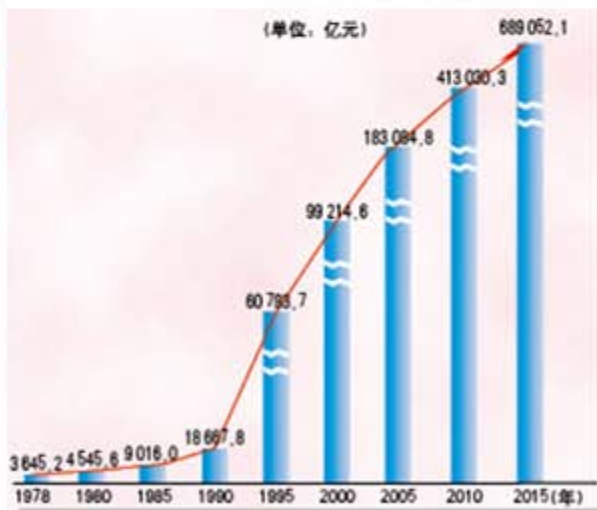


内蒙古满洲里口岸（北接俄罗斯，西邻蒙古国）



厦门经济特区设立后，台商前来洽谈贸易

1978—2015年国内生产总值



以1978年中共十一届三中全会的召开为标志，我国开始了历史发展的伟大转折，进入改革开放和社会主义事业发展的新时期。国民经济得到调整，呈现出迅速发展的势头。

## 改革开放的起步



## 浦东新区

浦东位置图



1990年4月18日，中央宣布开发开放上海浦东。同年9月，外高桥保税区、陆家嘴金融贸易区、金桥出口加工区率先成立。1995年5月，六里现代生活园区成立。至此，浦东新区建成了自由贸易、金融商贸、出口加工、高科技、文化旅游、现代农业、现代生活等多个各具特色的功能开发区。

上海浦东外贸进出口总额

(单位: 亿美元)

年代	1995年	1998年	2000年	2001年	2002年	2005年
出口	39.63	52.80	95.80	115.11	136.02	372.12
进口	32.34	67.02	159.06	187.61	232.96	522.63



上海浦东新貌

## 民族区域自治地方的发展

### 民族区域自治

(2007年12月)



各民族大团结



1958年3月5日，广西壮族自治区成立

民族区域自治制度是我国的一项基本政治制度。至2007年底，我国共建立了内蒙古自治区、新疆维吾尔自治区、广西壮族自治区、宁夏回族自治区、西藏自治区等5个省级自治区。此外，还有30个自治州，120个自治县(旗)。




西藏自治区成立50周年庆祝大会

西部大开发为少数民族地区的加快发展创造了巨大的历史机遇。西部大开发以来，在基础设施建设、科技教育和文化卫生事业等方面建设了一大批项目，极大地带动了少数民族地区的经济社会发展。



2006年7月，青藏铁路全线建成通车



六盘山地区高等级公路



国家民委与国家开发银行在京签署开发性金融合作协议

通过国家的政策支持与政策性金融贷款支持相结合，促进民族事业发展。



左图为蒙古族歌手演唱蒙古族长调民歌；右图为新疆库车县齐满镇巴扎村村民自拉自唱木卡姆。蒙古族长调民歌、新疆维吾尔木卡姆艺术于2005年列入《世界遗产名录》



新中国成立以来西藏最大的文物保护维修工程——布达拉宫、罗布林卡、萨迦寺保护维修工程开工典礼



# “一国两制”与统一大业

香港、澳门、台湾在祖国的位置



1984年，邓小平在会见美国一个代表团时，把解决中国统一问题的构想概括为“一个中国，两种制度”



## 第六单元

## 中国社会主义建设的探索与改革开放的起步



1984年12月19日，中英两国政府在北京正式签署关于香港问题的联合声明



香港小朋友庆回归



香港市民积极参加基本法推介活动



香港特别行政区区旗



香港特别行政区区徽





## 香港问题的由来

香港地区包括香港岛、九龙及“新界”。1841年，英国强占香港岛。1842年，英国通过中英《南京条约》，割占香港岛。1860年，英国通过中英《北京条约》，割占九龙半岛界限街以南地区。1898年，英国强迫清政府签订中英《展拓香港界址专条》，强行租借界限街以北、深圳河以南的九龙半岛北部大片地区及附近的200多个岛屿(后统称“新界”)，租期99年，至1997年6月30日期满。1982年，我国政府做出在1997年收回香港的决策。通过长达两年多的外交谈判，1984年12月，中英联合声明在北京签署，成功解决香港回归问题。1997年7月1日，我国政府正式恢复对香港行使主权，中华人民共和国香港特别行政区成立。



1987年4月13日，中葡两国政府关于澳门问题的联合声明在北京正式签署



澳门特别行政区区旗



澳门特别行政区区徽

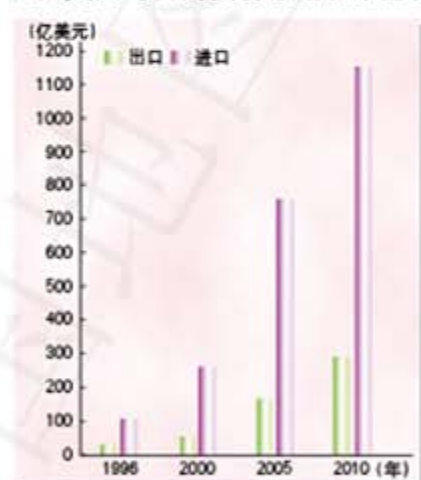
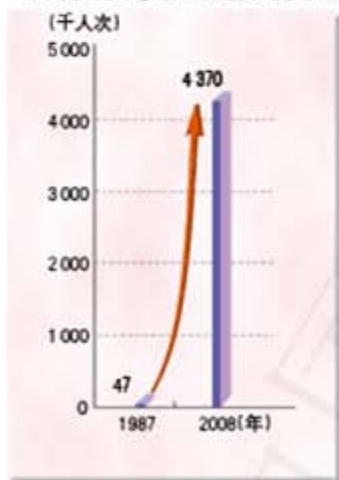


1999年12月20日，澳门回到祖国的怀抱

# “一国两制”与统一大业



台胞往来大陆人数的变化 祖国大陆与台湾贸易额增长示意图



1982年4月，叶剑英等在北京会见华侨、台湾同胞、港澳同胞和外籍华人代表，进一步阐述了和平统一台湾的政策



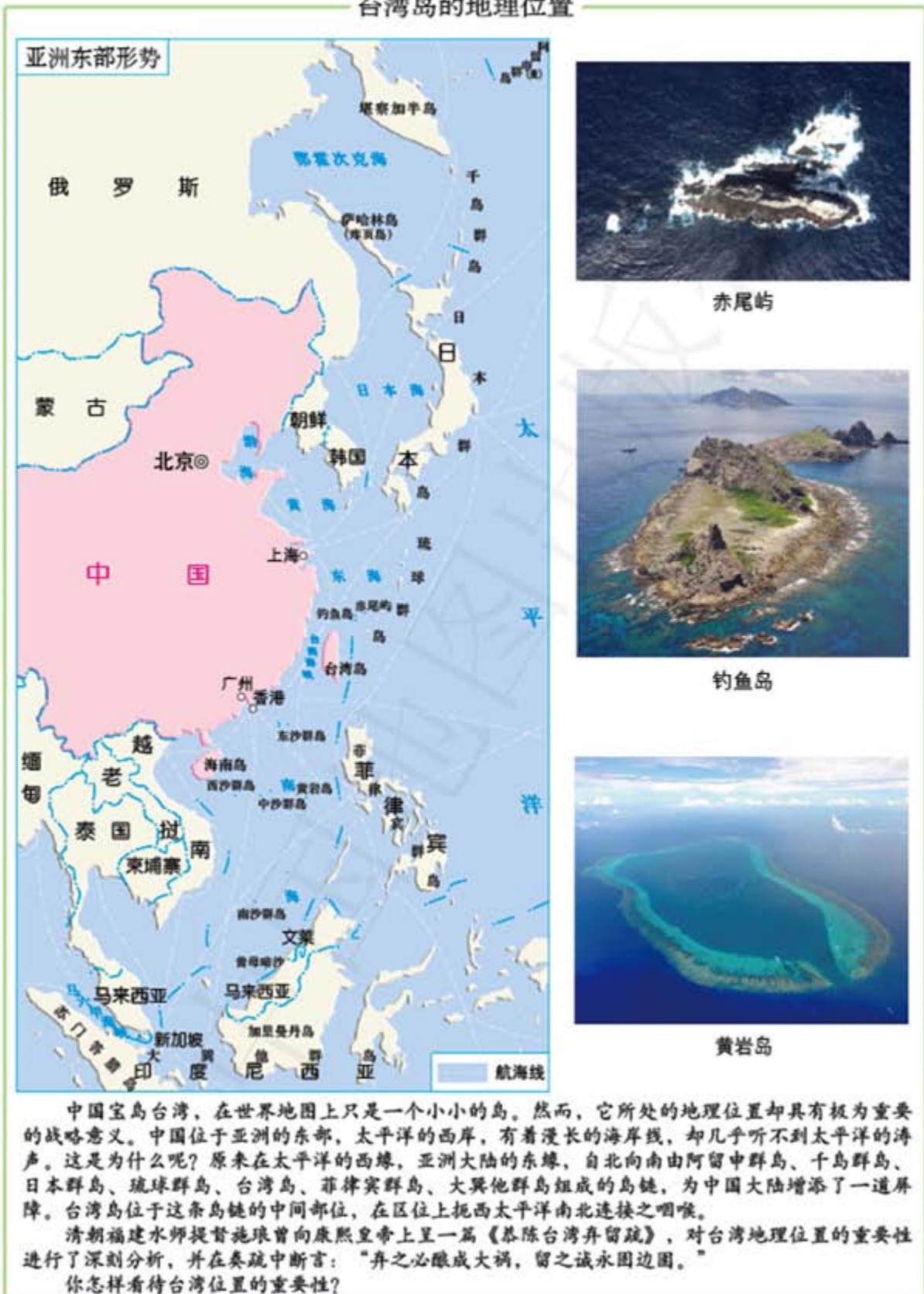
《告台湾同胞书》发表

1979年元旦开始，大陆停止对金门和马祖的炮击。倡议海峡两岸直接三通（三通指：通邮、通商与通航）；欢迎同胞来大陆探亲、旅游、考察、经商等。



2015年11月7日，中共中央总书记、国家主席习近平同台湾方面领导人马英九在新加坡会面，翻开了两岸关系历史性的一页

## 台湾岛的地理位置



# 独立自主的新中国外交



1949年10月16日，苏联大使向毛泽东主席递交国书




1954年8月，周恩来在全国政协常委扩大会上做关于外交政策的报告





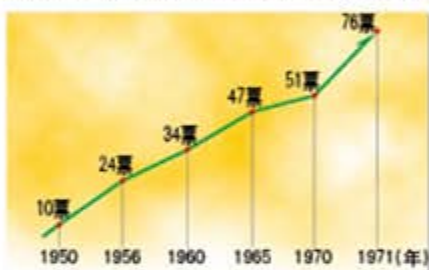
1959年，毛泽东与亚非拉朋友在一起



1971年4月26日的美国《时代周刊》封面

图中照片为美国乒乓球运动员在长城的留影。通过“乒乓外交”，中美两国之间打开了长期互相封闭的大门。

历届联大讨论恢复中华人民共和国在联合国合法席位时支持中国的票数增长示意图



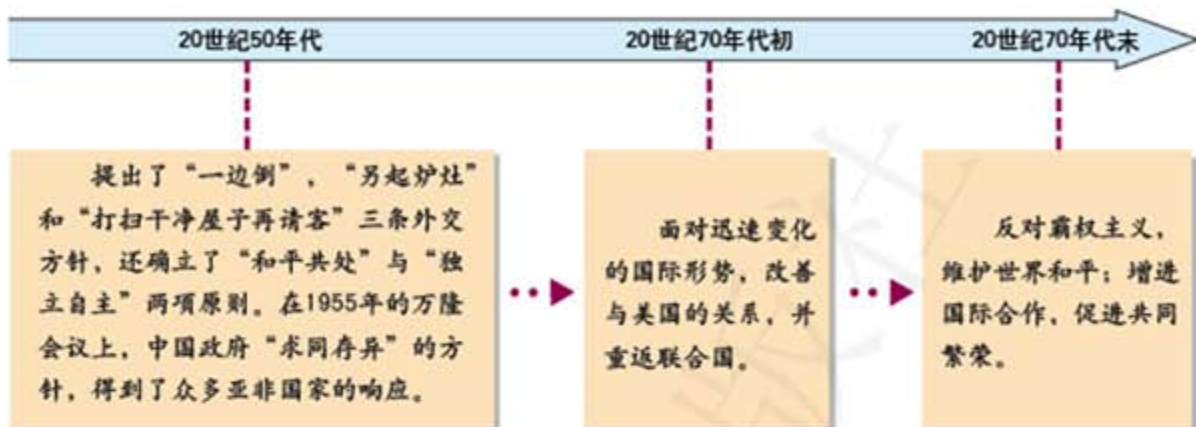
五星红旗在纽约联合国总部升起  
1971年10月，第26届联合国大会通过决议，恢复中华人民共和国在联合国的合法席位。

新中国的外交形势  
(迄20世纪70年代末)



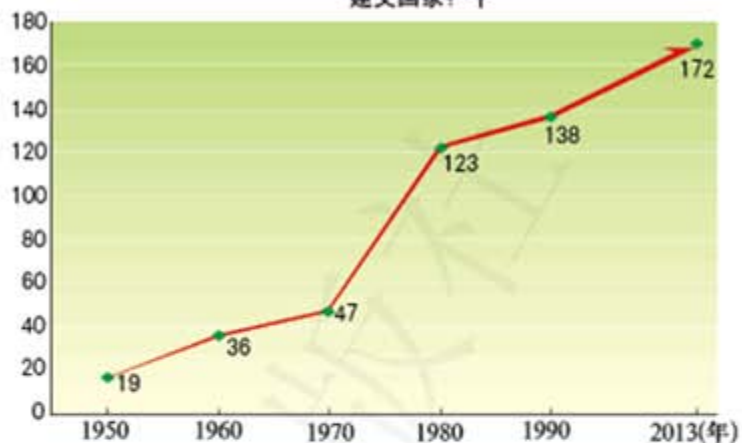
# 独立自主的新中国外交

## 新中国成立至改革开放前中国外交的发展



我国与各国建立外交关系情况简表（累计）

建交国家：个



1988年12月，邓小平会见印度总理拉·甘地时首次提出建立国际政治经济新秩序的主张



## 感受新中国的精神力量



新中国成立后，一大批侨居海外的科学家、学者纷纷回国参加新中国的建设。图为1950年10月从美国归来的留学生在轮船上合影



邓稼先



李四光

### 追梦国土与成长的骄傲



1967年，第一颗氢弹爆炸成功



1970年，我国第一颗人造地球卫星“东方红一号”发射成功



新中国建立后，大批身在海外的科学家感受到祖国的召唤，纷纷放弃国外优越环境回到祖国追求强国梦。以邓稼先、钱学森为代表的一大批科学家在大西北的戈壁荒滩，隐姓埋名，自力更生。20世纪60年代相继制造出原子弹、导弹，打破了西方大国的核垄断。70年代初，发射了人造卫星。“雷锋精神”和“大庆精神”也一直鼓舞着中国人民为复兴国家而努力奋斗。



雷锋和少先队员们在一起



大庆石油工人王进喜





深圳的崛起和辉煌证明  
我们建立经济特区的政策  
是正确的 邓小平书

邓小平为深圳特区题词

深圳特区创办后，充分利用国家对特区的政策优惠，大力引进发达国家的资金、先进技术和管理经验。经过短短几年的建设，深圳很快从一个贫穷落后的沿海小镇变成了一座繁华的现代化大都市，成为中国对外开放的一个重要窗口。敢为人先的“深圳速度”是走在复兴路上的中国人民创造的伟大精神力量。

1980—2006年深圳市生产总值  
(单位: 亿元)



1978年的深圳



1985年的深圳



1995年的深圳



2008年的深圳



# 坚持和发展中国特色社会主义

## 邓小平理论的形成及“科学发展观”的创立



邓小平在武昌火车站与湖北省、武汉市负责人亲切交谈



邓小平与广东省委负责人交谈



邓小平视察上海浦东工地

1992年春，邓小平南方视察，沿途经过武昌、深圳、珠海、顺德，最后到达上海。在途中，他多次发表重要讲话。邓小平视察南方讲话，进一步解放了人们的思想，对建设有中国特色的社会主义产生了深远影响。



中共十八大会场

2012年，在中共十八大上，科学发展观被确立为中国共产党的指导思想。



中共十九大会场

2017年，在中共十九大上，习近平新时代中国特色社会主义思想被确立为中国共产党必须长期坚持并不断发展的指导思想。

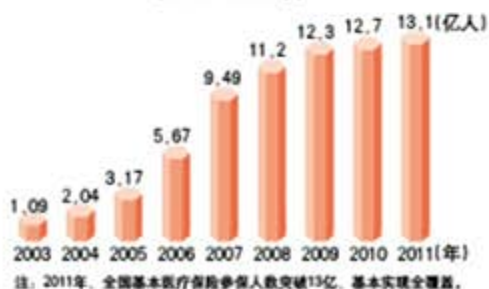
中国各省级行政区的人均生产总值



国家财政性教育经费增长情况 (2007—2016年)



全国基本医疗保险参保人数 (2003—2011年)

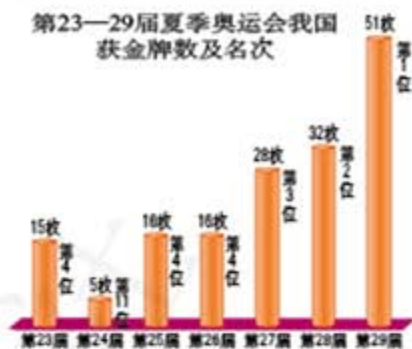


# 坚持和发展中国特色社会主义

中国与世界主要国家和地区经济年均增长率比较  
(1979—1997年)

英国	法国	德国	意大利	印度	中国	日本	美国	非洲	拉丁美洲
2.1%	2.0%	2.2%	2.1%	5.2%	9.8%	3.1%	2.5%	2.4%	2.9%

第23—29届夏季奥运会我国  
获金牌数及名次



2014年11月11日，亚太经合组织第二十二次领导人非正式会议第一阶段会议在北京举行

## 中国发展的历史性跨越



2018年，第五届世界互联网大会在中国乌镇举行



国家体育场（鸟巢）



第一届“一带一路”国际合作高峰论坛于2017年5月14日至15日在北京举行

2013年9月7日，习近平在哈萨克斯坦提出了共同建设“丝绸之路经济带”的倡议。一个月后，习近平出访东盟，提出共同建设“21世纪海上丝绸之路”。由此，“一带一路”走入世界视野。五年来，中国与“一带一路”相关国家之间政策沟通不断深化，政治互信不断加强，取得了丰硕成果。到2018年9月，已经有100多个国家和国际组织同中国签署了“一带一路”合作文件。



小学学龄儿童入学率



2017年，庆祝中国人民解放军建军90周年朱日和（朱日和基地位于内蒙古）大阅兵



2006年7月，庆祝青藏铁路全线通车的人群

# 坚持和发展中国特色社会主义



2018年，中非合作论坛北京峰会在北京召开

2000年10月，中非合作论坛首届部长级会议在北京举行。中非双方决定在21世纪建立和发展长期稳定、平等互利的新型伙伴关系，建立中非合作论坛机制。中非合作论坛由此正式成立。



## 上海合作组织

成员	准则
中国	“互信、互利、平等、协商、尊重文明多样性、谋求共同发展”
俄罗斯	
哈萨克斯坦	宗旨
吉尔吉斯斯坦	
塔吉克斯坦	
乌兹别克斯坦	
成员国总面积	2001年6月15日成立于上海
近3018.9万平方千米 约占欧亚大陆面积的五分之三	
成员国总人口	<ul style="list-style-type: none"> <li>加强各成员国之间的相互信任与睦邻友好</li> <li>鼓励成员在政治、经贸、科技、文化、教育、能源、交通、旅游、环保及其他领域的有效合作</li> <li>维护和保障地区的和平、安全与稳定</li> <li>推动建立民主、公正、合理的国际政治经济新秩序</li> </ul>
约15亿	
约占世界人口的四分之一	

## 城乡居民社会生活的变化



衣

风姿绰约的时装模特。人们衣着消费由单调、低档向多样、中高档方面转变。



住

1990年的上海马桥乡旗忠村民居。



食

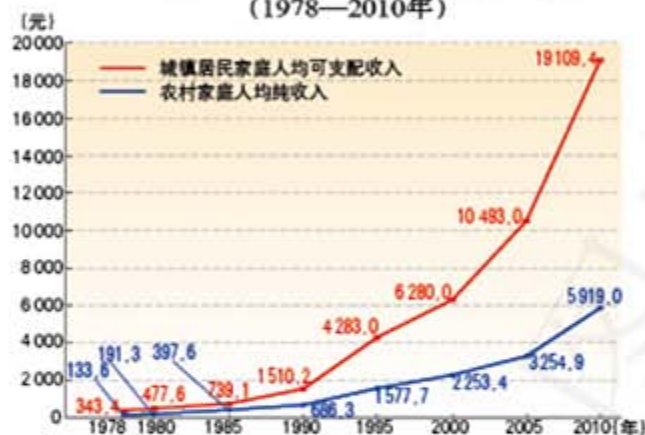
北京的菜市场货物充足，各种食品应有尽有。



行

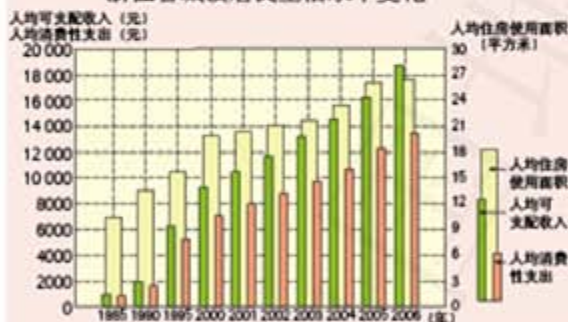
江苏华西村农民订购的轿车。

### 中国城乡居民家庭人均收入变化 (1978—2010年)

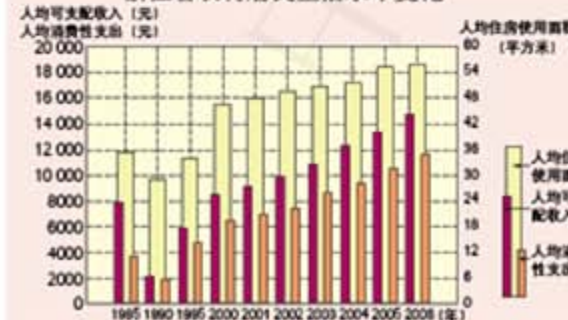


改革开放使人民生活发生了翻天覆地的变化，生活质量由量的满足转向质的提高。随着社会主义市场经济的不断发展，就业制度和社会保障制度逐步完善，人们的生活幸福度越来越高。

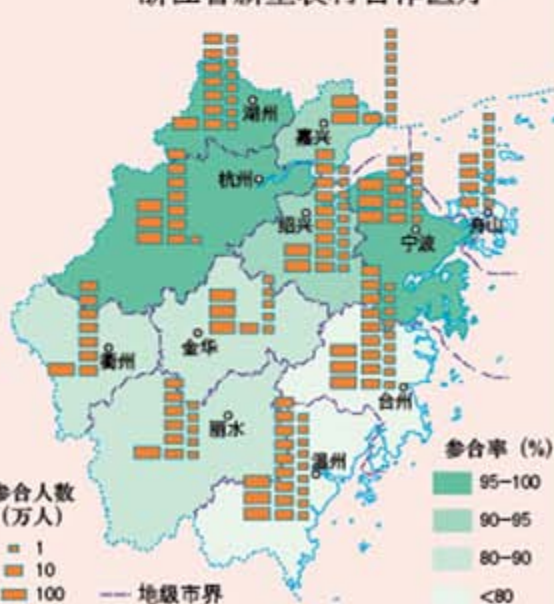
### 浙江省城镇居民生活水平变化

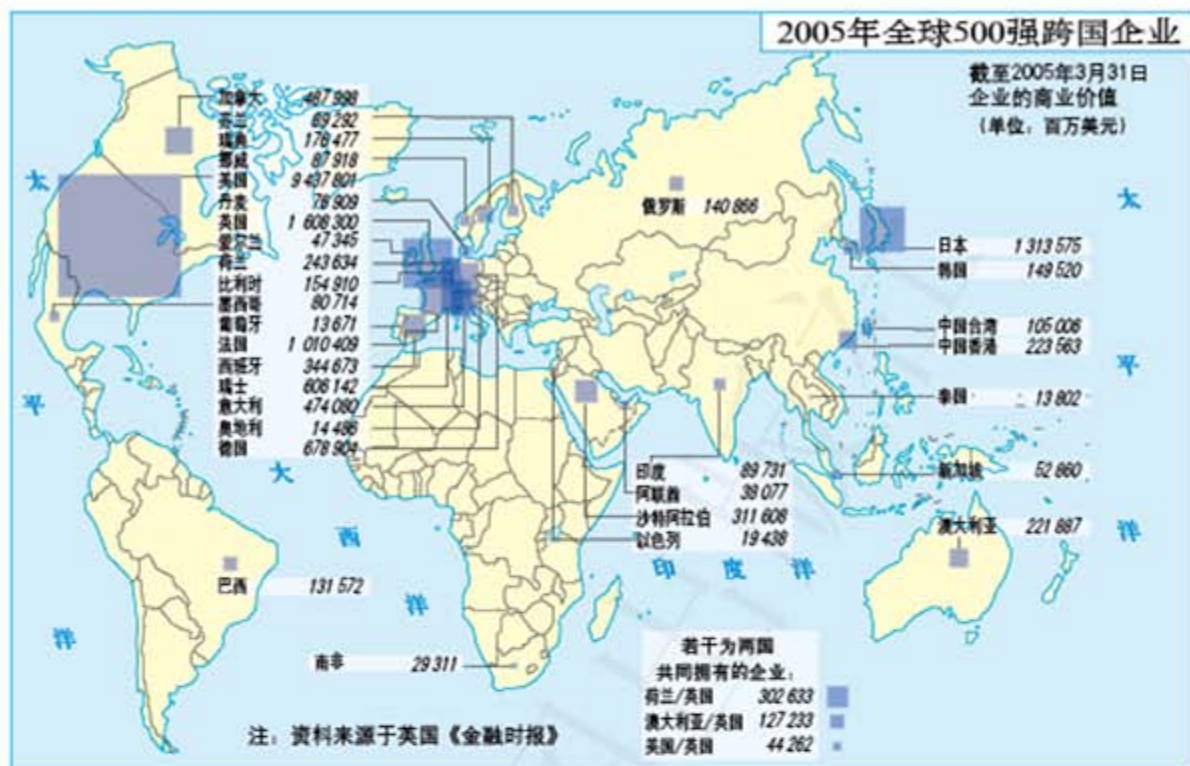


### 浙江省农村居民生活水平变化



### 浙江省新型农村合作医疗





## 发达国家和发展中国家的差异

### 发达国家

- 人口约占世界的1/5
- 国内生产总值约占世界的3/4
- 生活、教育水平较高
- 生产力高度发达
- 人口增长较慢

### 发展中国家

- 人口约占世界的4/5
- 国内生产总值约占世界的1/4
- 生活、教育水平较低
- 生产力相对落后
- 人口增长较快

发达国家和发展中国家经济发展水平存在差异。在国际上,习惯把发展中国家与发达国家之间的政治、经济商谈称为“南北对话”;把发展中国家之间的互助合作称为“南南合作”。

### 世界部分国家GDP比较

(单位: 亿美元)







位于瑞士日内瓦的世界贸易组织总部

### 中国人世五年

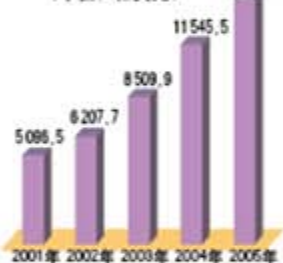
对外贸易在全球的排名

- 2001年 **第8名**
- 2004年 **第3名** (仅次于美国和德国)

部分产品占出口的总量

- 制成品占出口总量 **94%**
- 机电产品占出口总量 **56%**
- 高新技术产品占出口总量 **28%** (人数为7%)

外贸进出口总额  
(单位: 亿美元)



### 世界经济“全球化” (2014年6月)



## 世界多极化趋势



莫斯科红场的阅兵式

俄罗斯是多极化国际格局中的重要力量。图为2015年5月9日，为庆祝苏联卫国战争胜利70周年，俄罗斯首都莫斯科举行盛大阅兵式。



派遣至伊拉克的日本自卫队

日本已成为当今世界经济强国，并试图向政治大国和军事大国迈进。



美国士兵在伊拉克

图为2006年7月20日，在伊拉克执行任务的美国士兵。



非盟的前身是成立于1963年5月的非洲统一组织。2000年，第36届非洲统一组织首脑会议通过《非洲联盟章程草案》。2002年7月，非盟举行第一届首脑会议，并宣布非盟正式成立，非盟正式取代非洲统一组织。非洲联盟致力于建设一个团结合作的非洲，力争各成员国在重大国防事务中能够用一个声音说话。

非盟正式取代非洲统一组织。非洲联盟致力于建设一个团结合作的非洲，力争各成员国在重大国防事务中能够用一个声音说话。



2019年，第35届东盟峰会及东亚合作领导人系列会议在泰国举行



《欧洲联盟条约》（即《马斯特里赫特条约》）签署现场



欧洲央行总部前的欧元标志雕塑



欧元



位于比利时布鲁塞尔的欧盟总部大楼



欧盟旗帜

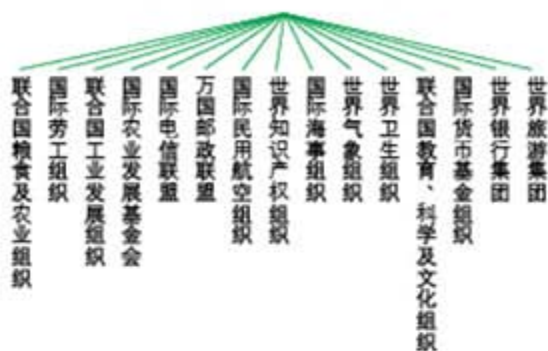


2006年3月，在布鲁塞尔举行的欧盟成员国交通部长会议上发布的欧盟国家统一的驾驶执照样本



# 世界多极化趋势

联合国专门机构示意图



联合国教科文（教育、科技及文化）组织巴黎总部

联合国的成立与发展



第七单元

聚焦当代中国与世界的发展



联合国教科文组织标志



世界气象组织标志



1946年1月17日，联合国安全理事会在伦敦举行第一次会议



世界卫生组织标志



国际海事组织标志



联合国维和部队



中国向联合国基本建设总计划署捐款

中国积极参与联合国的活动



第68届联合国大会改选联合国人权理事会成员, 中国以176票当选, 任期自2014年至2016年。图为大会场景



执行联合国维和行动的中国官兵列队整装待发



在巴黎召开的联合国教科文组织第37届大会上, 中国代表当选为新一届大会主席

# 当代科技革命与社会生活



1957年，苏联成功发射了世界上第一颗人造地球卫星，开创了人类向太空进军的新时代



1961年，苏联成功发射了世界上第一艘载人宇宙飞船。加加林成为第一位乘宇宙飞船遨游太空的宇航员



## 世界当代科技发展





1999年，我国成功发射第一艘无人飞船“神舟一号”

2003年10月，中国第一艘载人宇宙飞船“神舟五号”发射成功



2008年9月，执行“神舟七号”载人航天任务的航天员出仓后挥动中国国旗

- 1954年，苏联建成世界上第一座原子能发电站
- 1957年，苏联成功发射世界上第一颗人造地球卫星
- 1961年，苏联成功发射世界上第一艘载人宇宙飞船
- 1971年，苏联发射世界上第一个宇宙科研空间站



- 1942年，美国建成世界上第一座原子核反应堆
- 1945年，美国制成世界上第一台电子计算机；爆炸了第一颗原子弹
- 1969年，美国两名宇航员登上月球
- 1981年，美国“哥伦比亚”号航天飞机试飞成功
- 1998年，美国研制出磁性纳米棒“量子磁盘”

较发达的国家和地区 1989年，艾弗里“多利”问世 现代科技成就  
 较发达的国家和地区 苏联  
 较发达的国家和地区  
 图绘制工作的主要国家 注：底图资料截至2013年12月



1946年，世界上第一台电子计算机在美国研制成功



“神威·太湖之光”获得全球超级计算机500强冠军的证书

# 认识“和平与发展”的时代主题



1955年7月9日，伯特兰·罗素在英国伦敦宣读由他亲自起草、包括爱因斯坦在内的12位著名科学家联名签署的《罗素—爱因斯坦宣言》



## “和平与发展”面临的挑战

(2007年)



鉴于两次世界大战的深刻教训和人类生存与发展的需要，和平与发展已成为当今世界的两大战略主题。半个多世纪以来，各国人民为促进世界和平与发展做出了各种努力，取得了一定的成效。但是，我们还应该看到，和平与发展依然面临挑战，军备竞赛、军事入侵、种族冲突等传统安全问题，以及恐怖主义、武器扩散等非传统安全问题依然存在。





世界人民的反战和求发展运动

2015年9月，中国国家主席习近平在纽约联合国总部出席第七十届联合国大会一般性辩论时发表重要讲话指出：“当今世界，各国相互依存、休戚与共。我们要继承和弘扬联合国宪章的宗旨和原则，构建以合作共赢为核心的新型国际关系，打造人类命运共同体。”



中国对世界和平与发展事业的贡献

# 不断变化的人口问题



农业革命前

人类主要从事狩猎和采集，生产力水平低。人口数量少，增长速度慢，死亡率高。



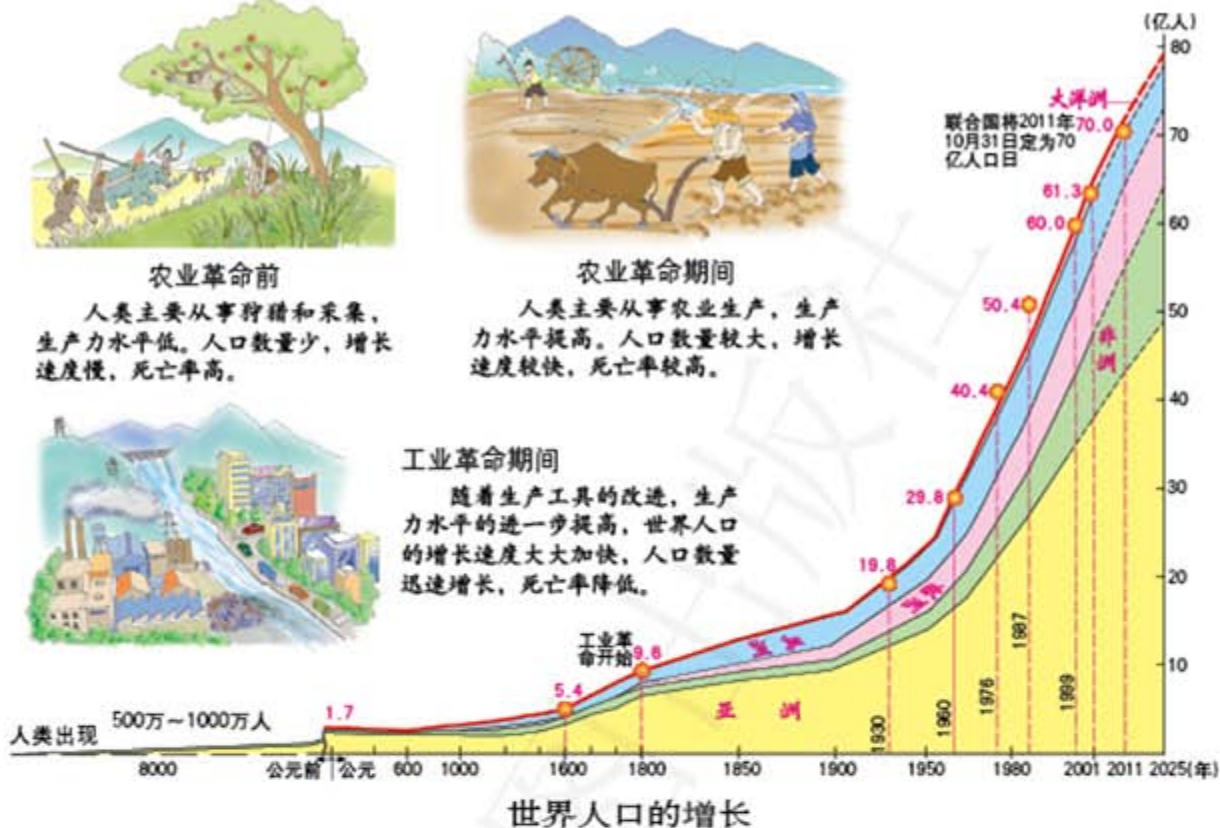
农业革命期间

人类主要从事农业生产，生产力水平提高。人口数量较大，增长速度较快，死亡率较高。



工业革命期间

随着生产工具的改进，生产力水平的进一步提高，世界人口的增长速度大大加快，人口数量迅速增长，死亡率降低。



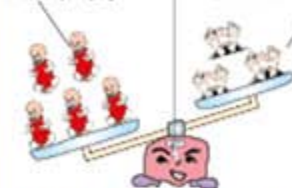
从图上可以看出：人口自然增长率较高的国家主要分布在非洲，人口自然增长率较低的国家集中分布在欧洲。

## 人口的出生率、死亡率和自然增长率

人口出生率、死亡率、自然增长率示意图

**出生率** 是一年内出生的婴儿数占总人数的比重。

**死亡率** 是一年内死亡的人数占总人数的比重。

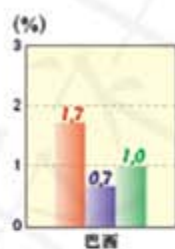
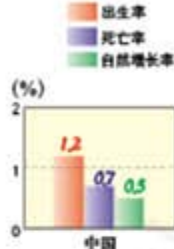
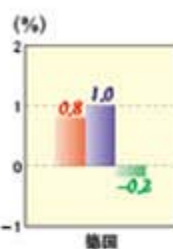


**自然增长率 = 出生率 - 死亡率**

自然增长率大于0，表示人口增加；自然增长率小于0，表示人口减少。

不同国家人口的出生率、死亡率和自然增长率对比(2010年)

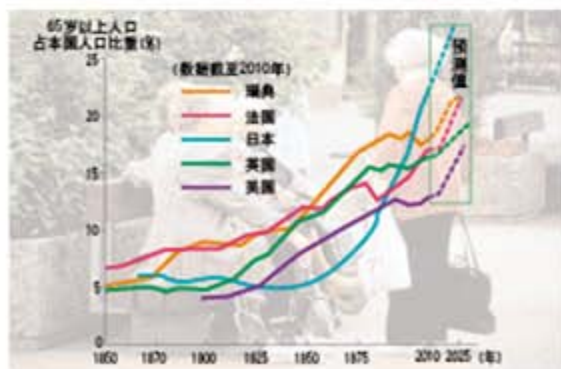
图中绘出了4个国家的人口“三率”。其中尼日利亚的人口自然增长率最高，巴西次之，中国较低，德国为负增长。



农村人口向城市迁移



部分发达国家老龄人口比重的变化



# 不断变化的人口问题

## 人口增长过快带来的问题



人类生存与发展的需求



住房拥挤

墨西哥中部地区拥挤的城市，这里几乎没有更多的土地用来建造住房。



交通拥堵

墨西哥城拥堵不堪的街道，人们出行困难越来越大。



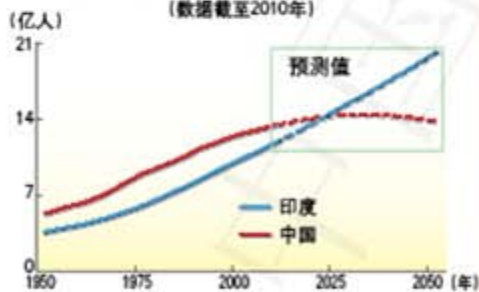
就业困难

国外某城市的失业者打着“我要工作”的标语牌游行。

## 中国计划生育政策

### 中国、印度人口增长比较

(数据截至2010年)



中国和印度是世界上的两个人口大国。在20世纪70年代末，中国开始实行计划生育政策，人口数量得到了一定的控制。未来十几年后，印度将替代中国成为世界第一人口大国。

计划生育是我国的一项基本国策。控制人口数量，提高人口素质是我国人口政策的基本内容。20世纪70年代，我国开始实行计划生育政策，人口数量得到了有效控制。人口自然增长率从1970年的25.8%下降到2010年的不到5%，全国少生了约4亿人。

为了完善人口发展战略，2015年12月27日，第十二届全国人民代表大会常务委员会第十八次会议表决通过关于修改人口与计划生育法的决定。修改后的计生法提倡一对夫妻生育两个子女。



计划生育宣传画

中国20世纪50—80年代中期的人口迁移

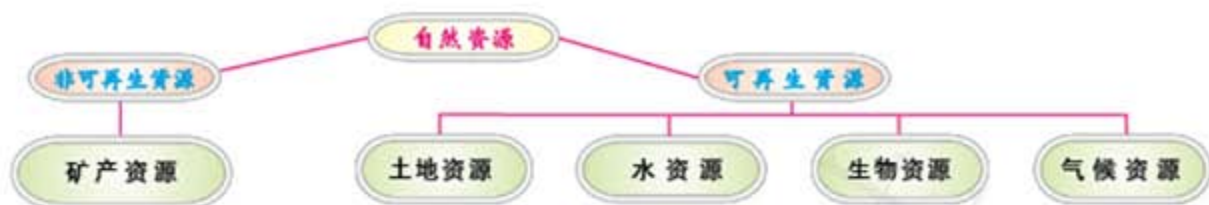


中国20世纪80年代中期以来的人口流动示意图

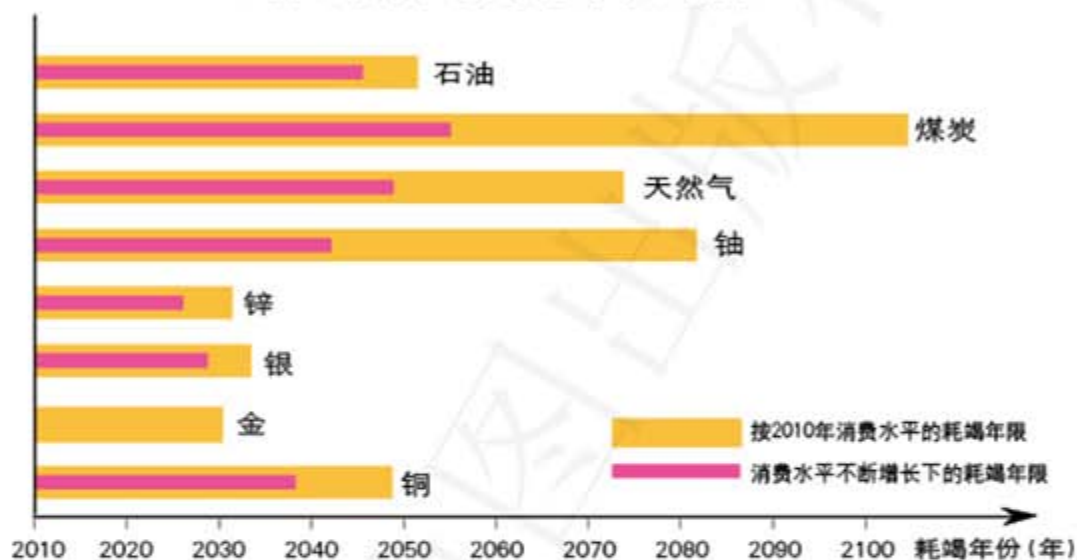


# 日益严峻的资源问题

## 自然资源的分类



### 世界部分矿产资源耗竭年限预测



### 世界耕地资源分布



世界森林资源分布



世界主要可再生能源电站分布



世界各国都在积极采取措施,利用“开源”的措施解决自然资源短缺的问题。建立各种可再生能源电站就是其中的措施之一。从图中可以看出,除南极洲外,世界各大洲都有诸如太阳能、地热、潮汐、风力、水电等各种可再生能源电站的分布。当然,从中还可以看出科学技术在“开源”中的作用,如美国、西欧、日本等科技发展水平较高的国家,电站的分布数量大,利用类型多。

# 日益严峻的资源问题

## 中国土地资源



土地资源是有限的，如果利用不合理或遭到人为破坏，就会引起土地资源退化，如果利用合理，就会促进人与自然的和谐共处。

### 元阳的地理环境

陆高  
(米)

2000  
1500  
1000  
500  
200



**元阳梯田** 元阳位于哀牢山区，地形以山地为主，当地居民充分利用当地的自然条件，修筑梯田，成功地种植了水稻。



## 中国各大流域水资源和跨流域调水



污水处理流程图



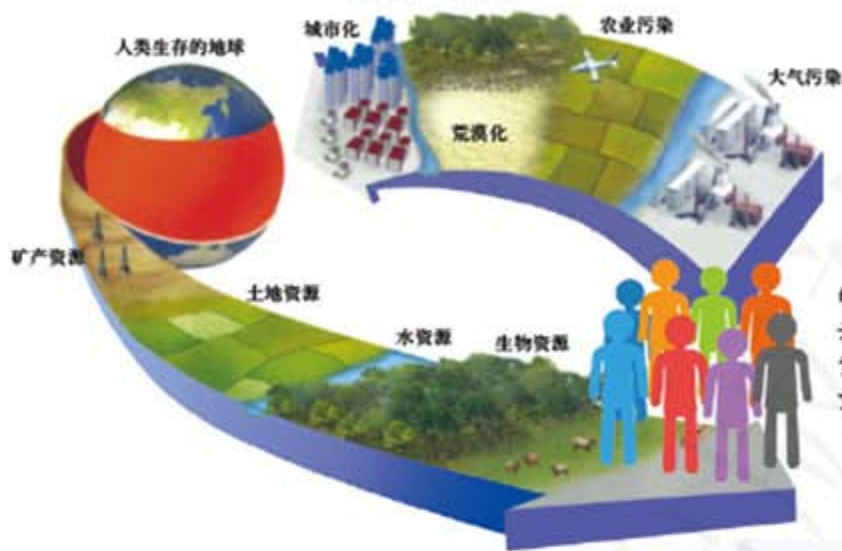
节水型社会建设  
试点城市和地区

注：香港特别行政区、澳门特别行政区和台湾省资料暂缺



# 共同关注的环境问题

## 人类与地球



人口的快速膨胀和科技水平的提高，使人类加大了对自然的开发力度，给地球上有限的自然资源和良好的生态环境带来了沉重的负担。



土法开采石棉矿

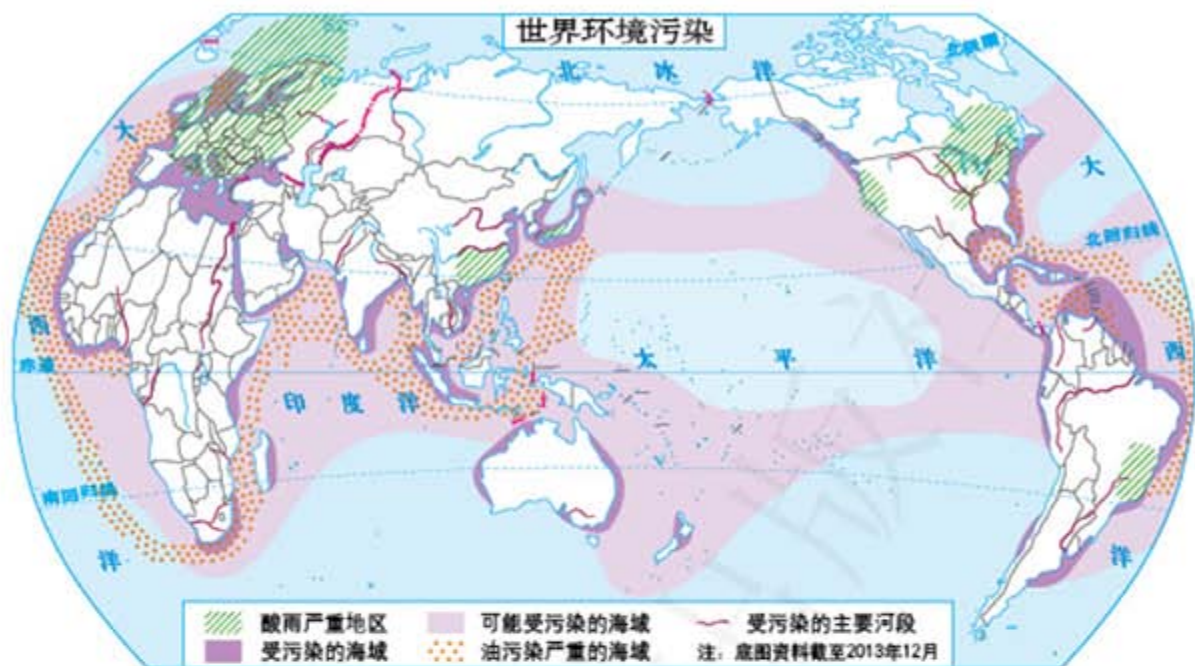


酸雨使植被枯死

### 20世纪部分环境污染事件



世界环境污染



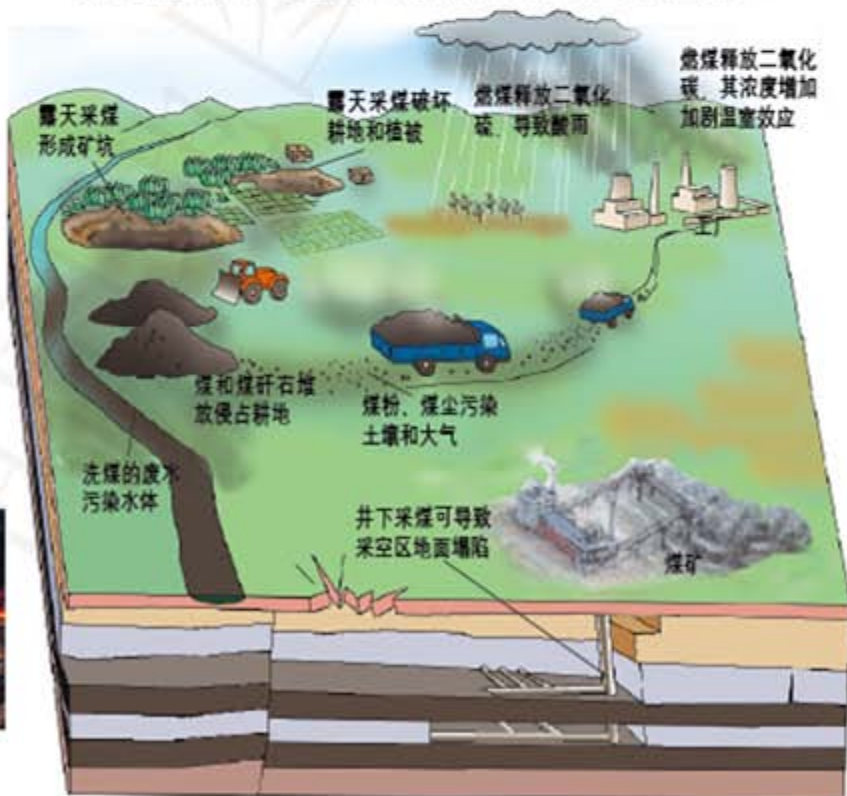
### 煤炭在开采、运输和利用过程中对环境的影响



煤炭燃烧造成的大气污染



海上油船原油泄漏燃烧



# 共同关注的环境问题



- 现有的沙漠
- 荒漠化进程快的地区
- 厄尔尼诺现象的发生区域
- 因海平面上升而受到威胁的海岸
- 水土流失严重地区
- 森林破坏严重地区
- 1990年9月南极臭氧空洞的大致范围
- 注：底图资料截至2013年12月

## 中国土地沙漠化与水土流失



- 生态破坏
- 现有沙漠
  - 土地荒漠化分布
  - 水土流失严重地区
  - 森林破坏严重地区



退化沙漠的内蒙古草场



华北地区的土地盐渍化

### 中国水系污染状况



巢湖岸边水域

这是2006年拍摄的照片。该水域积聚的大量蓝藻使湖水成草绿色、黏稠状。

1990年和2000年部分省级行政区  
水土流失造成的直接经济损失(单位:亿元)

省市区	1990年	2000年	省市区	1990年	2000年	省市区	1990年	2000年
北京	0.57	0.74	安徽	5.95	7.31	贵州	29.42	40.33
天津	0.07	0.12	福建	8.26	12.65	云南	32.82	63.48
河北	8.45	12.58	江西	15.94	35.10	西藏	3.71	8.30
山西	28.27	37.03	山东	7.00	13.93	重庆	-	35.23
内蒙古	26.86	31.55	河南	9.01	5.18	陕西	48.64	49.66
辽宁	23.91	19.64	湖北	22.82	22.17	甘肃	42.95	65.08
吉林	5.19	4.94	湖南	18.08	13.61	青海	17.52	24.72
黑龙江	21.77	20.82	广东	7.12	3.82	宁夏	2.34	2.24
上海	0	0	广西	6.46	3.07	新疆	2.61	7.45
江苏	2.92	1.70	海南	0.22	0.10	台湾	2.48	3.07
浙江	5.44	8.79	四川	73.88	88.17			

# 发展的选择

## 可持续发展示意图



同代之间公平



代际之间公平



人与其他物种之间公平



不同国家与地区之间公平

### 消除贫困



### 社会发展



### 经济活动



地球的承载力有限，人类经济活动和社会发展必须保持在资源和环境的承载力之内。

### 环境保护

工业化国家应当恪守“京都议定书”关于限制温室气体排放的规定，防止全球继续变暖。

### 能源开发

大力推广清洁能源及电能的使用，提高可再生能源在能源消费结构中的比例。



### 发展援助

发达国家向发展中国家增大经济援助的力度。

### 清洁水源

节约用水，到2015年实现有一半以上城市清洁饮用水源的人口提供干净的饮用水。



### 绿色贸易

增进世界贸易过程中的环保意识和社会责任感。



### 中国的区域协调发展



# 发展的选择



浙江省11个地级市简表

地级市	户籍人口(万人)	面积(千米 <sup>2</sup> )
杭州市	703	16 596
湖州市	262	5 794
嘉兴市	346	3 915
舟山市	97	1 440
宁波市	577	9 365
绍兴市	440	8 256
衢州市	252	8 837
金华市	471	10 919
台州市	592	9 413
温州市	800	11 784
丽水市	262	17 298







浙江省以“一城四圈三带两翼”为空间发展框架。以杭州湾地区为龙头，加快接轨上海，融入长江三角区域一体化；以杭、甬、温都市圈和浙中城市群“四圈”为发展的核心区域，加快区域中心城市和城市群建设，进一步发挥中心城市的带动作用，推动城乡一体化发展，形成特大城市、大城市、中等城市等协调发展的格局。根据区位条件和资源环境承载能力，建设分工合理、优势互补、特色鲜明的环杭州湾、温台沿海、金衢丽高速公路沿线三大产业带，推动产业集群化发展；重视保护和合理开发浙西南、浙西北丘陵山区与浙东沿海近海海域，形成以主要森林资源、重要江河源头保护区为重点的“绿色屏障”和以海洋自然保护区、海洋特别保护区为重点的“蓝色屏障”两大生态系统。



浙江杭州城市景观



浙江宁波城市景观


## 让历史告诉未来



马克思

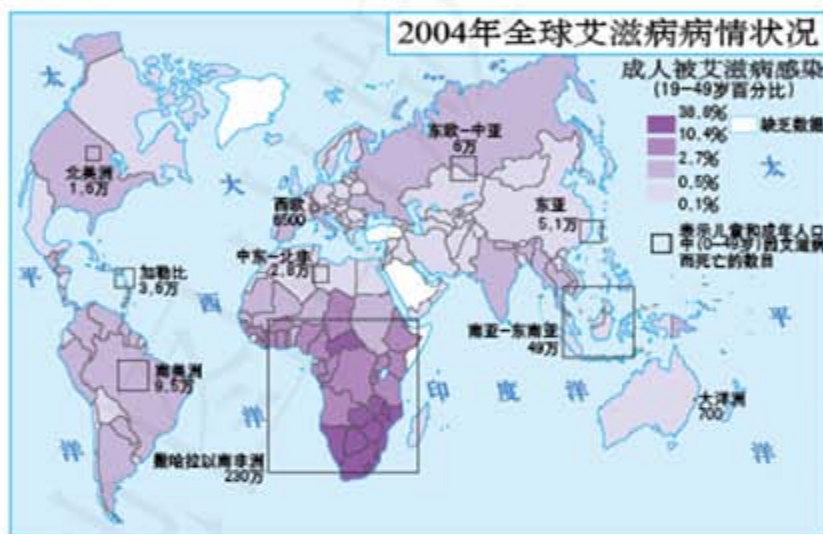


牛顿



爱因斯坦

通常来看，伟大人物是人类社会进步的推动者。但在毛泽东看来，推动社会进步的并不是秦皇、汉武、唐宗、宋祖、成吉思汗这些伟大的帝王，而是广大的人民群众。毛泽东曾说，数风流人物还看今朝。作为普通人的一分子，同学们都有可能成为历史的推动者，让我们为这一目标而努力吧。



一名感染了艾滋病的非洲儿童

今天，人类社会步入信息时代，人们正在享受着前人创造的社会财富和科技成果。与此同时，人们依然面临着世界性的问题与挑战。环境污染、人口急剧增长、艾滋病蔓延等是今后人类发展中所面临的严重威胁。而小规模地区性冲突和局部战争也威胁着世界的和平与发展。各种分裂势力、恐怖势力和极端势力给国际社会不断带来危害。但是，人们一定会及时吸取教训、总结经验，指导今天的步伐和明天的规划。人类前进的脚步必将渐行渐远。



科索沃战争中，科索沃首府普里什蒂纳市中心被导弹击中引起大火



饥饿的索马里儿童



浙江省教育厅教研室教学用书编委会

主 任 任学宝  
副 主 任 柯孔标 丁亚平 张 丰 滕春友  
成 员 (以姓氏笔画为序)  
方张松 任雪明 孙 宏 李冬梅  
张兰进 钱万军 梁 旭 喻伯军

本书主编 牛学文  
编写人员 徐琼霞 陈 健 杨春喜 赵修立  
统 稿 牛学文 戴晓萍  
审 稿 曾夏凤  
责任编辑 吴艳辉  
制 图 李 晖 赵 爽 毛玉洁 赵 斐 安 蕾  
审 校 张兴林 全 武  
复 审 何首卫  
审 订 刘亚先  
封面设计 徐海燕

# 历史与社会图册

LISHI YU SHEHUI TUCE

2014年经浙江省中小学教材审定委员会审查通过

浙江省义务教育教科书

书 名 历史与社会图册 九年级 下册

编 著 浙江省教育厅教研室

出 版 中国地图出版社

社 址 北京市白纸坊西街3号

邮 政 编 码 100054

电 话 010-83543863

地图教学网 [www.ditu.cn](http://www.ditu.cn)

电 子 邮 箱 [sinomaps@yeah.net](mailto:sinomaps@yeah.net)

代 印 浙江省出版总社

印 刷 浙江双溪印业有限公司

发 行 浙江省新华书店

成 品 规 格 184mm × 260mm

印 张 5.25

版 次 2014年12月第1版

印 次 2019年12月浙江第6次印刷

印 数

书 号 ISBN 978-7-5031-8589-2

审 图 号 GS(2014)5223号

定价批准文号

本图册中国今国界线系按照中国地图出版社1989年出版的  
1:400万《中华人民共和国地形图》绘制



绿色印刷产品

ISBN 978-7-5031-8589-2



9 787503 185892 >

定价： 元