

义务教育教科书

地理助学读本

YIWU JIAOYU JIAOKESHU DILI ZHUXUE DUBEN

七年级下册

汤国荣 主编 (最新修订版)



义务教育教科书

地理助学读本

七年级下册

湖南教育出版社



ISBN 978-7-5355-3567-2




9 787535 535672 >

定价：11.10元



扫码获取更多资源

 湖南教育出版社

义务教育教科书

地理助学读本

YIWU JIAOYU JIAOKESHU DILI ZHUXUE DUBEN

七年级下册

(最新修订版)

策 划：刘新民

主 编：汤国荣

编写人员：汤国荣 马杰云 沈小新 耿夫相 沈雪梅

CIS 湖南教育出版社

图书在版编目 (CIP) 数据

义务教育教科书地理助学读本. 七年级. 下册/汤国荣主编. —2 版. —长沙: 湖南教育出版社, 2002.12 (2018.1 重印)
ISBN 978-7-5355-3567-2

I. ①义… II. ①汤… III. ①中学地理课—初中—教学参考资料 IV. ①G634.553

中国版本图书馆 CIP 数据核字 (2012) 第 308180 号

义务教育教科书·地理

助学读本

七年级下册

(最新修订版)

责任编辑: 武巧燕

地图编制: 星球地图出版社

湖南教育出版社出版发行 (长沙市韶山北路 443 号)

网址: <http://www.hneph.com>

电子邮箱: hnjycbs@sina.com

微信服务号: 多点学习

客服: 电话 0731-85486979

黑龙江省新华书店经销 哈尔滨市石桥印务有限公司印刷

787×1092 16 开 印张: 9 字数: 225 000

2002 年 7 月第 1 版 2016 年 6 月第 5 版第 6 次印刷

ISBN 978-7-5355-3567-2

定价: 11.10 元

审图号: 军测审图字 [2017] 84 号

批准文号: 黑价联 [2016] 18 号

本书若有印刷、装订错误, 可向承印厂调换。

• 目 录 •

第六章 认识大洲 / 1

第一节 亚洲及欧洲 / 1

第二节 非洲 / 10

第三节 美洲 / 18

第七章 了解地区 / 27

第一节 东南亚 / 27

第二节 南亚 / 36

第三节 西亚 / 43

第四节 欧洲西部 / 50

第五节 北极地区和南极地区 / 56

第八章 走近国家 / 64

第一节 日本 / 64

第二节 埃及 / 73

第三节 俄罗斯 / 81

第四节 法国 / 90

第五节 美国 / 97

第六节 巴西 / 106

第七节 澳大利亚 / 115

第六章测试卷 / 123

第七章测试卷 / 127

第八章测试卷 / 131

参考答案 / 135

第六章

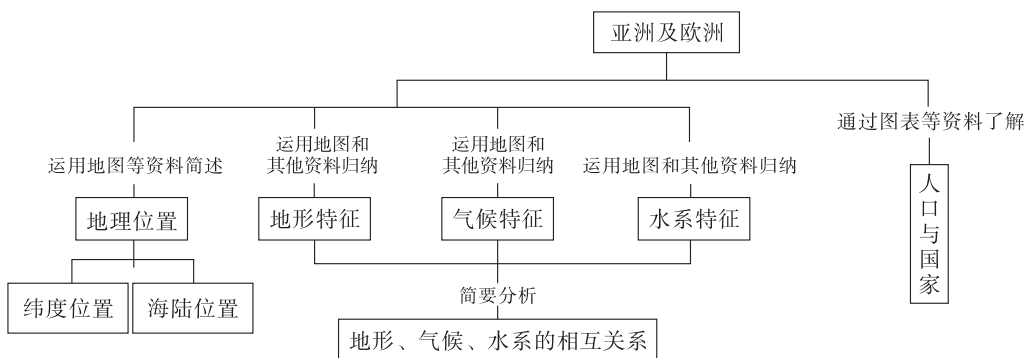
认识大洲

第一节 亚洲及欧洲



学习导航

学习要求



[情感态度和价值观]

激发对地理问题的兴趣，积极探究地理事物之间的内在联系，形成主动学习的态度；通过亚欧人口问题的学习，形成正确的人口观念。

[学习方法]

1. 充分利用地图和地理数据、景观图片等其他资料，加强读图、析图能力，提高简述大洲地理位置，归纳大洲地形、气候、水系特征以及简要分析这些地理要素相互关系等方面的能力。

2. 通过对亚洲的学习，领悟学习大洲的方法与技能；在分析欧洲的活动过程中，掌握相关方法，提高相关能力。

基础梳理

一、地理位置

1. 亚洲主要位于_____半球和_____半球。从纬度位置看，亚洲北部深入_____内，南部延伸到_____以南。从海陆位置看，亚洲东、北、南三面分别濒临_____洋、_____洋和_____洋，西与_____洲相连，西南以_____运河为界与_____洲为邻，东北隔_____海峡与_____洲相望。

2. 欧洲主要位于_____半球和_____半球。从纬度位置看，欧洲大部分属于_____纬度，位

于_____带，少部分位于_____带，没有_____带。从海陆位置看，欧洲西、北、南三面分别濒临_____洋、_____洋和_____海，东与_____洲相连，南与_____洲隔海相望，好像亚欧大陆伸入海洋中的半岛。

二、地形特征

1. 亚洲地形以_____为主，平均海拔位居七大洲第_____。

地面起伏_____，高低悬殊，有世界上最高的_____高原；有世界最高的山峰，号称“地球之巅”的_____；也有世界陆地最低处_____的湖面。

地势_____高，_____低，“世界屋脊”_____高原雄踞中部，山脉以_____高原为中心向四周延伸。平原多分布在_____边缘。

大陆_____侧和_____侧有世界上规模最大、最典型的呈弧形排列的群岛。这里的地壳不稳定，为_____火山地震带的组成部分。

2. 欧洲是平均海拔最_____的洲；地面起伏_____；地形以_____为主；山地分布在_____两侧；_____地貌广布。

三、气候特征

1. 受_____位置、_____位置以及_____的影响，亚洲除_____气候缺失外，其他主要气候类型都有分布，气候_____。

亚洲各地气温差异_____，气候的_____特征显著。

亚洲地处世界最大大陆的_____部，濒临世界最大的_____，_____差异特别显著。在世界各大洲中，亚洲_____和_____的季风最强盛，最典型，影响范围也最广。该类气候的共同特征为_____。

2. 欧洲气候以_____气候类型为主。

受_____位置、_____位置、洋流及_____因素影响，欧洲大西洋沿岸主要为_____气候，其特征为_____。

地中海沿岸主要为_____气候，其特征为_____。

欧洲大陆内部主要为_____气候，其特征为_____。

四、水系特征

1. 亚洲长度、流量第一的河流是_____；亚洲流经国家最多的国际河流是_____，在我国境内称为_____。

亚洲地势_____高，_____低，因此亚洲水系结构呈_____，形成从_____高原山地流向_____海洋的_____水系；而中亚、西亚地形闭塞的山间高原、盆地和低地，以及荒漠、半荒漠地区，_____面积广大，_____和_____为世界上著名的内流河。

亚洲有很多独具特色的湖泊，有世界最深的淡水湖_____，世界面积最大的咸水湖_____，世界湖面最低、含盐度很高的咸水湖_____，一半咸水一半淡水的湖泊_____。

2. 在地形和气候影响下，欧洲河网较_____，水量_____，河流流量季节变化_____。

欧洲最长的河流，也是世界最长的内流河是_____；_____河和_____河为欧洲著名的国际河流，具有重要的_____价值。

五、人口与国家

亚洲是世界人口_____的大洲，人口主要分布在_____部和_____部。世界上人口超过

1 亿的国家,大多数在_____洲。

欧洲人口密度_____,城市化水平高,人口自然增长率为世界最_____,主要人口问题是_____,_____现象较为严重。



要点突破

一、亚洲、欧洲的气候成因

影响气候的因素很多,我们主要从纬度位置、海陆位置及地形等方面进行分析。例如,亚洲气候类型复杂多样,是因为南北跨纬度广,气温差异大;各地距海远近不同,降水差异大;而地势高低悬殊,又加大了气候的复杂性。欧洲气候海洋性显著,主要是因为欧洲大部分地区位于北纬 $40^{\circ}\sim 60^{\circ}$ 之间,终年盛行来自大西洋的温暖湿润的西风;沿岸有北大西洋暖流经过,增温增湿;各地距海洋不远,海岸线曲折,大陆轮廓破碎,有较多海湾深入大陆;山脉多为东西走向,平原广阔,连成一片,有利于大西洋上的暖湿气流长驱直入。

二、学会描述一个大洲自然环境的方法

描述一个大洲的自然环境,除了应了解从哪些要素入手进行分析外,还要注意分析各要素之间的联系,如地形对河流分布的影响、纬度位置对气候的影响等。

首先,应学会描述大洲的地理位置。地理位置一般分为绝对位置和相对位置。一个区域的绝对位置是指它的经纬度位置,可以利用经纬网来确定。相对位置是指一个区域相对于其他地理事物的位置,如某个区域的海陆位置,就是它相对于某个大陆或某个大洋的位置。大洲的地理位置,决定了它的基本地理特征。例如,欧洲所处的纬度位置,使得它没有热带气候;欧洲的海陆位置对它的主要气候特征影响很大,如位于大陆西岸、有北大西洋暖流经过等,使得欧洲成为世界上温带海洋性气候分布范围最广、最典型的区域。

其次,大洲的自然地理特征可以分别从地形特征、气候特征、水系特征等方面认识。一个大洲的地形、气候、水系之间也存在着密切的联系。以亚洲为例,从分层设色地形图上可以看出,青藏高原和帕米尔高原位于亚洲中部,平均海拔在 3000 米以上。西西伯利亚平原位于亚洲北部,华北平原位于亚洲东部,印度河平原和德干高原位于亚洲南部,以上这些地形区海拔都在 1000 米以下。伊朗高原位于亚洲西部,平均海拔在 1000~3000 米。通过读图分析,可以得出“亚洲地面起伏很大,地势中间高、四周低”的结论。亚洲的河流分布与地形有着密切的关系。中间高、四周低的地势特点,必然导致呈辐射状的水系结构。亚洲纬度范围广,海陆跨度大,气候复杂多样。亚洲气候复杂多样的特点,可以通过阅读“亚洲的气候类型图”来总结。通过阅读气温曲线和降水量柱状图,可以总结亚洲主要气候类型的特征。



学法指导

[例 1] 下列气候类型中,在亚洲没有分布的是 ()

- A. 热带雨林气候
- B. 温带海洋性气候
- C. 季风气候
- D. 热带沙漠气候

【思路分析】 本题考查亚洲气候的相关知识，属于一道典型的“无图考图”题，即不提供亚洲气候分布图，但要求回答该图中的问题。解答本题时，由亚洲气候图可知，亚洲地跨寒、温、热三带，在热带主要有热带雨林气候、热带季风气候和热带沙漠气候，在亚热带主要有亚热带季风气候和地中海气候，在温带主要有温带季风气候和温带大陆性气候，在北冰洋沿岸为苔原气候，唯独没有温带海洋性气候。

[答案] B

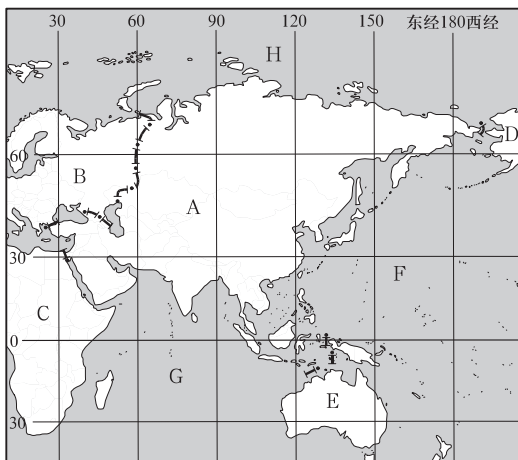
【思维诊断】 不了解世界气候类型的分布规律，死记硬背世界气候类型的分布，是解答本题最主要的思维障碍。温带海洋性气候主要分布在中纬地区的大陆西岸，而亚洲分布在亚欧大陆的东部。排除障碍的方法是：

①平时养成多读图、勤析图的习惯，这是学好地理的关键。

②要掌握好地理规律性知识，如世界气候类型的分布是有规律的，掌握好这些规律，许多问题就可迎刃而解。很多地理知识不必死记硬背，难度很大，效果又不好。

③学习时要多联系前面所学的知识，如世界气候类型分布的相关知识在七年级上册第四章第四节就已经学习过。打通前后知识之间的联系，所学的知识才会牢固。

[例2] 读亚洲范围图，回答下列问题。



- (1) 从纬度位置来看，亚洲北部深入_____内，南部延伸到_____以南。
- (2) 从海陆位置来看，亚洲东临 F _____洋，北临 H _____洋，西南濒临 G _____洋。
- (3) 亚洲西面以_____山脉、乌拉尔河、里海、大高加索山脉、_____海和_____海峡与 B _____洲为界。
- (4) 亚洲西南以_____运河与 C _____洲接壤；南面与 E _____洲隔海相望。
- (5) 亚洲东北以_____海峡与 D _____洲为界。
- (6) 认识一个大洲的地理位置，应主要从_____位置和_____位置两个方面来描述。

【思路分析】 本题立意在于渗透描述大洲地理位置的方法，引导学生在解题过程中来掌握好这个方法。地理位置是认识区域的基础知识。区域的地理位置，决定了这个大洲的基本地理特征。不同的区域地理位置，就会使区域内各组成要素的组合不同，因而形成不同的区域地理特征。一个大洲的地理位置，一般可以从纬度位置和海陆位置两个主要方面来描述。描述大洲的地理位置，是学会描述一个大洲自然环境的重要方法之一。

- [答案] (1) 北极圈 赤道 (2) 太平 北冰 印度 (3) 乌拉尔 黑 土耳其 欧
 (4) 苏伊士 非 大洋 (5) 白令 北美 (6) 纬度 海陆

【思维诊断】对于世界海陆分布状况和大洲之间的界线不够清晰,以及没有掌握好描述大洲地理位置的方法,是解答本题最主要的思维障碍。排除障碍的方法是:

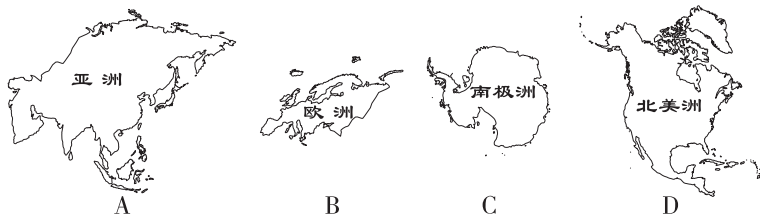
- ①平时养成多读图的习惯,对于世界海陆分布状况要形成心理地图。
- ②要掌握好方法性的知识,如描述一个大洲的自然环境,就包括了描述大洲的地理位置和描述大洲的地形特征、气候特征、水系特征等方法,这些方法在教材中都进行了渗透。方法性知识是可以迁移的,当我们遇到一个没有接触过的区域时,上述方法就可以发挥出重要作用。



学习评价

达标检测

1. 意为“西方日落之地”的大洲是 ()



2. 关于亚洲地理位置的叙述,不正确的一项是 ()

- A. 从东西半球位置看,亚洲大部分地处东半球
- B. 从南北半球位置看,亚洲大部分地处北半球
- C. 亚洲东面和南面分别濒临太平洋和大西洋
- D. 和亚洲山水相连的是欧洲

3. 亚、非两洲的分界线是 ()

- A. 白令海峡
- B. 苏伊士运河
- C. 马六甲海峡
- D. 巴拿马运河

4. 下列关于欧洲位置和地形的叙述,错误的是 ()

- A. 大部分位于东半球,全部位于北半球
- B. 西临大西洋,北临北冰洋,南临地中海
- C. 世界上海拔最低的大洲
- D. 地形以高原为主

5. 世界陆地表面最低处是 ()

- A. 里海湖面
- B. 黑海海面
- C. 贝加尔湖湖面
- D. 死海湖面

6. 地形以高原、山地为主,地势中部高、四周低的大洲是 ()

- A. 亚洲
- B. 非洲
- C. 欧洲
- D. 大洋洲

16. 读亚洲河湖分布示意图，完成各题。

(1) 写出字母代表的河流、湖泊名称：

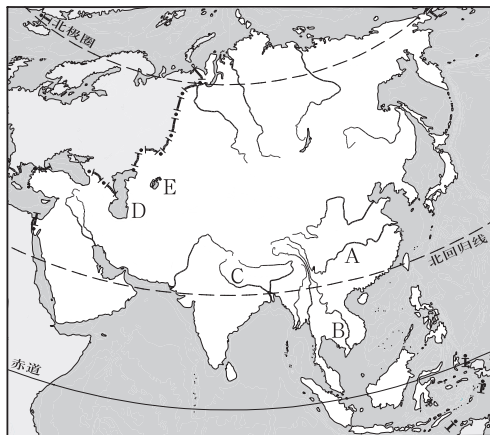
河流：A _____，B _____，C _____。

湖泊：D _____，E _____。

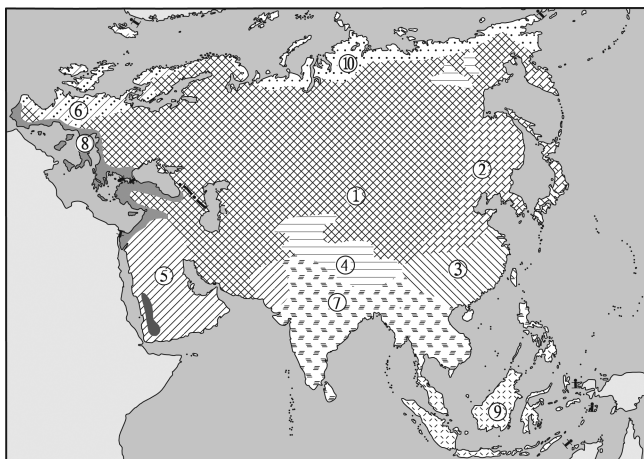
(2) A、B、C 三条河流中，_____ 河流是亚洲最长的河流，_____ 河流流经国家最多，_____ 河流注入印度洋。（填字母）

(3) 亚洲河流受_____ 影响，呈放射状向四周奔流入海。

(4) 图中 B 河流所在区域主要为_____ 气候，湖泊 D、E 所在区域主要为_____ 气候。



17. 读亚欧气候类型分布图，回答下列问题。



(1) 写出图中数码所代表的气候类型：

① _____ 气候，② _____ 气候，③ _____ 气候，④ _____ 气候，

⑤ _____ 气候，⑥ _____ 气候，⑦ _____ 气候，⑧ _____ 气候，

⑨ _____ 气候，⑩ _____ 气候。

(2) ③ 气候的形成，主要是该地地处世界最大大陆的东部，濒临世界最大的海洋，_____ 差异特别显著；④ 气候的形成，主要是受_____ 影响。

(3) 亚欧大陆各气候类型中，分布面积最大的是_____ 气候，年降水量最多的是_____ 气候。

(4) 在⑥和⑧两种气候类型中，最符合下表中所示各月气温和降水资料的是_____。

月份	1	2	3	4	5	6	7	8	9	10	11	12
气温 (°C)	10.3	11.2	12.7	14.1	16.5	19.3	21.3	21.8	20.3	17.1	13.5	11.3
降水 (毫米)	86	82	80	54	40	19	4	5	38	82	109	93

提高训练

18. 在亚洲,有的地方终年炎热,有的地方长冬无夏,有的地方雨水丰沛,有的地方常年干旱……这些都说明了亚洲范围广,各地气候差异大。下面有关亚洲气候差异的说法,正确的是 ()

- A. 亚洲东部和西部均分布有季风气候
- B. 季风气候各月降水均匀,一般没有旱涝灾害
- C. 亚洲地势中间高四周低,因而亚洲中部降水最多
- D. 北回归线穿过的地区共有 3 种气候类型

19. 下列城市的气候特点,最符合表中所列资料的是 ()

月份	1	4	7	10	月平均气温	年降水量
气温(°C)	2.3	10.5	19.1	8.4	12.7	/
降水(毫米)	43	41	59	66	/	586

- A. 罗马
- B. 伦敦
- C. 悉尼
- D. 莫斯科

20. 在地理主题班会上,几个同学正在描述假想到亚洲各地旅游的情景。其中不可能发生的是 ()

- A. 小明:在阿拉伯半岛,我乘着雪橇逛街
- B. 小畅:我在去乌兰巴托的火车上看到了大草原
- C. 小兰:我不会游泳却可以不带救生圈在死海中畅游
- D. 小华:在沙特阿拉伯,旅店安排我们在屋顶上睡觉

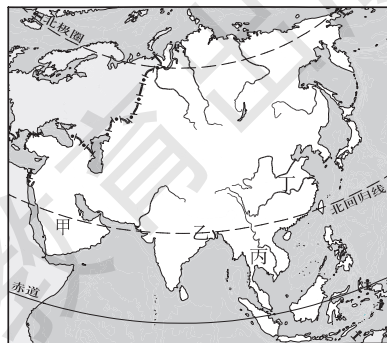
21. 欧洲各地房屋建筑的墙壁厚度明显不同:英国南部、荷兰、比利时墙壁平均厚度为 23 厘米,德国为 38 厘米,波兰、立陶宛为 50 厘米,俄罗斯则超过 63 厘米。请根据所学的欧洲气候知识,解释上述欧洲建筑风格所反映出的气候特色。

拓展探究

22. 读亚洲地图,回答下列问题。

(1) 亚洲地势特点中间高,四周低,其河流流向深受地形地势的影响。从图中读出亚洲河流流向的特点是 ()

- A. 发源于亚洲北部高原山地的河流,呈带状流向南部的海洋
- B. 发源于亚洲南部高原山地的河流,呈向心状流向中部的海洋
- C. 发源于亚洲中部高原山地的河流,呈放射状流向周边的海洋
- D. 发源于亚洲东部高原山地的河流,呈带状流向西部的海洋



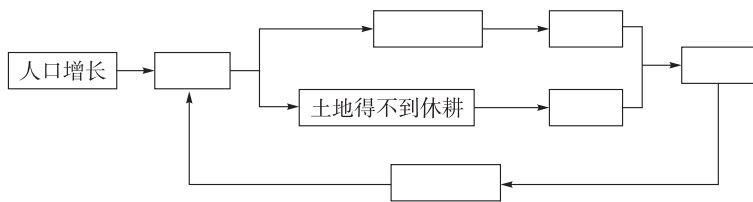
(2) 亚洲是世界上人口最多的大洲，但人口分布不均。图中甲、乙、丙、丁四个地区相比较，人口相对稀少的是 ()

- A. 甲 B. 乙 C. 丙 D. 丁

(3) 亚洲众多的人口，对资源和环境产生了沉重的压力。阅读材料，把①~⑥各项内容，按因果关系填入下面的框图中。

材料 人口增长了，要求生产更多的粮食。为了满足人口最基本的粮食需求，亚洲的一些国家，一方面在山坡和干旱地带垦荒种粮，加重了水土流失和土地沙化；另一方面，在土地上连续耕种，使土地得不到休耕，土壤肥力逐渐下降。结果，粮食的产量下降。然而为了生存，人们又进一步垦殖，形成恶性循环。

- ①要求增产粮食 ②开垦坡地和干旱地带 ③粮食产量下降
④水土流失和土地沙化加重 ⑤恶性循环 ⑥土壤肥力下降



人口增长对土地的压力



十分钟反思提升

题号	训练点	反思与提升点
17 (4)	气候类型的特点、提取信息的能力	⑥和⑧分别为哪种气候类型，表格中气温、降水的组合有何特点
18	亚洲的气候特征及气候类型的分布	你了解季风气候的特点及分布吗？阅读地图时，你会注意特殊经纬线吗
19	温带海洋性气候的特点及分布、提取信息的能力	你了解选项中4个城市的位置吗？你了解温带海洋性气候的特点及分布吗
20	亚洲的自然环境特征	阿拉伯半岛的纬度位置怎样？它属于什么气候类型呢
21	欧洲的气候特征	你了解欧洲自沿海向内陆气温的变化趋势吗
22	亚洲的水系特征、人口分布以及人口、资源、环境问题	你从图中可提取到什么信息？你了解地理事象之间的因果联系吗
错题序号	错误原因剖析	



知识链接

我国科学家指出炸喜马拉雅山造水汽通道不科学

高耸的喜马拉雅山一直是印度洋暖湿气团很难逾越的天然屏障，在西南季风的吹动下，北进的暖湿气团继续游动，终于找到一个豁口——雅鲁藏布江大峡谷的尾口。气流进入大峡谷后，渐渐失去它所向披靡的势头，最后消失。

如此景象，催生了炸通喜马拉雅山的奇想：既然雅鲁藏布江大峡谷发挥着水汽通道的作用，造就了藏东南的绿洲，那么，除了自然形成的水汽通道外，再在喜马拉雅山比较适合的地方炸通个缺口，就可以让更多的暖湿气流长驱直入，让青藏高原成为鱼米之乡。

科学家指出，这种突发奇想，要从喜马拉雅山炸开一个缺口，将印度洋的水汽输送到青藏高原，从而改变中国西部干旱的气候。这种设想没有科学依据，是不可行的。

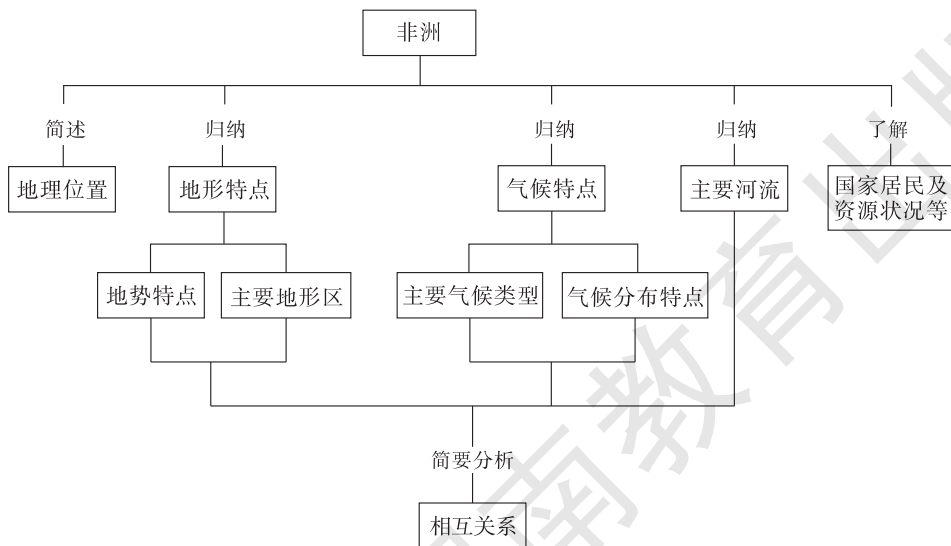
科学家指出，喜马拉雅山南坡的亚东，是印度洋暖湿气流进入青藏高原的重要水汽通道，但这样的缺口输送的水汽是有限的，只是在当地形成了湿润的小气候。喜马拉雅山东西绵延2400千米，像亚东这样的缺口还有若干道，但是，都不能从根本上解决青藏高原的气候问题。如果仅仅是再炸开一个类似的缺口，毫无意义。如果想让缺口大到改变中国西部的大气候，那么，把缺口原来的物质挪到别处可能要重新垒起一座喜马拉雅山。

第二节 非 洲



学习导航

学习要求



[情感态度和价值观]

了解非洲存在的人口、资源、环境、发展等问题，培养科学的人口观、资源观、环境观以及可持续发展观。

[学习方法]

1. 掌握阅读气温和年降水量分布图的方法，并形成相关能力。
2. 将上节所学的学习大洲的方法运用到本节的学习中，进一步巩固相关知识，提高相关能力。

基础梳理

一、地理位置

1. 非洲全称_____，意思是_____。
2. 从半球位置看，非洲位于_____半球西部，地跨_____两个半球。
从纬度位置看，非洲大部分地区位于_____之间，处于“五带”中的_____带，还有少部分处于_____带和_____带。
从海陆位置看，非洲东临_____洋，西临_____洋，北隔_____海及_____海峡与欧洲相望，东北与亚洲之间隔着狭长的_____海，陆上以_____运河为界。
3. 从15世纪起，_____殖民者相继侵入非洲，到第二次世界大战前夕，只有_____、_____和_____3个独立国家，其余则沦为殖民地。目前非洲共有_____个国家和地区，是世界上国家和地区_____的大洲。

二、地形特征

1. 非洲大陆_____面积广大，被称为“_____”。东南部从北向南依次有_____高原、_____高原、_____高原；其中_____高原号称“非洲屋脊”。
2. 非洲地势_____高，_____低。赤道附近的_____，海拔5895米，是非洲的最_____峰，西北部有_____山脉；赤道横贯的_____盆地，是世界上最大的盆地；非洲东部有世界陆地上最大的裂谷带_____；非洲北部有世界最大的沙漠_____。
3. 非洲海岸线_____。非洲最大的半岛是_____，最大的岛屿是_____，最大的海湾是_____。

三、气候特征

1. 非洲3/4的面积在_____线之间，绝大部分地区年平均气温在_____℃以上，气候普遍_____，被称为“_____”。
2. 非洲的降水地区分布_____。赤道附近的_____和_____沿岸年降水量非常丰富，形成_____气候；南、北回归线两侧大多_____，形成_____气候。非洲是世界上_____面积最大的一个洲。
3. _____是世界上三大热带雨林区之一。
非洲_____的面积在各大洲中最大，从北、东、南三面围绕着_____气候区；该区域农业主要发展_____业，水热条件较好的地方多已开垦为_____地。

_____气候区植被稀少，人们在大河两岸的_____和条件较好的_____发展_____农业。

_____气候区适于栽培柑橘、葡萄和油橄榄等。

四、丰饶的物产

本区矿产资源_____（丰富或匮乏），不仅种类多，而且储量大，_____、_____、铬铁矿、磷酸盐等储量和产量都居世界前列；非洲的动植物资源也极为丰富，桃花心木、檀木、花梨木等都是_____地区的名贵树种。非洲还是_____、_____等作物的原产地。还有_____、_____、_____等大型野生动物。



要点突破

一、非洲的地形

非洲地形以高原为主，地面起伏不大，平均海拔 600 米以上，海拔 500~1000 米的高原占全洲面积 60% 以上，被称为“高原大陆”。

地势由东南向西北倾斜，东南半部较高，西北半部较低。东南半部被称为高非洲，海拔多在 1000 米以上；西北半部被称为低非洲，海拔多在 500 米以下。明显的山脉仅限于南北两端，西北非的阿特拉斯山脉，人们认为这是伸入至南欧山系的一部分，东南部有德拉肯斯山脉。

非洲地形可分成三部分：第一，高原。自北向南有埃塞俄比亚高原、东非高原、南非高原。乞力马扎罗山（海拔 5895 米）位于东非高原，是非洲最高峰。非洲东部有一条纵贯南北的断层陷落带——东非大裂谷带，长 6000 多千米，谷底有一连串狭长水深的湖泊。第二，盆地。中部是广大的刚果盆地，原为广阔的内陆湖，后因地壳上升，河流下切，湖水外泄而成。第三，沙漠。北部是撒哈拉沙漠，面积 900 多万千米²，是世界上最大的沙漠。

二、非洲的气候

非洲气候特点：气温高，有“热带大陆”之称；有面积广大的干旱少雨区；气候类型南北对称。

非洲的气候主要分为热带雨林、热带草原、热带沙漠和地中海气候四个类型，呈明显的东西带状分布，且以赤道为中心，具有南北对称、季节相反的特点。

赤道附近的刚果盆地和几内亚湾沿岸地区为终年高温多雨的热带雨林气候；在热带雨林气候带的南北两侧和东非高原，为夏雨冬干、终年高温的热带草原气候；热带草原气候带的外侧南北回归线附近，为终年高温干燥的热带沙漠气候；非洲大陆南北两端沿海地区，则为夏季炎热干燥、冬季温和多雨的亚热带地中海气候。

形成这种气候类型呈东西带状分布，而且南北对称的主要原因，是由赤道横贯非洲中部，南北两部分所跨纬度大致相等和非洲所跨气压带、风带也大致南北对称所决定的。另外与地形上是一个起伏不大的高原大陆，缺少高大山地阻挡，气候的垂直变化小，使非洲气温和降水的分布变化不大，地带性比较明显等也有关系。所以，非洲的气候呈对称分布，主要受纬度位置及地形的影响。



学法指导

[例1] 某地各月均温都高于 20℃, 1 月干燥, 草木枯黄; 7 月湿热, 植被茂盛, 该地气候为 ()

- A. 热带雨林气候
- B. 热带草原气候
- C. 温带草原气候
- D. 亚寒带针叶林气候

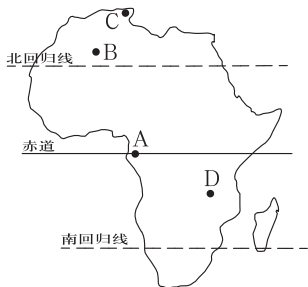
【思路分析】 本题考查学生对热带草原气候的理解程度。题干中的前提条件“各月均温都高于 20℃”, 说明此地为热带气候, 排除 C 和 D。又因此地“1 月干燥, 草木枯黄; 7 月湿热, 植被茂盛”, 说明此地气候有明显的干季和湿季, 植被又有相应的季节变化, 排除 A。

[答案] B

【思维诊断】 不能理解分析各种气候的特征, 是解题过程中出现的主要思维障碍。排除障碍的方法: 首先了解各温度带的气温特征, 再分析各温度带不同气候的降水区别。

[例2] 某旅游者在游记中写道: “烈日下, 成群的斑马悠闲地在草原上散步, 不远处有几只幼狮在母狮周围嬉戏。” 该旅游者记述的地区应在 ()

- A. A 点
- B. B 点
- C. C 点
- D. D 点



【思路分析】 解答的关键在于判断题中景观属于何种气候区。图中有三条重要纬线: 赤道、南回归线、北回归线, 不同纬线附近有不同气候类型。在非洲, 赤道附近 A 点为热带雨林气候, 热带雨林气候区东、南、北为热带草原气候, 回归线附近 B 点为热带沙漠气候, 最北端地中海附近 C 点为地中海气候。题中“斑马、草原、狮子”等词语, 反映了该景观应该位于热带草原气候区, 四点位置中 D 点为热带草原气候区, 应该选 D。本题重点培养学生的读图分析能力和思维推理能力, 一步一步地分析, 得出符合题意的选项。

[答案] D

【思维诊断】 解题过程中很容易出现将各种气候分布混淆的思维障碍, 以致判断出错误的答案。排除障碍的方法: 根据纬度位置、海陆位置的变化, 学会判断各种气候类型。



学习评价

达标检测

- 下列不是二战前独立的国家是 ()
 - A. 埃及
 - B. 利比里亚
 - C. 纳米比亚
 - D. 埃塞俄比亚
- 世界上国家最多的大洲是 ()
 - A. 亚洲
 - B. 非洲
 - C. 欧洲
 - D. 大洋洲

3. 下列关于非洲的说法中, 不正确的是 ()

- A. 非洲全称阿非利加洲
- B. 非洲是古人类和古文明发祥地之一
- C. 世界上国家和地区最多的大洲
- D. 第二次世界大战后, 非洲政治地图没有发生变化

4. 有关非洲位置的叙述, 错误的是 ()

- A. 地跨赤道南北, 大部分在南北回归线之间
- B. 位于西半球, 亚洲西南方
- C. 北隔地中海及直布罗陀海峡与欧洲相望
- D. 被两大洋包围

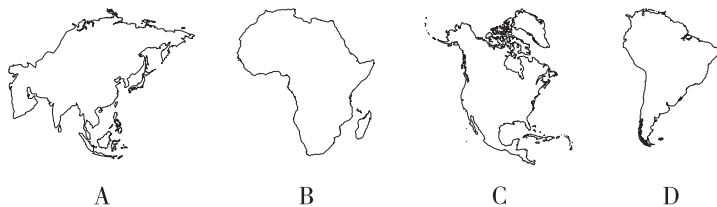
5. 亚洲和非洲的陆上分界线是 ()

- A. 土耳其海峡
- B. 乌拉尔河
- C. 苏伊士运河
- D. 红海

6. 有“非洲屋脊”之称的是 ()

- A. 东非高原
- B. 南非高原
- C. 撒哈拉沙漠
- D. 埃塞俄比亚高原

7. 被称为“高原大陆”的大洲是 ()



8. 宇航员在太空可以看到的“地球的伤痕”是 ()

- A. 东非裂谷带
- B. 苏伊士地峡
- C. 苏伊士运河
- D. 乞力马扎罗山

9. 下列关于非洲自然地理特点的说法, 正确的是 ()

- A. 非洲最高山峰是乞力马扎罗山
- B. 非洲地势西北高, 东南低
- C. 非洲地形以平原、山地为主
- D. 非洲最长河为刚果河

10. 有关非洲气候特点的叙述, 错误的是 ()

- A. 气温高
- B. 季风气候显著
- C. 干旱地区广
- D. 气候南北对称分布

11. 形成非洲炎热气候的最主要因素是 ()

- A. 海陆因素
- B. 纬度因素
- C. 洋流因素
- D. 地形因素

12. 乞力马扎罗山位于赤道附近, 山顶却终年积雪, 最主要的原因是 ()

- A. 海陆因素
- B. 海拔因素
- C. 纬度因素
- D. 经度因素

13. 下列河流注入的海洋正确的是 ()

- A. 尼罗河注入印度洋
- B. 赞比西河注入地中海
- C. 刚果河注入大西洋
- D. 尼日尔河注入太平洋

14. 下列农作物，原产地位于非洲的是 ()

①咖啡 ②玉米 ③油棕 ④枣椰 ⑤茶叶

A. ①③④ B. ①②③ C. ②③④ D. ①②⑤

15. 非洲地中海沿岸国家的主要矿产有 ()

A. 黄金 B. 金刚石 C. 石油 D. 铜矿

16. 读图，回答下列问题。

(1) 将图中序号和字母表示的地理事物填在横线上：

① _____ 洋 ② _____ 河

③ _____ 河 ④ _____ 岛

⑤ _____ 沙漠 E _____ 湾

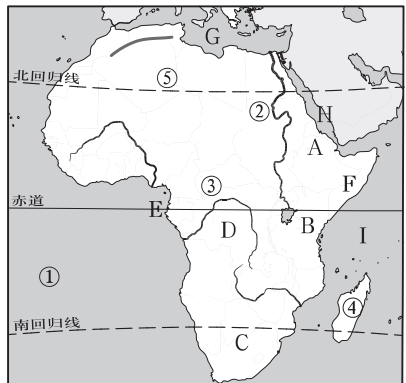
F _____ 半岛 G _____ 海

H _____ 海 I _____ 洋

(2) 将图中字母与所表示的地形区连线：

A	南非高原
B	刚果盆地
C	东非高原
D	埃塞俄比亚高原

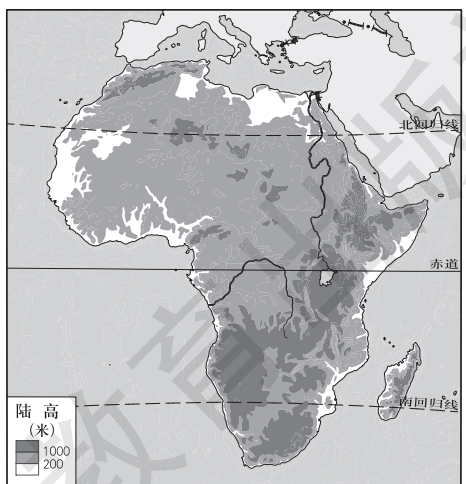
(3) 位于B高原的非洲最高山峰是_____，其山顶积雪曾经消减，你认为造成这一现象的原因是什么？它与我们的生活有关吗？如果有关，你该怎么做？



17. 读非洲地形图，完成下列问题。

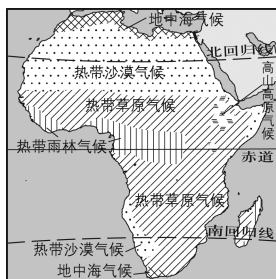
(1) 请你依据对非洲地形图的分析，描述非洲大陆的地形特点_____。

(2) 有人认为非洲是一个“热带大陆”，你赞同他的观点吗？为什么？

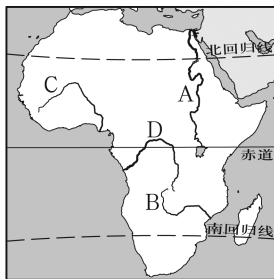


提高训练

18. 读非洲气候类型图和非洲河流分布图，回答下列问题。



非洲气候类型图



非洲河流分布图

(1) 下列河流中，水量最为丰富的是 ()

A. 尼罗河 B. 赞比西河 C. 尼日尔河 D. 刚果河


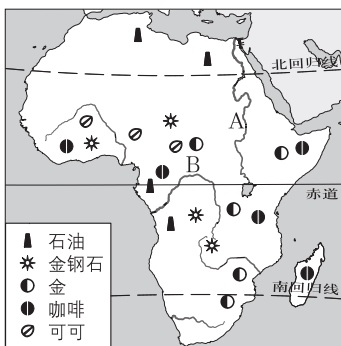
(2) 从图中可以看出，非洲气候类型分布的特点是_____。

拓展探究

19. 阅读图文资料，完成下列要求。

材料一 “中非合作论坛”是我国与非洲国家在“南南合作”范畴内的集体对话机制。“中非合作论坛”部长级会议自2000年开始每3年举行一次，其宗旨是平等磋商、扩大共识、增进了解、加强友谊、促进合作。

材料二 非洲主要物产分布图和非洲草原景观图。



(1) 非洲北临_____海，东临_____洋。

(2) 你认为 A、B 两条河流中流量较大的是_____。

(3) 资源合作是中非合作的重要内容之一。中国将采取多样的合作方式与非洲国家共同开发和合理利用资源，帮助非洲国家将资源优势转化为竞争优势。你认为非洲的自然资源有哪些优势？

(4) 长期以来,非洲许多国家过分依赖某一种或几种初级产品的出口,利润低,价格波动大,在国际贸易中处于不利地位。你认为应该采取哪些措施来改变这种状况?



十分钟反思提升

题号	训练点	反思与提升点
17	读图提取信息的能力、非洲的地形特征和气候特征	你注意到图中的高度表和非洲的纬度位置了吗
18 (1)	非洲河流的水文特征	你知道图中 A、B、C、D 所表示的河流名称吗? 你了解图中四条河流域的气候类型及其气候特征吗
18 (2)	非洲的气候特征	以赤道为中心,非洲气候类型大致怎样分布
19	非洲的地理位置、自然环境特征、主要物产和经济发展状况	你从非洲主要物产分布图和非洲草原景观图中可提取出哪些有用的信息? 你能针对非洲国家在国际贸易中处于不利地位提出有效措施吗
错题序号	错误原因剖析	



知识链接

非洲的热带草原气候与动物迁徙

非洲热带草原是世界上面积最大、发育最好、特征最为典型的热带草原。主要分布在非洲热带雨林的北、东、南三面,北起苏丹,南到南非,西起大西洋沿岸,东到印度洋之滨,约占非洲大陆面积的40%。非洲热带草原的气候全年高温,一年中有明显的干、湿季变化,年降水量为500~1000毫米,多集中在湿季。干季的气温高于热带雨林地区,各月平均气温在24~30℃之间,而且南、北半球的热带草原干湿季节变化正好相反。

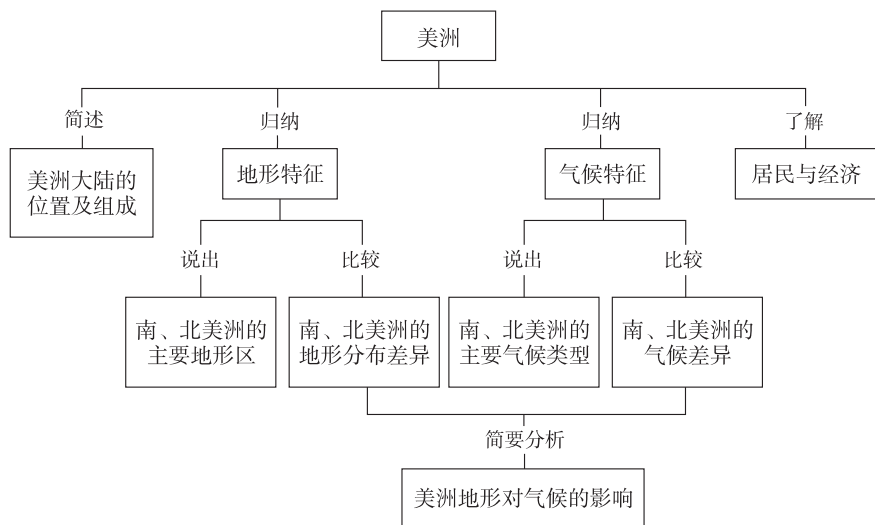
大部分生活在热带草原的野生动物都善于奔跑。野生动物的特点与它们生活环境的气候特点:热带草原可以说是终年高温。降水,7月、8月、9月相对较多,1—4月和11月、12月相对较少。热带草原气候分为明显的干季和湿季,湿季时,风调雨顺,植物繁茂,农民的收成很好,生活不错;干季时,缺水少雨,植物一片枯黄,农民收成不好,生活难以维持。因此,热带草原有涝灾和旱灾的威胁。因而,野生动物只有奔跑能力强才能在干季时迁徙到热带雨林边缘水草肥美的地方继续生存,湿季时再迁徙回来。因此,热带草原上的动物有随着水草迁徙的特征。

第三节 美洲



学习导航

学习要求



[情感态度和价值观]

通过关于美洲自然、人文地理的学习活动，激发探究性学习的兴趣，领悟科学的地理学习方法，促进科学态度的形成。

[学习方法]

1. 读图归纳南、北美洲的地形特征，并运用比较法了解它们之间的异同。
2. 读图归纳南、北美洲的气候特征，学会分析美洲地形对气候的影响。
3. 学会通过气温、降水资料、图表，判别不同的气候类型，并试着学会分析不同气候的成因。

基础梳理

一、新大陆

1. “新大陆”指的是_____，该洲全称是_____。
2. 美洲大陆是一块整体，人们在美洲大陆中部_____地峡的最狭窄部位开凿了_____运河，并以此作为南、北美洲的分界线。该运河的通航大大缩短了_____洋和_____洋的航程，具有重要的经济和战略意义。
3. 北美洲面积最大的国家是_____，其次是_____。它们都曾是_____等国的殖民地，两国通行_____语。

4. 美国以南的美洲地区,历史上长期遭受_____和_____的殖民统治,目前主要通行_____语和_____语,由于这两种语言都源于拉丁语,所以人们通常将该地区称为_____洲。

二、美洲的位置

1. 北美洲位于_____半球的北部,面积居各大洲的第_____位。

2. 从纬度位置上看,北美洲和亚洲一样南北跨低、中、高三个纬度带,但大多数地区属于五带中的_____带。从海陆位置看,北美洲北临_____洋,西临_____洋,东临_____洋;西北隔_____和亚洲相望,南部陆地上隔_____和南美洲相连。

3. 南美洲_____带范围广阔,_____带面积不大,_____带缺失。从海陆位置看,南美洲西临_____洋,东临_____洋;北部隔_____和北美洲相连,南部隔_____海峡和南极洲相望。

4. 西印度群岛呈弧形排列在_____海和_____洋之间,_____岛是其中最大的岛屿。

三、美洲的地形

1. 北美洲平均海拔较_____,地势起伏_____,地形分为_____ :西部是_____,中部是_____,东部是_____。_____岛为世界第一大岛,该岛是除南极洲以外冰川分布最广的地区。苏必利尔湖等五大湖是世界上最_____的_____湖群,有“_____”之称。

2. 南美洲西部也分布着年轻高大的_____,该山脉是世界上最_____的山脉,属于_____山系;安第斯山脉以东,_____相间分布。

四、美洲的气候

1. 北美洲地跨_____个温度带,气候类型_____ ;北美洲以_____气候为主。

2. 南美洲气候类型主要是以_____气候和_____气候为主,除高山气候外,南美洲冬季比较_____,夏季没有_____,大部分地区年降水量在_____毫米以上,是世界上_____的大洲。

五、美洲的居民与经济

1. 美洲的原住居民绝大部分是_____人,欧洲殖民者来到美洲之后,又从非洲贩运来大量_____人作为劳动力。

2. 来自_____和其他大洲的移民逐渐成为北美洲人口的主体,_____和_____是典型的移民国家。

3. 南美洲是世界上种族成分非常复杂的大洲,号称“_____”。由于不同种族的人长期通婚,形成了_____人种。

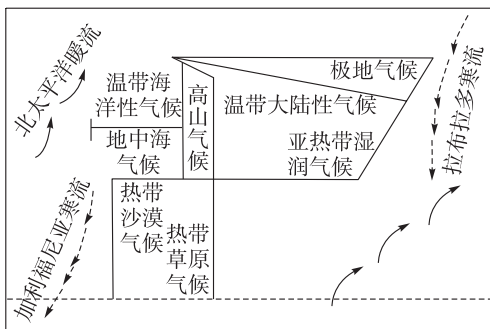
4. 美洲的经济发展很不平衡,_____和_____是发达国家,其余都是_____国家。

5. 墨西哥_____资源丰富,现在已形成以_____工业为支柱的工业体系,它还是_____的原产地;_____是南美洲工农业最发达的国家;阿根廷为重要的_____出口国,_____和_____等畜产品在国际市场上占有突出地位;南美洲的经济虽然有

较大发展，但_____仍然是主要的出口商品，能源矿产以_____为主，农业以_____为主，大量出口的经济作物有_____、_____、蔗糖等。

要点突破

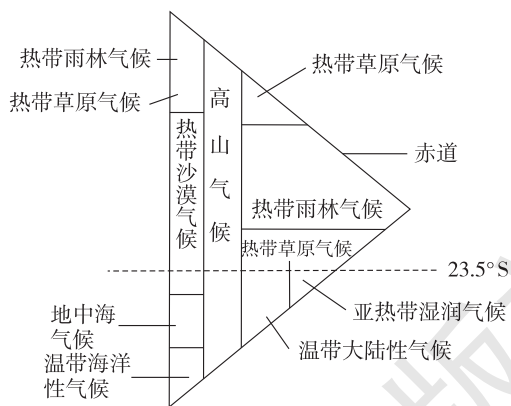
一、图解北美洲气候分布



北美洲地形对气候的影响：西部高山阻止了温带海洋性气候和地中海气候向东延伸，使它们仅分布在山脉以西狭长的沿海地带。西部高原山区降水较少，形成高山气候。东部低缓山地对海洋水汽的阻挡作用不显著，降水由东部沿海向西部内陆逐渐减少。中部平原地势平坦，大平原纵贯南北，使南北气流畅通无阻，冬季寒冷气流可长驱向南，夏季暖湿气流也可自由北上。

二、图解南美洲气候分布

南美洲湿热的气候特征及成因：纬度位置和大陆轮廓——赤道横穿南美洲，恰是陆地宽广部分，2/3 面积位于热带；海陆位置和洋流——拉丁美洲位于太平洋和大西洋之间，受海洋影响大，又有暖流经过，起到增温增湿作用；地形地势——安第斯山脉西侧多地形雨，亚马孙平原三面地势高，东面向大西洋敞开，水汽容易进入。



学法指导

【例 1】北美洲中部平原冬季多大风雪、寒潮天气；夏季普遍高温，主要是受 ()

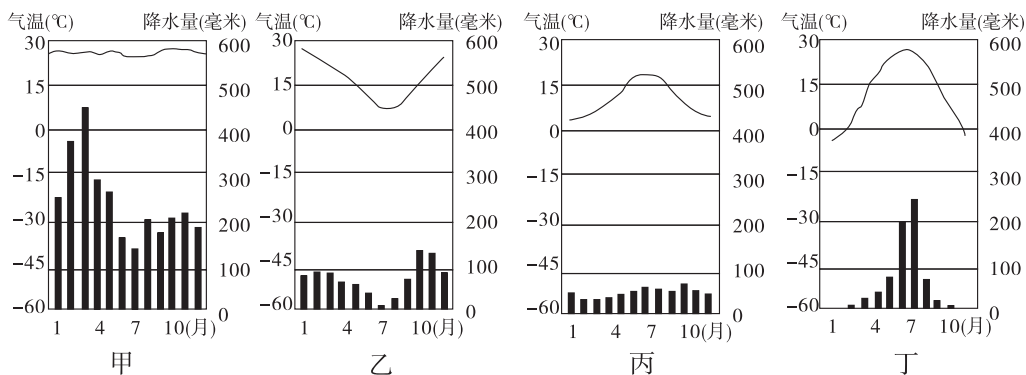
- A. 纬度影响
- B. 地形影响
- C. 季风影响
- D. 海洋影响 (海陆位置)

【思路分析】冬季寒冷，夏季高温，气温年较差大，是典型的温带大陆性气候。通常情况温带大陆性气候受海陆位置影响，而北美洲情况有异，北美洲中部没有高山，且少有的山脉也是南北走向，寒潮来袭 (从北到南) 无法阻隔，高温也是如此。季风是海陆温差引起的，随季节改变，美洲的陆地相对亚洲小很多，海陆温差就相对小，通常只说成湿润气候而不是季风气候，且大陆中部是温带大陆性气候，受海洋影响有限，把季风作为主要因素不妥，排除 C、D。

【答案】B

【思维诊断】不能根据实际情况分析出影响气候的主要因素，是解题过程中出现的主要思维障碍。排除障碍的方法：首先了解北美洲的地形等自然环境特征，再分析影响气候的主要因子。

【例2】下图为四地各月气温变化曲线图和各月降水量分配图，四种气候分别是 ()



- A. 热带草原气候、地中海气候、温带大陆性气候、亚热带湿润气候
- B. 地中海气候、热带草原气候、温带季风气候、亚热带湿润气候
- C. 亚热带湿润气候、热带雨林气候、温带季风气候、地中海气候
- D. 热带雨林气候、地中海气候、温带海洋性气候、温带季风气候

【思路分析】解答的关键在于正确分析气温与降水的配合状况。甲图终年高温，应为热带气候，排除 B、C 选项。A 选项中，丙图被判为“温带大陆性气候”，该种气候气温年较差大，降水少；丁图被判为“亚热带季风气候”，该种气候与“温带季风气候”特征相似，但也有明显区别，即 1 月平均气温高于 0℃，而“温带季风气候”1 月平均气温低于 0℃，排除 A 选项。D 选项第二种气候为地中海气候，确实乙图高温季节降水少，低温季节降水多，为南半球地中海气候。本题重点培养学生的读图分析能力和思维推理能力，一步一步地分析，得出符合题意的选项。

[答案] D

【思维诊断】解题过程中很容易出现将各种气候特征混淆的思维障碍，以致判断出错误的答案。排除障碍的方法：1. 根据气温的月变化，首先判断所在温度带；2. 根据气温、降水的配合状况，判断气候类型。



学习评价

达标检测

1. 美洲被称为“新大陆”是因为 ()
 - A. 美洲是新出现的大陆
 - B. 以前亚洲、非洲、欧洲人不知道它的存在
 - C. 这是该大陆外语的译音
 - D. 以前美洲大陆没有人居住

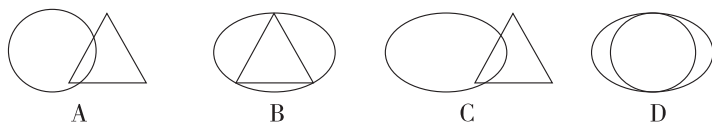
2. 连接南北美洲大陆的天然陆桥是 ()

- A. 麦哲伦海峡 B. 中美地峡 C. 巴拿马运河 D. 德雷克海峡

3. 南北美洲的分界线是 ()

- A. 苏伊士运河 B. 巴拿马运河 C. 中美地峡 D. 德雷克海峡

4. 下列四幅图中 (○代表北美洲, △代表南美洲, ◐代表拉丁美洲), 能正确表示范围关系的是 ()



5. 世界上面积最大的岛屿是 ()

- A. 格陵兰岛 B. 台湾岛 C. 火地岛 D. 马达加斯加岛

6. 南、北美洲地形的相同点是 ()

- A. 都分为三大南北纵列带 B. 地势均为北高南低
C. 西部都有高大的山脉 D. 平原、高原相间排列分布

7. 世界上最长的山脉是 ()

- A. 安第斯山脉 B. 阿尔卑斯山脉
C. 喜马拉雅山脉 D. 斯堪的纳维亚山脉

8. 下列关于南、北美洲气候的叙述, 正确的是 ()

- A. 亚马孙河流域是热带草原气候
B. 墨西哥湾洋流使墨西哥湾地区温度降低
C. 美洲的温带海洋性气候面积广大
D. 南美洲西海岸有狭长的热带沙漠气候

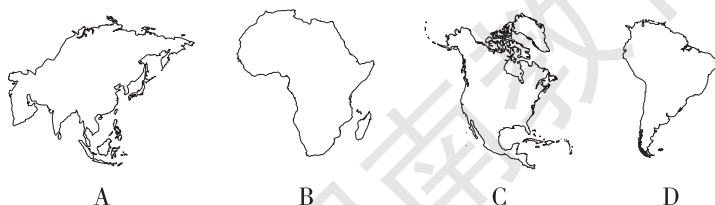
9. 北美洲以哪两种气候类型为主 ()

- A. 温带海洋性气候与温带大陆性气候
B. 温带大陆性气候与地中海气候
C. 温带海洋性气候与地中海气候
D. 温带大陆性气候和亚寒带针叶林气候

10. 关于美洲的气候, 说法有误的是 ()

- A. 地形对气候都有重要的影响
B. 气候类型都以温带气候类型为主
C. 北美洲主要气候类型是温带大陆性气候和亚寒带针叶林气候
D. 南美洲主要气候类型是热带雨林气候和热带草原气候

11. 世界上最湿润的大洲是 ()



12. 从种族构成上看, 拉丁美洲的人种主要是 ()
 A. 白色人种 B. 黄色人种 C. 黑色人种 D. 混血人种
13. 拉丁美洲面积最大、人口最多的国家是 ()
 A. 墨西哥 B. 巴西 C. 阿根廷 D. 智利
14. 原产于墨西哥的粮食作物是 ()
 A. 水稻 B. 小麦 C. 玉米 D. 大豆
15. 下列关于南美洲经济的叙述, 不正确的是 ()
 A. 能源矿产以石油为主 B. 金属矿产以铁、铜、铝土为主
 C. 农业以经济作物种植为主 D. 阿根廷是重要的稻米出口国

16. 读北美洲地形图, 完成下列各题。

(1) 写出下列字母代表的海域名称:

A _____ 洋, B _____ 洋, C _____ 洋,
 D _____ 海, E _____ 湾。

(2) 写出下列数字代表的地理事物名称:

① _____ 岛, ② _____ 群岛,
 ③ _____ 山脉, ④ _____ 山脉,
 ⑤ _____ 河, ⑥ _____ 高原。

(3) ⑤是北美洲最大的河流, 注入 _____, 是世界第 _____ 长河。

(4) 从北冰洋南下的冷空气和从墨西哥湾北上的暖空气在北美大陆中部畅行无阻, 其主要原因是 _____



17. 读南美洲图, 完成下列问题。

(1) 南美洲 _____ 带范围广阔; 降水丰富, 是世界上 _____ 的大洲。

(2) 写出数字所代表的地理事物名称:

海域: ① _____ 海, ② _____ 洋, ③ _____ 洋,
 ④ _____ 海峡。

地形区: ⑥ _____ 山脉, ⑦ _____ 高原, ⑧ _____ 平原。

河流: ⑤ _____ 运河, ⑨ _____ 河。

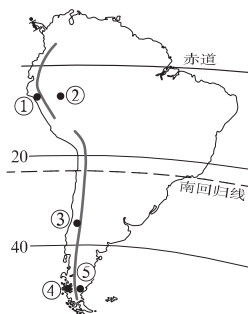
(3) 从气候类型上看, ⑦地区属于 _____ 气候, ⑧地区属于 _____ 气候。

(4) 受地形的影响, 从图中可以看出, 南美洲的降水主要来自 _____ 洋。

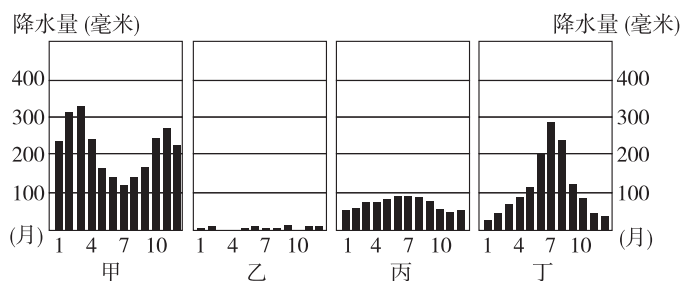


拓展探究

20. 距离亚洲最近的美洲国家是 ()
- A. 加拿大 B. 墨西哥 C. 美国 D. 巴西
21. 读南美洲轮廓图，完成下列要求。



- (1) 下列四幅降水柱状图中，能正确反映③和⑤降水状况的分别是_____图和_____图。



- (2) 列表比较①地与②地气候的差异。

地点	气候类型	气候特征
①地		
②地		

- (3) ④和⑤两地位于同一纬度，但自然景观不同，试分析其成因。

- (4) 若南美洲安第斯山脉变为低平的平原，会给南美洲的气候分布带来哪些影响？



十分钟反思提升

题号	训练点	反思与提升点
4	拉丁美洲的范围	注意拉丁美洲与南美洲的关系了吗
6	美洲地形特征比较	注意美洲西部纵贯南北的科迪勒拉山系了吗
16 (4)	北美洲温带大陆性气候的成因	注意到图中美洲地形分布特征了吗? 思考了地形对美洲气候的影响吗
18	世界主要大河的形状、位置及注入的水域	你经常读图吗? 读图时是否抓住了特征? 对重要地理事物的分布是否形成了心理地图
19	南美洲地形、气候、水系等自然地理要素之间的相互关系	在解决题目中提出的问题时, 你能将图示信息与地理原理很好地结合起来吗
20	对世界地图的记忆能力、阅读图文材料时抓住重要信息的能力	你是不是翻看地图来做这道题的? 你在阅读教材中的“三线穿越的白令海峡”时, 是否抓住了重要信息呢
21	南美洲地形特征、气候特征等相关知识的综合运用	你对南美洲的地形特征、气候特征掌握牢固吗? 你会从地形角度分析气候的成因吗
错题序号	错误原因剖析	



知识链接

美洲原住民

美洲原住民是对美洲所有原住民的总称。美洲原住民中的绝大多数为印第安人, 剩下的则是主要位于北美洲北部的爱斯基摩人。传统上将美洲原住民划归蒙古人种美洲支系。当欧洲人首次来到美洲时, 美洲原住民早已遍布南北美洲各地。

印第安人在 15 世纪末之前本来并没有统一的称法。1492 年西班牙航海家 C. 哥伦布航行至美洲时, 误以为所到之处为印度, 因此将此地的土著居民称作“印度人”。后人虽然发现了错误, 但是原有称呼已经普及, 所以英语和其他欧洲语言中称印地安人为“西印度人”, 在必要时为了区别, 称真正的印度人为“东印度人”。汉语翻译时直接把“西印度人”这个单词翻译成“印第安人”或“印地安人”, 免去了混淆的麻烦, 到目前仍为最普及的用法。

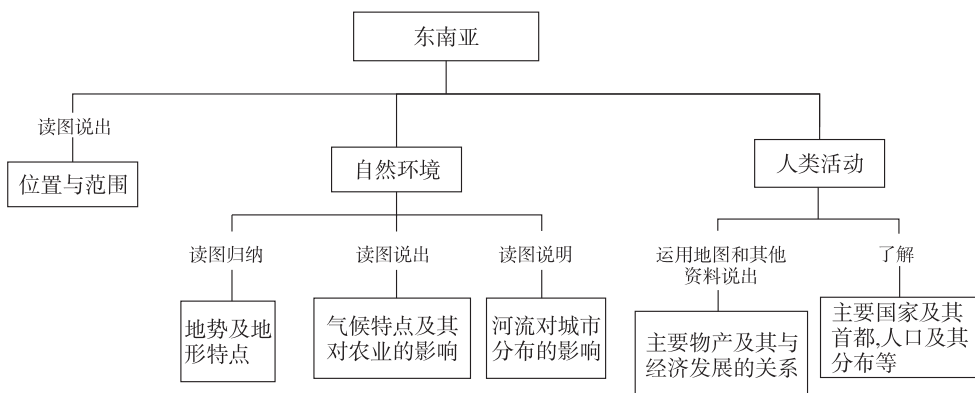
目前学术界普遍认同的结论是, 印第安人的祖先是来自亚洲跨越白令海峡到达美洲的, 亚洲的蒙古人种与美洲人祖先有渊源关系。

第七章 了解地区

第一节 东南亚

学习导航

学习要求



[情感态度和价值观]

通过本节学习，理解地理环境对人类生产活动的影响，初步树立因地制宜发展经济的意识。

[学习方法]

1. 学会归纳区域特征的方法：区域特征既包括地理位置、地形、气候、河流等自然地理要素的特征，也包括人口分布、产业活动等特征。
2. 学会判断东南亚的主要气候类型，分析气候成因及气候对农业生产的影响。

基础梳理

一、中南半岛与马来群岛

1. 中南半岛的地势大致_____，地形山河相间、纵列分布。河流上游蕴藏着丰富的_____资源。河流进入下游，水流平缓，泥沙沉积，形成_____。
2. 中南半岛大部分为_____气候，每年6月到10月盛行_____风，降水多，为_____季；11月到次年5月盛行_____风，降水偏少，为_____季。
3. 赤道横穿马来群岛中部，群岛大部分地区属于_____气候。

4. 东南亚是世界上人口稠密地区之一。人口集中分布在大河的_____、河口三角洲以及_____地带。

二、马六甲海峡

1. 东南亚地处_____与大洋洲、印度洋与_____的“十字路口”，是世界海洋运输和航空运输的重要枢纽。

2. 马六甲海峡位于_____半岛与_____岛之间，是沟通_____与印度洋的天然水道。

三、富饶的物产

1. _____是东南亚各国居民的主要粮食，也是主要的出口农产品。

2. 东南亚矿产资源丰富，印度尼西亚出口的主要矿产品是_____，泰国、马来西亚等国的_____产量居世界前列。

四、我国的近邻

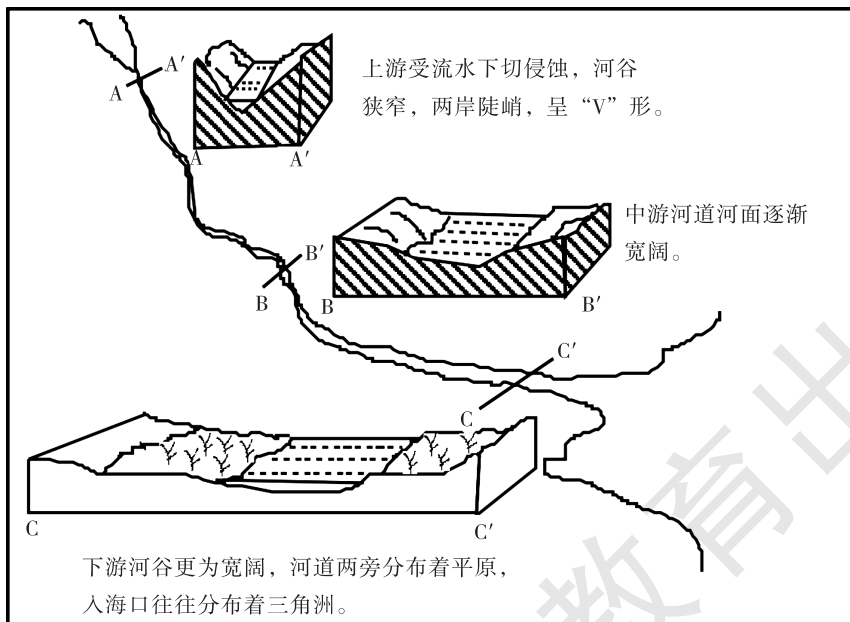
1. 湄公河在我国境内的名称叫_____，流经_____个国家，最后注入_____海洋。

2. 19世纪后期到20世纪初期，我国东南沿海一带大量劳动力“下南洋”谋生，他们中的大多数人及其后代取得了所在国的国籍，被称为_____，还有少数人保留了中国国籍，属于_____。



要点突破

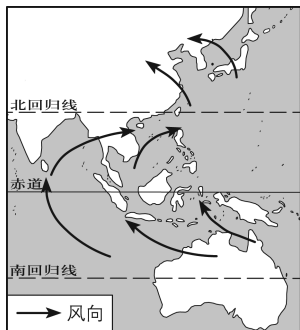
一、河流不同河段特征的比较



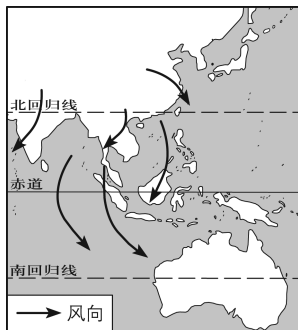
中南半岛上的河流上游流水侵蚀，河谷成V字形，两岸高山耸立，水流湍急，蕴藏着丰富的水能资源；中游河段河面逐渐展宽，水流趋缓；半岛上的河流下游河谷展宽，泥沙沉积，形成冲积平原。

二、中南半岛季风风向及其对降水的影响

7月份，北半球为夏季，陆地气温高，气压低；海洋气温低，气压高，风由海洋吹向陆地，形成夏季风，风向为西南风，降水丰富，为雨季。1月份，北半球为冬季，陆地气温低，气压高，风由陆地吹向海洋，形成冬季风，风向为东北风，降水较少，为旱季。



7月风向



1月风向

三、东南亚地质灾害多发的原因

1. 地处三大板块的交界处，地壳运动频繁；
2. 该区域为热带季风气候和热带雨林气候，年降水量大；
3. 多山地地形，地形起伏大；
4. 人口集中，人类活动破坏植被严重。



学法指导

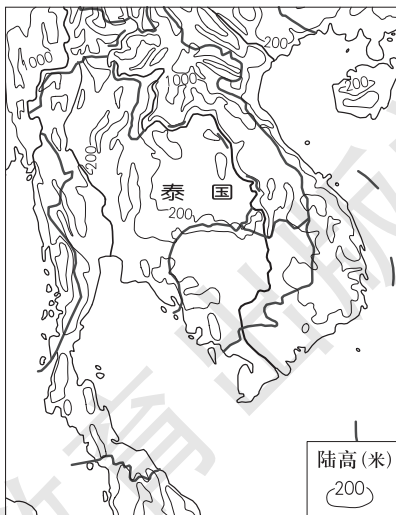
【例1】自2011年7月开始，泰国发生了持续3个多月的洪涝灾害，从气候与地形角度看，泰国洪涝灾害严重的原因有 ()

- ①热带季风气候，降水多且集中
 - ②热带雨林气候，终年多雨
 - ③中南部地势低平，积涝成灾
 - ④北部地势低平，排水不畅
- A. ①③ B. ②③
C. ②④ D. ①④

【思路分析】解题的关键是要知道该区域的气候类型以及根据等高线地形图判断出泰国的地形类型及地势特征。因为该区域为热带季风气候，夏季受西南季风的影响，降水丰富而且集中。由图可见，泰国南部的等高线海拔在200米以下，地形类型为平原，地势低平，排水不畅，容易积水，形成洪灾。

【答案】A

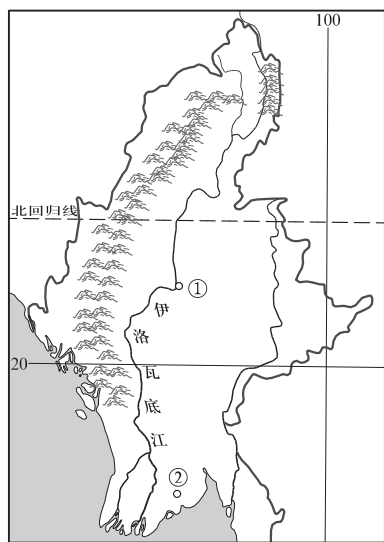
【思维诊断】洪涝灾害就是短时间内水量收入远大于水量支出，地表大量积水造成的。做



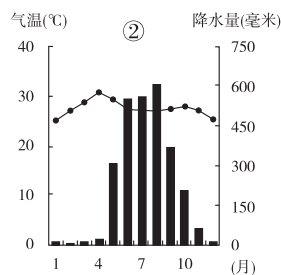
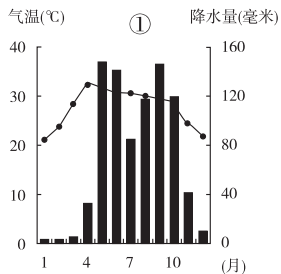
错的原因一方面是因为不知道该地的气候类型，错误地判断成热带雨林气候，因为热带雨林气候终年高温多雨，可能造成洪涝灾害，就可能错选②项。另一个原因是不会判读等高线地形图，不理解河流流向与地势之间的关系。河流总是由高处流向低处，可以判断泰国南北地势的差异，因为湄公河自北向南流，所以南部地势低平。

排除障碍的方法：总体上把握洪涝灾害的形成原因，学会从图像获取有效的地理信息。

【例2】图甲为缅甸部分区域示意图，图乙为图甲中①、②两地的气温和降水量图。比较①、②两地降水的异同点并分析原因。



图甲



图乙

【思路分析】本题考查学生的读图能力和运用影响降水因素知识的能力。题目要求比较①、②两地降水的异同点，应从①、②两地降水的相同点和不同点两个方面组织答案。读图可知，两地降水量都有明显的季节变化，有明显的干湿季，降水都集中在夏季，②地的降水量多于①地。影响降水的因素主要有大气环流和下垫面，从大气环流方面看，因该区域位于东南亚，夏季受来自印度洋的西南季风影响降水较多，冬季受来自陆地的东北季风影响降水较少；从下垫面看，②地距离海洋比①地近，而且①地位于河谷地区，受西部山地的阻挡，夏季降水较②地少。

【答案】相同点：年降水总量较丰富；降水量有明显的季节变化，降水集中在夏季。

不同点：②地比①地年降水总量更丰富。

原因：①、②两地夏季都受来自印度洋的西南季风的影响，冬季受来自内陆的东北季风的影响，年降水量丰富，降水集中在夏季。②地距离海洋比①地近，而且①地位于河谷地区，受西部山地的阻挡，所以①地比②地年降水总量少。

【思维诊断】该题最容易错答成①地降水量比②地多，出现的原因主要是只看到①地降水量的柱状比②地的长，而没有看到①地降水量对应的数值比②地对应的数值小。在分析①地降水量小于②地降水量原因时，容易漏答“①地位于河谷地区，受西部山地的阻挡”，出现的原

因主要是因为没有认真看图，没有从图上获取足够的信息，另一个原因就是影响降水量的因素没有掌握好。

排除障碍的方法：正确判读地理图像，学会简单的地理比较方法。

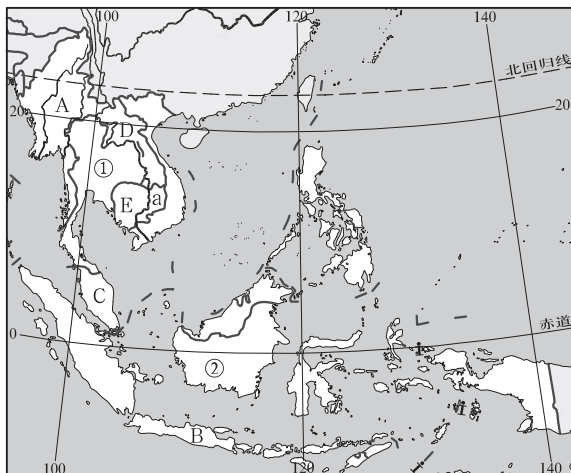


学习评价

达标检测

1. 东南亚的国家中，属于内陆国的是 ()
A. 越南
B. 老挝
C. 柬埔寨
D. 泰国
2. 湄公河在我国境内称为 ()
A. 红河
B. 怒江
C. 雅鲁藏布江
D. 澜沧江
3. 世界上火山最多的国家是 ()
A. 马来西亚
B. 日本
C. 印度尼西亚
D. 菲律宾
4. 泰国是世界上重要的稻米出口国，泰国的稻田主要分布在 ()
A. 湄公河三角洲
B. 湄南河三角洲
C. 伊洛瓦底江平原
D. 红河三角洲
5. 马来群岛的降水特点是 ()
A. 夏季多雨
B. 冬季多雨
C. 全年多雨
D. 全年少雨
6. 马六甲海峡沟通了 ()
A. 太平洋和大西洋
B. 大西洋和印度洋
C. 太平洋和印度洋
D. 太平洋和北冰洋
7. 马六甲海峡沿岸的三个国家是 ()
A. 印度尼西亚、马来西亚、新加坡
B. 印度尼西亚、马来西亚、菲律宾
C. 印度尼西亚、菲律宾、泰国
D. 马来西亚、菲律宾、缅甸
8. 东南亚重要的稻米出口国是 ()
A. 缅甸、马来西亚、菲律宾
B. 印度尼西亚、马来西亚、文莱
C. 泰国、马来西亚、菲律宾
D. 泰国、越南、缅甸
9. 在合作开发湄公河流域过程中，遭遇到的最大障碍应是 ()
A. 生态恶化
B. 资金短缺
C. 经济效益
D. 利益主权
10. 下列东南亚国家中，北回归线穿过的是 ()
A. 越南
B. 老挝
C. 缅甸
D. 柬埔寨

11. 读下图，回答问题。



(1) 图中 100°E 经线与赤道交于_____岛，该岛北面为_____海峡。

(2) 填写图中字母所代表的国家名称：

A _____， B _____， C _____， D _____， E _____。

其中最大的群岛国家是_____；唯一的内陆国家是_____。

(3) 图中 a 河流名称为_____，在中国境内的名称是_____，注入_____洋。

(4) 填下表，对比①、②两区域地理环境的差异：

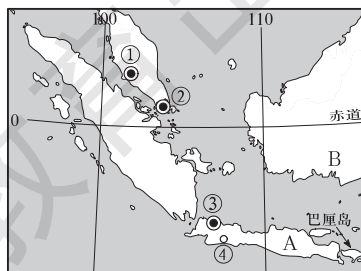
	①_____半岛	②_____群岛
气候	以_____气候为主	以_____气候为主
地形	处于中国_____山脉延伸段，山河相间，纵向排列；河口多_____（地形）	处于板块交界处，多_____（地质灾害）
物产	主要粮食作物：_____	主要热带作物：_____等
人口、城市	多分布在_____地区	多分布在_____等

12. 阅读材料，回答下列问题。

新华网 印度尼西亚巴厘岛 2007 年 12 月 15 日联合国气候变化大会产生了“巴厘岛路线图”，这张路线图为 2009 年前应对气候变化谈判的关键议题确立了明确议程。

(1) 巴厘岛不具有的旅游自然风光是 ()

- A. 热带雨林葱郁
- B. 温暖的海洋环境
- C. 奇特的火山群
- D. 蜿蜒曲折的峡湾海岸



(2) 印度尼西亚大力鼓励 A 岛人口向 B 岛移民, 因为这样有利于缓解 A 岛过大的_____压力, 促进 B 岛的经济开发与发展, 实现本国_____的平衡发展。

(3) 图中代表新加坡的是_____, 新加坡经济发展的不利条件主要表现在地狭人稠, 资源缺乏。有利条件主要有地处_____海峡东口, 是太平洋与_____洋航道上的“咽喉要道”, 且港阔水深, 交通便利; 处于物产丰富的_____中心位置, 有利于转口贸易和_____的发展; 且风景优美, 服务周到, 有利于_____发展。

提高训练

13. 2012 年 5 月, 某地一个经贸代表团赴东南亚采购货物, 下列产品最有可能出现在订货合同中的是 ()

- A. 棉花、小麦
B. 天然橡胶、棕榈油
C. 蔬菜、牛奶
D. 铁矿石、电脑软件

小明暑假随父母到东南亚的越南、缅甸、泰国、印度尼西亚四个国家旅游。这次旅游他获得了以下两点深刻的感受: ①东南亚的城市大多分布在河流沿岸, ②有的地方每天下午基本上有一场雨。据此回答 14~15 题。

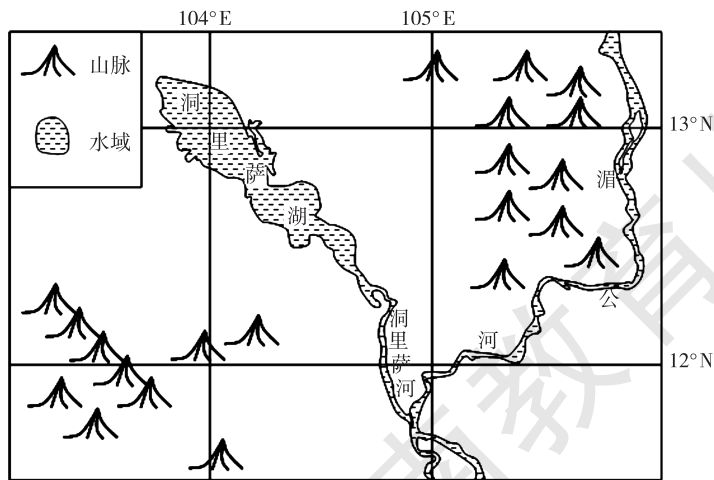
14. 对东南亚城市沿河分布的原因进行探索后, 小明得出如下结论, 你认为其中起主导作用的是 ()

- A. 河流沿岸地形平坦, 为城市提供建设用地
B. 河流沿岸形成的冲积平原土地肥沃
C. 河流是水运通道, 为城市对外交通提供方便
D. 河流是重要的水源地, 为城市提供用水

15. 小明获得“每天下午基本上有一场雨”的感受可能是在 ()

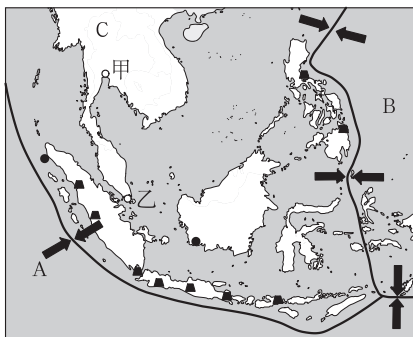
- A. 越南
B. 缅甸
C. 泰国
D. 印度尼西亚

16. 洞里萨湖是东南亚最大的淡水湖, 通过洞里萨河与湄公河相连。图中洞里萨湖面积在一年内有明显的季节变化, 面积最大的时间最可能为 ()

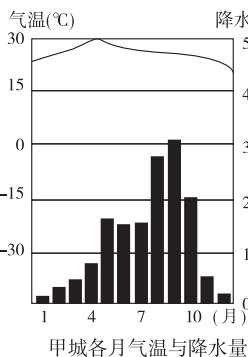


- A. 3—5 月份
B. 6—9 月份
C. 10—12 月份
D. 1—3 月份

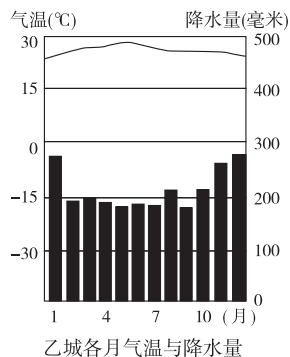
17. 下面是东南亚板块活动与火山、地震分布图和城市甲、乙的气候要素统计图。据图回答问题。



东南亚板块活动与火山、地震分布



甲城各月气温与降水量



乙城各月气温与降水量

(1) 填写图中板块名称：A _____，B _____，C _____。

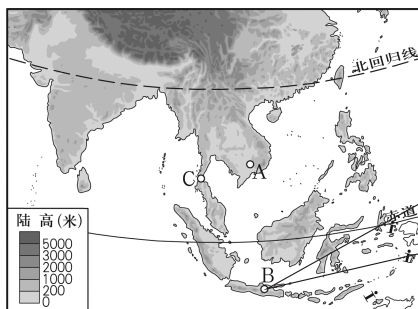
(2) 简析东南亚地区地质灾害频繁发生的主要原因。

(3) 根据图中甲、乙两城市的相关信息，完成下表内容。

城市代号	气候类型	两种气候特征异同比较	
		相同点	不同点
甲			① ②
乙			

拓展探究

18. 根据下列材料回答问题。



亚洲部分地区地形图



B地传统民居

(1) A 所在半岛地势的特点为 _____，河流流向 _____ 流。

(2) B 地的传统民居与地理环境之间的关系密切，该地终年 _____，高架屋具有良好的 _____ 等功能，适应当地的气候环境。

(3) A地所在国非常重视农田水利建设, 主要是因为该国以_____气候为主, 干湿季明显; 干季需要_____; 中下游为平原地形, 地势低平, 雨季需要_____; 上游为_____地形, 适宜建水库。

(4) 在C处修建地峡运河对我国有重要意义, 我国联系中东、非洲地区的线路主要是_____海峡航线, 地峡运河航线比该海峡航线_____, 可节省运输时间和运费; 可摆脱过分依靠该海峡航线的局面, 确保我国_____运输的安全。



十分钟反思提升

题号	训练点	反思与提升点
1	内陆国的判断	知道判断内陆国依据了吗
4	主要河流的分布	了解中南半岛主要河流的分布及水文特点了吗
12	区域的自然特征判断	知道该区域的地形、气候、生物等自然环境的特点了吗
13	东南亚的物产	知道东南亚的特色物产吗
14	河流对城市分布的影响	河流对城市形成和发展具有哪些作用
15	热带雨林气候	理解热带雨林气候的降水特点吗
16	热带季风气候	知道热带季风气候的雨季时间吗
17	东南亚的自然灾害	知道东南亚地质灾害发生的主要原因吗? 能根据气候统计资料判断气候类型和气候特征吗
18	自然环境对人类活动的影响	能说出气候影响对人类活动有哪些方面的影响吗? 人类如何因地制宜安排经济活动
错题序号	错误原因剖析	



知识链接

火山活动对人类的害与利

火山爆发能产生地震, 或者引起海啸, 造成人畜的伤亡、建筑物的损坏。火山喷出的熔岩虽然流得较慢, 一般情况下人们可以避免它。但是城市、村庄、田园无法带走, 人们常眼睁睁地看着它来侵占和毁坏。熔岩堵塞河道, 使河水泛滥成灾。

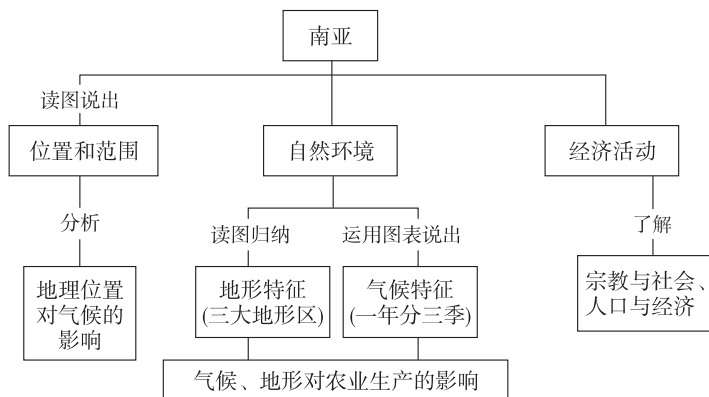
火山活动既然对人类有许多危害, 按理说人们应该远远避开它才对。可令人奇怪的是偏偏在很多火山附近, 人口特别多。原来, 火山喷发出来的火山灰是很好的天然肥料, 火山灰中含有植物生长所需要的成分。日本富士山地区的桑树长得特别好, 维苏威火山地区则盛产葡萄, 就与火山灰有关。火山地区景象奇特, 往往成为旅游胜地, 如日本的富士山, 中国的五大连池。火山活动有时能形成矿产, 如墨西哥和意大利盛产硫磺与那里的火山活动有关, 南非著名的金刚石矿, 就是在古老的火山喉管中找到的。

第二节 南 亚



学习导航

学习要求



[情感态度和价值观]

印度河下游是古印度文明的发源地，由于古代人们对森林的大量砍伐使其退化形成沙漠。通过该部分内容的学习，逐步树立环境保护意识，以实际行动保护自然环境。

[学习方法]

1. 逐步学会表述区域地理环境的方法，知道区域自然环境的特征主要从地形、气候、河流等方面描述。
2. 学会从影响降水的因素探讨南亚降水的时空分布特点。
3. 掌握绘制地形剖面图的基本方法。

基础梳理

一、位置与国家

南亚是指位于亚洲南部_____山脉中、西段与印度洋之间的地区，东濒_____湾，西濒_____海。包括7个国家，其中_____、不丹为内陆国，斯里兰卡和_____为岛国，其他为沿海国家。

二、三大地形区

1. 南亚因_____山脉等高大山体而与亚洲其他地区隔开，形成一个相对独立的地理单元。因为它的面积小于大陆，所以被称为_____。
2. 南亚次大陆地形分为三部分，北部为_____地形，分布着喜马拉雅山脉；中部为平原地形，主要包括_____平原和_____平原；南部为高原地形，分布着_____高原，该高原东

西地势高，中部地势低。

3. 南亚地区主要分布着印度河、恒河、布拉马普特拉河三条河流，都发源于北部的喜马拉雅山脉，布拉马普特拉河在我国境内称_____江。恒河流入_____湾，印度河流入_____海。

三、南亚气候

1. 南亚大部分地区夏季盛行_____季风，冬季盛行_____季风，大部分地区属热带季风气候，当受夏季风影响时降水_____，受冬季风控制时降水稀少，降水量有明显的季节变化。

2. 南亚热带季风气候的特征是一年分为三季。每年_____月到_____月为雨季，从11月到次年2月为_____季，3月到5月为_____季。

3. 由于_____季风进退时间和强弱程度不一，因而降水季节变化大，容易发生_____灾害，给农业生产造成损害。

四、宗教与社会

南亚既是世界古文明发源地之一，又是_____、_____等宗教的发源地。印度大多数人信奉_____教，巴基斯坦以_____教为国教。

五、人口与经济

1. 南亚人口密集，人口超过1亿的国家有印度、_____和_____。

2. 南亚各国经济以_____为主。南亚的粮食作物以_____种植为主，其次是小麦。黄麻以_____地区种植面积最广，棉花主要分布在_____西部地区。



要点突破

一、西南季风对南亚农业生产的影响

西南季风对南亚的农业生产有重要的影响，它来得早晚或风力强弱，都对降水有很大的影响。西南季风来得晚，或退得早，或风力太弱，雨水就不足，易造成旱灾；它来得早，或退得晚，或风力太强，雨水就过多，易造成水灾。一般农作物是雨季播种，旱季收获。

二、南亚水旱灾害频繁的原因

南亚地区受其所处的地理位置、地形、气候及河流状况的影响，水旱灾害频繁，具体原因如下：

1. 地理位置的影响：南亚地处热带，半岛伸入印度洋，大气运动强烈，同时水汽来源充足，易形成较多的降水。

2. 地形地势的影响：南亚北部山地、中部平原，印度洋来的水汽被地形抬升，形成地形雨，雨水大部分汇集到中部的平原地区，造成汇水区域过于集中，而地势较高地区的雨水需求难以满足。

3. 气候的影响：南亚大部分地区为热带季风气候，降水集中于6—10月，其他月份降水较少，6—10月易出现洪灾，而其他月份易形成旱灾。

4. 河流状况的影响：南亚地区的河流较少，主要是印度河、恒河，分洪泄洪的能力较差，

造成径流变化大，汛期水量过大，旱季水量又不足。

其中孟加拉湾洪涝灾害最为突出，其原因主要有：地势北高南低，处于西南季风迎风坡，多地形雨；孟加拉湾夏秋季节飓风频发；南部恒河三角洲地势低洼，排水不畅；地处孟加拉湾顶端，受海潮影响不利于洪水入海。



学法指导

【例1】据联合国粮农组织表示，2009年印度稻米产量可能减少3.55%，引起印度水稻减产的最可能原因是 ()

- A. 水土流失导致土壤肥力下降
- B. 城市化导致耕地面积减少
- C. 饮食习惯改变导致市场需求量变少
- D. 季风不稳定导致水旱灾害频发

【思路解析】上述四个方面都可能导致粮食减产，但人们的饮食习惯不会在2009年发生突然变化，使得市场需求量突然减少。水土流失和城市化等导致的土壤肥力下降及耕地面积减少，也不足以使粮食减产3.55%。

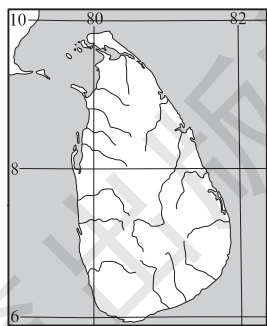
【答案】D

【思维诊断】这道题目学生最易错选B选项，因为城市化的推进会占用大量的农田，致使耕地面积减少，导致粮食总产量下降。错选的一个原因是没有认识到“产量可能减少3.55%”已经是一个很大的比例了，2009年一年城市化不会使耕地面积减少得这样多。另一个原因就是西南季风对南亚农业生产的影响这一知识点没有掌握好。

排除障碍的方法：正确体会题意，关注时间（或地点）和数据等限制条件所反映的特殊含义。正确把握西南季风对南亚农业生产的影响：西南季风来得晚，或退得早，或风力太弱，雨水就不足，易造成旱灾；它来得早，或退得晚，或风力太强，雨水就过多，易造成水灾。

【例2】右图是某岛国位置示意图，下列关于该岛国的说法正确的是 ()

- A. 该岛国地处太平洋
- B. 地势中间低，四周高
- C. 东侧夏季降水丰富
- D. 西侧夏季降水丰富



【思路解析】解答该题的关键是根据经纬度或岛屿形状，判断出该岛国所属的区域。该岛位于南亚地区，应地处印度洋，为季风气候区，夏季受西南季风影响，西侧是夏季风的迎风坡，夏季降水丰富；东侧是冬季风的迎风坡，冬季降水量较丰富。根据河流的形状可以判断出该岛屿地势中间高，四周低。

【答案】D

【思维诊断】本题答错的原因主要有：区域位置不清楚，不能根据经纬网及岛屿形状判断岛屿所属区域，以至于无法调动储备的知识；不熟悉该岛屿的气候类型，不知道该区域冬季受东北季风影响，夏季受西南季风控制；不能根据河流的流向判断地势的高低。综上所述以至于

不能做出正确的判断。

排除障碍的方法：多看地图，认识重要地理事物的空间位置特征；学会分析地理要素之间的空间联系，如本题中河流分布与地形地势的空间关系；正确把握南亚季风气候的特征。



学习评价

达标检测

1. 南亚的两个岛国是 ()
A. 印度和巴基斯坦
B. 孟加拉国和印度
C. 马尔代夫和斯里兰卡
D. 尼泊尔和巴基斯坦
2. 下列南亚的国家中，位于内陆山区的是 ()
A. 尼泊尔
B. 斯里兰卡
C. 马尔代夫
D. 孟加拉国
3. 发源于南亚的宗教是 ()
A. 印度教和伊斯兰教
B. 佛教和印度教
C. 犹太教和基督教
D. 基督教和伊斯兰教
4. 巴基斯坦重要的灌溉水源是 ()
A. 尼罗河
B. 恒河
C. 印度河
D. 湄公河
5. 南亚地区自北向南依次出现的地形类型是 ()
A. 山地、高原、平原
B. 平原、高原、山地
C. 山地、平原、高原
D. 平原、山地、高原
6. 关于南亚气候的叙述，正确的是 ()
A. 南亚大部分地区位于热带，多属热带季风气候
B. 南亚大部分地区位于热带，多属热带雨林气候
C. 南亚各地受东南季风影响大，降水量很大
D. 南亚降水的季节分配均匀，降水量年际变化大
7. 南亚热带季风气候区的雨季发生在 ()
A. 3—5月
B. 6—9月
C. 10—12月
D. 1—2月
8. 巴基斯坦的居民大多信奉 ()
A. 印度教
B. 佛教
C. 基督教
D. 伊斯兰教
9. 南亚是一块充满神奇的土地，曾经孕育了世界古文明。下列叙述错误的是 ()
A. 南亚地形分布特点是北部山地、中部平原、南部高原
B. 印度是南亚经济发展最快的国家
C. 南亚的农作物主要有水稻、小麦、黄麻、棉花等
D. 印度河主要流经印度，恒河主要流经巴基斯坦

亚洲某地（约 27°N，86°E），蓝天与白云交织，雪山与湖泊辉映，据此回答 10~12 题。

10. 该地的相对地理位置位于 ()

- A. 喜马拉雅山脉南侧
- B. 德干高原北部
- C. 阿拉伯海沿岸
- D. 地中海沿岸

11. 该地属于亚洲地理分区中的 ()

- A. 中亚
- B. 南亚
- C. 西亚
- D. 东南亚

12. 具有南亚文化圈独特风情的服饰是 ()

- A. 和服
- B. 纱丽
- C. 阿拉伯长袍
- D. 旗袍

13. 读南亚地图，完成下列要求。

(1) 填出国家名称：

A _____， B _____，
C _____， D _____。

图中人口超过 1 亿的国家有：_____。

(2) 城市：

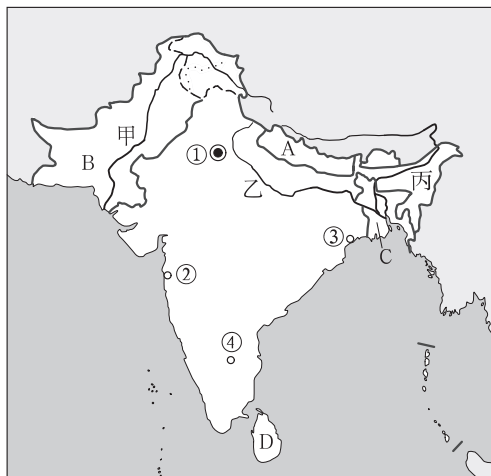
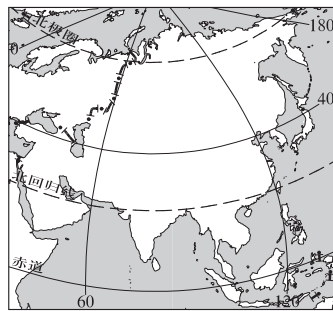
①是 _____， ②是 _____， ③是 _____。

④是 _____， 这个城市坐落在 _____ 高原上，以 _____ 产业为主。

(3) 甲是 _____ 河，发源于 _____，注入 _____ 海。乙是 _____ 河，发源于 _____，注入 _____

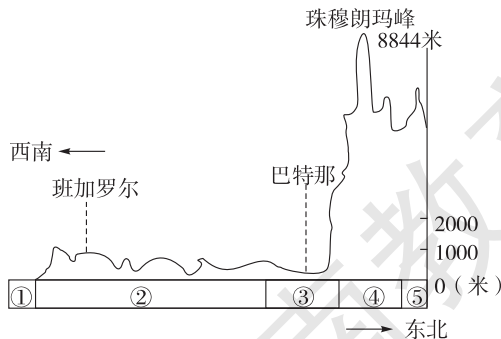
湾。丙是 _____ 河，其上游河段在中国境内叫 _____ 江。

(4) 甲河流域附近分布的沙漠叫 _____ 沙漠。



提高训练

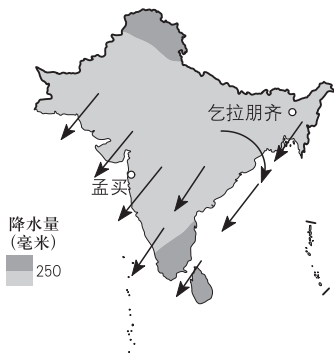
14. 读南亚地形剖面图，回答下列问题。



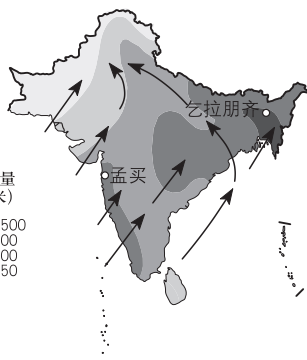
(1) 按高中低纬度的划分，南亚大部分地区处于 _____ 纬度地区。

- (2) 图中数码②代表的是_____高原；③处河流的三角洲盛产_____。
- (3) 恒河注入_____（海域），每年的_____月河流水位较高。
- (4) 说出南亚的地形分布的特点_____。

15. 读下面两幅南亚风向与降水量分布图，回答问题。



图A 10—次年5月降水量分布



图B 6—9月降水量分布

- (1) 在A图中，南亚地区的主要风向是_____，此时为南亚地区热、雨、凉三季中的_____季。
- (2) 在B图中，南亚地区的主要风向是_____，此时为南亚地区热、雨、凉三季中的_____季。
- (3) 南亚降水量最多的地方是_____，造成该地降水量极为丰富的主要原因是_____。
- (4) 为什么北方冷空气难以侵入到南亚次大陆：_____。

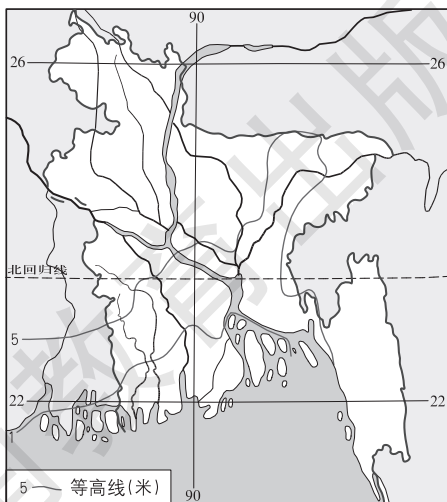
拓展探究

16. 右图为南亚某国简图，读图并结合所学知识回答问题。

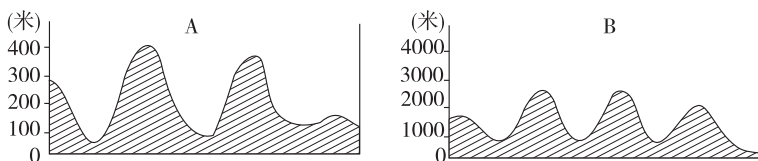
(1) 该国南部海域属于_____洋。该国地形、地势的基本特点是以_____地形为主，地势低平，_____高_____低。

(2) 从地理位置看，该国属于_____气候，这种气候的特点是_____。

(3) 该国气候、地形对发展该类型农业有不利影响，主要表现为雨季降水_____，地面低平排水不畅，形成_____；如果雨季来得迟、去得早，易形成_____。

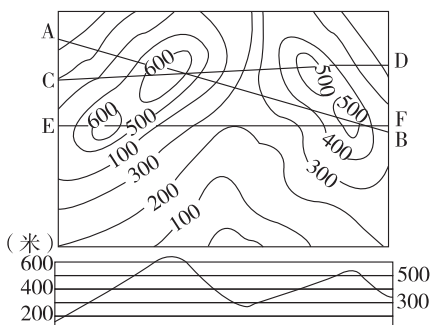


17. 剖面图要与平面图对照，这样才能真正领会地形剖面图反映的地形特征。根据材料，回答下列问题。



(1) 上面地形剖面图是根据等高线图中的哪一条剖面线画出来的？

(2) 上面两幅剖面图的水平比例尺相同，其中哪一幅剖面图所反映的地势起伏大一些？答：_____。



十分钟反思提升

题号	训练点	反思与提升点
5	南亚的地形	知道南亚主要地形的分布特点吗
6	南亚地区的气候类型及其特点	掌握南亚地区的气候类型、分布、特点了吗
7	热带季风气候的降水季节分配	知道热带季风气候降水季节及成因了吗
10	地理位置判断	能根据经纬度在地图中描点吗
16	气候对农业生产的影响	季风气候的降水季节变化对农业生产有何影响
17	等高线地形图与剖面图的转换	如何把等高线图转换成剖面图
错题序号	错误原因剖析	

知识链接

印度计算机软件产业

目前印度已形成了相当规模、轻重工业都较发达的工业体系。目前，航空航天及计算机软件等高科技产业的发展令世界瞩目，其原因分析如下：

印度曾为英国殖民地，英语成为其第二语言，并且普及率高，借助该优势，可畅通地从发达国家取得高技术信息，加强了信息交流。

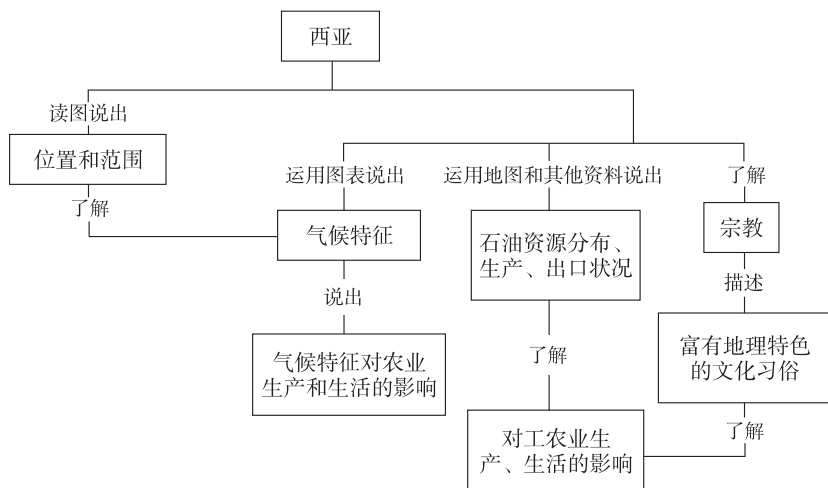
印度的“强国梦”使政府非常重视科学技术人才的培养和储备。经过几年的发展，印度的科技人员数量已仅次于美国、俄罗斯位居世界第三，班加罗尔已成为全球第五大信息科技中心和世界十大“硅谷”之一。

第三节 西 亚



学习导航

学习要求



[情感态度和价值观]

初步形成全球意识，正确看待和使用资源，逐步形成可持续发展的意识；从西亚最具特色的节水农业中，获取适宜我国农业发展的经验。

[学习方法]

1. 运用地图和资料，指出某一地区对当地或世界经济发展影响最大的一种或几种自然资源，说出其分布、生产、出口状况等情况。
2. 运用图表能够说出某一地区气候的特点以及气候对当地农业生产的影响。
3. 能够运用资料描述某一地区富有地理特色的文化习俗。

基础梳理

一、五海三洲之地

1. 西亚地处_____三大洲的交界地带，介于阿拉伯海、红海、_____、黑海和里海之间，被称为“五海三洲之地”。
2. 波斯湾又称海湾，它的沿岸和海底蕴藏着丰富的_____资源。波斯湾海上的唯一出口是_____海峡，每年有大量的石油从这里运出。因此该海峡被称为_____。

二、干旱环境中的农牧业

1. 西亚气候炎热干燥，_____面积广大，很多地区降水量不足 200 毫米。受降水条件影响，本区域无流区面积广大，河流稀疏，除_____河与底格里斯河外，多为短小河流。

2. 在干旱的自然环境条件下，_____是西亚许多国家传统的经济部门。_____平原也叫两河平原，是西亚主要的灌溉农业区。

三、世界石油宝库

1. 西亚石油资源极其丰富，约占世界石油总储量的一半以上，以_____为中心形成一个巨大的石油带。

2. 西亚开采的石油绝大部分供出口，大部分石油由波斯湾的港口装上油轮，经过非洲南端_____，或经红海、_____运河、地中海运往西欧和北美；往东经_____海峡运往日本。

四、阿拉伯国家

1. 一般把阿拉伯人占多数的国家称为_____国家。西亚是世界上_____人的主要聚居地区之一。

2. 西亚是伊斯兰教、_____、犹太教等世界性和地区性宗教的发源地，沙特阿拉伯的麦加城是伊斯兰教的创始人_____的诞生地。



要点突破

一、干旱气候条件对农业生产的影响

西亚地区多为热带沙漠气候，全年炎热少雨，对农作物的生长影响很大。受气候影响，灌溉农业地位重要。耕地集中在河谷和绿洲地带，山地、高原的草原牧场以畜牧业为主。农产品自给率低，成为世界农牧产品主要进口区之一。但干旱地区光照强，气温日较差大，白天光合作用强，晚上呼吸作用弱，有利于营养物质的积累。

二、西亚地区干旱环境下的河流特点

河流短小，河网稀疏，多为内流河，主要靠冰川融雪水补给，河流流量小，季节变化显著。

三、世界最大的石油宝库

地位：以波斯湾为中心形成一个巨大的石油带，探明储量约占世界石油总探明储量的一半以上，产量通常占世界石油总产量的 1/4，出口量约占世界石油出口总量的 3/5。

特点：储量大、埋藏浅、油质好、易开采。

主要生产国：沙特阿拉伯、伊朗、伊拉克、科威特和阿拉伯联合酋长国等。

出口方向：西欧以及美国、日本等国家。大部分由波斯湾的港口装上油轮，经过非洲南端好望角，或经红海、苏伊士运河、地中海运往西欧和北美；往东经马六甲海峡运往日本。

影响：石油作为世界主要能源，它不仅影响着世界经济的发展，而且影响着世界政治、军事和环境等各个领域。

2. 下列有关西亚农牧业的叙述, 错误的是 ()
- A. 气温高是制约西亚农牧业发展的唯一条件
- B. 阿富汗、伊朗等国重要的出口商品是羊毛和地毯
- C. 西亚农业多为节水灌溉农业
- D. 西亚的灌溉农业区主要位于两河平原
3. 有关西亚社会情况的介绍, 正确的是 ()
- A. 西亚是基督教、伊斯兰教和佛教的发源地
- B. 耶路撒冷和麦加都是伊斯兰教的圣城
- C. 西亚多为阿拉伯人, 人种为黄色人种
- D. 世界上规模最大的清真寺位于地中海滨的耶路撒冷
4. 有关西亚国家位置的叙述, 正确的是 ()
- A. 沙特阿拉伯占据了整个阿拉伯半岛
- B. 伊朗和伊拉克扼守着波斯湾的唯一出口——霍尔木兹海峡
- C. 土耳其的领土全部位于亚洲境内
- D. 西亚东部的阿富汗与我国相邻
5. 下列西亚国家中, 不濒临波斯湾的一组是 ()
- A. 伊朗和沙特阿拉伯
- B. 阿曼和科威特
- C. 叙利亚和土耳其
- D. 卡塔尔和阿拉伯联合酋长国
6. 世界上阿拉伯人的主要聚居地区之一是 ()
- A. 西亚
- B. 东南亚
- C. 南亚
- D. 欧洲西部
7. 通过苏伊士运河最多的能源或矿产是 ()
- A. 铁矿石
- B. 铜矿石
- C. 石油
- D. 煤炭
8. 下列有关西亚地理景象的叙述, 不可信的是 ()
- A. 悬挂美国、日本国旗的油轮在波斯湾沿岸港口来来往往
- B. 穿白袍缠白头巾的白种人在麦加的清真寺里诵读《古兰经》
- C. 阿拉伯半岛有很多“高架屋”, 居民乘着雪橇出行
- D. 沙漠里发现高耸的井架, 绿洲上生长着茂盛的枣椰树
9. 西亚面积最大的国家是 ()
- A. 沙特阿拉伯
- B. 伊朗
- C. 土耳其
- D. 阿富汗
10. 小丽的爸爸从国外打工回来, 他说: “这个国家的淡水比石油还宝贵。”这个国家可能是 ()
- A. 印度
- B. 沙特阿拉伯
- C. 日本
- D. 美国

和阿拉伯联合酋长国等。

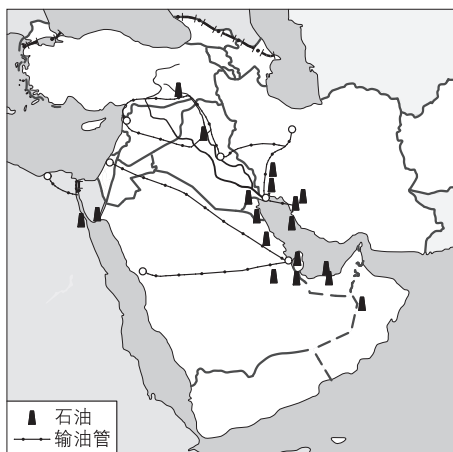
(3) 若有两艘满载 50 万吨原油的油轮从波斯湾分别驶往美国的旧金山和纽约, 请将沿途经过的主要海峡和大洋填在下面的空格中:

①波斯湾→_____海峡→_____洋
→_____海峡→_____洋→旧金山;

②波斯湾→_____海峡→_____洋
→_____角→_____洋→纽约。

(4) 西亚石油主要输往的国家中, 有美国、
_____和_____地区的国家。

(5) 西亚石油输出一向以_____运输为主, 其次还有_____运输。



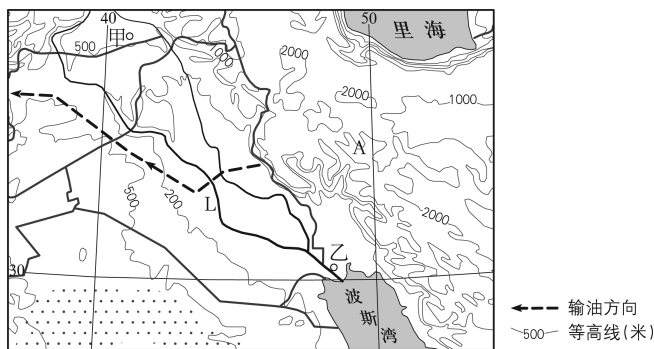
拓展探究

16. 根据材料完成下列各题。

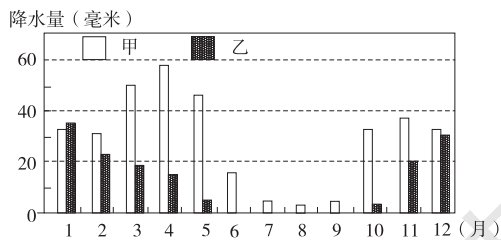
材料一 世界某区域图 (图 a)。

材料二 甲、乙两城市的月平均降水量资料 (图 b)。

材料三 图 c 为枣椰树, 其果实椰枣含糖率高, 营养丰富, 果实产量高, 既可做粮食, 又是制糖、酿酒的原料。



图a



图b



图c

(1) 写出 A 国名称: _____, 判断 A 国的主要地形类型: _____。

(2) 比较甲、乙两个城市降水的相同点: 两个城市降水总量都较_____ (多或少), 降水量都有明显的_____变化, _____季降水多; 不同点: _____城市降水多。

(3) L 河中下游流域地区是世界上最大的枣椰产区, 推测枣椰的生长习性。_____。

(4) 根据相关资料, 推断 L 河的汛期出现在_____季。



十分钟反思提升

题号	训练点	反思与提升点
1	西亚地理位置	知道“五海三洲”是哪五海, 哪三洲吗
2	西亚的农业特点	气候对农业生产有何影响
10	西亚河流特点	气候对河流的水文特点有何影响
15	西亚石油生产与运输路线	对西亚石油出口的方向和运输路线掌握了吗
16	考查阅读图表的能力	学会从图表中获取有效地理信息了吗
错题序号	错误原因剖析	



知识链接

喷灌和滴灌节水技术

喷灌是喷洒灌溉的简称。它是利用专门的系统(动力设备、水泵、管道等)将水加压(或利用水的自然落差加压)后送到喷灌地段, 通过喷洒器(喷头)将水喷射到空中, 并使水分散成细小水滴后均匀地洒落在田间进行灌溉的一种灌水方法。

喷灌与地面灌水方法相比, 具有以下优点:

1. 节水。由于喷灌可以控制灌水量和均匀度, 所以喷灌不会产生深层渗漏和地表流失, 灌水也比较均匀。据试验, 一般喷灌地比地面灌节水 30%~50%, 灌水均匀度可达 80%~90%。

2. 适用范围广。无论是小麦、玉米、水稻、棉花、大豆等大田作物, 还是蔬菜、瓜果等经济作物, 都可以采用喷灌。喷灌不要求地面十分平整, 这对不适合地面灌的山地、丘陵、坡地等地形复杂的地区和砂性土壤地区, 发展农田灌溉十分有利。

3. 省工、省地。由于喷灌机械化程度高, 又便于采用小型电子控制装置, 所以劳动生产效率高。若喷灌结合施肥、喷药, 节省劳力就更为显著。采用喷灌可大大减少沟、渠、畦、埂占地, 可以腾出 7%~13% 的土地种植作物。

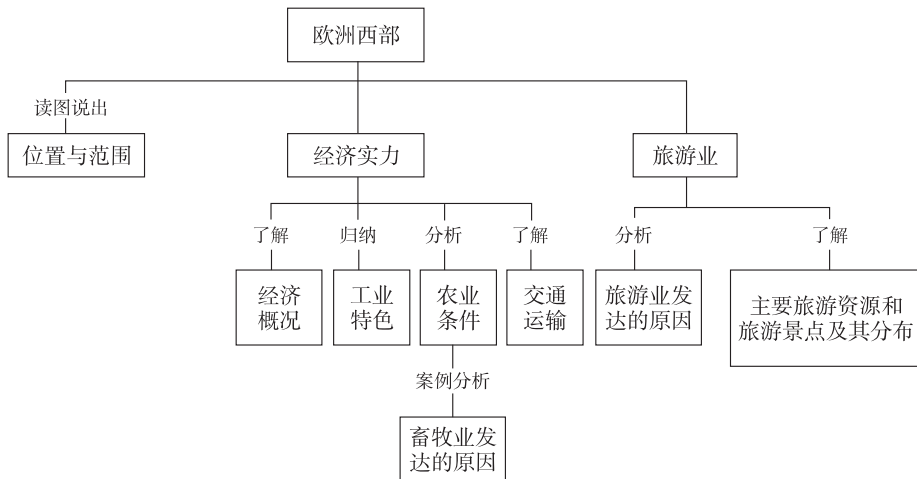
喷灌也有其局限性, 一是受风的影响大, 一般在 3~4 级风时应停止喷灌。二是直接蒸发损失大。尤其是在旱季, 水滴落地前可以蒸发掉 10%。因而宜在夜间风力小时进行喷灌。三是在喷灌强度小、土壤入渗低时, 可能出现土壤底层湿润不足情况。

滴灌是利用安装在末级管道(称为毛管)上的滴头, 或与毛管制成一体的滴灌带, 在一定压力下使水以水滴或连续细小水流湿润土壤, 滴灌流量一般为每小时 2~12 升。滴灌节水的关键是滴灌的水滴能有效地湿润作物根部, 并满足作物连续的需水要求, 减少地表蒸发和地下渗漏。

第四节 欧洲西部



学习导航



学习要求

[情感态度和价值观]

通过了解欧洲西部的自然景观、人文景观，激发探究性学习的兴趣，开阔学生眼界。

[学习方法]

1. 在地图上找出欧洲西部的位置、范围，读图说出该地区地理位置的特点。
2. 运用资料分析欧洲西部畜牧业发达的原因。
3. 举例说出欧洲西部发展旅游业的优势。

基础梳理

一、范围与国家类型

欧洲西部是指欧洲的_____部，从经济发展水平上看，大多数国家属于_____国家。

二、地理位置特点

纬度位置：大部分位于_____带和_____纬度地区。

海陆位置：亚欧大陆西部，北临_____洋，西临_____洋，南临_____海。

三、雄厚的经济实力

1. 欧洲西部是_____的发源地，目前经济发展水平居各大洲_____。农业在欧洲西部经济中所占比重较小，但是生产水平_____，_____业和_____业结合较好。_____国、_____国、_____、_____等国都有发达的农牧业。

2. 欧洲西部已经形成庞大的_____运输网络, 铁路、公路、海运、内河航运和航空都非常发达。

3. 欧洲部分国家的特色产业:

“钟表王国”指_____ ; 瑞典的_____业、_____和机器制造业等在国际上享有盛誉。

有“欧洲的牧场和食品库”之称的是_____ ; _____的人均水产品产量居世界首位; _____以花卉种植业发达而著称, 尤其以_____驰誉世界。

四、繁荣的旅游业

_____、_____、_____是世界著名的旅游大国。有千年古都_____、音乐之都_____、艺术之都_____。有“世界公园”之称的是_____ (国家)。



要点突破

一、欧洲西部畜牧业发达的原因分析

1. 自然条件: 地处中高纬度地区, 冷湿的气候不利于谷物的生长, 而广阔的平原和温暖湿润的海洋性气候有利于多汁牧草的生长。

2. 社会经济条件: 经济发达, 人口稠密, 城市集中, 居民多有食乳肉的习惯, 市场广阔; 便利的交通运输又为畜牧业的发展提供了有利的条件。

二、欧洲西部发展国际旅游业的优势

1. 丰富的旅游资源: 欧洲西部自然风光旖旎; 欧洲西部历史悠久, 文化底蕴深厚, 人文旅游资源丰富且质量高。

2. 广阔的客源市场: 欧洲西部经济发达, 居民收入高, 假期多, 成为主要旅游者, 客源市场距离近, 游客众多。

3. 便利的交通条件: 欧洲西部已经形成庞大的交通运输网络, 铁路、公路、海运、内河航运和航空都非常发达, 为旅游活动开展提供便利交通。

4. 优质的接待服务: 欧洲西部地区经济发达, 各项配套服务设施齐全, 服务质量高, 接待能力强。



学法指导

[例 1] 下列关于欧洲西部的叙述, 错误的是 ()

- A. 人口自然增长率低, 人口稀少 B. 绝大部分国家都是发达国家
C. 是世界上工业发达的地区之一 D. 乳肉畜牧业发达

【思路分析】 此题考查的是欧洲西部的人文地理特征。欧洲西部地区是指欧洲的西半部, 这里虽然人口自然增长率低, 但人口稠密, 该地区国家众多, 绝大多数都是发达国家, 目前这里是世界上工业发达的地区之一, 生产的产品出口到世界各地, 受地形和气候的影响, 这里乳肉畜牧业十分发达。

[答案] A

【思维诊断】对“人口增长率”和“人口数量”概念模糊及其相互联系不清楚是产生错误判断的主要原因。

排除障碍的方法：理解人口增长率反映的是人口总量的变化趋势，而对人口数量的影响是缓慢的；人口数量则是长期积累下来的总量，受人口增长率影响，但并不成正比关系。

[例2] 西欧人夏季都想到阳光明媚的地中海沿岸旅游，这种旅游欲望产生的主要原因是 ()

- A. 地中海沿岸的畜牧业比西欧发达
- B. 欧盟内部各国居民往来自由
- C. 西欧阴雨天多，比较潮湿
- D. 西欧的旅游资源贫乏

【思路分析】此题借助西欧人的旅游考查了西欧的气候，地中海沿岸属于地中海气候，夏季炎热干燥，冬季温和多雨，而西欧属于温带海洋性气候，终年温和湿润，夏季阴雨天多，比较潮湿，人们这时候更倾向于阳光沐浴的地中海沿岸。

[答案] C

【思维诊断】产生旅游欲望与地区差异有密切相关性，题干中已经说明地中海沿岸具有阳光明媚的优势，而与之相比较的选项应该侧重于气候差异角度。


排除障碍的方法：仔细审题，明确西欧与地中海沿岸夏季的气候差异。



学习评价

达标检测

1. 下列既临大西洋又临地中海的欧洲西部国家是 ()
 - A. 意大利和罗马
 - B. 西班牙和葡萄牙
 - C. 法国和西班牙
 - D. 法国和葡萄牙
2. 下列不属于欧洲西部的地形区是 ()
 - A. 波德平原
 - B. 阿尔卑斯山脉
 - C. 西欧平原
 - D. 乌拉尔山脉
3. 欧洲西部没有的气候类型是 ()
 - A. 温带季风气候
 - B. 温带海洋性气候
 - C. 地中海气候
 - D. 高山高原气候
4. 贝贝在欧洲西部旅游时拍摄了许多旅游景点照片，他在网上发送给玲玲时，有个国家标注错了，请你帮忙找出来 ()



埃菲尔铁塔—法国

A



风车—荷兰

B



斗牛—葡萄牙

C



古罗马斗兽场—意大利

D

5. 下列叙述中, 不符合欧洲西部地区的是 ()

- A. 餐桌上常见乳产品和牛羊肉
B. 绝大多数国家属发达国家
C. 旅游资源丰富, 旅游业发达
D. 许多国家需要大量进口工业制成品

6. 赵明计划去欧洲旅游, 在下列安排中, 你认为不能如愿以偿的是 ()

- A. 到挪威游览峡湾, 观看午夜太阳
B. 到意大利游“水城”威尼斯
C. 到瑞典去阿尔卑斯山滑雪
D. 到法国巴黎登埃菲尔铁塔

7. 下列欧洲国家, 符合“工业大国”“农牧业大国”“著名旅游国”特征的是 ()

- A. 英国
B. 德国
C. 意大利
D. 法国

8. 荷兰的特色产业是 ()

- A. 闻名世界的钟表制造业
B. 优质钢材的冶炼业
C. 郁金香等花卉种植业
D. 电脑软件产业

欧洲联盟, 简称欧盟 (EU), 是一个集政治实体和经济实体于一身、在世界上具有重要影响的区域一体化组织。据此完成 9~10 题。

9. 关于欧盟成员国的叙述, 错误的是 ()

- A. 使用统一货币——欧元
B. 货物可以自由流通
C. 使用统一语言——英语
D. 公民可以自由往来

10. 导致欧洲西部畜牧业发达的主要自然因素是 ()

- A. 终年温和湿润的气候
B. 平原丘陵为主的地形
C. 发达的内河航运
D. 悠闲的生活习惯

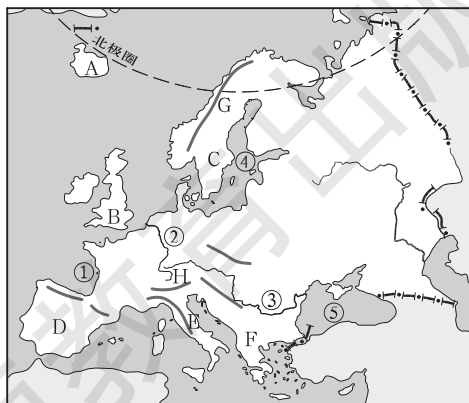
11. 将下列著名的旅游资源与所在国进行正确的连线。

- | | |
|---------|-----|
| 陡峻幽深的峡湾 | 法国 |
| 慕尼黑啤酒节 | 瑞士 |
| 戛纳电影节 | 瑞典 |
| “水城”威尼斯 | 德国 |
| 日内瓦湖与雪山 | 意大利 |

12. 把右图中字母和序号所代表的地理名称填在下边的空格上。

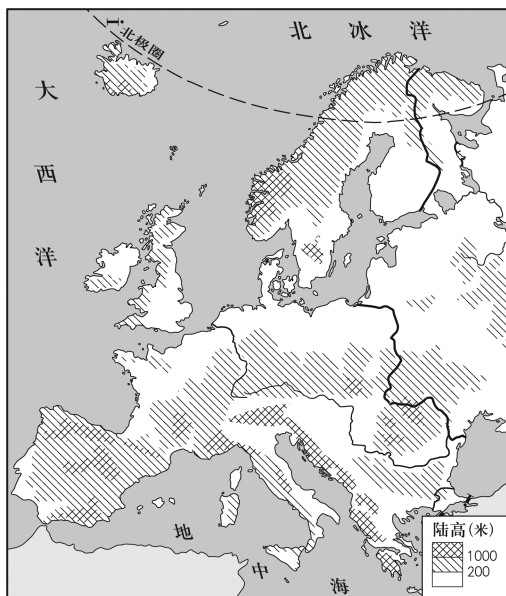
- A _____ 岛,
B _____ 岛,
C _____ 半岛,
D _____ 半岛,
E _____ 半岛,
F _____ 半岛,
G _____ 山脉,
H _____ 山脉。

① _____ 湾, ② _____ 河, ③ _____ 河, ④ _____ 海, ⑤ _____ 海。

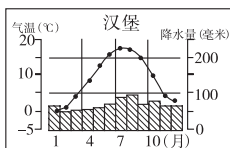


提高训练

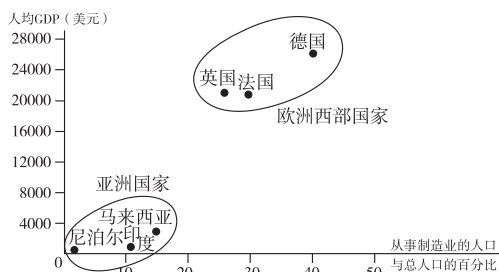
13. 读下图，回答问题。



图甲



图乙



图丙 不同国家GDP与从事制造业的人口数的关系

- (1) 从图甲可看出，欧洲西部除南北两侧有山地分布外，广大的中部，地形以_____为主，这种地形对气候的影响是_____。
- (2) 图乙基本反映了欧洲西部主要气候类型的特点。请你简要描述其特点：_____。
- (3) 图丙反映出欧洲西部国家_____业发达。
- (4) 来往欧洲西部和撒哈拉以南非洲的货船，一般情况下到非洲去的货船装载的货物主要是工业制成品，而返航时装载的货物以_____为主。

14. 学习了“欧洲西部”一节，对“地中海”这一个关键词，你能向长辈们诉说些什么？将你能想到的罗列到下表中。

诉说的方向	诉说的内容
如“地中海”的名称由来	“海”的类型：地中海（陆间海）、边缘海、内海等

拓展探究

15. 读丹麦地理位置图，回答问题。

- (1) 说出丹麦海岸线分布特点。

(2) 丹麦矿物能源使用量不大，但却是欧洲酸雨最严重的地区之一。想一想，这是为什么？

(3) 丹麦具有比较优越的开发利用风能资源的条件。根据图示信息，请列举一个优越的条件。

(4) 说出丹麦的主要农业类型并探究其形成的主要原因。



十分钟反思提升

题号	训练点	反思与提升点
2	欧洲西部地形类型	仔细查看地形图了吗
3	欧洲西部气候类型	仔细查看气候分布图了吗
6	欧洲西部旅游景点特色	熟悉欧洲西部旅游景点分布
7	欧洲西部经济概况	了解欧洲西部各国经济特色与差异
13	欧洲西部地形对气候的影响	学会从材料中获取和归纳具体地理信息
15	海岸线特点，酸雨原因，风能开发条件，农业类型	学会材料信息的提取与运用，知道人类活动对地理环境的影响
错题序号	错误原因剖析	



知识链接

北 海

北海渔场是由北大西洋暖流与东格陵兰寒流交汇形成的，冷暖水流在此交汇，鱼产丰富，种类繁多，主要产鲱、鲭、鳕等鱼，为世界四大渔场之一。

北海是世界最繁忙的海域之一，是沿岸各国以及欧洲与其他各洲之间大宗货运的主要航道。在历史上，北海对沿岸各国之间以及与中东等地区之间的货物交流和人民交往，起了重要的作用，对西北欧文化的发展影响很大。但因风暴频繁，雾浓浪大，水浅滩多，航行常易遇险。重要港口有伦敦、汉堡、鹿特丹、阿姆斯特丹、安特卫普和哥本哈根等。

北海海底还蕴藏着丰富的石油、天然气资源。英国从1975年开始开采北海石油，1984年原油产量达1.3亿吨，成为石油生产国和出口国。

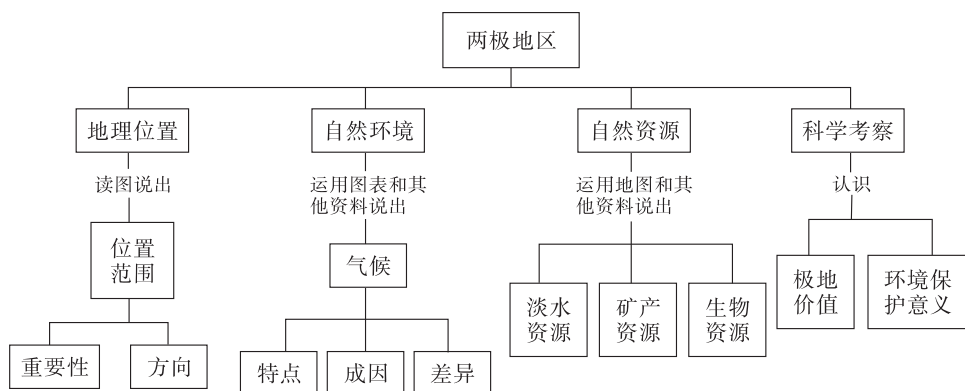
由于海区四周城市集中、工厂林立，大量地向北海倾倒和排放废渣与污水，尤其近20年来随着北海海底石油和天然气的开采和油轮、油管经常漏油，北海受到严重污染，亟待采取有效保护措施。

第五节 北极地区和南极地区



学习导航

学习要求



[情感态度和价值观]

通过学习，感受科学家热爱科学、不畏艰险、勇于探险的精神，认识极地地区开展科学考察和环境保护具有重要的全球意义。

[学习方法]

1. 能在图上读出两极地区的位置、范围，并说出两极地区海陆分布的特点。
2. 学会在以两极为中心的地图上辨别方向。
3. 根据两极地区的地图和相关自然要素的材料信息，能说出两极地区自然环境的特殊性及其形成原因，并认识两极地区自然环境的差异。

基础梳理

一、冰雪世界

1. 北极地区指_____以北的区域，包括_____洋、_____和_____大陆的北部及一些岛屿。
2. 南极地区包括_____大陆及其沿海_____和陆缘冰，还包括南_____洋、南_____洋和南_____洋的一部分。
3. 北极地区蕴藏着丰富的自然资源：_____、_____和_____的储量相当可观。北冰洋战略地位突出，有不少重要的_____经过北极上空。
4. 南极大陆上面向印度洋的查尔斯王子山脉有世界上规模最大的_____，大陆架还有丰富的_____和_____资源。
5. 气候：极地_____、多_____风、降水_____。_____是世界上温

度最低的地方。

6. 地球上 68% 的淡水以_____形式储存在两极地区。

7. 居民：生活在北极地区的人为_____人和_____人。南极则无常住人口。

二、独特的野生动物

北极的动物：_____、_____、_____、_____。

南极的动物：_____、_____、_____。

三、极地科学考察

1. 迄今为止，已有俄罗斯、美国、英国、阿根廷、澳大利亚、日本、中国等 30 多个国家在南极地区建立了一大批科学考察站。1985 年，中国建立了第一个南极考察站——_____。1989 年，中国在南极大陆沿海建立第二个南极科学考察站——_____。2009 年，中国在南极内陆冰盖的最高点建立了我国第一个南极内陆科学考察站——_____。

2. 2004 年，在_____的斯瓦尔巴群岛上，中国建立了第一个北极科学考察站——_____。



要点突破

一、列表比较两极地区自然环境特征

	南极地区	北极地区
位置	66.5°S 以南的地区	66.5°N 以北的地区
海陆分布	中间是南极大陆，周围被太平洋、大西洋、印度洋包围	中间是北冰洋，周围是亚、欧、北美三洲的陆地和岛屿
气候特征	气温低、降水少、风力大	终年冰封，但不如南极寒冷
资源状况	矿产、冰川、海洋生物、原始的自然环境	主要为矿产资源（石油、天然气、煤、铁等）
代表动物	企鹅、磷虾等	北极熊、北极狐等
我国的科考站	长城站（极圈外）、中山站（极圈内）、昆仑站（极圈内）	黄河站（极圈内）
备注	“冰雪高原”、“白色沙漠”、“风库”	因纽特人

二、南极大陆独特的自然环境特征

南极大陆的自然环境特征主要表现在三个方面，即气温低、降水少、风力强，被称为“冰雪高原”、“白色沙漠”和“风库”。南极本身陆地的海拔高度并不是特别高，但冰川的厚度非常大，所以形成了“冰雪高原”。这是长时间气温过低，降雪日积月累的结果。

南极成为世界的“冷极”，主要有三方面的原因：南极洲几乎全部位于南极圈以内，纬度高，地面接受太阳光热少；南极洲平均海拔较高（平均海拔 2350 米）；南极大部分地区被冰雪覆盖着，冰雪对阳光具有强反射。

“白色沙漠”说明南极降水相当少，造成这种现象的主要原因是受强大的冷高压控制，空气以下沉运动为主。

南极的风力比北极更大，有“风库”之称（如一条锈迹斑斑的铁链，可以被南极的大风吹得光亮如新），这与南极大陆的低温和冰雪覆盖的表面有较大关系。

三、极地地区对人类的意义

极地地区的自然环境，集中体现为寒冷。正是由于特殊的自然环境，形成了当地特色的资源，如冰川、动物。同时也使得那里人迹罕至，留下了丰富的矿产资源以及原始的自然环境，这个天然的实验室吸引了世界各地的科学家。

极地地区对人类意义更大的应该说是原始的自然环境，它为科研工作者提供了科学研究的天然实验室。极地地区之所以成为“科学考察的宝地”，根本原因还是由于它们的特殊位置。特殊的位置形成了寒冷的气候，寒冷的气候使得那里人迹罕至，没有人的破坏才能够使大自然的遗迹得以完整保留。正是因为极地地区具有这么大的科学研究价值，所以人们应该合理地利用，并且保护好“地球上的最后一块净土”。



学法指导

【例】读相关材料及南极洲经纬网示意图，回答下列问题。

材料 2009年1月27日，我国第一个南极内陆科学考察站——昆仑站在南极内陆冰盖的最高点胜利建成。这是继长城站和中山站之后，我国在南极建立的第三个科学考察站。

(1) 南极洲大部分位于____（低或中或高）纬度，地处五带中的____带。距离南极洲最近的大洲是____洲。

(2) 在经纬网地图上，经线指示____方向，纬线指示____方向。图中A点的经纬度是____。

(3) 在图中B处的粗弧线上用箭号画出地球自转的方向。

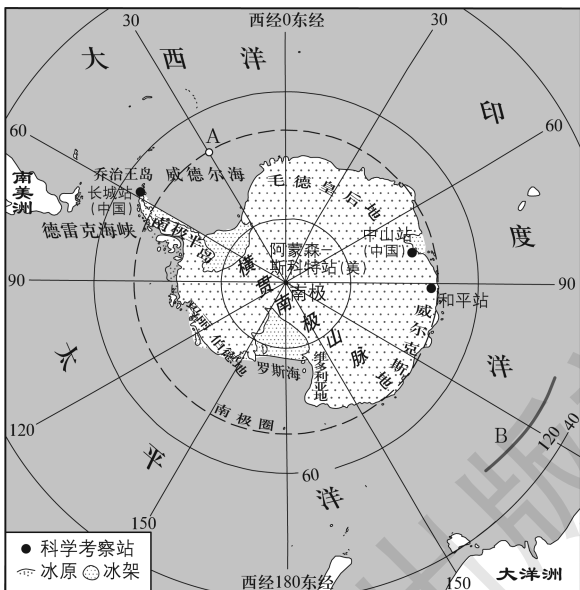
(4) 当科考队员登上南极洲时，迎接他们的“南极小主人”（代表性动物）是____。

(5) 三个科学考察站中，位置最南的是____站，没有极昼、极夜现象的是____站。

(6) 建站时，需要克服气候严寒等困难，形成南极洲气候严寒的主要因素是____因素和地形因素等。

【思路分析】这是一道典型的地理材料题，解答这样的题目要认真阅读地图和材料。

(1) 考查了学生的读图能力，南极洲大部分位于南极圈以南，位于高纬度，地处南寒带，从图上看，距离南极洲最近的大洲为隔德雷克海峡相望的南美洲。(2) 在经纬网地图上，经线连接南北两极，指示南北方向；纬线指示东西方向。A点位于南极圈上，纬度为66.5°S，由于从南



极上空看，地球自转为顺时针方向，本初子午线以东为东经度，以西为西经度，A点位于本初子午线以西，经度为 30°W 。(3)从南极上空看，地球的自转方向为顺时针。(4)南极地区的典型动物主要有磷虾、海象、海豹、企鹅等，其中磷虾广泛地分布在南极水域中，是鲸、海豹、企鹅等的主要食物；海象身躯肥大，主要栖息在极地和附近的海域中；海豹是游泳的高手；企鹅是一种不会飞的游禽，是南极洲的代表动物。(5)三个科学考察站中，距离南极点最近的昆仑站位置最靠南，位于南极圈以北的长城站没有极昼、极夜现象。(6)南极洲是最靠南的大洲，纬度成为其气候严寒的最主要因素。

【答案】(1)高寒(南寒) 南美 (2)南北 东西 66.5°S , 30°W (南纬 66.5° ，西经 30°) (可对调) (3)画图略 (4)企鹅 (5)昆仑 长城 (6)纬度

【思维诊断】读图能力弱，对经线、纬线指示方向不明，我国科考站位置分布不清以及不明南极气候形成原因是产生错误的主要原因。

排除障碍的方法：提高极地地区地图方向的判断能力，学会分析极地气候特征及其影响因素。



学习评价

达标检测

- 下列围绕北冰洋的大洲，正确的一组是 ()
 - 亚洲、欧洲、北美洲
 - 北美洲、亚洲、非洲
 - 大洋洲、亚洲、北美洲
 - 大洋洲、非洲、北美洲
- 世界上淡水资源最丰富的大洲是 ()
 - 亚洲
 - 南极洲
 - 南美洲
 - 非洲
- 有关极地地区的叙述，正确的是 ()
 - 北极地区被称为地球上的“白色沙漠”
 - 南极地区是地球上淡水资源最贫乏的地区
 - 北极地区是北极熊和企鹅生活的天堂
 - 南极地区是一个自然资源的“大仓库”
- 关于南极洲地理特征的叙述，错误的是 ()
 - 冰雪高原
 - 白色沙漠
 - 世界风库
 - 世界活化石博物馆
- 南极大陆附近海面显著的自然景观是 ()
 - 北极熊
 - 冰山
 - 沙漠
 - 森林

结合甲、乙两图片所示内容，完成6~7题。



6. 图片甲和图片乙中的动物分别是 ()
- A. 鸭嘴兽 袋鼠
B. 鸵鸟 野骆驼
C. 天鹅 大熊猫
D. 企鹅 北极熊
7. 这两种动物主要生息地为 ()
- A. 寒冷的高山地区
B. 干燥的沙漠地区
C. 酷寒的高纬地区
D. 湿润的沼泽地区
8. 到南极科学考察的最佳时间是 ()
- A. 北半球的夏季
B. 2月
C. 南半球的冬季
D. 7月
9. 有关南极地区保护与和平利用的说法，正确的是 ()
- A. 应大力开采南极的煤炭资源，解决全球的能源问题
B. 组织捕鲸船队到南极捕鲸，获得更多的海洋产品
C. 科考队员将垃圾埋在雪地里，不能丢弃海中
D. 各国应加强合作，履行南极条约
10. 有关南极洲的叙述，错误的是 ()
- A. 无阳光照射的大洲
B. 平均海拔最高的大洲
C. 跨经度最广的大洲
D. 降水稀少的大洲

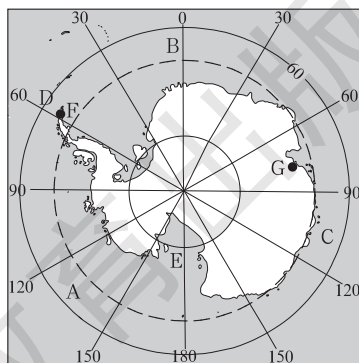
11. 读南极地区图，回答下列问题。

(1) 写出字母代表的地理事物名称：

- A _____ 洋，B _____ 洋，
C _____ 洋，D _____ 海峡，
E _____ ， F _____ 站，
G _____ 站。

(2) 写出南极洲气候特点： _____
_____。

(3) 南极洲环境恶劣，植被稀少，但冰盖下覆盖巨厚煤层，试解释原因。




(4) 南极洲有体积占世界 90% 以上的冰层, 因此这里的_____资源十分丰富。北半球的_____季是南极科学考察的最好时期。

提高训练

下列两图为 1979 年和 2005 年北冰洋冰雪覆盖面积的卫星照片 (图中白色部分为冰雪覆盖区), 读图回答 12~13 题。

12. 北冰洋冰雪覆盖面积减少最大的区域是



()

- A. 格陵兰岛周边海域
- B. 西伯利亚以北海域
- C. 加拿大以北海域
- D. 北欧以北海域

13. 北冰洋冰雪覆盖面积减少可能带来

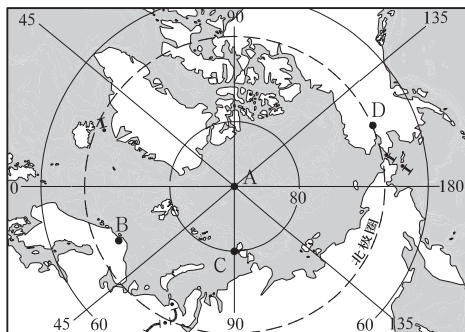
()

- A. 北极地区气温进一步上升
- B. 北极地区通航能力减弱
- C. 北极苔原面积进一步减小
- D. 北极地区生物资源减少

14. 读下面材料和北极地区图, 回答问题。

2007 年 8 月 2 日, 俄罗斯科考队员乘微型深海潜水器, 潜至北极点下 4000 多米深的北冰洋洋底, 并在洋底插上了一面钛合金制造的俄罗斯国旗。

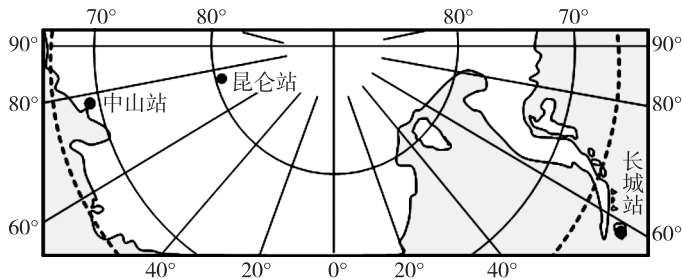
据估计, 北极地区石油储量约有 2500 亿桶, 天然气储量达 80 万亿米³, 而有“世界油库”之称的中东地区, 目前石油探明储量也不过 7400 亿桶。此外, 北极地区还有丰富的镍和钻石等矿藏。



- (1) 北极地区的位置是指_____。
- (2) 终年不冻港 B 是_____, 计算 B (69°N) 到北极点的直线距离是_____千米。(纬度每相差 1°, 距离约相差 111 千米)
- (3) D 点在 C 点的_____方向。
- (4) 写出 C 点的地理坐标_____。
- (5) 北极地区估计石油储量约占中东地区探明石油储量的_____。

拓展探究

15. 读南极部分地区图，回答下列问题。



(1) 我国的长城站 (62°S , 59°W) 位于中山站 (69°S , 76°E) 的 _____ 方向。当长城站的区时是 5 月 1 日上午 10 时，中山站的区时是 _____。

(2) 关于南极地区的叙述，正确的是 ()

- A. 是世界上最干燥的大陆
- B. 全年都有极昼、极夜和极光现象
- C. 南极大陆上蕴藏着丰富的铁矿资源
- D. 企鹅和白熊是该大陆上特有的动物

(3) 南极地区比北极地区的年平均气温要低很多，最主要的原因是 _____。

(4) 全球环境是不可分割的整体，人类活动已经导致南极环境变化，大量排放温室气体使极地地区 _____；制冷剂氯氟烃的使用，导致南极地区上空出现 _____。保护极地地区的生态环境已经刻不容缓。



十分钟反思提升

题号	训练点	反思与提升点
1	极地地理位置	查阅南北极地图了吗
2	极地资源	知道极地有哪些资源类型了吗
4	极地自然环境特征	知道两极气候特征和自然景观吗
8	极地科学考察	知道我国在南北极的科学考察站及其位置了吗
9	极地环境保护	认识到极地的价值和对人类的意义了吗
12	北极环境变化及其影响	学会从图像中获取地理信息，认识到极地环境变化对人类活动的影响
错题序号	错误原因剖析	



知识链接

北极熊与企鹅

北极熊又叫白熊，是所有熊中力气最大和最凶恶的，素有“冰海霸王”之称。北极熊栖息在北冰洋的冰山、岛屿，加拿大极地群岛和亚欧大陆北部沿岸地区，许多人把北极熊当作是北冰洋的象征。北极熊猎捕的对象主要有海豹和北极狐。北极熊还是游泳高手，能在冰海中下潜20~30米深捕捉鱼类充饥。

企鹅是一种不会飞的游禽，是南极洲的代表动物。企鹅体形肥胖，大腹便便，挺胸凸肚，步履蹒跚，白色的前胸犹如洁白衬衫，黑色或藏青色羽毛的后背又像笔挺的燕尾服，俨然一副衣冠楚楚的绅士派头。企鹅长有很厚的皮下脂肪层和密实的羽绒，具备高强的御寒本领。企鹅的食谱比较单调，主要是磷虾、小鱼和乌贼等。南极地区的企鹅以帝企鹅和阿德雷企鹅最为常见和典型。帝企鹅身高约1.2米，体重40~50千克，颈部两侧各有一金黄色的条带。阿德雷企鹅比起帝企鹅要小得多，一般体重只有4~6千克。

随着人类以日益扩大的规模进入两极地区，那里原有的安宁和自然界的生态平衡被无情地破坏了，大批极地野生动物遭受残酷的猎杀，它们的数量大都呈锐减之势。如今，人类已经认识到以往所犯下的错误，懂得极地野生动物对于环境生态的重要性，并制定出一系列保护法规。北极熊、海象、海豹、企鹅、鲸等，都被列为保护动物。

湖南教育出版社

第八章

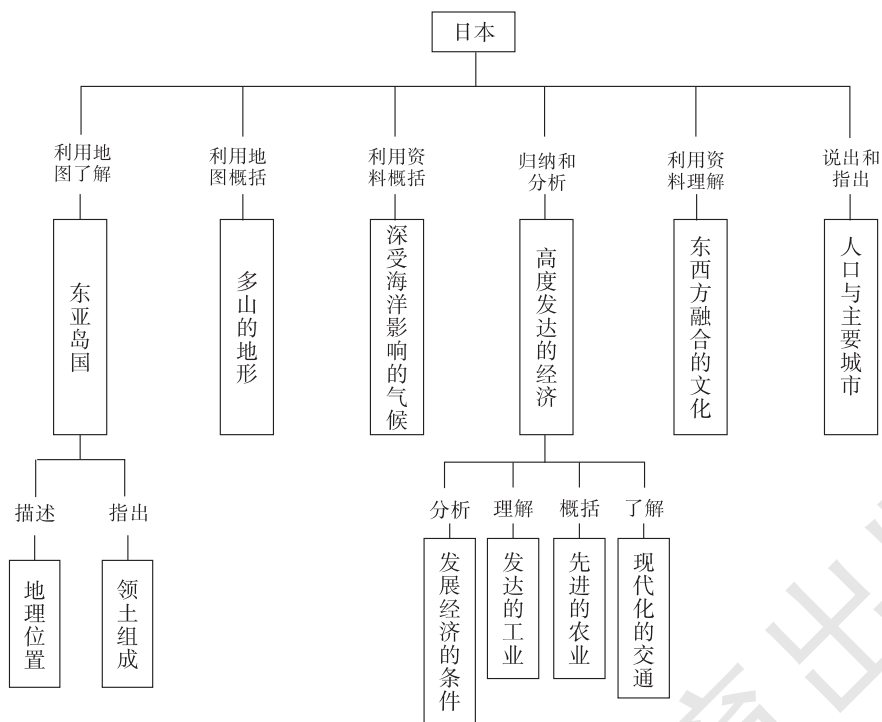
走近国家

第一节 日本



学习导航

学习要求



[情感态度和价值观]

通过对日本地理环境特征的归纳和分析，使同学们树立“事物是联系的，地理环境是一个整体”的辩证唯物主义观点。

通过了解日本经济、文化发展特征，理解我国对外开放政策的重要性。

[学习方法]

1. 利用地图，指出日本的地理位置、领土组成和首都。

2. 利用地形图，概括日本地形特征；根据地图和其他资料，概括日本气候特征。
3. 运用地图，联系日本自然特征，简要分析日本发展经济的条件和经济特征。
4. 运用地图，归纳日本交通的特点。
5. 根据图片和文字等资料说出日本的东西方融合的文化特点和人口（或民族、宗教、语言）等人文地理要素的特点。
6. 举例说出日本与其他国家在经济、贸易、文化等方面的联系。

基础梳理

一、东亚岛国

1. 地理位置：日本位于亚洲_____部、_____洋的西北部。日本东濒_____洋，西临_____海，西南隔_____海峡与朝鲜半岛相望。日本位于东半球，从纬度位置来看，位于_____纬度。

2. 构成：日本领土由_____、_____、_____、_____四个大岛及附近一些小岛组成，面积 37.8 万千米²。日本的海岸线长约_____，沿岸多岛屿、半岛、海湾和_____。

二、多山的地形

日本地形类型以_____为主，约占全国面积的 3/4 以上。日本最高的山峰是_____，也是著名的_____山。日本的平原大多分布在沿海或较大河流的_____地区，_____平原是日本最大的平原。

日本群岛地处_____火山地震带上，火山、地震活动频繁。

三、深受海洋影响的气候

日本属于_____和_____气候，但领土狭长，南北所跨纬度较_____，各地气候差异_____。从降水差异来看，夏季太平洋沿岸_____，冬季日本海沿岸_____。夏秋时节，西部和南部常遭受_____袭击，往往引发灾害。

日本气候的_____性特征明显。日本四季_____，冬季较_____，夏季较_____，绝大部分年降水量在 1000 毫米以上。

四、高度发达的经济

1. 经济地位：自 20 世纪 60 年代末至 21 世纪初，日本一直是仅次于_____的世界第二经济大国。2010 年，日本的经济总量被_____超过，居世界第 3 位。

2. 发展经济措施：第二次世界大战后，日本发挥自身的_____资源和_____优势，积极引进_____和管理经验，努力开拓_____，从而使本国经济得到快速发展。

3. 对外贸易：日本矿产资源_____，工业原料和燃料主要依赖_____，制成品大量销售到_____。对外贸易主要面向_____、_____及欧洲各国。

4. 工业

工业结构：日本工业高度发达，工业结构向_____型和_____方向发展。

工业部门：主要工业部门有电子、家用电器、_____、精密机械、造船、钢铁、化工和医药等，工业产品在国际市场上具有很强的竞争力。

工业分布：日本主要工业大都集中在_____沿岸。日本工业多港口布局，为的是方便_____的进口与_____的出口。近年来，日本的传统加工贸易型工业逐步向东南亚和_____东部沿海地区转移。而高科技工业则向环境相对较好的_____和_____扩散。

5. 农业

日本耕地面积_____，农业劳动力不足，农业现代化重视_____和_____发展，以使用小型农机具为主，精耕细作，农业生产水平_____。

日本海洋渔业资源丰富，拥有世界闻名的_____渔场，渔业_____，渔获量居世界前列。

6. 交通

日本交通运输业发达。国际航运中，货运以_____为主；客运以_____为主。国内客运以_____和公路为主；货运以公路和_____为主。著名的海港有东京、_____、名古屋、大阪、_____等。

五、东西方融合的文化

日本是中国的近邻，古代日本受_____文化影响很大。在近现代，_____文化广泛影响到日本社会，尤其是在_____和文化艺术等方面。

六、人口与主要城市

1. 居民：总人口 1.28 亿（2009 年），其中城市人口约占_____。居民绝大部分为_____族，通用_____语，多信奉_____教和佛教。

2. 城市：全国政治、经济、文化和交通中心是_____，其东北约 50 千米的_____是一座科研机构云集的新兴科学城。_____和奈良是日本著名古都和文化旅游城市。



要点突破

一、归纳日本的自然地理特征

要素	自然地理特征
位置和组成	亚洲东部，太平洋西北部；领土由北海道、本州、九州、四国等岛屿组成
地形	以山地丘陵为主，平原狭小；最大平原为关东平原；多火山与地震，著名火山富士山为活火山；海岸曲折，港湾优良
气候	亚热带和温带季风气候，海洋性较强；冬暖夏凉，降水充沛
河流	河流短促
自然资源	矿产贫乏，水能丰富，渔业等海洋资源丰富，森林覆盖率高

二、归纳日本的人文地理特征

要素	人文地理特征
经济地位	经济发达，经济总量居第3位，人均国民生产总值居世界前列
工业	工业高度发达，部门齐全，工业结构向技术密集型和节能节材方向发展；主要工业区大都集中在太平洋沿岸
对外贸易	工业原料和燃料主要依赖进口，制成品大量销售到海外市场。对外贸易主要面向美国、中国及欧洲各国
农业	重视生物技术和水利发展；耕地较少，农业生产水平高；以生产稻米、水果、蔬菜和茶叶为主
交通	交通发达。已形成以海运为主，海、陆、空密切结合的现代化交通运输体系
居民	人口密集，城市化水平高；主要是大和族；通用日语，多信奉神道教和佛教
文化	兼容并包东西方的文化

三、日本发展经济的主要条件

优势条件	人力资源丰富；多优良港湾，海上运输便利；科技力量雄厚，管理经验丰富；水力和海洋资源丰富
劣势条件	山地丘陵比重大，耕地面积小；矿产资源贫乏；国内市场狭小；多地震、海啸等自然灾害



学法指导

[例1] 日本河流短急的主要原因是 ()

①由岛屿组成，陆地面积狭小 ②季风气候，气候干旱 ③地形以山地丘陵为主，起伏较大 ④植被覆盖差，泥沙淤积严重

A. ①②

B. ②③

C. ③④

D. ①③

【思路分析】 本题考查同学们对日本自然地理特征的分析能力。自然环境中某一要素的特征往往是另外一些要素综合作用的结果。河流短急，其中“短”是因为陆地面积狭小；其中“急”是因为地形起伏大所导致。“气候干旱”也可能导致河流短小，但这与日本的气候特征不相符合。“植被覆盖”和“泥沙淤积”与“河流短急”关系不很密切，而且“泥沙淤积”往往与河流流速慢相关。

[答案] D

【思维诊断】 弄不清自然要素之间的关系是导致本题解题困难的主要原因。自然要素之间是相互影响、相互制约而形成一个整体。

排除障碍的方法：平时学习区域地理特征时，要经常多问自己“为什么”，尽管我们不能解答所有的“为什么”，但是可以养成善于思考的习惯，弄清我们能够看懂的问题，对于记忆

知识也可达到事半功倍的效果。

【例2】读右图，日本工业集中分布在图中所示的阴影地区，主要是因为该地区（ ）

- ①劳动力素质较高
 - ②便于排放污染物
 - ③多优良港湾
 - ④原料、燃料主要依靠进口，产品大量出口
- A. ①② B. ②③
C. ①④ D. ③④



【思路分析】 本题考查同学们对发展工业条件的理解程度。日本主要工业区位于太平洋沿岸，主要是因为日本原料、燃料缺乏，国内市场狭小，必须依靠港口运输原料、燃料和工业产品，为了降低运输成本，工业企业靠近港口布局，而日本的太平洋沿岸多优良港湾，因此就形成了现有的工业地带。这样布局不是为了便于排放污染物。图中阴影部位的工业区属于传统工业区，最初形成时对劳动力素质要求不高。

【答案】 D

【思维诊断】 不能综合分析影响日本工业发展的条件是导致解答本题困难的主要原因。阴影部分是日本主要城市集中地区，文化教育也是最发达的，容易把①选项作为答案。

排除障碍的方法：平时学习时要善于总结归纳影响地理事物的多个因素，并结合当地具体特征进行综合分析。工业企业的合理布局往往是为了获取最大的效益，会综合考虑诸多因素，寻求最佳区位。



学习评价

达标检测

1. 日本最大的岛屿是（ ）
 - A. 北海道
 - B. 本州
 - C. 四国
 - D. 九州
2. 下列关于日本地形的叙述，不正确的是（ ）
 - A. 日本国土的 3/4 是平原和丘陵
 - B. 关东平原是最大的平原
 - C. 日本最高峰为富士山
 - D. 日本火山、地震活动频繁
- 2011 年 3 月 11 日，日本东海岸附近海域发生了 9.0 级地震，并引发了海啸，形成罕见的自然灾害。读图回答 3~4 题。
3. 震源地位于（ ）
 - A. 太平洋，临近本州岛
 - B. 日本海，临近本州岛
 - C. 太平洋，临近北海道
 - D. 日本海，临近九州岛

4. 日本多地震的主要原因是

- A. 临近海洋
- B. 位于板块内部
- C. 位于板块边缘
- D. 位于陆地边缘

5. 日本的气候特征是

- A. 季风气候，全年高温多雨
- B. 季风气候，海洋性特征明显
- C. 气候冬暖夏凉，为典型的温带海洋性气候
- D. 四季分明，降雨主要集中在冬季

6. 日本主要工业地带集中在

- A. 日本海沿岸
- C. 太平洋沿岸

7. 日本最大的城市是

- A. 神户
- C. 东京

8. 关于日本农业特征的说法，正确的是

- A. 农业劳动力充足
- B. 耕地面积大，重视发展高度机械化
- C. 以生产小麦为主
- D. 精耕细作，科技含量高

9. 日本交通运输业发达，已形成以_____为主，海、陆、空密切结合的现代化交通运输体系

- A. 海运
- C. 铁路

- B. 空运
- D. 公路

10. 下列服装中，属于日本的传统服装是



①



②



③



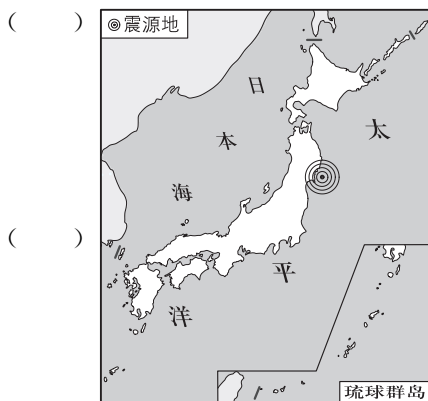
④

A. ①

B. ②

C. ③

D. ④



- B. 本州岛内陆
- D. 国土南北两端

- B. 横滨
- D. 京都

()

()

()

()

()

11. 读日本示意图, 按要求完成下列各题。

(1) 写出图中数码代表的岛屿名称:

① _____, ② _____,

③ _____, ④ _____。

(2) 写图中甲、乙代表的海洋名称:

甲 _____, 乙 _____。

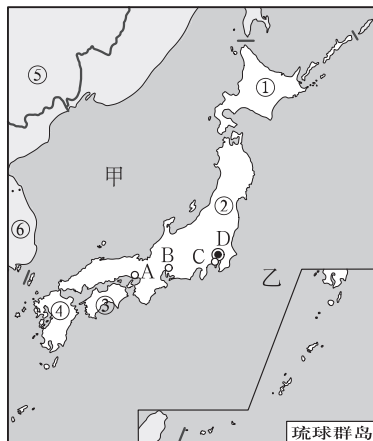
(3) 写出图中数码代表的国家名称:

⑤ _____, ⑥ _____。

(4) 写出图中字母代表的城市名称:

A _____, B _____,

C _____, D _____。




12. 读日本某地景观图, 图片近景为日本的国花, 远景为日本的最高峰, 据此回答下列问题。

(1) 图中所示的山是 _____, 从成因来看, 它是一座 _____ 火山, 它位于 _____ 岛上。

(2) 日本群岛位于 _____ 火山地震带上, 所以火山、地震很多。

(3) 图中近景表示的是 _____ 花。



提高训练

13. 日本耕地面积小, 但稻米的产量已能基本自给, 其原因是 ()

- ①围海造地, 使人均占有耕地面积大大提高
- ②重视生物技术和水利发展, 单位面积产量高
- ③人口密度小, 粮食需求减少
- ④位于季风气候区, 有利于水稻生产

A. ①②

B. ③④

C. ②④

D. ①③

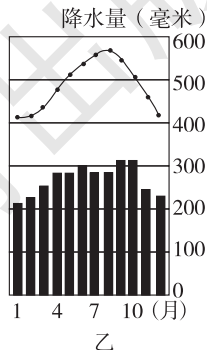
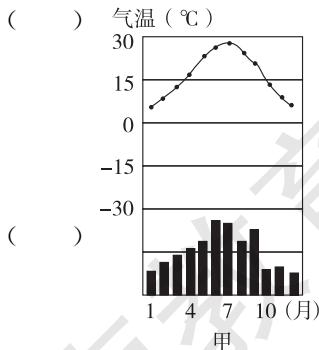
读上海和东京两地的气候统计图, 完成 14~15 题。

14. 下列判断中, 正确的是 ()

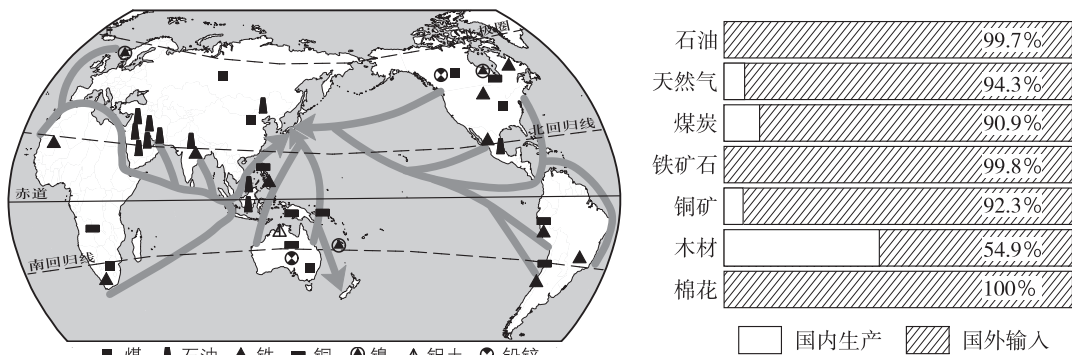
- A. 甲—热带季风气候—上海
- B. 乙—亚热带季风气候—东京
- C. 甲—温带季风气候—上海
- D. 乙—温带季风气候—东京

15. 与上海相比, 东京

- A. 气候类型相同, 海洋性强
- B. 气候类型不同, 海洋性强
- C. 气候类型相同, 大陆性强
- D. 气候类型不同, 大陆性强



16. 读日本主要工业原料来源示意图和日本进口原料所占的百分比(1989年)图,分析回答下列问题。



(1) 日本的主要工业原料中,除_____外,其他都很缺乏。日本的_____丰富,在一定程度上可弥补矿物能源的不足。

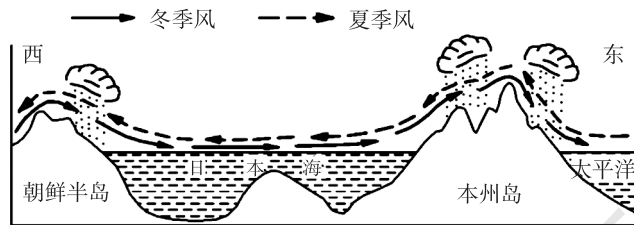
(2) 日本的石油和铁矿石依赖进口,其石油主要来自_____和_____地区;铁矿石主要来自_____、_____、_____等国。这些原料的运输主要依靠_____运。

(3) 日本矿产资源贫乏,但工业高度发达。请简要分析原因。

(4) 日本森林资源丰富,但却大量进口木材,其原因是什么?

拓展探究

17. 读日本本州岛的东西剖面及季风运行示意图,回答下列问题。



(1) 据图解释日本本州岛东部降水多于西部的原因。

(2) 据图提示,分析日本本州岛西部冬季多大雪的原因。



十分钟反思提升

题号	训练点	反思与提升点
13	日本农业特征	要从日本地狭人稠的基本特征入手，稻米基本能够自给，只能是单产水平高，自然条件和技术水平是导致单产高的主要原因
14~15	日本气候特征	还记得气候的海洋性与大陆性特征的差别吗？气温和降水变化小、降水丰富，是海洋性气候的特征，反之是大陆性气候的表现
16 (3)	工业条件	影响工业发展的因素，除了资源条件外，还有劳动力条件、技术条件、交通条件及产业政策等多个因素
17	日本降水的地区差异	还记得降水类型中的地形雨吗？夏季风所带来的水汽多，东部迎风坡降水丰富。冬季风经过日本海也带来部分水汽，西部迎风坡形成降雪
错题序号	错误原因剖析	



知识链接

日本人的忧患意识

第一种是来自生存环境的忧患意识。即通常所说的“国土狭小、环境恶劣、资源匮乏、灾害横行”等。这种忧患意识在日本无所不在。例如，日本总是举国炒作能源紧张的话题，不少高收入的人却在一滴水、一度电上精打细算。夏天酷热，于是有人为了节电倡议空调不要低于28℃，结果走到哪里都是28℃，有的地方干脆将降温的按键用胶纸贴住，不让人动。其实日本几乎从来不停电，用电也无限制。日本这种忧患意识不仅是客观国情的“加工型”反映，而且是日本人认识、约束自我的思维方式的展现，是日本国民意识及价值观的基石。

第二种是来自社会压力的忧患意识。例如日本国立社会保障和人口问题研究所目前公布的“日本将来人口推测”报告显示，到2055年，日本人口将减少至8993万人，其中老龄人口将达到40%，是目前的2倍。对于倚重人力优势的日本，这种压力的沉重与深刻是可想而知的。

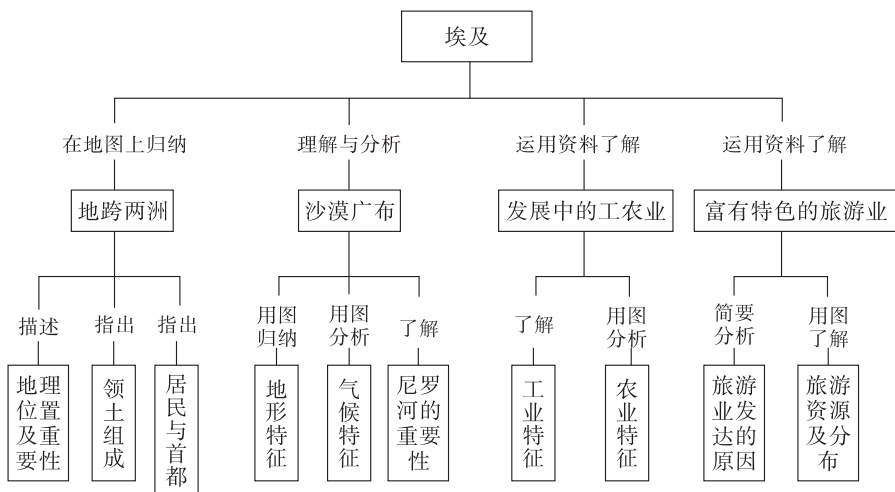
第三种是来自文化传统的忧患意识。日本在长期的历史发展中，大量吸收中国文化特别是儒家思想，结合自身的国情形成特有的文化传统。例如孔子“人无远虑，必有近忧”、孟子“生于忧患而死于安乐”的教诲等，似乎就是针对日本而言，使日本人受益极多，非常推崇。这种文化理念与上述客观依据相契合，使日本的忧患意识不仅具有应对灾难等突发性事件的功能，而且逐渐成为日本民族独有的性格特征；它不仅具有现实性品格，而且具有很强的理论性品格，因此具有一定的独立性与稳定性，即使在环境好转时也不会轻易丢弃。

第二节 埃及



学习导航

学习要求



[情感态度和价值观]

1. 通过学习埃及“发展中的工农业”，建立和巩固“因地制宜”的科学发展观念。
2. 通过了解埃及举世闻名的名胜古迹，做到珍爱古代文化，养成文明旅游的习惯。

[学习方法]

1. 运用地图，指出埃及的地理位置、领土组成和首都。
2. 运用地图和其他资料，归纳埃及的地形、气候、河流等自然环境的基本特点。
3. 运用地图和其他资料，联系埃及自然条件特点，简要分析该国因地制宜发展工农业和旅游业的实例。
4. 运用地图和其他资料，说出埃及的种族和人口（或民族、宗教、语言）等人文地理要素的特点。

基础梳理

一、地跨两洲

1. 地理位置：埃及位于非洲_____部，领土还包括亚洲的_____半岛。埃及北临_____海，东濒_____海。从纬度位置来看，埃及大部分地区位于_____纬度。
埃及地理位置的重要性：埃及既是亚、非之间的陆路_____，也是_____洋和_____洋之间海上航线的捷径。沟通红海和地中海的_____运河，是扼守欧、亚、

非三洲的主要国际航道，它的开通大大缩短了_____洋和_____洋沿岸各港口之间的航程。

2. 居民与城市

埃及人口总数为8300万（2009年），90%以上是_____人，多信奉_____教，_____语为国语。90%以上的人口集中分布在尼罗河下游_____和入海处形成的_____。

二、沙漠广布

1. 地形：埃及大部分地区海拔在200~700米之间，_____面积占90%以上，平原集中在尼罗河下游河谷和入海口。

2. 气候：埃及气候_____。大部分地区属于_____气候，北部沿海地区属于_____气候。

3. 河流：埃及境内河流稀少，主要河流是_____，其河谷形成了浩瀚沙漠中的一条“绿色长廊”。

三、发展中的工农业

1. 工业：目前，埃及的工业规模在非洲仅次于_____，主要部门有石油、电力、钢铁、机械、纺织、食品等，_____工业地位突出。

2. 农业：农业在埃及国民经济中所占份额较_____。农业生产集中在_____条件便利的_____谷地和_____地区。主要农产品有棉花、小麦、玉米、甘蔗和水果等，尤以盛产_____而著称。

四、富有特色的旅游业

埃及旅游业发达，国际旅游收入是外汇收入的重要来源。

旅游资源：埃及是世界古代文明的发祥地之一，多名胜古迹，如_____、_____、神奇的卢克索古城市等。还有现代水利设施_____水坝、浩瀚的沙漠也吸引着来自世界各地的大量游客。



要点突破

一、归纳埃及的自然地理特征

要素	自然地理特征
组成和位置	埃及位于非洲东北部和西奈半岛；地跨非洲和亚洲；临近红海和地中海；苏伊士运河沟通大西洋与印度洋；大部分位于低纬度热带地区
地形	埃及大部分地区海拔在200~700米之间，以高原为主，富庶的平原在尼罗河沿岸及入海处形成的三角洲
气候	大部分地区属热带沙漠气候，北部沿海属地中海气候；气候炎热干燥；沙漠面积占90%以上
河流	河流稀少，主要河流是尼罗河
自然资源	石油资源丰富

二、归纳埃及的人文地理特征

要素	人文地理特征
居民	人口约 8300 万，主要集中分布在尼罗河沿岸及三角洲；90% 以上是阿拉伯人，多信奉伊斯兰教，阿拉伯语为国语
文化	世界古代文明的发祥地之一，目前文化具有伊斯兰教文化特色
工业	工业规模非洲第二，石油工业地位突出
农业	在国民经济中所占份额较大，农业生产集中在灌溉条件便利的尼罗河谷地和三角洲地区，盛产优质长绒棉
城市	城市集中在尼罗河河谷平原及三角洲，首都开罗是非洲最大的城市和世界历史文化名城

三、简要分析埃及旅游业发达的原因

1. 旅游资源丰富：埃及是世界古代文明的发祥地之一，古代文化景观丰富而独特，如金字塔、狮身人面像、卢克索古城；沙漠和海洋景观也十分迷人；现代阿斯旺水坝和纳赛尔水库魅力十足。

2. 临近欧洲经济发达地区：欧洲经济发达，游客资源丰富。埃及离欧洲仅地中海相隔，距离较近，便于旅游。

3. 埃及对内对外交通较便利：埃及对外有较发达的海运和空运；对内有较发达的河运和路上运输，便于游客游览。

4. 埃及近几十年来积极发展旅游业，旅游接待和宣传能力较强。



学法指导

[例 1] 读埃及的主要城市、部分矿产和物产分布示意图，回答问题。

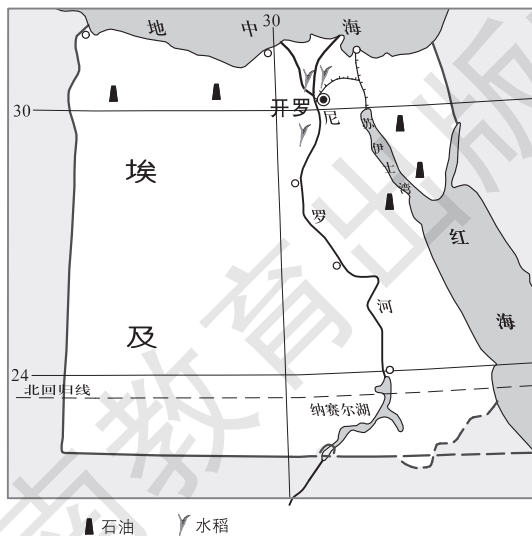
(1) 关于埃及地理位置的叙述，正确的是 ()

- A. 全部位于低纬度
- B. 位于西半球
- C. 临近太平洋
- D. 地跨两洲

(2) 与埃及大部分地区相比，水稻分布区生产水稻的主要优势因素是 ()

- A. 水源
- B. 纬度
- C. 气候
- D. 技术

(3) 埃及主要城市的分布特点与主要影响



因素搭配正确的是

()

- A. 沿尼罗河河谷分布——水源
B. 分布在地中海气候区——降水
C. 主要分布在地中海沿岸——热量
D. 主要分布在内陆地区——光照

【思路分析】 本题综合考查埃及地理位置、农业、城市分布等相关知识。第(1)题, 30°N 纬线穿过埃及北部, 因此大部分属于低纬度, 北部属于中纬度; 根据经度变化规律, 可判断埃及位于 30°E 附近, 属于东半球; 埃及临近的红海和地中海, 分别直接与印度洋和大西洋相通, 不临近太平洋; 亚非分界线——苏伊士运河穿过埃及东北部, 因此地跨非洲和亚洲两个大洲。第(2)题, 图中水稻分布区临近尼罗河, 水源丰富, 且水稻生产需水量大, 而埃及大部分地区为热带沙漠气候, 水分条件差。第(3)题, 从图中城市分布情况可以归纳出其分布特点: 埃及城市主要分布在水源较好的尼罗河河谷和交通便利的地中海沿岸港口。B、D 选项中城市分布规律描述不对, C 选项中主要因素搭配不对, 应为交通。

【答案】 (1) D (2) A (3) A

【思维诊断】 导致该题解题困难的主要原因有: 一是不能从图中获取解题的有效信息; 二是对一些基本概念和特征掌握不好, 如高中低纬度的划分、东西半球的划分、埃及以热带沙漠气候为主的特征等; 三是不了解水稻生产、城市分布的基本要求。

排除障碍的方法: ①仔细审题, 看题目中需要什么信息, 就在图中找出什么信息。如判断是否“全部位于低纬度”, 在图中就去寻找 30° 纬线, 看该区域的纬度是否全部低于 30°。②积极复习巩固已学过的基本概念和特征。③多了解和积累生活中的地理。

【例 2】 读埃及简图及某名胜古迹图片, 完成下列各题。



- (1) 图中名胜古迹的名称是_____。
- (2) 该名胜古迹分布于左图中的_____处。

(3) 该名胜古迹吸引了大量的国际游客前来参观, 特别是欧洲游客最多, 你能解释为什么吗?

【思路分析】 本题考查同学们对埃及旅游业的了解程度。从图中可以直接看出, 这是金字塔和狮身人面像。尼罗河三角洲是古代埃及文明最发达的地方, 因此作为埃及文明象征的金字塔和狮身人面像也应在其附近, 因此是①处。对游客吸引力的大小, 取决于旅游资源的游览价值, 即它的独特性和美学、文化价值等, 同时, 吸引力的大小也与游客产生地的距离及游客产生地的经济发达程度等因素有关。

【答案】 (1) 金字塔和狮身人面像 (2) ① (3) 金字塔和狮身人面像非常独特, 具有很高的美学价值和文化价值; 欧洲经济发达, 游客数量丰富; 该地离欧洲较近, 交通较便利。

【思维诊断】导致本题解题困难的主要原因有：①不能综合分析名胜古迹的分布与古代人生产生活之间的关系；②不能综合分析影响旅游业的条件。

排除障碍的方法：平时学习区域地理特征时，要综合分析影响其特征形成的多个因素。

学习评价

达标检测

读埃及示意图，回答1~3题。

1. 甲半岛属于 ()

- A. 非洲
- B. 亚洲
- C. 欧洲
- D. 北美洲

2. 与乙海洋直接相通的大洋是 ()

- A. 印度洋
- B. 大西洋
- C. 太平洋
- D. 北冰洋

3. 图中阴影区域的地形是 ()

- A. 平原
- B. 丘陵
- C. 高原
- D. 山地

4. 关于埃及居民特征的说法，正确的是 ()

- A. 各地人口都很稀疏
- B. 主要民族与阿拉伯半岛相似
- C. 国语不是联合国的工作语言
- D. 没有相对统一的宗教

5. 埃及农耕区及世界重要的长绒棉产区是 ()

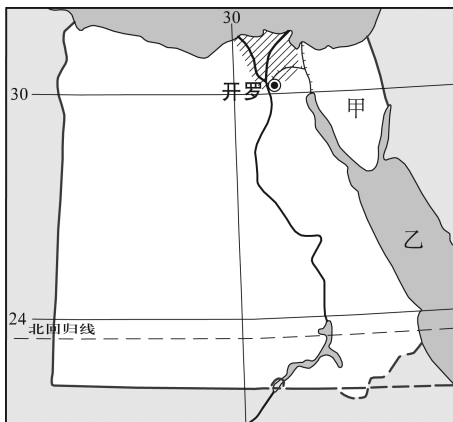
- A. 尼罗河沿岸及地中海沿岸
- B. 地中海沿岸
- C. 尼罗河沿岸及三角洲
- D. 红海沿岸

6. 埃及各个工业部门中，地位最为突出的是 ()

- A. 钢铁工业
- B. 食品工业
- C. 机械工业
- D. 石油工业

7. 玲玲有个愿望：骑骆驼欣赏沙漠风光，游览苏伊士运河，参观金字塔和清真寺。玲玲最理想的去处是 ()

- A. 日本
- B. 埃及
- C. 法国
- D. 美国





十分钟反思提升

题号	训练点	反思与提升点
12 (2)	苏伊士运河和获取地图信息	你看出红海与地中海相隔最近的地点了吗？你看出运河中间的大苦湖等湖泊了吗？运河建设一般会选择路线最短、地势较低、多天然水域的地方，这样工程量较少
15 (3)	埃及的农业	你注意到尼罗河河谷和三角洲与其他地区相比具有哪些农业优势条件了吗？埃及多沙漠，尼罗河河谷和三角洲有较丰富的河水以及易耕作的平原
16 (1)	埃及的地形	你知道应如何描述一个区域的地形特征吗？区域的地形特征一般从主要地形类型、地表起伏状况、地势、地形差异等方面描述
错题序号	错误原因剖析	



知识链接

文明古国

埃及是世界古代文明发祥地之一。公元前 3000 年已形成统一的奴隶制国家，建立了以法老为元首的君主专制政体。公元前 10 世纪以后，屡遭异族入侵。公元前 4 世纪，希腊马其顿国王亚历山大的部将托勒密在埃及建立托勒密王朝，埃及的农业、手工业和科学文化均有较大的发展，还修建了尼罗河与红海之间的运河，开辟了北非、西亚诸国之间的陆上交通，亚历山大城为王朝的国都和重要的贸易中心。公元前 1 世纪，埃及沦为罗马帝国的一个省，当时罗马粮食消费量的 1/3 以上来自埃及。罗马帝国分裂后，埃及隶属于东罗马帝国（拜占庭），又成为拜占庭的粮食供应地。在希腊、罗马统治期间，东西方经济、文化交流广泛，相互影响，埃及科学技术空前发展，经济繁荣。

公元 7 世纪，阿拉伯人征服埃及，传播伊斯兰教，至 9 世纪中叶，埃及的阿拉伯化大体完成，阿拉伯语逐步普及，开罗成为埃及首都。1517 年埃及被并入奥斯曼帝国，成为它的一个行省。18 世纪末起，英、法等国加强了对埃及的争夺。1854 年法国获得开凿苏伊士运河的许可权，1857 年英国取得修建亚历山大经开罗至苏伊士的铁路租让权，1882 年英军占领埃及，置苏伊士运河于其军事管制之下，1914 年埃及沦为英国的“保护国”。

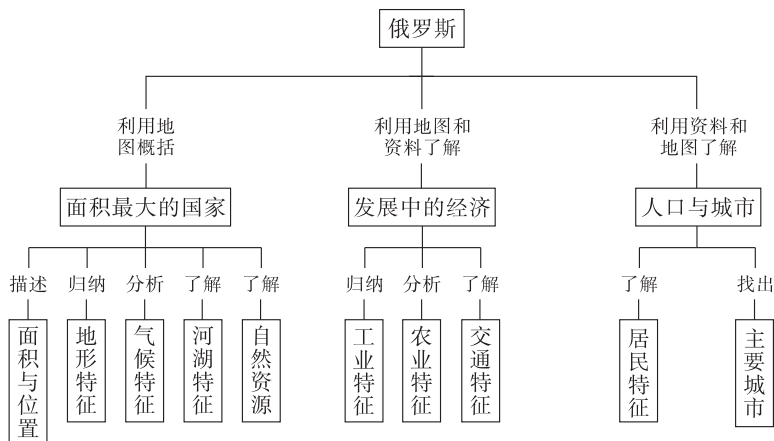
在埃及人民强大的反抗运动压力下，英国被迫于 1922 年承认埃及独立，但仍保留政治、经济和军事的种种特权。1952 年 7 月 23 日，以纳赛尔为首的自由军官组织推翻了法鲁克王朝，接管了政权。1953 年 6 月 18 日，废除君主制，成立埃及共和国。1956 年把苏伊士运河收归国有。1971 年改名为阿拉伯埃及共和国。

第三节 俄罗斯



学习导航

学习要求



[情感态度和价值观]

通过对俄罗斯地理环境特征的归纳和分析，“面积大”、“纬度高”是许多自然和人文地理特征形成的基础，从而使同学们树立“事物是联系的，地理环境是一个整体”的辩证唯物主义观点。

[学习方法]

1. 运用地图，指出、描述和了解俄罗斯地理位置、领土组成和首都。
2. 运用地图和其他资料，概括归纳俄罗斯地形、气候、自然资源等基本特点。
3. 运用地图和其他资料，联系俄罗斯自然条件特点，简要分析该国因地制宜发展工业、农业等经济的特征。
4. 运用地图，归纳俄罗斯交通运输线路分布的特点。
5. 运用地图和其他资料，了解说出俄罗斯的居民特征和主要城市。

基础梳理

一、面积最大的国家

1. 位置与范围：从纬度位置来看，俄罗斯处于_____纬度。俄罗斯位于亚洲_____部和欧洲_____部。俄罗斯北临_____洋，东濒_____洋，西临_____海，西南临_____海和里海。

俄罗斯幅员辽阔，领土面积1709.8万千米²，在世界各国中居第_____位，也是唯一地跨_____两大洲和_____两半球的国家。

2. 地形：俄罗斯地势_____，地形以_____和_____为主。乌拉尔山脉以西为_____平原，向东依次为_____平原、_____高原和_____山地等。

3. 气候：俄罗斯以_____气候为主，冬季_____，夏季_____。北冰洋沿岸属_____气候，太平洋沿岸属_____气候。

4. 自然资源：矿产资源中，石油、_____、煤、铁、金、铜、铅、锌、镍、钴、钾盐等储量均居世界前列。

俄罗斯森林面积约占全国总面积的_____，拥有世界上面积最大的_____林区。

俄罗斯水资源充足，河川径流总量居世界第_____位。位于西伯利亚的_____湖是世界上最深、淡水储量最大的湖泊。

二、发展中的经济

1. 工业：俄罗斯工业基础雄厚，部门_____。近年来，工业结构得到改善。

工业区：俄罗斯主要工业区大多分布在_____洲部分，主要以_____、圣彼得堡等为中心。

2. 农牧业：俄罗斯是一个农牧业并重的国家。东欧平原南部的_____和_____，是全国主要的农业分布区。

3. 交通：俄罗斯交通发达，交通运输以_____和_____为主。铁路以_____为中心呈_____状分布，在_____洲部分较密集。西伯利亚大铁路横贯亚欧大陆，被称为_____。

三、人口与城市

1. 人口：2009年，俄罗斯人口达1.42亿。全国将近4/5的人口和大多数城市分布在_____洲部分，主要集中在_____平原。

2. 城市：全国最大的城市和政治、经济、文化、交通中心是_____，它位于东欧平原_____部。该城市道路以_____和红场为中心，呈_____状、_____状分布。

全国第二大城市和著名海港是_____。濒临北冰洋的最大城市和重要的不冻港是_____。符拉迪沃斯托克（海参崴）为俄罗斯_____沿岸最大的港口城市。西伯利亚地区的中心城市是_____。



要点突破

一、归纳俄罗斯的自然地理特征

要素	自然地理特征
面积与位置	面积1709.8万千米 ² ，是世界上面积最大的国家；地跨亚、欧两大洲和东、西两半球的国家；临近黑海、波罗的海、北冰洋、太平洋等海洋
地形	以平原和高原为主，地势东高西低，平原集中在西部，高原和山地集中在东部，西伯利亚地区南高北低

续表

要素	自然地理特征
气候	以温带大陆性气候为主，冬季严寒而漫长，夏季凉爽而短促。东欧平原气候比较温和。北冰洋沿岸属寒带气候，太平洋沿岸属温带季风气候
河流	拥有许多大河，河流水量充足，河川径流总量居世界第2位；贝加尔湖世界最深、淡水储量最大
自然资源	矿产资源丰富，种类多，储量大，自给率高；森林资源和水资源丰富，拥有世界上面积最大的针叶林区

二、归纳俄罗斯的人文地理特征

要素	人文地理特征
工业	基础雄厚，部门齐全，重工业部门地位突出；工业结构得到改善；工业区大多分布在欧洲部分
农业	农牧业并重；主要农业区位于东欧平原南部的伏尔加河流域和顿河流域
交通	各类交通均很发达；以铁路和公路为主，铁路以莫斯科为主呈放射状，欧洲较为密集，拥有横贯亚欧大陆的亚欧大陆桥
居民	人口1.42亿，大多数分布在欧洲部分；多民族，多信奉东正教，官方语言为俄语
城市	城市主要分布在欧洲部分，首都莫斯科是全国最大的城市，重要城市还有欧洲的圣彼得堡、亚洲的新西伯利亚等；摩尔曼斯克、符拉迪沃斯托克（海参崴）分别是北冰洋、太平洋沿岸最大的港口城市

三、俄罗斯的气候对河流、森林、农业、工业、交通、人口、城市等的影响

俄罗斯以温带大陆性气候为主，冬季严寒而漫长，夏季凉爽而短促。东欧平原南部气候比较温和。北冰洋沿岸属寒带气候，太平洋沿岸属温带季风气候。这些气候特征对俄罗斯的河流、森林、农业、工业、交通、人口、城市等的影响巨大。

因冬季寒冷而漫长，河流均有结冰期，而且许多河流结冰期很长；因平均气温不高，蒸发较弱，河流的水量较大。

以温带大陆性气候为主，蒸发较弱，俄罗斯大部分地区覆盖着亚寒带针叶林。

因热量条件较差，俄罗斯许多地方不宜发展种植业，主要农业区分布在东欧平原南部热量条件较好的伏尔加河流域和顿河流域；俄罗斯的主要农产品往往是生产期短、喜温凉的作物，如向日葵、土豆、甜菜等。

俄罗斯的工业区、陆上交通线、人口、城市均以热量条件较好的南部地区最为密集。



学法指导

- [例1] 关于俄罗斯的说法，正确的是 ()
- A. 从乌拉尔山脉向西，气候大陆性增强 B. 矿产资源丰富，轻重工业都很发达
- C. 领土大部分位于亚洲，却是传统的欧洲国家 D. 平原地区的农业均很发达

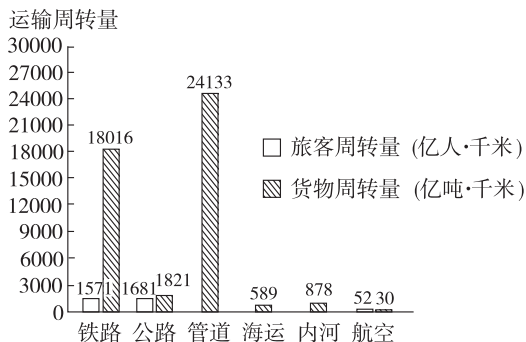
【思路分析】 本题考查同学们对俄罗斯地理特征的综合掌握程度。俄罗斯西部濒临大西洋，受大西洋影响大。乌拉尔山向西离大西洋越近，气候的海洋性越强。俄罗斯矿产资源丰富，以矿产资源为基础建立起来的能源、冶金、机械、核工业等重工业部门比较发达，消费品为主的轻工业相对落后，不很发达。俄罗斯领土约 3/4 位于亚洲，但其人口和城市主要集中在欧洲部分，文化也与欧洲相似，因此俄罗斯是传统的欧洲国家。俄罗斯的平原面积广大，但其中大部分地区纬度高，热量条件差，不适宜发展农业。

[答案] C

【思维诊断】 本题解题的关键在于掌握地理事物之间的联系。如气候的大陆性与离海洋远近、矿产资源与重工业、平原与农业之间的联系。

排除障碍的方法：平时多思考，建立起地理事物之间准确的关系。一般情况下，离海洋越远，气候的大陆性越强；在石油、天然气、煤炭、铁矿等矿产资源建立起来的工业企业，往往属于重工业；平原地区易于耕作，但受到气候条件的限制，只有温暖湿润的平原才可能成为农业发达地区。

[例 2] 读俄罗斯交通运输业各部门旅客和货物周转量统计图（2004 年），运输周转量是指运输量（旅客人数、货物量）与运输距离的积。据此完成下列各题。



(1) 俄罗斯最主要的客运方式是 ()

- A. 铁路和管道
- B. 铁路和公路
- C. 铁路和航空
- D. 海运和内河

(2) 俄罗斯的铁路和管道多呈东西走向的主要原因是 ()

- A. 平原地区是东西延伸的
- B. 河流大多是自东向西流
- C. 矿产资源等主要分布在中部，而加工、消费、出口地主要分布在西部和东部
- D. 地势是东高西低

【思路分析】 本题考查同学们读图归纳能力和对俄罗斯交通的理解程度。从图中数值可以看出，旅客周转量最大的两种运输方式是铁路和公路，分别是 1571 亿人·千米、1681 亿人·千米。影响交通线路走向的因素有很多，第 (2) 题中 A、B 选项与俄罗斯的地理特征不符合，D 选项虽然是俄罗斯的地理特征，但它与俄罗斯的铁路和管道交通线走向关系不大。铁路和管道都能运输大宗笨重的货物，如矿产资源，其中管道只能运输液态和气态的货物，如石油、天然气，俄罗斯开发的石油、天然气、煤炭和许多金属矿产主要分布在西西伯利亚和中西伯利亚地区（俄罗斯中部），需要铁路和管道运输到西部和东部进行加工、消费和出口。

[答案] (1) B (2) C

【思维诊断】 本题解题的困难在于：一是审不清题，如第 (1) 题中“客运方式”；二是不清图，如图中旅客周转量最多的方式；三是不了解俄罗斯的地理特征，如地形分布、河流流

10. 关于俄罗斯居民的说法，正确的是 ()

- A. 总人口居世界第3位
 B. 共有56个民族
 C. 人数最多的民族是鞑靼族
 D. 不少居民信奉东正教

11. 读俄罗斯图，完成下列各题。



(1) 填写相关的地理事物的名称：

- ① _____ 海，② _____ 洋，
 ③ _____ 洋，④ _____ (湖泊)，
 ⑤ _____ (纬线)。

(2) 你能简单描述俄罗斯的经纬度位置吗？

(3) 河流⑥是 _____ 河，它位于 _____ 洲，流经 _____ 平原，它的下游地区是俄罗斯重要的 _____ 区。

(4) ⑦处有俄罗斯重要的能源基地，它的名称是 _____，通过它的铁路干线是 _____，这里形成的工业区是 _____。

12. 填写下表，比较俄罗斯亚洲部分和欧洲部分的地区差异。

比较项目	亚洲部分	欧洲部分
国土面积比重		
人口数量比重		
资源总量比重		
地形特征		
气候特征		
主要工业基地		
主要港口		

提高训练

读俄罗斯局部地区人口分布图，完成13~15题。

13. 该地区人口分布特点是 ()

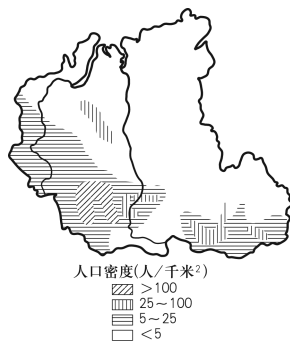
- A. 人稠地狭
- B. 地广人稀
- C. 人口主要分布在东北部地区
- D. 人口集中在河流三角洲地区

14. 影响图中人口分布的自然因素主要是 ()

- A. 地形
- B. 热量
- C. 水源
- D. 光照

15. 该地区的地势特点及判断理由是 ()

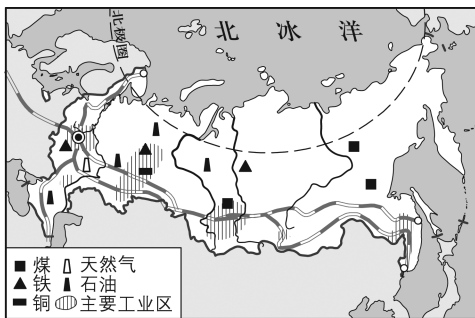
- A. 南高北低，河流流向
- B. 西高东低，地形分布
- C. 北高南低，河流流向
- D. 西南高东北低，人口分布



16. 读俄罗斯工业区、部分矿产分布和铁路分布示意图，完成下列各题。

(1) 仔细观察，俄罗斯工业区分布有何特点？

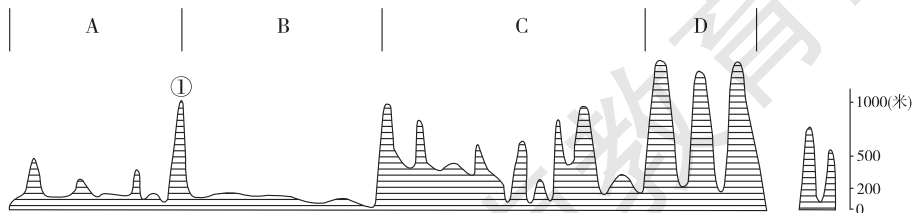
(2) 据图分析，影响俄罗斯工业区分布的主要因素有哪些？



(3) 俄罗斯的铁路线与城市多分布在南部地区，你能说说其理由吗？

拓展探究

17. 读俄罗斯地形剖面图，完成下列各题。



沿60°N线俄罗斯地形剖面图

(1) 图中代号代表的地形区名称:

A _____, B _____, C _____,
D _____, ① _____ 山。

(2) 从图中剖面图中可以归纳出, 俄罗斯的地势有何特点?

(3) B与C、C与D之间的界河分别是_____、_____。这些河流有无结冰期? _____。如果有, 这些河流的上游河段和下游河段中, _____先结冰。

18. 根据下面上扬斯克和莫斯科气候资料及位置示意图, 回答下列问题。

月 份		1	2	3	4	5	6	7	8	9	10	11	12
上扬斯克	气温(°C)	-47	-43	-30	-14	3	13	16	11	3	-14	-36	-45
	降水(毫米)	7	5	5	4	5	25	33	30	13	11	10	7
莫斯科	气温(°C)	-10	-10	-4	5	12	17	19	17	11	5	-2	-7
	降水(毫米)	31	28	33	35	52	67	74	74	58	51	36	36

(1) 说一说两地气候各有什么特点, 属于哪种气候类型。



(2) 影响两地气候特征存在差异的因素是什么?



十分钟反思提升

题号	训练点	反思与提升点
14	影响人口分布的因素	你注意到人口密集区域主要集中在南部地区了吗？南部纬度低，热量条件较好
15	地形地势	你知道河流的流向由地势高低决定吗？图中河流均为自南向北流，注入北冰洋
16 (2) (3)	工业和交通分布	影响工业布局的因素有很多，如资源、城市、人口、交通、土地、气候等等。影响交通线选择的因素也有许多，如地形、气候、河流、人口和技术经济条件等等
18	气候特征	气候特征描述和气候类型判断均要从气温和降水两方面进行；影响气候形成的因素主要有纬度因素、大气环流因素、地形地势因素、海陆位置因素、洋流因素等
错题序号	错误原因剖析	



知识链接

贝加尔湖

中国古称“北海”，据《汉书·苏武传》记载，西汉早期，苏武曾经被流放于“北海无人处”。贝加尔湖位于中西伯利亚高原的南部，是一个巨大的断陷湖泊。

贝加尔湖呈新月形，湖泊位于盆地地形中，周围有山脉及丘陵环绕，长 636 千米，宽 79 千米，面积 31494 千米²，是亚洲第一大淡水湖，也是世界第七大湖，沿岸地震频繁、多温泉。贝加尔湖水系流域面积 56 万千米²，有多达 336 条河流注入，其中最大的河为色楞格河，而其外流河为叶尼塞河的支流安加拉河，其出水口位于西南侧，往北流入北极海；另外在湖的西侧尚有另一条大河勒拿河的源头，距湖仅 7 千米，不过被高达 1640 米的贝加尔山脉中部所阻隔，湖中有 22 岛，最大的奥尔洪岛长达 72 千米，湖面每年 1 月至 5 月结冰。

贝加尔湖是世界最深的湖泊，最深处 1637 米（比全世界的部分海洋还要深），平均深度 758 米，为世界上平均深度最深的湖泊，湖面海拔 456 米，最深处湖床海拔 -1181 米，水深达 1642 米，因深度深，其体积达 23600 千米³，占全球流动的淡水河、湖总水量的 20%，比整个北美洲五大湖（22560 千米³）的水量还多。

医药、服装、_____为支柱产业。_____占总发电量的70%。

法国农产品产量大，农业机械化水平_____，畜牧业和_____业发达，是世界上重要的农产品出口国。_____是主要的农业区。西南部和地中海沿岸盛产_____，_____酒产量居世界首位。

二、便利的交通

法国交通发达，已形成现代化运输网络。境内拥有_____公路1万多千米，高速列车时速可达300千米。地中海沿岸的_____是全国最大的海港城市。巴黎_____机场是世界上非常繁忙的国际机场之一。巴黎_____四通八达，已有百年历史。

三、文化与旅游

1. 旅游业：旅游资源丰富，如秀丽的自然风光，灿烂的历史文化，保存完好的文物古迹、浪漫的民俗风情，高雅的文化艺术，美味的法式西餐，新潮的巴黎时装……

法国是世界旅游大国，_____、马赛、_____山、科西嘉岛等旅游胜地闻名遐迩，每年接待游客人数和旅游外汇收入均居世界前列。

2. 城市与文化：首都_____位于_____盆地中部，是全国的政治、经济、文化和交通中心。巴黎圣母院、_____、_____、埃菲尔铁塔和凡尔赛宫等堪称“世界建筑史上的艺术极品”。此外，巴黎时装、_____和艺术表演等享誉世界。



要点突破

一、归纳法国的自然地理特征

要素	自然地理特征
轮廓与位置	法国位于西欧，东、东北、南三面临陆，东南、西、西北三面临海，位于东半球中纬度。大陆轮廓略呈六边形
地形	地形以平原和丘陵为主；地势东南高、西北低；东南有中央高原和阿尔卑斯山脉，南部边境有比利牛斯山脉
气候	西部属温带海洋性气候，向东海洋性减弱，南部属地中海气候
河流	主要河流有罗讷河、塞纳河

二、归纳法国的人文地理特征

要素	人文地理特征
经济特征	工农业都很发达，服务业地位突出
工业	工业以汽车、飞机制造、医药、服装、化妆品为支柱产业。核电占总发电量的70%以上
农业	农业机械化水平高，小麦、玉米、葡萄和牛肉等产量高，畜牧业和园艺业发达，是世界上重要的农产品出口国；巴黎盆地是主要的农业区；西南部和地中海沿岸盛产葡萄，葡萄酒产量居世界首位
交通	交通发达，已形成现代化运输网络。高速公路运输、铁路运输、地铁、海运、空运均很发达
旅游	旅游资源丰富，特别是文化景观和民俗风情独特
城市	首都巴黎、地中海沿岸港口马赛

图可以看出,该建筑为凯旋门,它位于巴黎市中心的戴高乐广场。巴黎旅游景点有很多,世界闻名的还有巴黎圣母院、罗浮宫、埃菲尔铁塔等。旅游业是否发达有多个因素影响,如旅游资源的游览价值、客源市场、交通通达度、旅游接待能力及环境承载量等。

[答案] (1) 凯旋门 巴黎 (2) 巴黎圣母院、罗浮宫、埃菲尔铁塔 (3) 法国自然和人文旅游资源丰富且独特,游览价值高;法国及周边国家经济发达,游客丰富;法国水、陆、空交通发达;旅游接待能力强等。

【思维诊断】 本题出现解题困难的原因可能有:一是对教材中提到的巴黎著名旅游景点印象不深,二是不能综合分析旅游业的影响因素。

排除障碍的方法:教材中的景观图片也是学习内容,平时学习时不能忽略。旅游资源的开发条件一般从旅游资源的游览价值、客源市场、交通通达度、旅游接待能力及环境承载量等方面进行分析。



学习评价

1. 下列不属于法国巴黎著名建筑的是 ()

- A. 埃菲尔铁塔
B. 凯旋门
C. 罗浮宫
D. 比萨斜塔

2. 巴黎是 ()

- A. 法国最大的工业城市和港口城市
B. 法国南部沿海平原的重要城市
C. 世界最著名的时装和化妆品中心
D. 卢瓦尔河下游地区的重要城市

法国工农业产品在世界的地位:汽车工业仅次于美、日、德居世界第4位,飞机制造业仅次于美、英居世界第3位,炼铝工业居西欧首位,钢铁工业居西欧前列,葡萄酒产量居世界首位,甜菜制糖业居欧洲前列,粮食产量居西欧第1位,农产品出口总值居世界第3位,时装、化妆品等生产闻名世界。据此完成3~5题。

3. 下列关于法国经济的说法,正确的是 ()

- A. 工业发达,农产品则依靠进口
B. 农业发达,工业品依靠进口
C. 工农业都很发达
D. 以轻工业为主的经济

4. 法国小麦产区集中分布于 ()

- A. 巴黎盆地
B. 大西洋沿岸
C. 地中海沿岸
D. 西南部山麓地带

5. 法国葡萄主要产在 ()

- A. 塞纳河沿岸
B. 大西洋沿岸
C. 北部平原地带
D. 西南部和地中海沿岸

6. 法国是世界上著名的旅游大国，以下风景名胜属于法国的是 ()



A



B



C



D

7. 读法国图，完成下列各题。

(1) 读图，归纳出法国国土轮廓有什么特点。

(2) 写出图中地理事物的名称：

A _____ 国，B _____ (国家)，

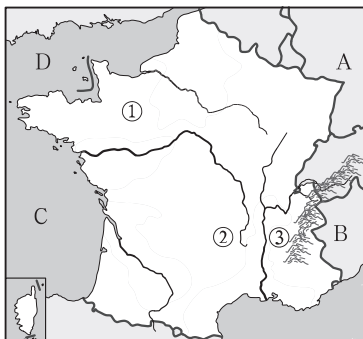
C _____ 湾，D _____ 海峡。

(3) 法国的地形特征如下：

①处地形以_____为主，其地形区名称是_____。

②处地形区名称是_____。

③处是阿尔卑斯山，它在此地的走向是_____。



8. 根据法国的有关材料，归纳该国的主要经济特点。

①法国面积 55 万多千米²，是欧洲西部最大的国家，人口约 6500 万。该国城市化水平高，城市人口占总人口的 74%，其中巴黎人口占全国人口的 1/6。

②法国国内生产总值仅次于美、中、日、德，居世界第 5 位，人均国内生产总值达 44000 美元。法国也是世界贸易大国，外贸进出口总额排名世界第 5。

③第三产业在法国经济中所占比重逐年上升。其中电信、信息、旅游服务和交通运输部门业务量增幅较大，服务业从业人员约占总劳动力的 70%。法国平均每年接待外国游客 7000 多万人次，是世界第一旅游大国。

④法国工业分为能源、设备产品、中间产品、日用消费品和农业食品加工五大行业，工业总产值占国内生产总值的 29%。核能、石油化工、海洋开发、航空和宇航等新兴工业部门近年来发展较快，在工业产值中所占比重不断提高。

⑤法国领土面积占世界的 0.36%，人口占世界的 1.05%，谷物产量占世界谷物总产量的 3%，谷物出口量占世界谷物出口总量的 12.2%，仅次于美国居世界第 2 位。

提高训练

勃朗峰，意为白色之山，位于法国边境，为西欧第一高峰，海拔约 4811 米。山顶积雪终年不化，冰川发育。据此回答 9~10 题。

9. 根据法国的地形分布特点判断，勃朗峰位于法国的 ()

A. 东北部

B. 西南部

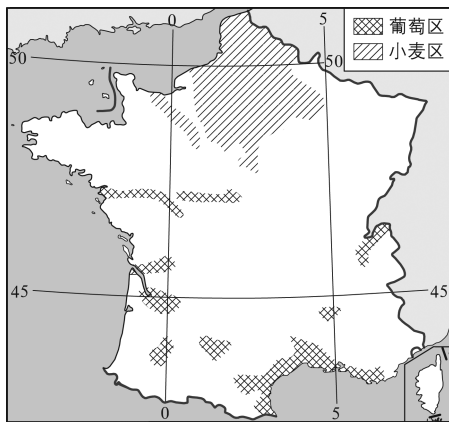
C. 东南部

D. 西北部

10. 勃朗峰降雪丰富，积雪很厚，其水汽主要来自 ()
 A. 太平洋 B. 大西洋 C. 印度洋 D. 北冰洋

读法国小麦和葡萄种植区分布示意图，完成11~12题。

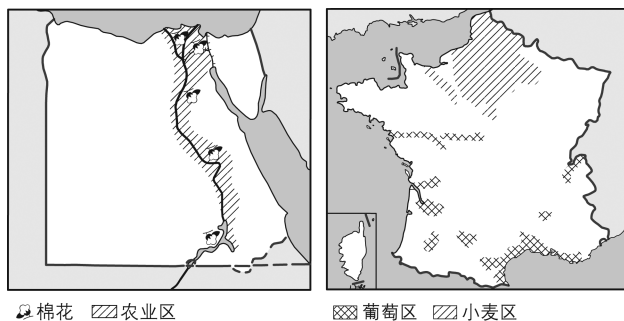
11. 法国小麦种植区主要位于 ()
 A. 地中海气候区
 B. 温带季风气候区
 C. 热带草原气候区
 D. 温带海洋性气候区



12. 法国东南沿海地区种植葡萄的主要有利条件是 ()
 A. 降水丰富，全年温和
 B. 光热充足
 C. 全年高温多雨
 D. 雨热同期
13. 法国水能开发率高、核电比重大的主要原因是 ()
 A. 环保意识强 B. 火电技术较落后
 C. 能源利用技术先进 D. 常规矿物能源缺乏

拓展探究

14. 读埃及和法国农业分布图，回答下列问题。



(1) 埃及90%以上的土地为沙漠，是一个名副其实的_____之国；法国地表植被则以_____和_____为主。

- (2) 填写下列表格。

国家	埃 及	法 国
要素		
主要农业区	_____谷地和三角洲	_____盆地和地中海沿岸
主要气候类型	_____、地中海气候	_____、地中海气候
主要出口农作物	_____	_____



十分钟反思提升

题号	训练点	反思与提升点
10	气候成因	你注意到法国临近的海洋了吗？法国西临大西洋，盛行西风，把水汽从大西洋带到欧洲陆地，在勃朗峰形成降雪
12	农业条件	你知道葡萄种植区的主要气候类型了吗？该地以地中海气候为主，该气候具有冬季温和多雨、夏季炎热干燥的特点
13	工业特征	现在世界上大多数国家的能源消费均以矿物能源为主，这是因为利用成本较低、技术要求不高且方便。而法国的煤、石油、天然气储量不大，不能满足其需求，因此大力发展核电、水电
错题序号	错误原因剖析	



知识链接

“欧洲之星”

欧洲之星高速列车是欧洲首列国际列车，它的设计是针对一项著名的工程：英吉利海底隧道（英吉利海底隧道从1987年7月动工，1994年5月正式通车）。它穿越英吉利海底隧道并把伦敦、巴黎和布鲁塞尔三个首都都连接起来，欧洲人首次可以从英国搭乘火车快速地到达欧洲大陆，设计者们更大限度地提高了欧洲之星的载客量，使一列欧洲之星可以达到2架大型波音客机的载客量，而且旅途舒适便捷，从而使乘客不用再忍受搭乘飞机时的诸多不便。

每一列欧洲之星由20节车厢组成，长达400米（1320英尺），重达800吨，并且搭载18个车厢。

每天有9~15班欧洲之星往返于伦敦至巴黎及伦敦至布鲁塞尔。除了在伦敦、巴黎和布鲁塞尔三城之间的班次外，还有往返伦敦至巴黎迪斯尼乐园的列车以及到法国南部的季节性列车。

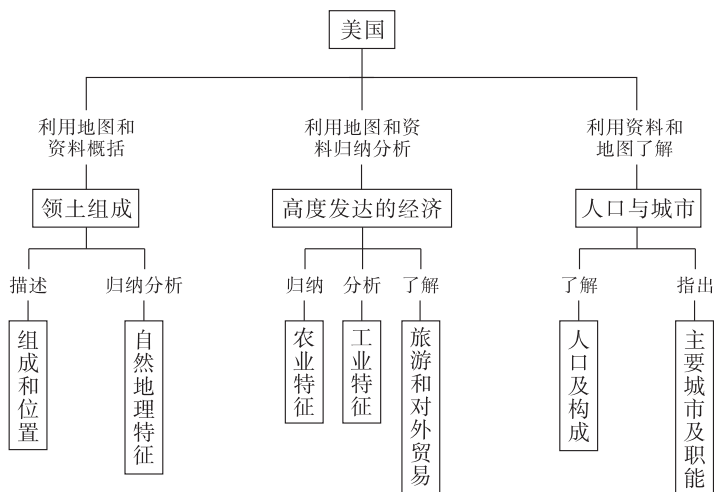
湖南教育出版社

第五节 美国



学习导航

学习要求



[情感态度和价值观]

通过对美国利用自然条件和资源优势发展工农业生产地了解，使同学们认识到利用自然条件因地制宜发展经济的重要性，认识到人类应因地制宜发展的道理。

[学习方法]

1. 运用地图，找出并了解美国地理位置、领土组成和首都。
2. 运用地图和其他资料，概括美国自然环境的基本特点。
3. 运用地图和其他资料，联系美国自然条件特点，简要分析该国因地制宜发展农业和工业的案例。
4. 运用实例，说明高新技术产业对美国经济发展的作用。
5. 举例说出美国在土地资源开发方面的经验、教训。
6. 运用地图和其他资料，了解美国的种族和人口（或民族、宗教、语言）、城市等人文地理要素的特点。

基础梳理

一、领土组成

1. 位置与范围：美国本土位于北美洲_____部，东、西、南三面分别濒临_____、_____和_____湾，北与_____接壤，西南与_____毗邻。领土还包括西北

部的_____和太平洋上的_____。

2. 地形与河湖：美国地形分为三大南北纵列带：东部为低缓的_____山脉，中部为平原，西部为高山高原，如_____山脉。

美国最大的河流——_____，它自北向南注入_____湾。美国东北部与加拿大交界处有世界最大的淡水湖泊群——_____。

二、高度发达的经济

1. 经济地位：美国是经济高度发达的国家。第二次世界大战后，美国的国内生产总值一直居世界_____。

2. 农业：美国是世界农业大国，_____业与_____业并重，农业生产区域_____化、机械化和商品化程度都相当高，_____、_____、大豆、棉花、肉类产量居世界前列。

农业问题：①农业过度依赖_____，经常面临_____等问题。②历史上，由于大量使用_____以及滥垦乱伐，造成环境污染和_____，曾多次发生“黑风暴”灾难。目前，许多农场实行_____制和_____法等措施，以保护耕地和改善环境。

3. 工业：(1) 发展工业的优势条件：自然资源_____，交通运输_____，科技力量_____。

(2) 工业地位：美国工业门类齐全，设备和技术先进。20世纪80年代以来，一方面传统工业呈_____状态，另一方面_____产业则蓬勃发展。

(3) 工业区：美国工业主要分布在三大地区——_____、_____和西部地区，其中_____是美国的传统工业地区，_____和西部地区是新兴工业地区。

4. 服务业：在美国经济中，_____业占有很大比重，全国约有3/4的劳动力从事该产业。美国旅游业很发达，_____公园、_____大峡谷、夏威夷等许多著名旅游胜地吸引来自世界各地的大批游客。_____是国际贸易额最大的国家，主要贸易伙伴有_____、中国、墨西哥、日本以及欧盟各国。

三、人口与城市

1. 居民：美国人口3.07亿（2009年），居世界第_____位。美国人口分布不均，_____平原和东北部的_____附近是人口稠密地区，而西部_____人口稀疏。

居民大部分是_____洲移民的后裔，以及非洲_____和亚洲移民的后裔。原住民_____人的数量已不多，而亚洲移民及其后裔人数增长_____。华人和华侨在美国数量较多，各大城市都有华人居住，在_____、纽约等城市还有华人聚居的“唐人街”。

2. 城市：美国首都——_____，这里有很多纪念性建筑，其中华盛顿纪念碑、杰弗逊纪念堂、_____纪念堂最为著名。

美国人口最多的城市、最大的港口——_____，它是世界四大金融中心之一。_____是美国太平洋沿岸的最大港口城市和经济、文化中心，享誉世界的“电影城”_____和世界第一个迪斯尼乐园都在这里。_____是美国太平洋沿岸重要的金融、贸易和文化中心，也是著名的天然良港。芝加哥是美国的_____中心；底特律是美国的_____工业中心；匹兹堡是美国的_____工业中心。



要点突破

一、归纳美国的自然地理特征

要素	自然地理特征
组成与位置	包括美国本土、阿拉斯加和夏威夷群岛。本土位于北美洲中南部，东、西、南三面分别濒临大西洋、太平洋和墨西哥湾，北与加拿大接壤
地形	地形分为三大南纵列带：西部是高大的山系，中部是广阔的平原，东部是低缓的山地
气候	气候复杂，以温带大陆性气候面积最大，东南部为亚热带湿润气候，中西部较为干旱
河流	拥有世界第四长河——密西西比河，东北部有世界上最大的淡水湖泊群——五大湖

二、归纳美国的人文地理特征

要素	人文地理特征
经济特征	经济高度发达，国内生产总值居世界首位
农业	农业大国，种植业与畜牧业并重，农业生产区域专门化、机械化和商品化程度都相当高，主要农产品产量居世界前列。农产品过剩和环境问题突出
工业	工业条件优越；工业门类齐全，设备和技术先进，许多工业发展水平居世界前列，近几十年来，传统工业衰落，高新技术产业蓬勃发展；工业主要分布在三大地区：东北部地区、南部地区和西部地区
服务业	服务业占很大比重，3/4 劳动力从事服务业；旅游业发达；国际贸易额最大，加拿大、中国、墨西哥、日本以及欧盟各国是主要贸易伙伴
人口	人口数居世界第 3 位；由欧洲移民后裔、非洲黑种人和亚洲的后裔构成，各大城市都有华人居住；沿海平原和东北部的五大湖附近是人口稠密地区，而西部高原山地人口稀疏
城市	首都华盛顿，最大城市、港口、金融中心纽约，美国太平洋沿岸最大港口城市和经济、文化中心洛杉矶，还有旧金山、硅谷、芝加哥、底特律、匹兹堡等

三、归纳美国主要农业带的分布和生产条件

农业带	分布	生产条件
乳畜带	五大湖及东北部地区	①气候较冷，无霜期短，宜长牧草；②土地较贫瘠，不宜种植粮食，但适宜发展畜牧业；③工业集中，人口密集，市场广阔
小麦带	乳畜带以南，中央大平原中北部	①地势低平，土层深厚；②气候温和，雨量适中；③无霜期约半年；④大豆、玉米轮作
玉米带	中部、北部	①地势平坦，土壤肥沃；②雨热同期；③北部是春小麦、中部是冬小麦
棉花带	35°N 以南	①热量充足；②无霜期 200 天以上；③春季降水多，秋季干燥，适合棉花生长

四、归纳美国三大工业地区的特征

地区	分布及代表城市	主要工业部门	发展工业的优势条件
东北部地区	东北部五大湖及大西洋沿岸；纽约、匹兹堡、底特律、芝加哥	钢铁、机械、汽车、化工	煤铁资源丰富，水陆交通便利，发展早、基础好，科技力量雄厚
南部地区	墨西哥湾沿岸；休斯敦、新奥尔良等	石油、航空航天、电子	石油资源丰富、环境优美、对外联系便利
西部地区	太平洋沿岸；洛杉矶、旧金山、西雅图	航空、电子、信息技术	有色金属资源丰富、阳光充足、环境优美、对外联系便利



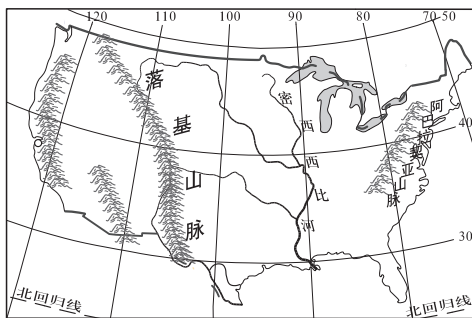
学法指导

[例1] 读美国本土示意图，根据图中提供的信息回答问题。

(1) 图中信息显示，美国本土位于五带中的_____带，所以需要大量进口_____、_____、天然橡胶等热带农产品。

(2) 根据密西西比河的流向，判断美国中部地区的地势特点是_____。

(3) 从北冰洋南下的冷气流和从墨西哥湾北上的暖空气能长驱直入美国中部地区，这是因为_____。



【思路分析】 本题考查同学们对美国位置、地形及对气候影响的理解程度。读图可知美国本土大部分的纬度位于五带中的北温带，热带面积非常小，所产热带经济作物满足不了本国的需求。从密西西比河流向看，美国中部大平原地势北部稍高向南部倾斜；美国地形分为西部高山区，中部平原区，东部高原山地区，中部平原有利于北冰洋冷气流南下和墨西哥湾暖空气的北上。

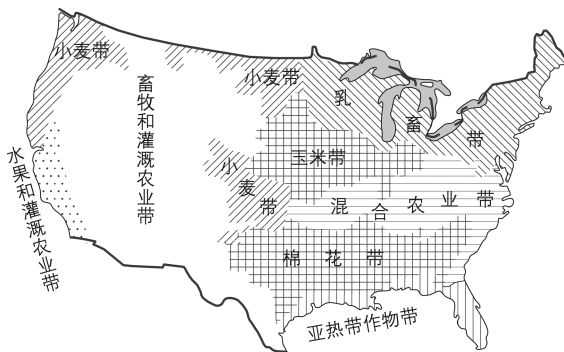
【答案】 (1) 北温 咖啡 可可（其他热带经济作物也可以） (2) 北高南低 (3) 美国中部的地形为广阔的平原

【思维诊断】 本题解题困难的主要原因是：不能有效提取图中的有效信息，或者不能把题中要求与图中信息联系起来。如不能提取美国的纬度信息，或者不能把“五带”与纬度信息联系起来；不能提取美国中部是平原的信息，或者不能把南北气流长驱直入与中部平原信息联系起来等。

排除障碍的方法：平时学习时，多读图析图，多思考地理事物之间的联系。

[例 2] 下图中显示的美国本土现代农业的突出特点是

()



- A. 高度机械化
B. 区域专业化
C. 高度商品化
D. 高度精确化

【思路分析】 本题考查同学们对美国农业生产特点的理解程度和读图能力。美国不同区域形成不同农业带，包括玉米带、棉花带、小麦区等诸多农业带，这是指美国各地区农业往往以一种农业部门为主，实现专业化生产。农业地区生产的专业化是美国农业的一大特点，其优越性表现在：能充分利用自然条件，发挥地区优势；可以大规模使用农业机械，提高农业生产技术；实现了农业的现代化管理。

[答案] B

【思维诊断】 本题解题的困难在于不理解选项中的各个概念，混淆它们的含义。

排除障碍的方法：平时学习时应该弄懂地理基本概念，但不是死记硬背。农业的高度机械化是指农业过程中直接运用电力或其他动力来驱动或操纵机械设备以代替几乎所有手工劳动进行生产的措施。农业区域专业化是在农业区域分工高度发展的基础上形成的，在各地区着重发展各自突出的某一部类或作物的商品性生产的农业经营方式。它使每个地区成为以一种或少数几种农产品占压倒优势的专业化生产区，并同其他地区进行大规模的商品交换。高度商品化指某地农业的对外供应程度很高（商品率高）。牧场畜牧业和高度发达的商品化混合农业是典型的高商品化农业类型。精确农业是指利用现代高新技术，获取农田小区作物产量和影响作物生长的环境因素实际存在的空间及时间差异性信息，分析影响小区产量差异的原因，并采取技术上可行、经济上有效的调控措施，区域对待，按需实施定位调控的“处方农业”。

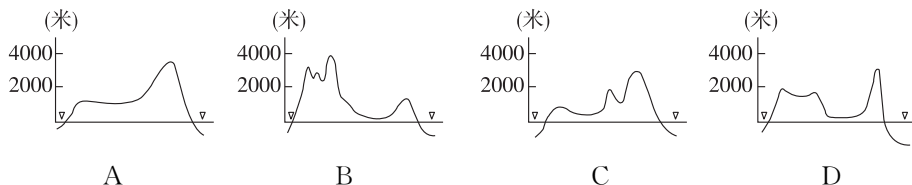


学习评价

达标检测

1. 与美国不相临的海洋是 ()
- A. 加勒比海
B. 墨西哥湾
C. 太平洋
D. 北冰洋

2. 下图中能正确反映美国中部自西向东地势起伏的剖面图是 ()



3. 美国地跨寒、温、热三带，为发展多种经营提供了有利条件。但是美国有些农产品仍需大量进口。美国需要进口的农产品是 ()

- A. 小麦、玉米、棉花、乳肉
 B. 小麦、烟草、大豆、甘蔗
 C. 咖啡、可可、香蕉、天然橡胶
 D. 玉米、可可、大豆、亚麻
4. 美国发生“黑色风暴”的主要原因是 ()
- A. 气候干旱
 B. 飓风影响
 C. 人口剧增
 D. 生态破坏
5. 参考美国人口密度统计表，关于美国人口的分布，叙述正确的是 ()

项目	东北地区	南部地区	西部地区
面积 (%)	25.8	24.8	49.4
人口 (%)	46.9	31.9	21.2

- A. 美国的人口分布比较均匀，东、南、西部沿海和北部内陆人口较多
 B. 美国城市人口密度大，全国 50% 左右的人口分布在城市
 C. 西部太平洋沿岸的人口最为集中，特别是西北部人口密度最大
 D. 美国一半以上人口集中分布在沿海平原和五大湖地区
6. 关于美国居民的叙述，正确的是 ()
- A. 美国以白种人为主，其人口约占总人口的 50% 左右
 B. 美国境内的有色人种主要是印第安人
 C. 美国境内的墨西哥人，工作、生活等方面的条件比较好
 D. 现在美国各大城市都分布有华人，旧金山、纽约、洛杉矶等城市有“唐人街”
7. 美国南部的工业中心有 ()
- A. 旧金山、西雅图
 B. 休斯敦、亚特兰大
 C. 波士顿、费城
 D. 纽约、休斯敦
8. 美国不具有的气候类型是 ()
- A. 地中海气候
 B. 亚热带湿润气候
 C. 热带沙漠气候
 D. 热带草原气候
9. 查找地图，判断美国的煤炭主要分布在 ()
- A. 西部高山区
 B. 中部平原区
 C. 阿巴拉契亚山
 D. 墨西哥湾沿岸
10. 既是世界上产油大国，又是进口石油最多的国家是 ()
- A. 美国
 B. 俄罗斯
 C. 沙特阿拉伯
 D. 日本

11. 读美国本土图，完成下列各题。

(1) 写出数码所代表的地理事物名称：

山脉：① _____，

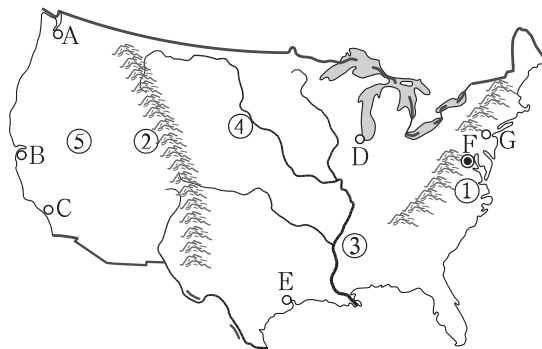
② _____。

河流：③ _____。

地形区：④ _____，

⑤ _____。

(2) 据图分析，美国地形分布有何特点？



(3) 图中字母代号分别代表美国著名城市，请根据表中例举的职能及特征，判断城市名称及在图中的字母代号。

代 码	城市名称	主要职能及特征
		美国政治中心
		西部港口，附近有“硅谷”
		南部石油、宇航工业中心
		世界四大金融中心之一
		美国交通中心，汇集了 30 多条铁路
		美国最大的飞机制造中心
		西部人口最多的城市和海港

12. 读美国本土农业带分布图，完成下列各题。

(1) 写出图中四个农业带的名称：

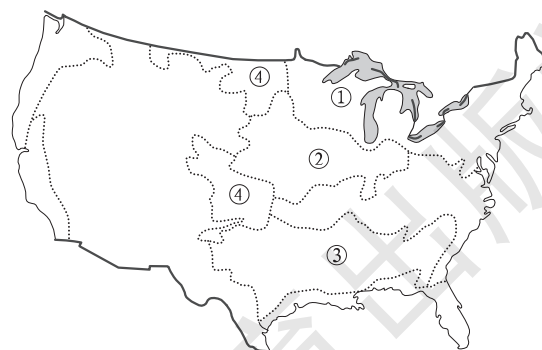
① _____，

② _____，

③ _____，

④ _____。

(2) 描述美国农业生产的特点。



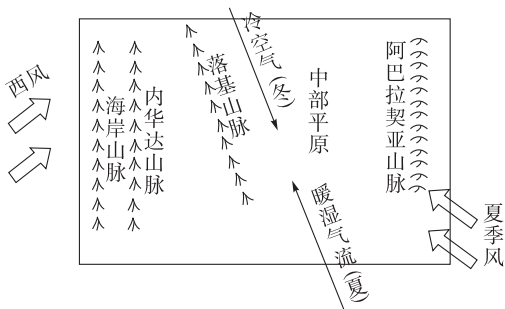
(3) ③地发展农业生产的有利自然条件有哪些？

提高训练

读美国地形结构和盛行气流示意图。据此回答 13~14 题。

13. 美国受太平洋暖湿气流影响很小的主要原因
是 ()

- A. 太平洋沿岸的海岸线比较平直
- B. 太平洋沿岸的半岛和岛屿较小
- C. 美国离太平洋很远，暖湿气流不易到达
- D. 西部山地为南北走向，对暖湿气流有阻挡作用



作用

14. 美国中部平原对气候的影响主要是 ()

- A. 海拔较低，气温较高
- B. 北部的暖湿气流容易到达
- C. 对大西洋的气流有阻挡作用
- D. 冬夏的南北冷暖气流畅通无阻

15. 读美国本土气候分布图，完成下列各题。

(1) 写出图中代号代表的气候类型名称：

- ① _____，
- ② _____，
- ③ _____，
- ④ _____，
- ⑤ _____，
- ⑥ _____。



(2) 图中向南流的河流是_____河，其径流变化有何特点？为什么？

拓展探究

16. 阅读下列资料，分析回答下列问题。

目前，美国经济增长中至少有 27% 归功于高新技术产业，而两个传统的支柱产业——建筑业和汽车制造业仅占 18%。1988—1996 年，美国在计算机数据处理、管理及公共关系等高新技术服务业，新增就业机会 105.6 万个，增长速度达到 45.6%。1996—1997 年，美国因特网经济总额从 155 亿美元增加到了 388 亿美元，2001 年超过 3500 亿美元。1995—1998 年，美国经济增长的 1/3 来自于信息产业，1993—1999 年，美国信息产业在国民经济中所占份额已经由 6% 上升到 8%。

(1) 发展高新技术产业对美国失业率的影响是什么？

(2) 发展高新技术产业对美国经济的影响是什么？



十分钟反思提升

题号	训练点	反思与提升点
13~14	读图能力、美国地形对气候的影响	你注意到气流方向与地形的关系了吗？西部高山能阻挡从太平洋吹来的西风，使得美国受到太平洋暖湿气流影响较小。中部平原对冷暖气流阻碍较小
15 (2)	河流的水文特征	你知道河流径流变化主要由流域内降水变化决定吗？密西西比河流域主要是温带大陆性气候和亚热带季风性湿润气候，这两种气候均是夏季降水多，冬季降水少，因此该河流夏季为汛期，冬季为枯水期
错题序号	错误原因剖析	



知识链接

好莱坞

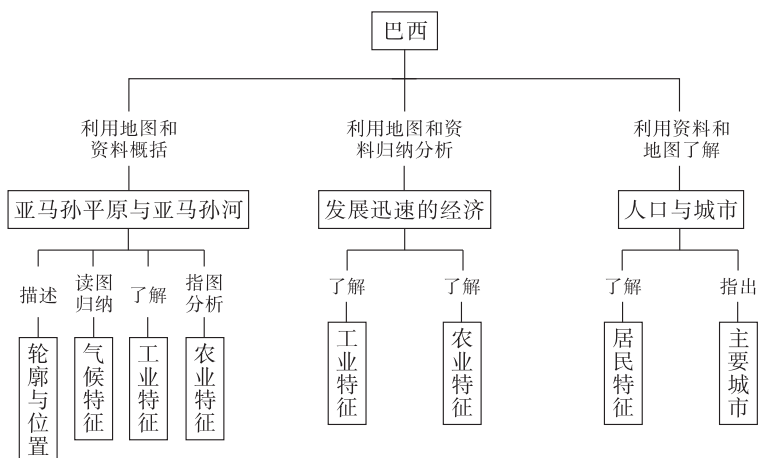
位于美国西海岸加利福尼亚州洛杉矶郊外的好莱坞，是依山傍水、景色宜人的地方。最先是由摄影师寻找外景地所发现的，大约在 20 世纪初，这里便吸引了许多拍摄者，而后一些为了逃避专利公司控制的小公司和独立制片商们纷纷涌来，逐渐形成了一个电影中心。在第一次世界大战之前以及之后的一段时间内，格里菲斯和卓别林等一些电影大师们为美国赢得了世界名誉，华尔街的大财团插手电影业，好莱坞电影城迅速兴起，恰恰适应了美国在这一时期经济飞速发展的需要，电影进一步纳入经济机制，成为谋取利润的一部分，资本的雄厚，影片产量的增多，保证了美国电影在世界市场上的倾销，洛杉矶郊外的小村庄最终成为一个庞大的电影城，好莱坞也无形中成为美国电影的代名词。

好莱坞不仅是全球时尚的发源地，也是全球音乐电影产业的中心地带，拥有着世界顶级的娱乐产业和奢侈品牌，引领并代表着全球时尚的最高水平，梦工厂、迪士尼、20 世纪福克斯、哥伦比亚公司、索尼公司、环球公司、WB（华纳兄弟）等这些电影巨头，还有一些顶级唱片公司都汇集在好莱坞的范畴之内。这里的时尚与科技互相牵制发展，自然不造作，拥有着深厚的时尚底蕴和强大的科技做支持，一直被全球各地争相模仿。由于当地发达的娱乐工业，电影制片厂分布的范围早已不局限在好莱坞一隅，好莱坞与其周边的伯班克等市共同构成了美国影视工业的中心地区。好莱坞市内有不少数十年历史的老电影院，通常被用作电影首映式或举行奥斯卡奖颁奖礼的场所，如今也成为旅游热门地点。

第六节 巴西

学习导航

学习要求



[情感态度和价值观]

在对亚马孙地区开发中大规模毁林引起的环境问题的讨论中，激发环境忧患意识，懂得资源开发、环境保护与人类活动协调发展的必要性。

[学习方法]

1. 运用地图，找出并了解巴西地理位置、领土组成和首都。
2. 运用地图和其他资料，概括归纳巴西地形、植被和河流等自然要素的基本特点。
3. 运用地图和其他资料，联系巴西自然条件特点，了解发展工业和农业的状况。
4. 通过思考和辩论，理解巴西在森林资源开发和环境保护方面的经验、教训。
5. 运用地图和其他资料，掌握巴西的种族、人口数量及分布、语言、城市等人文地理要素的特点。

基础梳理

一、亚马孙平原与亚马孙河

1. 位置和范围：巴西位于南美洲_____部和_____部，东临_____洋。巴西位于西半球，领土主要位于_____纬度，赤道穿过其_____部。巴西的陆地面积851.5万千米²，约占南美大陆总面积的_____。

2. 地形：巴西的地形以_____和_____为主，地势_____高_____低。南部的_____是世界上面积最大的高原。北部的_____平原是世界最大的平原。

亚马孙平原西起_____山脉东麓,东到_____洋,南北介于_____高原和圭亚那高原之间,由_____河长期冲积而成。亚马孙平原是世界上最大的热带雨林区,动植物种类繁多。由于不合理利用,亚马孙平原的热带雨林正在遭受破坏。

3. 河流:亚马孙河发源于_____山脉,向东注入_____洋,是世界上径流量最大、流域面积最广的河流,其长度仅次于非洲_____河,居世界第_____位。亚马孙河支流众多,水流平缓,航运便利,河口号称“河海”。

二、发展迅速的经济

巴西是南美洲经济实力最强的国家。巴西现已形成较完整的_____,工业发展水平_____。巴西的铁矿储量巨大,且大部分是富铁矿,_____产量和出口量均居世界前列。

巴西是世界重要农产品出口国之一,_____,_____,蔗糖、柑橘、大豆、牛肉等产量和出口量均居世界前列。

巴西水力资源丰富,水电在全国发电量中所占比例_____。_____水电站位于巴拉那河上,由巴西和巴拉圭两国合建。

三、人口与城市

1. 居民:巴西总人口达1.94亿(2009年),是南美洲人口最多的国家。巴西90%以上的人口居住在_____地带,其中,以_____部人口最为稠密。

在发展中国家,巴西的城市化水平_____,城市人口比重达70%以上。

巴西的人种复杂,_____人种约占一半,混血人种占1/3强,其余为_____人种和_____人种。巴西的官方语言为_____语。

2. 城市:巴西的第一大城市——_____。_____为巴西第二大城市和最大海港。为了加快_____,1960年巴西政府将首都从里约热内卢迁到巴西高原上的新城市——_____。



要点突破

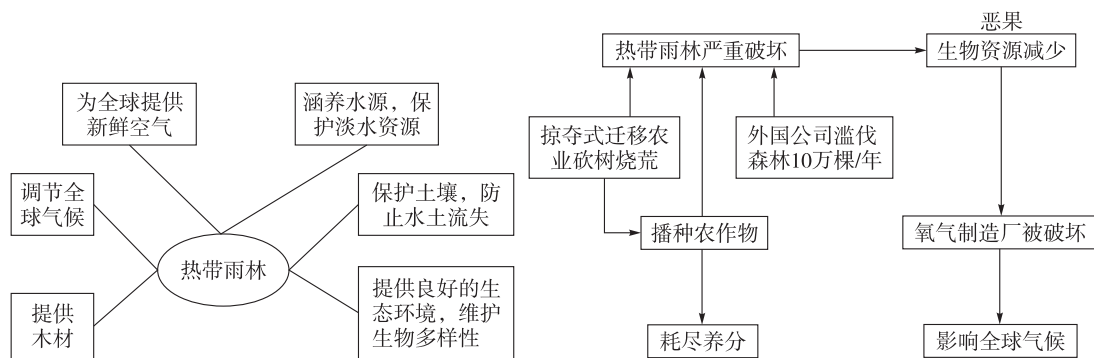
一、归纳巴西的自然地理特征

要素	自然地理特征
面积与位置	面积851.5万千米 ² ,世界第5;位于南美洲东部和中部,东临大西洋;位于西半球,绝大部分位于低纬度,属于热带
地形	以平原和高原为主,地势南高北低。亚马孙平原和巴西高原分别是世界上最大的平原和高原。亚马孙平原由亚马孙河长期冲积而成
气候	北部平原区属于终年高温多雨的热带雨林气候,南部高原区属于干湿分明的热带草原气候
植被	亚马孙平原内形成世界上最大的热带雨林区,巴西高原以热带草原为主
河流	拥有世界上径流量最大、流域面积最广的河流——亚马孙河

二、归纳巴西的人文地理特征

要素	人文地理特征
经济特征	属于发展中国家，经济发展迅速，是南美洲经济实力最强的国家
工业	形成较完整的工业体系，工业发展水平较高，铁矿储量、产量、出口量大，钢铁、机械、汽车、化学、食品、纺织等工业部门地位突出
农业	世界重要的农产品出口国之一，咖啡、可可、蔗糖、柑橘、大豆、牛肉等产量和出口量居世界前列，农业主要集中在东部和东南部沿海地区
人口	总数达 1.94 亿，南美洲人口最多；人种复杂，白色和混血人种较多；官方语言为葡萄牙语；人口集中分布在东部沿海地带；城市化水平高（70%以上）
城市	圣保罗是巴西第一大城市，里约热内卢为巴西第二大城市和最大海港，首都为巴西利亚

三、亚马孙热带雨林的作用、破坏的原因及危害



四、巴西人口与城市分布的特点及原因

巴西的人口和城市主要分布在东部沿海地区，其中东南沿海尤为稠密，而且大城市十分集中。圣保罗是巴西最大的城市和工业中心，它和里约热内卢都是人口超过千万的超级大城市。

巴西人口与城市主要集中在东南沿海的原因：气候温暖湿润，适宜人类生活和生产；海陆交通便利；欧洲殖民者首先到达这里，开发早，工农业发达。



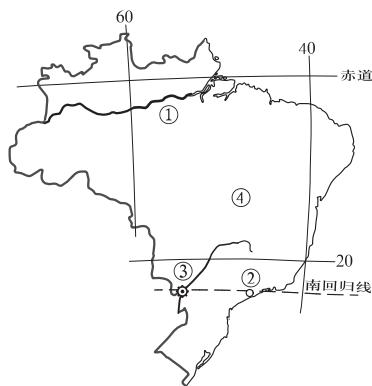
学法指导

【例 1】巴西是南美洲面积最大、人口最多、经济最发达的国家，属于新兴经济体“金砖五国”之一，读图回答下列各题。

- (1) 关于图中①②③④表示的地理事物，正确的叙述是 ()
- ①河是世界上流程最长的河流
 - ②城市是巴西最大的城市
 - ③水电站是目前世界上最大的水电站
 - ④高原地区属于热带雨林气候

(2) 关于巴西经济和人口的叙述, 正确的是 ()

- A. 已形成较完整的工业体系
- B. 世界上最大的可可生产国和出口国
- C. 亚马孙平原地势低平, 人口稠密
- D. 人种复杂, 城市人口比重低



【思路分析】 本题考查同学们对巴西地理特征的了解程度。第(1)题, ①河是亚马孙河, 是世界上流量最大、流域面积最广的河流, 但不是最长的, 最长的是尼罗河。②圣保罗是巴西最大的城市和工业中心。③伊泰普水电站比长江三峡水电站小。④巴西高原属于热带草原气候。第(2)题, 二战后, 经过几十年的建设, 巴西已经从一个农业国发展成了拥有较完整国民经济体系的发展中的工农业大国。巴西的咖啡产量和出口量巨大, 被称为“咖啡王国”。亚马孙平原气候湿热, 人烟稀少。巴西城市人口比重大, 城市问题严重。

[答案] (1) B (2) A

【思维诊断】 对巴西地理特征了解不清或不够全面是导致解题困难的主要原因。如对巴西的世界之最记忆不清, 对巴西工业、农业、人口、城市特征了解不够全面。

排除障碍的方法: 平时学习时, 多进行归纳梳理。如通过表格把巴西的各自然地理要素和人文地理要素的特征进行归纳。如把常见的世界之最进行梳理。

[例2] 阅读下列材料, 分析回答问题。

在街头, 在海滩, 到处都可以看到各种肤色的青年和孩子们, 穿着背心短裤, 甚至赤着脚在踢球、抢球, 行人和车辆要给球让路。桑巴舞是他们喜爱的一种舞蹈。有人说, 他们的足球踢得好, 脚法娴熟, 配合默契, 节奏明快, 如同踏着桑巴舞的节奏一样, 给人一种在踢“艺术足球”的美享受。

(1) 材料中描述的是_____ (国家) 的情境, 该国获得过5届足球世界杯的冠军。

(2) 该国足球球员到欧洲职业俱乐部踢球一般语言问题不大, 你知道原因吗? 如果一位该国球员只会母语, 他最好到欧洲哪一国家去踢球? 原因是什么?

(3) 在该国出生长大的球员到欧洲去踢职业联赛, 他们可能不太适应的气候特点是什么? 为什么?

【思路分析】 本题考查巴西自然和人文地理特征。根据“桑巴”、“足球世界杯冠军”等关键词, 可以判断该国是巴西。巴西5次获得足球世界杯冠军, 是获得冠军最多的国家。巴西的语言为葡萄牙语, 属拉丁语系, 与欧洲许多国家语言相似。巴西处于低纬度, 气候湿热, 欧洲各国处于中高纬度, 气候冷湿, 巴西球员对欧洲可能暂时不太适应。

[答案] (1) 巴西 (2) 欧洲各国与巴西的语言相近, 所以一般语言问题不大。如果只会巴西母语, 他最好到欧洲葡萄牙去踢球, 因为巴西的母语是葡萄牙语。 (3) 巴西气候以热带气候为主, 气候湿热, 而欧洲许多国家纬度较高, 气候温和或冷湿, 因此巴西球员可能不太适应欧洲冬季的低温天气。

【思维诊断】 导致本题解题困难的主要原因在于: 不太熟悉生活的地理; 不能正确审题。

排除障碍的方法: 地理学习时, 一定要注意关注生活中的地理知识, 如足球相关活动中的地理知识。正确审题, 提取题中最为关键的词语, 如“世界杯冠军”、“语言”、“气候”等。



学习评价

达标检测

1. 关于巴西位置的说法，正确的是 ()
- A. 巴西东临大西洋，西临太平洋 B. 巴西与阿根廷不相邻
- C. 巴西位于西半球 D. 巴西全部位于热带

读图，完成 2~4 题。

2. 该国储量、产量都居世界前列的矿产资源是 ()
- A. 煤矿
- B. 铁矿
- C. 石油
- D. 有色金属

3. 上述矿产资源主要分布在 ()
- A. 巴西高原 B. 亚马孙平原
- C. 圭亚那高原 D. 拉普拉塔平原



4. 有关该国的叙述，正确的是 ()
- A. 是热带雨林面积分布最广的国家
- B. 甲城市是该国最大的工业中心
- C. 人口多分布在北部平原的河流沿岸
- D. 积极开发热带雨林是振兴该国经济的有效途径

5. 亚马孙平原的成因是 ()
- A. 河流冲积而成 B. 古冰川侵蚀而成
- C. 风力沉积而成 D. 河流侵蚀而成

6. 巴西的足球明星罗纳尔多回忆自己的童年生活时说“14 岁前，我不知穿鞋是什么滋味”，这句话反映了巴西农村的贫穷，也反映了巴西气候特点是 ()

- A. 温和湿润 B. 多雨 C. 凉爽 D. 炎热

7. 根据巴西的自然特征分析，其农业主要分布在 ()

- A. 巴西东北沿海 B. 巴西北部平原
- C. 巴西东南沿海 D. 巴西高原中西部

8. 伊泰普水电站位于 ()

- A. 巴西与阿根廷之间 B. 巴西高原与拉普拉塔平原之间
- C. 亚马孙河上游河段 D. 安第斯山山麓

9. 巴西地势特征大致是 ()

- A. 东高西低 B. 南高北低
- C. 东北高西南低 D. 东南低西北低

10. 亚马孙河流量很大的主要原因是 ()

- A. 植被丰富
B. 河道宽广，河水深
C. 临近海洋
D. 流域内降水多，流域面积大

11. 读巴西轮廓示意图，完成下列各题。

(1) 图中 m 点的经纬度是 _____，_____。

(2) 写出图中数字代表的水域名称：

① _____ 洋，② _____ 洋。

(3) 河流③冲积形成了世界上面积最大的 _____ 平原，该平原属于 _____ 气候，平原上分布着世界面积最大的 _____，因产生了世界 1/5 的氧气供给量，所以被誉为“_____”。

(4) 图中 A 为世界上最大的高原 _____。

(5) B 是巴西首都 _____，图中 D、E 字母代号中表示巴西最大的城市圣保罗的是 _____。

(6) 图中位于巴西首都 _____ 方向的 C 处有巴西和巴拉圭两国合建的世界著名的 _____ 水电站。



12. 读巴西人口分布图，回答问题。

(1) 据图描述巴西人口分布的特点。

(2) 巴西北部人口稀疏的主要原因是什么？

(3) 巴西的城市化水平 _____，这可能带来哪些城市化问题？



提高训练

读右图，完成 13~15 题。

13. 该国是 ()

- A. 法国
B. 澳大利亚
C. 埃及
D. 巴西

14. ①城市是 ()

- A. 该国的首都
B. 该国最大城市
C. 该国最大的港口
D. 该国的工业中心



15. ①城市的气候类型是 ()

- A. 热带草原气候
B. 热带沙漠气候
C. 热带季风气候
D. 热带雨林气候

16. 当我国正值隆冬季节时, 巴西高原是 ()

- A. 正值旱季, 昼长夜短
B. 正值雨季, 昼短夜长
C. 正值雨季, 昼长夜短
D. 正值旱季, 昼短夜长

当地时间 2011 年 1 月下旬, 巴西里约热内卢州发生的特大洪水与泥石流灾害, 造成 800 多人死亡。据此回答 17~18 题。

17. 灾害发生地 ()

- A. 地势平坦
B. 坡陡谷深
C. 此时寒风刺骨
D. 此时干燥少雨


18. 下列有关里约热内卢城市位置的说法, 正确的是 ()

- A. 位于北回归线附近
B. 位于中部平原
C. 位于巴西利亚东北方
D. 位于西半球


19. 读热带雨林地区原始的迁移农业示意图, 完成下列各题。



I 垦荒者砍倒树木, 然后烧毁



II 在烧荒的土地上播种农作物



III 几年后, 作物耗尽土壤中的养分



IV 垦荒者迁移到新的林地上, 再砍树开垦

(1) 从图中可以看出, 热带雨林被破坏的主要原因之一是_____。

(2) 热带雨林被破坏将带来什么生态恶果?

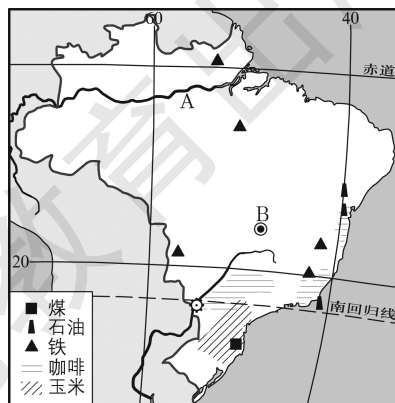
(3) 巴西拥有世界上面积最广阔的热带雨林, 请简述这片雨林对全球环境起到哪些作用。(至少写两条) 我们应当怎样保护这片雨林?(至少写三条)

拓展探究

20. 读巴西农产、矿产和城市分布图, 完成下列各题。

(1) 铁矿是巴西主要出口产品和钢铁工业原料, 根据图中矿产资源的分布特点, 巴西的铁矿出口地和钢铁工业分布地应该在_____。

(2) 根据图中咖啡和玉米的分布特点, 总结出巴西的农业区的分布特点是什么。



(3) A 河航运便利, 但航运并不发达, 简要分析其主要原因。

21. 阅读材料, 回答下列问题。

巴西虽然拥有世界上 17% 的淡水资源, 但是严重的水污染剥夺了人们饮用洁净水的权利。在巴西全国约有近 880 万人喝不上干净的饮用水, 这个问题主要表现在贫民区。在里约热内卢, 有 1/3 的人没有干净的水喝, 生病后更得不到及时的诊治。专家指出, 住院的病人中, 有 70% 所患的病是由水污染引起的。

(1) 巴西拥有丰富的淡水资源的原因是什么?

(2) 巴西水污染的污染源主要来自哪些人类活动?

(3) 巴西水污染最严重地区在哪里? 为什么?



十分钟反思提升

题号	训练点	反思与提升点
16	巴西自然地理特征	你注意到巴西高原与我国存在南北半球位置差异吗? 我国隆冬季节, 也就是南半球夏季, 南半球均昼长夜短; 巴西高原为热带草原气候, 其夏季为多雨的季节
17	巴西自然地理特征	你注意到“1月下旬”“泥石流”等关键词语了吗? 1月为南半球夏季, 为巴西南部的多雨季节; “坡陡谷深”是形成泥石流的条件之一
20 (3)	河运特征	你注意到本题有两个问题了吗? 即“为什么航运便利?”“为什么航运不发达?”前一个问题主要用自然条件来解答, 后一个问题主要用社会经济条件来解答
21 (3)	环境污染	水污染源的多少往往与人类活动的强度有关, 即工农业较发达地区可能产生的污染物质较多
错题序号	错误原因剖析	



知识链接

31 届奥林匹克运动会主办权的城市——里约热内卢

巴西第二大城市，仅次于圣保罗，面积1256千米²，人口600多万，也是巴西的旧首都，其在1960年以前为巴西首都，后迁至巴西利亚，风景优美，每年吸引大量游客到此观光，市境内的里约热内卢港是世界三大天然良港之一，而里约热内卢基督像也是世界新七大奇迹之一，它濒临大西洋，海岸线长636千米。沿海地势较平坦，内陆多为丘陵和山地。属热带海洋性气候，一般为17~39℃，年平均气温25℃。里约热内卢不仅是巴西，乃至是南美的重要门户，同时也是巴西及南美经济最发达的地区之一，素以巴西重要交通枢纽和信息通信、旅游、文化、金融和保险中心而闻名。

巴西是世界10大旅游创汇国之一，游客多来自拉美、美国和欧洲。里约热内卢旅游资源丰富，旅游景点多，最著名的景观为里约热内卢基督像。

哥本哈根当地时间2009年10月2日18:30，里约热内卢宣布申办2016年夏季奥林匹克运动会，并最终获选。

足球是巴西人最喜欢的运动，是巴西人文化生活的主流。对巴西人来说，足球是运动但更是文化。每当联赛或重大国内国际比赛进行时，巴西人常常举家前往观战，整个城市万人空巷，而赛场人山人海。

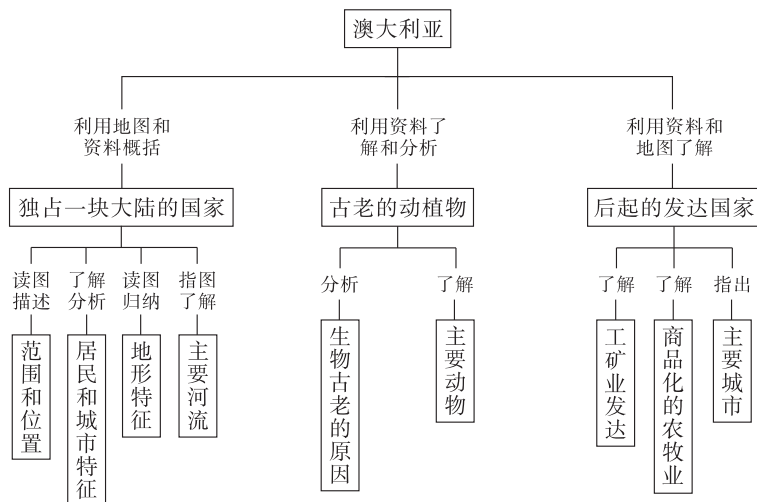
湖南教育出版社

第七节 澳大利亚



学习导航

学习要求



[情感态度和价值观]

通过了解澳大利亚古老动物的生存状况，培养同学们与大自然和谐相处的基本理念。

[学习方法]

1. 运用地图，指出和描述澳大利亚地理位置、领土组成和首都。
2. 运用地图和其他资料，学会概括和分析澳大利亚自然环境的基本特点。
3. 运用地图和其他资料，联系澳大利亚自然条件特点，简要分析该国发展工矿业和农牧业的条件。
4. 运用地图和其他资料，说出并掌握澳大利亚的人口、种族、语言、城市等人文地理要素的特点。

基础梳理

一、独占一块大陆的国家

1. 位置与范围：澳大利亚是大洋洲面积最大的国家，也是世界上唯一独占一块大陆的国家。它位于_____洋与_____洋之间，由_____大陆和塔斯马尼亚岛等岛屿组成。面积居世界第_____位。

2. 居民：2009年，人口达2188万，从人口密度来看，澳大利亚是一个_____的国家。其中_____人种约占90%，他们大多是_____国移民的后裔。澳大利亚城市人口约占总

人口_____以上。_____语为通用语言。

3. 地形：澳大利亚大陆地势_____、起伏_____。

自西向东分为三大地形区。西部_____区宽广低缓，约占大陆总面积的60%。这里_____广布，著名的_____巨石成为高原上的一大奇观。中部为_____区，称为_____。这里_____丰富、分布广泛，地下水可自动流出，因此又称为“_____”。东部为_____，主要山脉是_____，该山发源于澳大利亚最大的河流——_____。大陆东北部海岸外，有举世闻名的_____。

4. 气候及影响：澳大利亚气候类型的分布大致呈半环状。比较湿润的气候分布在东部和南部沿海，这里的人口和城市相对_____；澳大利亚中西部气候干旱，这里人口_____。

二、古老的动植物

1. 多古老动植物的原因：距今几千万年以前，澳大利亚大陆与其他大陆_____，长期孤立；当地自然环境比较_____，生物进化_____。

2. 主要古老动植物：_____、考拉、针鼹、_____、澳洲肺鱼、黑天鹅、鸸鹋和桉树、金合欢树等。

三、后起的发达国家

1. 经济：澳大利亚是南半球经济发达的国家。高度商品化的_____业和蓬勃发展的_____业是澳大利亚经济的支柱，近些年来，澳大利亚的_____业发展较快。

农产品以_____、甘蔗、马铃薯等为主；畜牧业以养_____、牛、猪最为重要。被称为“_____”的国家。

采矿业中，_____、铝土矿等开采量均居世界前列。被称为“_____”的国家。澳大利亚主要工业部门有钢铁、有色冶金、纺织等。近年来，高新技术产业逐步崛起。

2. 城市：首都——_____。_____是全国最大的工业中心和海港城市，海滨有著名的_____等建筑。_____是全国第二大城市，也是著名的文化和体育中心城市，拥有全球最大的有轨电车网络。



要点突破

一、归纳澳大利亚的自然地理特征

要素	自然地理特征
范围与位置	由澳大利亚大陆和塔斯马尼亚岛等岛屿构成；大洋洲面积最大，也是世界唯一独占一块大陆的国家；位于太平洋和印度洋之间；南回归线穿过其中部
地形	地势低平、起伏和缓，自西向东分为三大地形区：西部高原区宽广低缓；中部平原区地势低平，地下水丰富；东部山地区以大分水岭为主，东北海岸外有大堡礁
气候	气候类型分布呈半环状，热带沙漠气候面积广大，较为湿润的气候分布在东部和南部
河流	最大的河流——墨累河发源于大分水岭西侧
生物	多古老动植物，如袋鼠、树袋熊、针鼹、鸭嘴兽、澳洲肺鱼、黑天鹅、鸸鹋和桉树、金合欢树等

二、归纳澳大利亚的人文地理特征

要素	人文地理特征
经济特征	南半球经济发达的国家；农牧业和工矿业是经济支柱，服务业发展较快
工矿业	采矿业中，铁矿石、铝土矿等开采量均居世界前列；钢铁、有色冶金、汽车、化工、食品、纺织为主要工业部门；高新技术产业逐步崛起
农业	农产品以小麦、甘蔗和马铃薯等为主，畜牧业以养羊、牛、猪最为重要，是世界上重要的小麦、羊毛、牛肉出口国之一
居民	地广人稀，白色人种为主，多为英国移民的后裔，城市人口比重达90%以上，通用英语，人口主要集中在东南沿海地区
城市	首都堪培拉，最大城市悉尼，第二大城市墨尔本；城市主要集中在东南沿海

三、澳大利亚大陆多古老动植物的主要原因

6500万年以前，澳大利亚大陆就同其他大陆分离，孤立存在于南半球的海洋上。长期以来，自然条件单一，变化很小，动植物的演化很缓慢，动物缺少了与其他大陆间动物的交流，又没有大型食肉动物的追捕，许多动物失去生存的天敌，使原始动物保存下来，于是在澳大利亚保存了许多古老的动植物种类。

四、澳大利亚养羊业发达的自然条件

1. 地形：澳大利亚中部平原广阔，地势低平，土壤肥沃。
2. 气候：南回归线穿过大陆中部，受高压影响，广大内陆和西部气候干旱，多为草原和沙漠。草场面积广阔，天然牧场约占全国总面积的3/5。
3. 水文：中部河流很少，但地下水丰富，有世界上最大的地下水分布区——大自流盆地，在地势低的地区打井，地下水自动流出地面形成自流井，井水为微咸水，不宜灌溉农田和作为人的饮用水，但可作为牲畜饮水。
4. 生物群落：澳大利亚大陆缺乏大型肉食动物，有利于放牧。

由于以上优势条件，养羊业一直是澳大利亚经济的主要部门。其羊毛产量、出口量均居世界第一，因此澳大利亚成为“骑在羊背上”的国家。

学法指导

[例1] 澳大利亚是世界上唯一拥有一个大陆的国家，自然环境独特，据此完成下列各题。

(1) 关于澳大利亚地形特征的叙述，正确的是 ()

- A. 多山地和高原，地势高
- B. 地形分为东、中、西三大地形区
- C. 地表起伏很大
- D. 整体地势具有西高东低的特征

(2) 关于墨累河的叙述，正确的是 ()

- A. 注入太平洋
- B. 流域面积大，流量巨大



C. 流量与大分水岭有关

D. 结冰期长

【思路分析】 本题综合考查同学们对澳大利亚自然地理特征的理解程度和读图能力。第(1)题, 澳大利亚虽然有广阔的高原和山地, 但是高原的海拔多在 200~500 米, 山地海拔在 500~1000 米, 因此平均海拔较低; 澳大利亚西部高原和中部平原起伏和缓, 而这两地形区的面积占全澳总面积的 85%, 因此澳大利亚地表起伏不大; 东部山地平均海拔较高, 西部高原平均海拔较低, 中部平原平均海拔最低, 不具有西高东低的地势特征; 从图中直接可以看出, 澳大利亚地形分为东、中、西三大地形区。第(2)题, 澳大利亚大陆南边和西边均为印度洋, 因此图中墨累河注入的是印度洋; 墨累河流域位于大分水岭的背风坡, 降水少, 因此墨累河流量不大, 因此其流量与大分水岭有关; 从图中可以看出, 墨累河主要位于亚热带地区, 冬季气温高于 0℃, 因此墨累河无结冰期。

[答案] (1) B (2) C

【思维诊断】 本题解题困难主要在于同学们不能综合分析澳大利亚的位置、地形、气候、河流等要素之间的有机联系。如不能准确描述澳大利亚的地形特征; 不清楚澳大利亚临近的海洋; 不清楚河流流量与降水量的关系; 不能理解降水量与地形的关系; 不能通过纬度位置判断冬季气温的高低; 等等。

排除障碍的方法: 认真读图, 掌握其位置、地形等基础知识; 仔细思考, 澳大利亚各地理要素之间的关系。

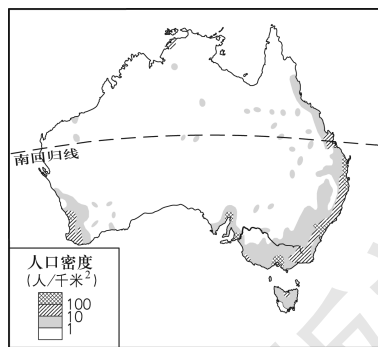
[例 2] 读澳大利亚人口分布图, 回答下列各题。

(1) 澳大利亚的人口和城市主要分布在 ()

- A. 西部沿海地区 B. 东南部沿海地区
C. 中部地区 D. 南部地区

(2) 决定澳大利亚人口分布的主要自然因素是 ()

- A. 纬度因素 B. 海陆位置
C. 气候因素 D. 矿产分布



【思路分析】 本题考查同学们对澳大利亚人口相关知识的理解程度和描述能力。第(1)题, 通过仔细看图例, 然后正确进行归纳描述即可。第(2)题, 根据人口密集区所跨纬度较大, 且方向呈南北延伸, 可以排除 A 选项; 根据澳大利亚的铁矿等矿产资源分布与人口密集区的分布不一致, 可以排除 D 选项; 澳大利亚的人口集中分布在东部沿海地区, 但又不是所有沿海地区都人口密集, 因此排除 B 选项; 东南沿海地区以亚热带湿润气候和温带海洋性气候为主, 气候温暖湿润, 适合人类生产和生活, 因此人口密集。

[答案] (1) B (2) C

【思维诊断】 本题解题困难应该出现在第(2)题的 B、C 选择判断上。容易被“东南部沿海地区”中的“沿海”所迷惑, 从而导致选择失误。

排除障碍的方法: 注意审题, 看出字里行间的真正含义, 可以采取推导的方法进行甄别。例如, 如果选择“海陆位置”作为决定性因素, 那么人口应该由沿海向内陆递变, 与实际情况进行比较发现, 并不是这样。



学习评价

达标检测

1. 澳大利亚南边濒临的大洋主要是 ()
A. 太平洋 B. 大西洋 C. 北冰洋 D. 印度洋
2. 下列岛屿中, 属于澳大利亚的是 ()
A. 新几内亚岛 B. 塔斯马尼亚岛 C. 南岛 D. 北岛
3. 澳大利亚的人口主要分布在 ()
A. 中西部 B. 东北沿海 C. 东南沿海 D. 北部低纬沿海
4. 关于澳大利亚经济特征的说法, 正确的是 ()
A. 南半球经济实力较强的国家, 但属于发展中国家
B. 经济以农牧业为主, 其他经济部门较落后
C. 工业以采矿业为主, 加工工业和高新技术产业水平低
D. 有现代化的农牧业和工矿业
5. 澳大利亚东部的地形是 ()
A. 大分水岭 B. 大自流盆地
C. 低缓的高原 D. 高大山系
6. 澳大利亚输出的主要矿产是 ()
A. 煤和石油 B. 铁矿石和铝土矿
C. 石油和铝土 D. 黄金和石油
7. 澳大利亚海岸南北延伸 2000 多千米的珊瑚礁——大堡礁位于 ()
A. 东南沿海 B. 西南沿海 C. 西北沿海 D. 东北沿海

读某国国徽示意图, 图中有该国所特有的两种动物, 是国家的标志, 民族的象征。据此回答 8~9 题。

8. 这两种动物分别是 ()
A. 鸭嘴兽、考拉 B. 袋鼠、考拉
C. 鸸鹋、鸭嘴兽 D. 袋鼠、鸸鹋
9. 该国是 ()
A. 俄罗斯 B. 美国
C. 新西兰 D. 澳大利亚
10. 下列著名建筑景观, 位于澳大利亚的是 ()



A



B



C



D

11. 读澳大利亚图，按要求完成下列各题。

(1) 填写数字序号代表的地理事物名称：

大洲：①_____。

大洋：②_____，③_____。

地形区：④_____，⑤_____，

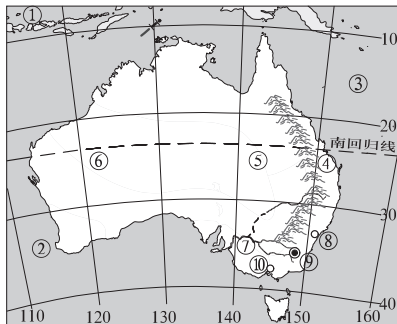
⑥_____。

河流：⑦_____。

城市：⑧_____，⑨_____，

⑩_____。

(2) 描述澳大利亚的地理位置特点。



12. 在 200 多年前，澳大利亚没有羊。18 世纪后期，欧洲的殖民者随船带到澳大利亚 29 只绵羊。由于澳大利亚的自然条件适于绵羊的生长和繁殖，绵羊的数量迅速增加。欧洲殖民者看到了养羊业的大好前景，随后又从西班牙引进了美利奴羊。经过不断选种改良，培育成产毛量高、毛质细长柔软的美利奴新种细毛羊。现在，澳大利亚的绵羊大部分是这种羊。2000 年澳大利亚共饲养绵羊 1.5 亿头，是世界上绵羊较多的国家之一。

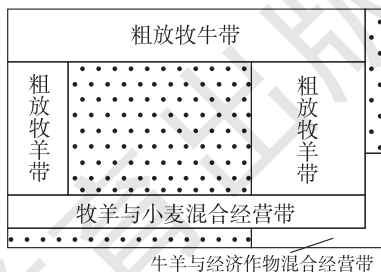
澳大利亚特别适合绵羊生长的自然条件有哪些？

提高训练

澳大利亚是世界上重要的小麦、羊毛、牛肉出口国，下图是澳大利亚农牧业分布模式示意图，据图回答 13~14 题。

13. 澳大利亚是世界上主要粮食出口国之一，其产地主要位于 ()

- A. 粗放牧羊带
- B. 牛羊与经济作物混合经营带
- C. 粗放牧牛带
- D. 牧羊与小麦混合经营带



14. 图中信息能够反映出澳大利亚在自然环境和自然资源方面的特点是 ()

① 自然环境具有明显差异 ② 自然环境具有高度的一致性 ③ 草场资源十分丰富 ④ 矿产资源十分丰富

- A. ①②
- B. ①③
- C. ②③
- D. ③④

15. 右图是澳大利亚沿 30°S 地形剖面图，读图分析完成下列各题。



(1) 据图描述澳大利亚的地形特征。

(2) A 处的大洋名称是_____，B 处是_____洋。

(3) 从③到②降水量的变化特点是_____，其降水量变化的原因与地形区_____（字母代号）有密切的关系，该地形区起到的主要作用是_____。

(4) ①地形区人口与城市的密度较_____，其主要自然原因是_____。

拓展探究

16. 读澳大利亚气候分布图，完成下列各题。

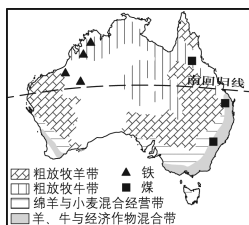
(1) 据图说说澳大利亚的气候特征。



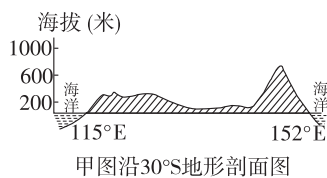
(2) 据图分析，澳大利亚的气候分布有何规律？

(3) 如果你到澳大利亚去开辟牧场，你会将牧场选择在什么气候区内？为什么？

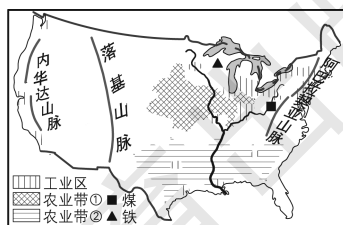
17. 读两国示意图，回答问题。



甲



乙



丙

(1) 两国地势起伏变化有共同之处，据图分析其共同之处是_____。

(2) 两国农业生产区域性特征显著，农业机械化程度都很高，其有利于实施机械化生产的主要自然因素是_____。

(3) 牛仔裤耐磨耐脏，选料多为粗棉布。数码①、②代表的农业带中，能够为生产牛仔裤提供原料的是_____（填数码）。

(4) 甲国被称为“坐在矿车上”的国家，煤、铁矿是重要出口矿产。试分析煤、铁矿的分布特点对该国出口矿产有什么好处。

(5) 丙国东北部地区钢铁工业发达，利用图中信息说明其原因。



十分钟反思提升

题号	训练点	反思与提升点
14	读图与农业	你注意到澳大利亚出现多个农业带和面积最大的农业带了吗？多个农业带的出现说明自然条件内部有明显的差异。面积最大的农业带是粗放的牧牛、牧羊带，放牧牛羊一般要有广阔的草场
15 (3)	地形与气候	你知道澳大利亚东部降水的水汽来源吗？澳大利亚东部降水的水汽来源于太平洋，暖湿气流向西运行过程中，受到大分水岭的阻挡，因此东部迎风坡降水多，西侧背风坡降水少
16 (1)	气候特征	你记得一个区域的气候特征一般从哪些方面进行描述吗？气候特征一般从气候类型、主要气候特征（气温和降水等特征）、区域内部的气候差异等方面进行描述
17 (4)	矿产分布与贸易	你注意到铁矿资源一般以什么运输方式出口吗？矿产资源大多为大宗笨重货物，一般用廉价的海运运输。矿产资源临近海洋分布，可以减少出口的运输成本
错题序号	错误原因剖析	



知识链接

澳大利亚的六个州和两个领地

全国第一州——新南威尔士（首府：悉尼，全州人口：约 680 万人）。

阳光之州——昆士兰（首府：布里斯班，全州人口：约 418 万人）。

节日之州——南澳大利亚州（首府：阿德莱德，全州人口：约 155 万人）。

花园之州——维多利亚（首府：墨尔本，全州人口：约 500 万人）。

野花之州——西澳大利亚州（首府：珀斯，全州人口：略多于 200 万人）。

假日岛屿之州——塔斯马尼亚州（首府：霍巴特，全州人口：48 万多人）。

北领地（首府：达尔文，全领地人口：略多于 20 万人）北领地以其著名的“红土中心”及世界上最大的独立岩石艾尔斯巨石而骄傲，北领地主要的工业是矿业，肉牛饲养也占有重要的地位。

首都领地（全领地人口：略多于 32 万人）澳大利亚首都领地的面积为 2333 千米²，其中最重要的城市是首都堪培拉，堪培拉位于悉尼和墨尔本之间，距澳大利亚南阿尔卑斯山不远。

第六章测试卷

时量：45分钟 总分：100分

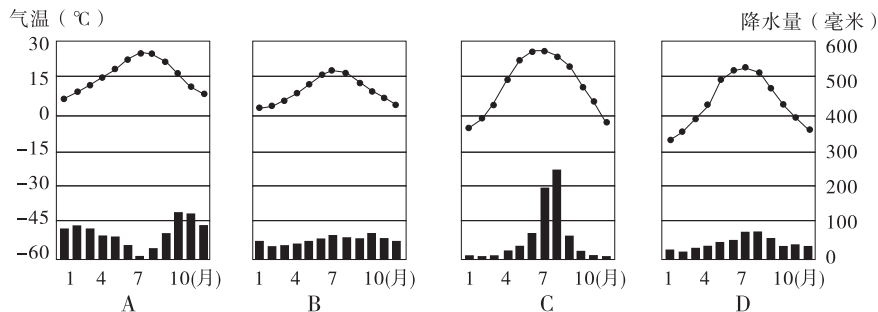
测试卷

地理七年级下册（湘教版）

一、单项选择题（每小题3分，共54分）

“地形以高原、山地为主，平均海拔高；地面起伏大，高低悬殊；地势中部高，四周低。”以上是对某大洲地形特征的描述，据此回答1~2题。

1. 该大洲是 ()
A. 欧洲 B. 非洲 C. 亚洲 D. 南美洲
2. 关于该大洲的世界之最，下列说法正确的是 ()
①有世界上面积最大的季风气候区 ②有世界上面积最大的平原
③有世界上最长的河流 ④有世界上海拔最高的山脉
A. ①② B. ③④ C. ①④ D. ②③
3. 下列气候类型中，亚洲没有的是 ()



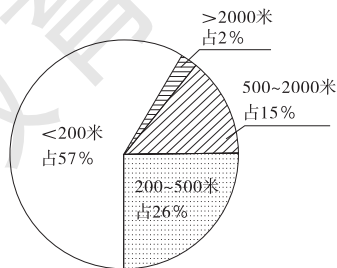
由南海舰队“武汉”舰、“玉林”舰和“青海湖”舰组成的中国海军第九批护航编队，2011年7月2日上午从广东湛江某军港解缆起航，赴亚丁湾、索马里海域接替第八批护航编队执行护航任务。结合右图，完成4~5题。

4. 索马里海盗经常出没的海域属于世界四大洋中的 ()
A. 太平洋 B. 大西洋 C. 印度洋 D. 北冰洋
5. 索马里(国家)位于世界七大洲中的 ()
A. 亚洲 B. 非洲 C. 欧洲 D. 北美洲



右图显示为某大洲不同海拔地形区所占的比例，读图完成6~7题。

6. 据图可知该大洲的地形应以 ()
A. 高原为主 B. 山地为主
C. 丘陵为主 D. 平原为主



7. 该大洲应是 ()

- A. 欧洲 B. 北美洲 C. 非洲 D. 南美洲

8. 欧洲西部的气候深受大西洋影响的原因是 ()

- A. 东临大西洋, 纬度位置适中 B. 海岸线曲折, 各地距海都不远
C. 多南北走向的山脉, 有利于暖湿空气抬升 D. 位于东风带, 又有北大西洋暖流经过

9. 下列关于非洲的叙述, 正确的是 ()

- A. 地势西北高, 东南低 B. 有世界上面积最大的热带雨林区
C. 矿产资源丰富, 但生物资源极为贫乏 D. 目前仍是世界上经济发展水平最低的大洲

10. 非洲农牧业生产落后的历史根源是 ()

- A. 自然条件极为恶劣 B. 国家政局不稳定
C. 畜牧业占农业产值的比重大 D. 长期遭受殖民统治

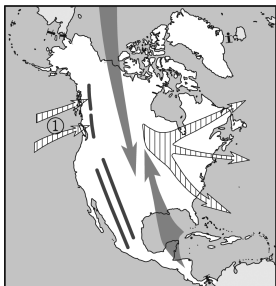
读北美洲地形对气候的影响图, 完成 12~13 题。

11. 图中①气流是 ()

- A. 西风 B. 东南季风
C. 北风 D. 西北季风

12. 三洋一湾环绕该大洲, 但该大洲以温带大陆性气候为主, 主要影响因素是 ()

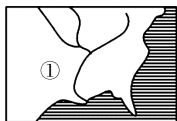
- A. 纬度因素 B. 地形因素
C. 洋流因素 D. 海陆因素



13. 亚洲、欧洲、南北美洲都有分布的气候类型是 ()

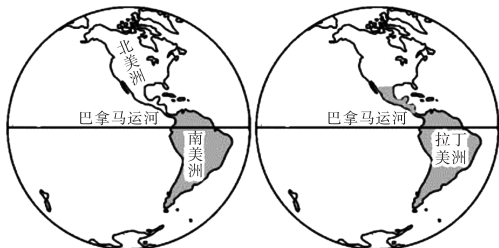
- A. 热带雨林气候 B. 热带季风气候 C. 地中海气候 D. 亚热带季风气候

14. 读世界四大长河水系示意图, 下面四条河流中, 长度由大到小排列顺序正确的是 ()



- A. ②①③④ B. ②④③① C. ③②④① D. ②③④①

通过学习地理, 我们了解了很多遥远的地区。读图回答 15~16 题。



因纽特人的冰屋



15. 下列对图中各区域范围的描述, 正确的是 ()

- A. 美洲地区由北美洲和拉丁美洲两个区域组成
B. 拉丁美洲是指巴拿马运河以南的美洲地区
C. 北美洲的一些地区也属于拉丁美洲地区
D. 南美洲的区域范围要远远大于拉丁美洲

16. 如图所示的建筑应该位于 ()
- A. 巴拿马运河附近
B. 拉丁美洲地区
C. 北美洲北部
D. 南美洲南部

读图完成 17~18 题。

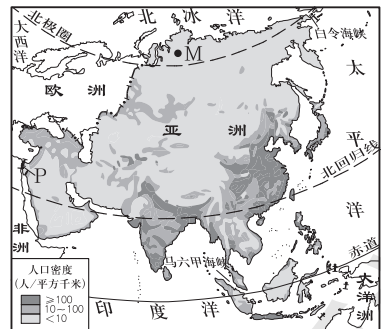


17. a 大洲与 b 大洲的地理分界线是 ()
- A. 苏伊士运河
B. 巴拿马运河
C. 白令海峡
D. 乌拉尔山脉—乌拉尔河—里海—大高加索山脉—黑海—土耳其海峡
18. 下列关于四个大洲的叙述, 错误的是 ()
- A. a 大洲是世界上季风气候最显著的地区, 主要分布在其东部和南部
B. b 大洲有世界上最大的沙漠
C. c 大洲有世界上最典型的温带海洋性气候和地中海气候
D. d 大洲被誉为“世界人种大熔炉”

二、综合题 (共 3 小题, 46 分)

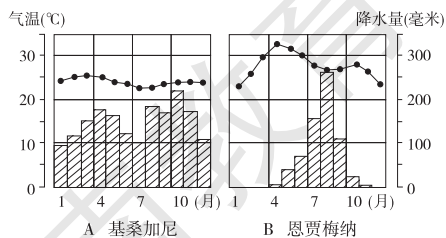
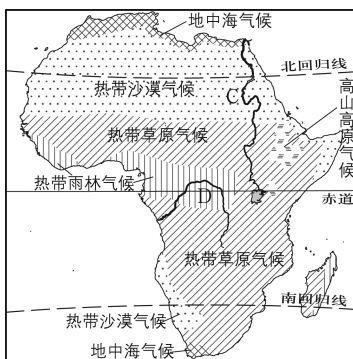
19. 读亚洲人口分布略图, 完成下列问题。(10 分)

- (1) 亚洲北临 _____ 洋, 南临 _____ 洋。
- (2) 亚洲人口稠密区主要分布在 ()
- A. 东部、北部
B. 东部、南部
C. 东部、西部
D. 中部、北部
- (3) 图中 M 地人口稀少的最主要原因是 _____



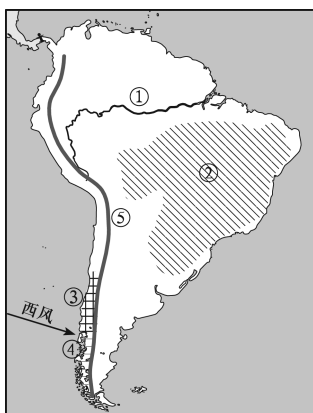
- (4) 字母 P 处是亚洲与非洲的分界线, 名称叫 _____。
- (5) 一艘油轮从波斯湾到中国的上海, 所走最近航线要经过 ()
- A. 直布罗陀海峡
B. 白令海峡
C. 麦哲伦海峡
D. 马六甲海峡

20. 读非洲气候图, 完成下列各题。(16 分)



- (1) A、B 两图中，_____图符合非洲面积最大的气候类型的气温和降水特征。
- (2) 赤道附近出现高原气候和高山气候主要是受_____（纬度或海陆或地形）因素影响。
- (3) 河流 D 是_____，它比 C 河流水量大得多，主要原因是_____。
- (4) 从图上可知，非洲大陆的气候分布特点是_____。
- (5) 非洲被称为“热带大陆”的主要原因是_____。

21. 读北美洲图，回答下列问题。(20分)



- (1) 左图中字母 A 是_____山脉，此山脉属于_____山系的一部分。字母 C 是_____河，该河流注入_____湾。由图上可以看出，北美洲地形的分布特点是_____。
- (2) 右图中世界最长的山脉⑤是_____；②是_____（地形区），主要位于_____（国家）境内，该国首都迁建在该高原上的自然原因是_____。
- (3) 为什么右图中③④两种气候类型局限在太平洋沿岸狭长的地带？
- (4) 右图中①河是世界上水量最大的河流，试从地形和气候两个方面分析其原因。

第七章测试卷

测试卷

时量：45分钟 总分：100分

地理七年级下册（湘教版）

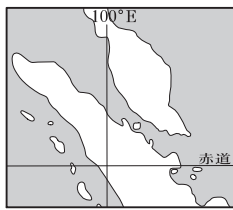
一、单项选择题（每小题2分，共50分）

- 下列各组国家中，全部属于东南亚地区的是 ()
A. 缅甸、孟加拉国
B. 泰国、印度
C. 印度尼西亚、菲律宾
D. 马来西亚、日本
- 下列国家中，有“火山王国”之称的是 ()
A. 印度尼西亚
B. 马来西亚
C. 日本
D. 印度
- 地球上最冷的地区在 ()
A. 北极地区
B. 南极地区
C. 蒙古、西伯利亚
D. 青藏高原
- 西亚地处“五海三洲”之地，其中“三洲”指的是 ()
A. 亚洲、非洲、拉丁美洲
B. 欧洲、北美洲、南美洲
C. 亚洲、欧洲、非洲
D. 亚洲、大洋洲、非洲
- 南亚有三大地形区，其地势特征是 ()
A. 中部高，南北低
B. 自北向南逐级降低
C. 自南向北逐级降低
D. 南北高，中部低
- 苏伊士运河沟通了 ()
A. 黑海和地中海
B. 地中海和大西洋
C. 红海和阿拉伯海
D. 红海和地中海
- 西亚著名的灌溉农业区为 ()
A. 湄公河三角洲
B. 美索不达米亚平原
C. 图兰平原
D. 阿拉伯高原

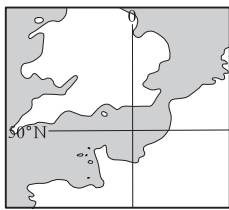
读图回答8~10题。



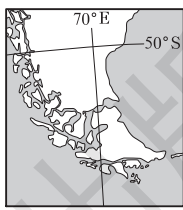
A



B



C



D

- 用油轮运输石油，从波斯湾到日本，最短的路线要经过的著名海峡是 ()
- 沟通太平洋和大西洋的海上交通要道，并且由于接近南极大陆，成为通往南极的码头和南极考察船只的物资补给站的海峡是 ()
- 以上海峡的名称排列正确的是 ()
A. 直布罗陀海峡 马六甲海峡 麦哲伦海峡 英吉利海峡
B. 土耳其海峡 马六甲海峡 麦哲伦海峡 英吉利海峡
C. 直布罗陀海峡 马六甲海峡 英吉利海峡 麦哲伦海峡
D. 英吉利海峡 直布罗陀海峡 马六甲海峡 麦哲伦海峡

11. 下列国家、首都及首都的气候类型搭配错误的一组是 ()
- A. 越南—河内—热带季风气候 B. 缅甸—仰光—热带雨林气候
C. 马来西亚—吉隆坡—热带雨林气候 D. 泰国—曼谷—热带季风气候
12. 下列国家与其地理信息描述正确的是 ()
- A. 阿富汗——临海的国家 B. 以色列——节水灌溉农业为主
C. 伊朗——沙漠广布，石油稀少 D. 瑞典——钟表王国
13. 中东地区气候干燥，河流稀少，本区除尼罗河外，重要的河流还有 ()
- A. 苏伊士运河和巴拿马运河 B. 底格里斯河和幼发拉底河
C. 底格里斯河和多瑙河 D. 幼发拉底河和赞比西河
14. 南亚的棉花主要分布于 ()
- A. 印度河平原 B. 喜马拉雅山的南侧 C. 德干高原西部地区 D. 恒河下游平原
15. 下列在西亚难以见到的景象是 ()
- A. 沙漠广布，井架林立 B. 手捧《圣经》，去清真寺做礼拜
C. 挂美国、日本国旗的油轮进出港口 D. 吃椰枣、喝泉水、骑骆驼
16. 乞拉朋齐成为世界“雨极”的原因是 ()
- A. 地形和季风的影响 B. 地形和纬度的影响
C. 地形和洋流的影响 D. 季风和洋流的影响
17. 符合“工业大国”、“农牧业大国”、“著名旅游国”特征的国家是 ()
- A. 英国 B. 德国 C. 法国 D. 意大利
18. 欧洲西部的地形以 ()
- A. 平原、高原为主 B. 平原、山地为主 C. 高原、山地为主 D. 高原、盆地为主
19. 欧洲西部湖泊众多，芬兰有“千湖之国”之称，这些湖泊大多是 ()
- A. 地壳下陷而形成的 B. 流水冲积作用而形成的
C. 冰川作用而形成的 D. 火山作用而形成的
20. 中国南极科学考察队到南极考察的最佳时期应是 ()
- A. 3—11月 B. 11月—次年3月 C. 2—10月 D. 6—8月
21. 沙特阿拉伯的贝都因人，居住在帐篷里，穿着宽大的袍子，过着游牧的生活，其主要原因是 ()
- A. 地处热带，生活在草原地带 B. 多地震，帐篷利于防震
C. 气候湿热，生活在森林地带 D. 降水量多，河湖分布广
22. 南亚气温高，除纬度因素外，下列说法可信的是 ()
- A. 受暖流的影响，增温加湿 B. 受盆地地形的影响，热量不易散发
C. 受北部山地的阻挡，冷气流不易侵入 D. 地势高峻，光照特别强烈
23. 欧洲西部冬季多雨的气候类型分布在 ()
- A. 英吉利海峡沿岸 B. 地中海沿岸 C. 波罗的海沿岸 D. 北冰洋沿岸
24. 瑞典的旅游有点特殊，游客在这里过夜的人数占总旅游人数的90%以上，且往往第二天一早就离去，其最有可能的原因是 ()
- A. 商业服务多在夜晚 B. 森林晚会吸引了游客
C. 观看这里独特的午夜现象 D. 到这里参加圣诞节活动

25. 沙特阿拉伯气候干旱、淡水缺乏, 不惜动用巨额资金购买节水灌溉设备发展绿洲农业, 他们的财富主要来自于 ()

- A. 椰枣的生产和销售
B. 石油的生产和销售
C. 稻米的生产和出口
D. 羊毛制品的生产和出口

二、综合题 (共 5 小题, 50 分)

26. 阅读材料, 回答下列问题。(10 分)

材料一 在中国西南地区遭受特大旱情之际, 东南亚也出现严重旱情。湄公河(我国境内为澜沧江)水位遭遇半个世纪来最严重的水位下降, 泰国、老挝、越南和柬埔寨的村庄深受其害, 其农业、渔业以及饮用水供应都受到影响。

材料二 中国—东盟自由贸易区, 或称东盟 10+1, 是指由中国(中华人民共和国)以及东南亚国家联盟的 10 个成员国文莱、菲律宾、印尼、马来西亚、泰国、新加坡、越南、老挝、柬埔寨和缅甸组成的自由贸易区。经过 10 年努力, 中国—东盟自由贸易区于 2010 年 1 月 1 日全面建成。

(1) 泰国的气候类型以及在泰国修筑公路最好的季节分别是 ()

- A. 热带季风气候 旱季
B. 亚热带季风气候 秋季
C. 热带季风气候 夏季
D. 亚热带季风气候 旱季

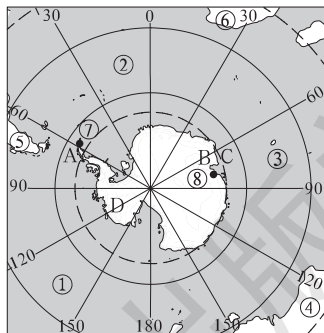
(2) 湄公河在中国境内称为 _____, 共流经中国、越南、柬埔寨、泰国、_____、_____等 6 个国家, 是亚洲一条 _____ 性河流。

(3) 东盟 10 个成员国国家中, 从海陆位置来看, 唯一的内陆国是 _____, 属于临海国的是 _____ (任意写出两个)。

(4) 2010 年 3 月 25 日, 菲律宾发生 6.2 级地震; _____ (国家) 素有“火山国”之称。为什么东南亚火山、地震频繁? _____。

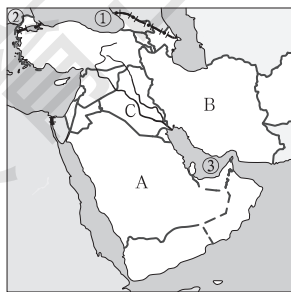
27. 读南极地区略图, 回答下列问题。(13 分)

- (1) 在图中的任意一条纬线上用箭头标明地球自转方向。
 (2) 图中的海洋名称: ① _____, ② _____, ③ _____。
 (3) 我国两个科学考察站名称: ⑦ _____, ⑧ _____, ⑦附近的半岛是 _____。
 (4) A 点在 B 点的 _____ 方, D 点在 B 点的 _____ 方。
 (5) 大洲名称: ⑤ 是 _____ 洲, ⑥ 是 _____ 洲。
 (6) 南极洲蕴藏的矿产资源最主要的是 _____ 和 _____。



28. 读西亚图, 完成下列问题。(9 分)

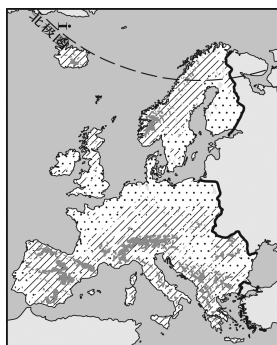
- (1) 图中沟通① _____ 海和地中海的是② _____ 海峡。
 (2) 将海湾③ _____ 周围的石油运往美国, 走最短线路, 先后经过 _____ 海峡—阿拉伯海—红海— _____ 运河—地中海— _____ 海峡—大西洋—美国。
 (3) 著名产油国是 B _____, C _____。
 (4) A 所在的 _____ 半岛主要的气候类型是 _____。



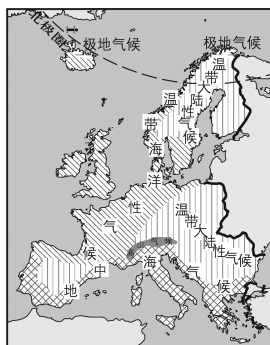
气候。

(5) 中东地区石油运往中国的主要运输方式是_____。

29. 读欧洲西部地形图和欧洲西部气候图，回答下列问题。(8分)



欧洲西部的地形

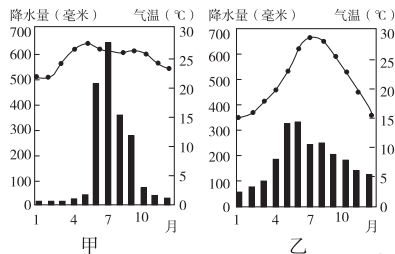
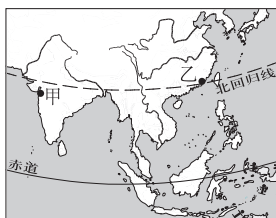


欧洲西部气候的分布

- (1) 从纬度位置看，欧洲西部大部分地区位于地球五带中的_____带。
- (2) 北极圈穿过了欧洲西部，在每年6月22日前后，北极圈以内的地区会出现_____（极昼或极夜）现象。
- (3) 欧洲西部地形以平原为主，南部著名的山脉是_____山脉。
- (4) 欧洲西部大西洋沿岸主要属于_____气候。地形对该气候分布的影响是_____。

(5) 欧洲西部旅游业发达，假如你去欧洲西部的法国、意大利、西班牙、瑞士、挪威、英国旅游，你可以见到哪些著名景观？(写出3个即可)_____

30. 读下面甲、乙两地地理位置示意图和甲、乙两地年内气温与降水量变化图，回答下列问题。(10分)



(1) 填表比较甲、乙两地气候特征及其差异的主要原因。

气候特征	相同点	受不同季风影响，甲地夏季盛行西南季风，乙地夏季盛行_____季风；甲地因北部受高大的_____山脉阻挡，受冬季风影响小，全年高温
	不同点	
气候特征差异产生的主要原因		

(2) 分析甲地的气候特征对当地农业生产的影响。

有利影响：_____；

不利影响：_____。

第八章测试卷

测试卷

时量：45分钟 总分：100分

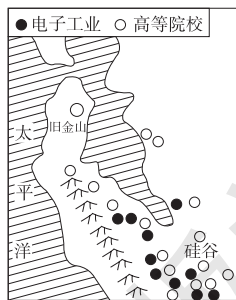
地理七年级下册（湘教版）

一、单项选择题（每小题3分，共45分）

2012年3月，“金砖五国”领导人第四次会晤在印度首都举行。读金砖五国轮廓图，回答1~3题。



- 下列金砖国家中，全部位于南半球的是 ()
A. 巴西 B. 俄罗斯 C. 南非 D. 印度
- 下列金砖国家中，面积最大的是 ()
A. 俄罗斯 B. 中国 C. 巴西 D. 印度
- 我国从巴西大量进口铁矿石，适宜的运输方式是 ()
A. 铁路运输 B. 水运运输 C. 航空运输 D. 管道运输
- 读硅谷示意图，硅谷成为美国高新技术产业中心的最重要条件是 ()
A. 自然资源丰富
B. 靠近沿海，方便原料运输
C. 高等院校多，科技力量雄厚
D. 气候高温多雨
- 下表是日本进口的主要工业原料所占百分比及主要工业产品占世界市场百分比。下列关于日本工业的说法正确的是 ()



主要工业原料	石油	铁矿石	棉花	主要工业产品	小汽车	船舶	照相机
进口比例 (%)	99.7	100	100	占世界市场比例 (%)	43.1	72.6	87.0

- 工业原料全部依赖进口 B. 经济对外依赖性强
- 工业产品主要供国内消费 D. 工业集中分布在日本海沿岸
- 关于日本地理特征的叙述，不正确的是 ()
A. 海岸线曲折，多优良港口 B. 经济对外依赖性严重
C. 矿产资源丰富 D. 是东西方文化兼容的典型
- 下列对美国的叙述，错误的是 ()
A. 美国农业实现了地区生产的专门化，但生产效率低
B. 美国本土以温带大陆性气候为主
C. 印第安人是美国本土的土著居民
D. 五大湖地区的农业带主要为乳畜带

读美国本土农业带分布图，完成8~9题。

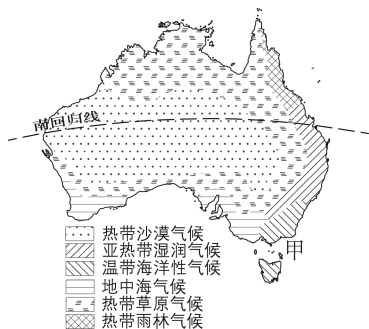
8. 该图体现了美国本土农业的主要特征是 ()
- A. 生产专门化 B. 地区专门化
- C. 黑色风暴 D. 轮作制度和免耕法
9. 与澳大利亚中部地区相比，美国本土中部发展种植业最具优势的条件是 ()



- A. 地形平坦 B. 交通便利 C. 水资源丰富 D. 光照充足
10. 下列关于澳大利亚的说法，正确的是 ()
- A. 通用俄语 B. 属于发展中国家
- C. 地狭人稠 D. 被称为“骑在羊背上”的国家

读澳大利亚气候分布图，完成11~12题。

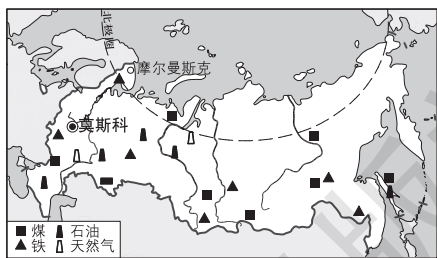
11. 澳大利亚的气候分布特点是 ()
- A. 以赤道为中心南北对称
- B. 呈半环状
- C. 世界上热带草原气候分布最广
- D. 季风气候典型



12. 甲处气候类型在世界上分布最广的地区是 ()
- A. 亚洲的东部和南部
- B. 美洲西部
- C. 非洲北部
- D. 欧洲西部

13. 读俄罗斯图，判断下列说法中，正确的是 ()

- A. 大部分地区属于温带海洋性气候
- B. 西伯利亚地区地势北高南低
- C. 北部沿海多优良港湾
- D. 石油资源丰富，是重要的石油出口国



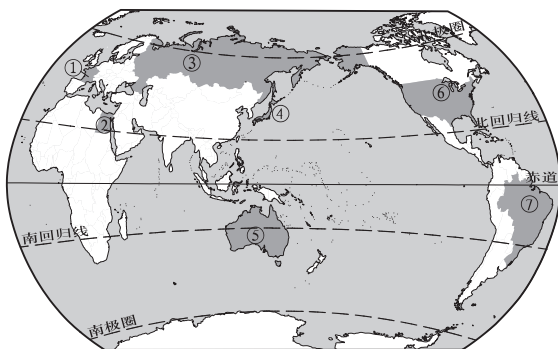
14. 有关巴西的叙述，错误的是 ()
- A. 大量砍伐热带雨林是振兴经济的有效途径
- B. 人们喜爱踢足球和跳桑巴舞
- C. 巴西的地形主要是平原和高原
- D. 90%以上的巴西人居住在东南沿海地区

15. 有关澳大利亚的叙述，不正确的是 ()

- A. 澳大利亚是独占一个大陆的国家
- B. 北回归线穿过的国家
- C. 堪培拉为全国的政治中心
- D. 人口和城市主要集中分布在东南沿海地区

二、综合题 (共 5 小题, 55 分)

16. 读世界轮廓图 (图中①~⑦代表 7 个国家), 完成下列各题。(12 分)



- (1) 图中代号代表的 7 个国家没有热带领土和有 _____, 7 个国家共同的海陆位置特点是 _____。
- (2) 图中①国的轮廓特点是 _____。
- (3) 图中②国的首都是 _____。
- (4) 图中③国的 _____ 林 (森林类型) 分布最广。
- (5) 图中④国是亚洲唯一的发达国家, 其国家名称是 _____。
- (6) 图中⑤国是唯一占有一块大陆的国家, 其面积居世界第 _____ 位。
- (7) 图中⑥国最长的河流是 _____。
- (8) 图中⑦国面积最大的地形区是 _____。

17. 读下表, 完成下列各题。(10 分)

国家	领土面积 (万千米 ²)	海岸线长度 (千米)	单位国土面积的海岸线长度 (千米/万千米 ²)
日本	38	30000	
中国	960	180000	

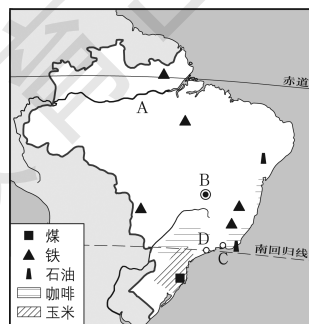
- (1) 完成表格 (在上表中空格内填上相应的数字)。
- (2) 表格中说明了日本的国土轮廓有何特点?

(3) 上述特点如何促进其经济发展?

18. 读巴西农产、矿产和城市分布图, 完成下列各题。(15 分)

(1) 写出图中字母代号代表的地理事物名称:

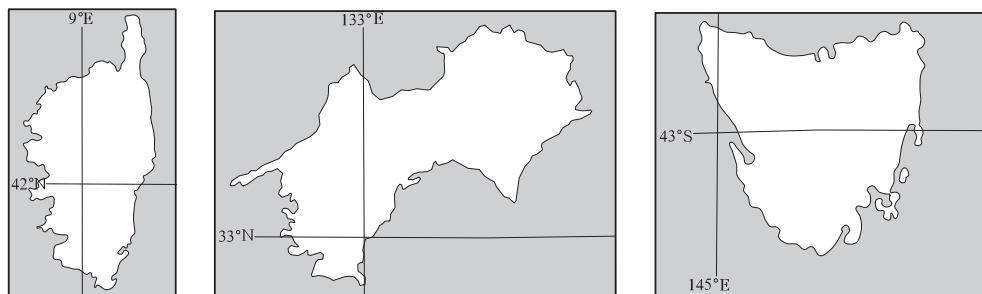
- A _____ 河, B _____ (城市),
 C _____ (港口), D _____ (城市)。



- (2) 图中矿产资源主要分布在巴西的_____部，其中铁矿主要分布的地形区是_____。
- (3) 根据图中咖啡和玉米的分布特点，总结出巴西的农业区的分布特点。

(4) 据图分析，巴西的人口与城市分布有何特点？为什么？

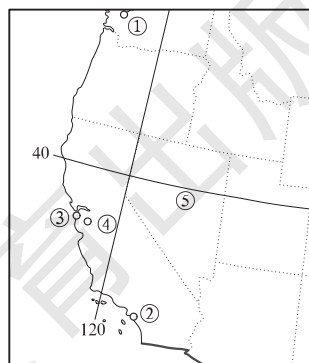
19. 读三个岛屿的轮廓位置图，完成下列各题。(10分)



- (1) 根据岛屿的轮廓和经纬度位置，判断：
 ①是_____岛，属于_____国的领土；
 ②是_____岛，属于_____国的领土；
 ③是_____岛，属于_____国的领土。
- (2) 岛屿①位于_____海，属于_____气候。
- (3) 岛屿②北边是_____海；岛屿③濒临印度洋和_____洋。

20. 读美国西部地区略图，完成下列问题。(8分)

- (1) 城市①最有名的工业部门是_____。
- (2) ②和③是港口城市，它们夏季的气候特点是_____。
- (3) ④是“_____”，以_____工业而著名。
- (4) ②③④都位于_____州。
- (5) ⑤处为内华达州，分析其自然条件，你认为此州进行农业生产的主要不利条件是什么？



参考答案

第六章 认识大洲

第一节 亚洲及欧洲

1. B 2. C 3. B 4. D 5. D 6. A 7. A 8. C 9. A 10. B 11. A 12. A 13. C 14. B 15. D
16. (1) 长江 湄公河(澜沧江) 恒河 里海 咸海 (2) A B C (3) 地势 (4) 热带季风
温带大陆性 17. (1) ①温带大陆性 ②温带季风 ③亚热带季风 ④高原、高山 ⑤热带沙漠 ⑥温
带海洋性 ⑦热带季风 ⑧地中海 ⑨热带雨林 ⑩极地 (2) 海陆 地势 (3) 温带大陆性或① 热
带雨林或⑨ (4) ⑧ 18. D 19. B 20. A 21. 欧洲自西向东随着距离大西洋由近到远的变化, 气候的海
洋性逐渐减弱, 大陆性逐渐增强, 因而冬季气温也由西部沿海向东部内陆逐渐降低。从英国南部、荷兰、
比利时, 到德国、波兰、立陶宛, 再往东到俄罗斯, 房屋墙体的厚度不断增加, 是为了抵御冬季气温越来
越低而带来的严寒。 22. (1) C (2) A (3) 从左至右, 从上至下: ①②④③⑥⑤

第二节 非洲

1. C 2. B 3. D 4. B 5. C 6. D 7. B 8. A 9. A 10. B 11. B 12. B 13. C 14. A 15. C 16.
(1) 大西 尼罗 刚果 马达加斯加 撒哈拉 几内亚 索马里 地中 红 印度 (2) A—埃塞俄比
亚高原 B—东非高原 C—南非高原 D—刚果盆地 (3) 乞力马扎罗山 温室效应。有关。通过绿色
出行等方法, 减少二氧化碳的排放。 17. (1) 东南高, 西北低, 地形以高原为主 (2) 同意。非洲大
部分处在南北回归线之间, 属于热带。 18. (1) D (2) 各种气候大体以赤道为对称轴, 南北对称分
布 19. (1) 地中 印度 (2) B A河主要流经热带草原和热带沙漠气候区, 而B河主要流经热带雨
林气候区 (3) 回答矿产、生物资源丰富, 或回答某一具体资源均可 (4) 发展民族工业, 对初级产品
进行深加工; 发展多样化农业; 建立区域合作组织, 争取国际贸易利益等。

第三节 美洲

1. B 2. B 3. B 4. D 5. A 6. C 7. A 8. D 9. D 10. B 11. D 12. A 13. B 14. C 15. D
16. (1) 太平 大西 北冰 加勒比 墨西哥 (2) 格陵兰 西印度 落基 阿巴拉契亚 密西西比
拉布拉多 (3) 墨西哥湾 4 (4) 北美洲中部从北向南, 为中央大平原分布地区, 不能阻挡南北气流
17. (1) 热 湿润 (2) 加勒比 太平 大西 麦哲伦 安第斯 巴西 亚马孙 巴拿马 亚马孙
(3) 热带草原 热带雨林 (4) 大西 18. B 19. (1) 高原和高山 海拔越高气温越低、垂直地带性气
候明显 温带海洋性 温带大陆性 多 A地为安第斯山脉的迎风坡, 降水多; 而B地为安第斯山脉的
背风坡, 降水少 (2) 由于安第斯山脉逼近西岸, 西部河流一般都是短促、陡急的, 支流少, 河流的流
域面积均较小; 且西部有很大地段气候极为干旱, 河流既少, 水量又小; 安第斯山脉以东地区, 河流源
远流长, 水量丰富, 河网稠密 20. C 21. (1) 丁 乙 (2) ①地: 热带沙漠气候 终年炎热干燥
②地: 热带雨林气候 终年高温多雨 (3) ④地终年受西风带影响, 地处迎风坡, 降水丰富, 形成温带
落叶阔叶林; ⑤地处于安第斯山脉的背风坡, 降水稀少, 形成温带荒漠。 (4) 热带雨林、热带草原横
贯大陆东西; 热带沙漠、地中海气候及温带海洋性气候区将向东扩大; 温带沙漠将消失; 山地气候将
消失。

第七章 了解地区

第一节 东南亚

1. B 2. D 3. C 4. B 5. C 6. C 7. A 8. D 9. D 10. C 11. (1) 苏门答腊 马六甲 (2) 缅甸 印度尼西亚 马来西亚 老挝 柬埔寨 印度尼西亚 老挝 (3) 湄公河 澜沧江 太平 (4)

	①中南半岛	②马来群岛
气候	以热带季风气候为主	以热带雨林气候为主
地形	处于中国横断山脉延伸段, 山河相间, 纵向排列; 河口多平原(地形)	处于板块交界处, 多火山、地震(地质灾害)
物产	主要粮食作物: 稻米	主要热带作物: 天然橡胶、油棕、金鸡纳、蕉麻、椰子等
人口、城市	多分布在河谷及冲积平原地区	多分布在沿海平原等

12. (1) D (2) 人口 区域经济 (3) ② 马六甲 印度 东南亚 航运业 旅游业 13. B 14. C 15. D 16. B 17. (1) 印度洋板块 太平洋板块 亚欧板块 (2) 东南亚地处三大板块的交会地带, 地壳活动频繁, 常引发火山活动和地震等地质灾害。 (3) (见下表)

热带季风气候	终年高温	①(热带季风气候) 气候有明显的干湿季变化(夏季多雨, 冬季干燥)
热带雨林气候		②(热带雨林气候) 气候终年多雨

18. (1) 北高南低 自北向南 (2) 高温多雨 排水、防涝、防潮 (3) 热带季风 水源灌溉 排涝 山地 (4) 马六甲 距离短 石油

第二节 南亚

1. C 2. A 3. B 4. C 5. C 6. A 7. B 8. D 9. D 10. A 11. B 12. B 13. (1) 尼泊尔 巴基斯坦 孟加拉国 斯里兰卡 巴基斯坦、印度、孟加拉国 (2) 新德里 孟买 加尔各答 班加罗尔 德干信息 (3) 印度 喜马拉雅山(青藏高原) 阿拉伯 恒 喜马拉雅山(青藏高原) 孟加拉 布拉马普特拉 雅鲁藏布 (4) 塔尔(印度) 14. (1) 低 (2) 德干 黄麻 (3) 孟加拉湾 6—9 (4) 北部山地、中部平原、南部高原 15. (1) 东北风 凉 (2) 西南风 雨 (3) 乞拉朋齐 湿润的西南季风受地形抬升, 多地形雨 (4) 受到北部高山、高原的阻挡 16. (1) 印度 平原 北南 (2) 热带季风 全年气温高, 降水量大; 分雨季和干季 (3) 多(或)集中 洪涝灾害 旱灾 17. (1) AB线 (2) B

第三节 西亚

1. C 2. A 3. B 4. D 5. C 6. A 7. C 8. C 9. A 10. B 11. (1) 欧洲 非洲 (2) 地中海 里海 红海 阿拉伯海 (3) 苏伊士运河 地中海 红 (4) 霍尔木兹海峡 曼德海峡 (5) 伊拉克 伊朗 沙特阿拉伯 土耳其 (6) “五海三洲之地” 12. B 13. B 14. A 15. (1) 波斯湾 储 产 输出(出口) (2) 伊朗 伊拉克 科威特 沙特阿拉伯 (3) 霍尔木兹 印度 马六甲 太平 霍尔木兹 印度 好望 大西 (4) 日本 西欧 (5) 海洋(船舶) 管道 16. (1) 伊朗 高原 (2) 少 季节 冬 甲 (3) 耐旱、喜热、喜光 (4) 冬

第四节 欧洲西部

1. C 2. D 3. A 4. C 5. D 6. C 7. D 8. C 9. C 10. A

11. 陡峻幽深的峡湾——法国
 慕尼黑啤酒节——瑞士
 戛纳电影节——瑞典
 “水城”威尼斯——德国
 日内瓦湖与雪山——意大利

12. 冰 大不列颠 斯堪的纳维亚 伊比利亚 亚平宁 巴尔干 斯堪的纳维亚 阿尔卑斯 比斯开 莱茵 多瑙 波罗的 黑 13. (1) 平原 利于海上湿润气流深入内陆 (2) 终年温和多雨 (终年温暖湿润) (3) 制造(工) (4) 矿产、农产品等初级产品 14. 提示: 地中海的交通(重要性及沟通海或洋)、地中海气候(气候特征及景观特色)、地中海旅游(丰富而具特色的人文与自然资源)等 15. (1) 海岸线曲折, 多优良港湾。原因: 受地质时期冰川作用和海浪侵蚀。(2) 受西风带影响, 带来其他地区的酸性气体; 温带海洋性气候, 降水多。(3) 常年受强劲的盛行西风影响, 风能资源丰富(或地形平坦, 有利于风能的开发)。(4) 主要农业类型是乳畜业。原因: 位于中纬度大陆西岸, 属温带海洋性气候; 夏季热量不足, 不利于谷物成熟, 但有利于多汁牧草生长; 城市和人口集中, 市场需求旺盛。

第五节 北极地区和南极地区

1. A 2. B 3. D 4. D 5. B 6. D 7. C 8. B 9. D 10. A 11. (1) 太平 大西 印度 德雷克 罗斯海 长城 中山 昆仑 (2) 气温低、降水少、风力大 (3) 在地质历史时期, 南极大陆在温带地区, 森林茂密。(4) 淡水 冬 12. B 13. A 14. (1) 北极圈以北的区域 (2) 摩尔曼斯克 2331 (3) 东南 (4) 80°N, 90°E (5) 1/3 15. (1) 西北 5月1日19时 (2) AC (3) 由于海陆热力性质的差异造成的, 南极地区为大陆, 北极地区为海洋 (4) 冰川融化 臭氧层空洞

第八章 走近国家

第一节 日本

1. B 2. A 3. A 4. C 5. B 6. C 7. C 8. D 9. A 10. D 11. (1) 北海道 本州 四国 九州 (2) 日本海 太平洋 (3) 中国 韩国 (4) 神户 名古屋 横滨 东京 12. (1) 富士山 活 本州 (2) 环太平洋 (3) 樱 13. C 14. B 15. A 16. (1) 木材 水能 (2) 中东 东南亚 澳大利亚 巴西 印度 海 (3) 日本矿产资源缺乏, 但是日本发挥自身人力资源和海上运输优势, 积极引进先进科技和管理经验, 努力开拓国际市场, 从而使本国经济得到快速发展。(4) 日本森林覆盖率高, 但是多山, 生态脆弱, 如果大量取用本国木材, 会破坏植被, 导致水土流失。 17. (1) 夏季风把温暖湿润的空气吹到日本群岛, 在东部地区形成丰沛的降水, 而西部地区为夏季风的背风坡, 降水较少。(2) 冬季盛行冬季风, 冬季风经过日本海后, 水汽有所增多, 在本州岛西部形成降雪。

第二节 埃及

1. B 2. A 3. A 4. B 5. C 6. D 7. B 8. D 9. A 10. D 11. (1) 地中海 红海 非洲 亚洲 西奈半岛 尼罗河 苏伊士运河 开罗 亚历山大 阿斯旺 (2) 埃及主要位于非洲东北部, 地跨非、亚两大洲; 东、北两面临近红海、地中海, 并由苏伊士运河连接; 埃及既是亚、非之间的陆路交通要冲, 也是大西洋与印度洋之间海上航线的捷径, 战略位置十分重要。 12. (1) 埃及 大西 印度 (2) 因为这里是两海间距离较近的地方(苏伊士运河最窄处), 并且沿途有湖泊、洼地, 开凿工程量较小。(3) 苏伊士运河的开通, 使地中海与红海彼此相连, 大西洋到印度洋的航程比绕道非洲好望角缩短了8000~10000千米。 13. C 14. A 15. (1) 主要属于热带沙漠气候。(2) 这种气候类型的特点是终年炎热干燥。(3) 尼罗河下游谷地和三角洲地形平坦, 土壤肥沃, 有尼罗河水进行灌溉, 适宜发展棉

花生产。 16. (1) 大部分地区海拔在 200 米以上, 以高原地形为主, 地形起伏不大, 平原多分布在河流沿岸和地中海沿岸; 地势大致是南高北低。 (2) 大部分为热带沙漠气候, 北部边缘为地中海气候。 (3) 埃及气候干旱, 沙漠广布, 人口和城市分布在有水源和绿洲的尼罗河河谷平原和三角洲。

第三节 俄罗斯

1. B 2. C 3. C 4. A 5. B 6. A 7. D 8. B 9. D 10. D 11. (1) 波罗的 北冰 太平 里海 北 极圈 (2) 俄罗斯跨经度很广, 从 $20^{\circ}\text{E}\sim 170^{\circ}\text{W}$, 跨经度 170° 。纬度较高, 从 $40^{\circ}\text{N}\sim 80^{\circ}\text{N}$, 绝大部分在 50°N 以北, 处于中高纬度。 (3) 伏尔加 欧 东欧 农业 (4) 库兹巴斯煤矿 西伯利亚大铁路 新西伯利亚工业区

比较项目	亚洲部分	欧洲部分
国土面积比重	约 3/4	约 1/4
人口数量比重	约 1/4	约 3/4
资源总量比重	约 4/5	约 1/5
地形特征	东、中、西分别是山地、高原、平原	以东欧平原为主
气候特征	冬季漫长而严寒, 夏季短促而凉爽	受海洋影响较大, 气候相对温和
主要工业基地	乌拉尔、新西伯利亚	莫斯科、圣彼得堡
主要港口	符拉迪沃斯托克、苏维埃港	圣彼得堡、摩尔曼斯克

12. 13. B 14. B 15. A 16. (1) 各工业区主要分布在俄罗斯南部地区, 沿铁路线东西排列。 (2) 热量条件、交通。 (3) 俄罗斯大部分地区纬度较高, 热量相对不足, 而南部地区热量条件较好。 17. (1) 东欧平原 西西伯利亚平原 中西伯利亚高原 东西伯利亚山地 乌拉尔 (2) 东高西低。 (3) 叶尼塞河 勒拿河 有结冰期 下游河段 18. (1) 上扬斯克冬季严寒漫长, 夏季温暖短促, 年降水量较小; 莫斯科冬季寒冷, 夏季温暖, 年降水量相对较多。这两地均为温带大陆性气候。 (2) 影响因素主要有: 纬度因素, 上扬斯克比莫斯科纬度高; 地形因素, 上扬斯克位于山地, 而莫斯科位于平原; 海陆因素, 莫斯科离大西洋较近, 受其影响较大, 而上扬斯克受寒冷的北冰洋影响较大。

第四节 法国

1. D 2. C 3. C 4. A 5. D 6. C 7. (1) 法国的大陆轮廓略呈六边形, 三面临海, 三面临陆。 (2) 德 意大利 比斯开 英吉利 (3) 平原 西欧平原(巴黎盆地) 中央高原 东北—西南走向 8. 城市化水平高; 经济规模大, 对外贸易发达; 以第三产业为主, 旅游业发达; 工农业都很发达, 新兴工业发展迅速, 世界主要农产品出口国。 9. C 10. B 11. D 12. B 13. D 14. (1) 沙漠 亚热带常绿硬叶林 温带落叶阔叶林 (2) 埃及: 尼罗河 热带沙漠气候 长绒棉 法国: 巴黎 温带海洋性气候 小麦

第五节 美国

1. A 2. B 3. C 4. D 5. D 6. D 7. B 8. D 9. C 10. A 11. (1) 阿巴拉契亚山 落基山 密西西比河 大平原 大盆地 (2) 地形类型多样, 地势起伏较大, 地形分为三大南北纵列带: 西部是高大的山系, 中部是广阔的平原, 东部是低缓的山地和高原。 (3) F—华盛顿 B—圣弗朗西斯科(旧金山) E—休斯敦 G—纽约 D—芝加哥 A—西雅图 C—洛杉矶 12. (1) 乳畜带 玉米带 棉花带 小麦带 (2) 农业大国, 种植业与畜牧业并重, 农业生产区域专门化、机械化和商品化程度都相当高, 主要农产品产量居世界前列。农产品过剩和环境问题突出。 (3) 位于美国南部平原, 光热充足, 土壤肥沃, 水源充足, 适合于棉花的生长。 13. D 14. D 15. (1) 亚热带季风性湿润气候 地中海气候 温带大陆性气候 温带海洋性气候 热带沙漠气候 高山高原气候 (2) 密西西比 径流变化是夏季流量

大, 冬季流量小。因为, 其流域内以温带大陆性气候和亚热带季风性湿润气候为主, 均为夏季多雨, 冬季少雨。 16. (1) 发展高新技术产业可增加就业机会, 因而可以降低失业率。 (2) 高新技术产业是高附加值产业, 发展高新技术产业可以促进经济结构升级, 加速经济发展, 提高经济增长速度与效益。

第六节 巴西

1. C 2. B 3. A 4. A 5. A 6. D 7. C 8. B 9. B 10. D 11. (1) 40°W 20°S (2) 大西 太平
(3) 亚马孙 热带雨林 亚马孙热带雨林 (写热带雨林也可) 地球之肺 (4) 巴西高原 (5) 巴西利亚 E (6) 西南 伊泰普 12. (1) 巴西人口分布不平衡; 人口密集区主要集中在东部沿海地区, 特别是东南沿海; 巴西内陆和北部亚马孙平原区人口稀疏。 (2) 北部为热带雨林气候, 气候过于湿热, 多热带丛林; 经济不发达。 (3) 高 城市人口如果过于集中, 会造成交通拥挤、住房困难、失业人口增多、社会秩序混乱等问题。 13. D 14. A 15. A 16. C 17. B 18. D 19. (1) 不合理的农业生产方式, 导致过度垦荒 (2) 导致水土流失加剧; 森林破坏, 生物多样性受到破坏; 生态失衡, 自然灾害加剧; 影响全球气候, 导致温室效应加剧等。 (3) 作用: 涵养水源, 保护淡水资源; 保护土壤, 防止水土流失; 提供良好的生态环境, 维护生物多样性; 为全球提供新鲜空气; 调节全球气候等。保护: 改革不合理的农业生产方式, 退耕还林; 保护森林, 禁止滥伐森林; 建立自然保护区; 植树造林, 促进更新; 不建或合理建设交通设施等。 20. (1) 巴西东南沿海地区 (2) 巴西的农业区主要分布在巴西高原的东南部。 (3) A 河位于热带雨林气候区, 降水丰富, 河流流量大, 航运便利。但此处气候湿热, 不适合人类居住, 地广人稀, 所以航运不发达。 21. (1) 巴西拥有世界上面积最大的热带雨林气候区, 全年多雨, 使得淡水资源极其丰富。 (2) 巴西水污染的污染源主要来自工业废水、农业污水和生活废水等。 (3) 巴西东南沿海地区。因为此地工农业最集中, 人口和城市也最密集, 产生的污染物最多。

第七节 澳大利亚

1. D 2. B 3. C 4. D 5. A 6. B 7. D 8. D 9. D 10. B 11. (1) 亚洲 印度洋 太平洋 大分水岭 大自流盆地 西部高原 墨累河 悉尼 堪培拉 墨尔本 (2) 由澳大利亚大陆和塔斯马尼亚岛等岛屿构成; 大洋洲面积最大, 也是世界唯一独占一块大陆的国家; 位于太平洋和印度洋之间; 南回归线穿过其中部。 12. 澳大利亚中部平原广阔, 地势低平, 土壤肥沃; 广大内陆和西部气候干旱, 草场面积广阔, 天然牧场约占全国总面积的 3/5; 地下水丰富, 大自流盆地多自流井, 井水为微咸水, 可作为牲畜饮水; 澳大利亚大陆缺乏大型肉食动物, 有利于放牧。 13. D 14. B 15. (1) 地势低平、起伏和缓, 自西向东分为三大地形区: 西部高原区、中部平原区和东部山地区。 (2) 印度洋 太平 (3) 逐渐变少 ③ 阻挡了来自太平洋的暖湿气流, 迎风坡降水多, 背风坡降水少 (4) 小 气候干旱 16. (1) 澳大利亚气候类型复杂, 干旱气候面积广大; 纬度位置偏低, 平均气温较高; 大分水岭以东比较湿润, 大分水岭以西降水较少。 (2) 呈半环状分布。东、南两侧降水较少, 形成森林气候; 向中西部逐渐过渡, 到草原气候、干旱气候, 形成向西开口的半环状结构。 (3) 草原气候区及边缘的荒漠区。因为该区域草场资源丰富, 地广人稀, 地下水资源丰富等。 17. (1) 东西两侧高, 中间低 (2) 地形 (3) ② (4) 煤、铁分布于东西部沿海地区, 便于出口。 (5) 东北部地区煤、铁资源丰富 (钢铁工业靠近燃料、原料地); 水陆交通便利; 消费市场大。(答对任意一点即可)

第六章测试卷

1. C 2. C 3. B 4. C 5. B 6. D 7. A 8. B 9. D 10. D 11. A 12. B 13. C 14. D 15. C 16. C 17. A 18. D 19. (1) 北冰 印度 (2) B (3) 纬度高, 气候寒冷 (4) 苏伊士运河 (5) D 20. (1) B (2) 地形 (3) 刚果河 主要流经热带雨林气候区和热带草原气候区, 流域内降水丰富 (4) 以赤道为中心, 南北对称分布 (5) 非洲绝大部分位于南、北回归线之间, 气候普遍暖热 21. (1) 落基 科迪勒拉 密西西比 墨西哥 地形分为三大南北纵列带: 西部高大的山系、中部广阔的

- 平原、东部低缓的高地 (2) 安第斯山脉 巴西高原 巴西 海拔高, 气候温和, 适于人们居住
 (3) 因为南美洲西部安第斯山脉为南北走向, 阻挡来自太平洋的暖湿气流, 使其仅能到达西部沿海地区。
 (4) 亚马孙河流域北、西、南三面被高原山地包围, 有利于水系汇入; 属于热带雨林气候, 降水丰富。

第七章测试卷

1. C 2. A 3. B 4. C 5. D 6. D 7. B 8. B 9. D 10. C 11. B 12. B 13. B 14. C 15. B 16. A
 17. C 18. B 19. C 20. B 21. A 22. C 23. B 24. C 25. B 26. (1) A (2) 澜沧江 缅甸 老挝
 国际 (3) 老挝 越南、柬埔寨、泰国、缅甸等 (任意写出两个) (4) 印度尼西亚 因为东南亚
 位于太平洋板块、印度洋板块、亚欧板块的交界处, 地壳活跃 27. (1) 顺时针方向 (2) 太平洋 大
 西洋 印度洋 (3) 长城站 中山站 南极半岛 (4) 西北 东南 (5) 南美 大洋 (6) 煤矿
 铁矿石 28. (1) 黑 土耳其 (2) 波斯湾 霍尔木兹 苏伊士 直布罗陀 (3) 伊朗 伊拉克
 (4) 阿拉伯 热带沙漠 (5) 海洋运输 29. (1) 北温 (2) 极昼 (3) 阿尔卑斯 (4) 温带海洋
 性 中部广阔的平原有利于西风的进入, 使该气候分布面积较大 (5) 埃菲尔铁塔、古罗马竞技场、陡
 峻幽深的峡湾、“水城”威尼斯、日内瓦湖与雪山等 (其他景观也可) 30. (1)

气候特征	相同点	(1) 夏季高温多雨; (2) 降水季节变化大
	不同点	(1) 甲地全年气温高 (或乙地气温年较差大, 或乙地冬季低温); (2) 甲地雨季短 (或乙地雨季长)
气候特征差异产生的主要原因		东南 喜马拉雅

- (2) 全年高温, 作物生长期长; 降水丰富, 利于作物生长 (或雨热同期, 有利于作物生长) 易受旱、涝灾害的影响

第八章测试卷

1. C 2. A 3. B 4. C 5. B 6. C 7. A 8. B 9. C 10. D 11. B 12. D 13. D 14. A 15. B
 16. (1) ①③④ 都是临海国 (2) 呈六边形 (3) 开罗 (4) 亚寒带针叶 (5) 日本 (6) 6
 (7) 密西西比河 (8) 巴西高原 17. (1) 789.5 187.5 (2) 日本是岛国, 海岸线曲折。 (3) 海
 岸线曲折, 多优良港湾, 便于发展对外海运, 进口原料, 出口产品, 积极开拓国际市场, 从而促进其经
 济发展。 18. (1) 亚马孙 巴西利亚 里约热内卢 圣保罗 (2) 东南 巴西高原 (3) 巴西的农业
 区主要分布在东南沿海。 (4) 人口与城市分布在东南沿海。因为, 东南沿海对外交通便利; 自然条件
 适宜工农业的发展与人的居住; 欧洲移民最先到达此地进行开发等。 19. (1) 科西嘉 法 四国 日
 本 塔斯马尼亚 澳大利亚 (2) 地中 地中海 (3) 濑户内 太平 20. (1) 飞机制造 (2) 炎热
 干燥 (3) 硅谷 电子 (4) 加利福尼亚 (5) 降水少, 水源不足。