

G 湘教版教材配套系列
GEOGRAPHY



普通高中地理课程标准实验教科书

旅游地理

选修 III

学生训练手册

CS 湖南教育出版社
PUBLISHING & MEDIA

编写说明

由湖南教育出版社组织编写的10个模块的10册《普通高中地理课程标准实验教科书》已全部通过全国中小学教材审定委员会正式审查，从2004年秋季起在全国高中课程改革实验区推广使用。为了帮助广大师生更好地掌握新教材的编写思想与特点，教好、学好新教材，在主编朱翔教授的指导下，我们特组织了教材的有关编写人员和实验区的地理骨干教师编写了与教材配套的《学生训练手册》。本书以《普通高中地理课程标准实验教科书·旅游地理（选修Ⅲ）》为依据，紧扣《普通高中地理课程标准（实验）》，以培养学生学习方法和探究能力为宗旨。本书具有以下特点：

1. 先进性。本书与当前基础教育课程改革的目标保持高度一致，充分体现了“为了学生的发展”的教育理念，充分体现了课程标准中提出的目标与内容要求，充分体现了新教材的特点，具有鲜明的时代特征。

2. 科学性。本书内容丰富，层次分明，形式新颖，针对性强，符合学生的认知规律，符合新课程的特点以及课程标准对各个学科的教学要求，所提供的学习指导与参考答案力求准确无误。

3. 实用性。本书不仅考虑了全体学生的基本需求，还特别重视不同学生发展的独特需求；注重联系社会和学生生活实践，提高学生综合素质；从实际出发，突出学科特色，形式生动活泼，方便教师和学生“实用”、“好用”。

本书按教科书的章节顺序编写，力求与教学同步，全书主要由六个栏目组成：“基础梳理”是将各节的知识结构以网络框图的形式呈现出来，使读者对本节的主体内容、知识要点一目了然；“范例剖析”所选例题能够渗透教学中的重点、难点或疑点，并从多角度对范例进行剖析，对学生在解题中常见的思维误区进行诊断，并开出“良方”，以培养学生的解题能力和发散性思维；“能力检测”部分分为两个层次，一是对本节的基本知识和基本技能进行检测，二是对学生的潜能进行挖掘，以培养学生的创新能力；“探究拓展”选用的是典型的、新颖的、反映学科动态或学科发展前沿的材料，并分层次提出探究问题，问题的答案或结论是多维、开放性的；“高考命题趋势分析”选取往年的高考试题，分析其命题思路和解题思路，预测高考命题趋势，为学生的学习指明方向；“教材活动参考答案或提示”简明扼要地对教材中的活动进行解答或提示，以减轻学生的学习负担，利于学生更好地掌握教材。

本书由陈林森等老师编写。本书的出版发行，期望能对使用《普通高中地理课程标准实验教科书·旅游地理（选修Ⅲ）》的师生有所帮助。

• 目 录 •

- 第一章 旅游和旅游资源 / 1
 - 第一节 旅游概述 / 2
 - 第二节 旅游资源 / 5
 - 第三节 旅游资源的形成和分布 / 10
- 第二章 旅游景观的欣赏 / 15
 - 第一节 旅游景观欣赏方法 / 16
 - 第二节 中国名景欣赏 / 24
 - 第三节 国外名景欣赏 / 34
- 第三章 旅游规划 / 40
 - 第一节 旅游规划概述 / 41
 - 第二节 旅游资源评价 / 46
 - 第三节 旅游规划 / 53
- 第四章 文明旅游 / 60
 - 第一节 做合格的旅游者 / 61
 - 第二节 出游前的准备 / 68
 - 第三节 旅游常识和导游基础知识 / 76
 - 第四节 旅游安全 / 84
- 参考答案 / 91

湖南教育出版社

本模块在高中地理选修课程的7个模块中，与“城乡规划”模块同属于人文地理分支课程。高中地理必修课程涉及经济地理、人口地理、聚落地理等人文地理分支内容，连同“城乡规划”选修模块，均侧重人类活动的物质侧面。本模块则侧重人类活动的精神侧面，与上述课程内容互补。

本模块与必修课程中人口迁移、生产活动的地域联系、交通运输、人类与地理环境协调发展、区域可持续发展等内容，以及选修课程中自然灾害与防治、资源的利用与保护、生态环境等内容，都有一定的内在联系，在教材编写和教学过程中应当一脉相承，并避免重复。

改革开放以来，我国经济快速增长，人民的生活水平稳步提高。随着社会主义市场经济的发展，劳动力市场的竞争尤为激烈，人们逐步进入了节奏快、强度高、风险大的工作状态。在这种背景下，人们对休闲的需要也随之提高。20世纪90年代初，我国缩短了劳动者的工时，给人们从事休闲活动创造了条件。

随着人类社会经济文化的长足发展，社会生活水平从温饱到小康，从小康到富裕，旅游活动日趋大众化。现代社会的旅游活动已不再是单纯的消费活动，而成为提高人们身心素质、实现劳动力再生产的重要活动。旅游业作为“无烟产业”，在转变经济增长模式，实现社会生产生活结构调整的过程中，其重要性与日俱增。作为“朝阳产业”，旅游业自身的发展也存在各种新问题需要研究。据世界旅游组织预测，我国将在2020年成为世界最大的旅游目的地国家，并在2050年左右成为世界最大的旅游客源地国家。普及旅游教育已成为社会发展的迫切需求。

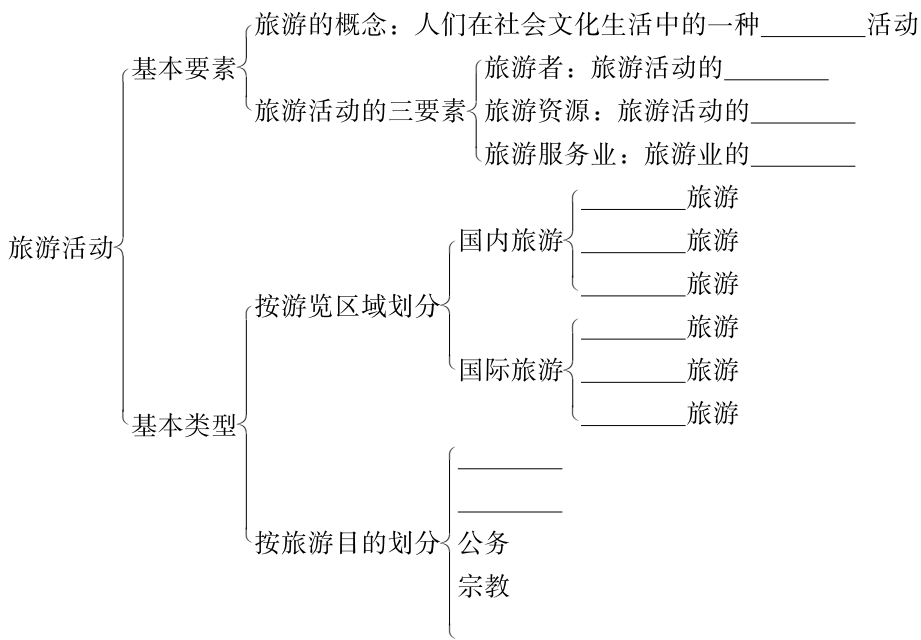
本模块简要介绍了现代旅游的基本概念、旅游资源的一般常识，阐述了欣赏旅游资源、获取审美感受的基本方法，并且以中国和世界的一部分旅游资源为例，讲授了不同类型旅游的特色和欣赏要点。本模块还对旅游业与区域经济发展的关系、旅游资源评价、旅游环境保护的有关知识进行了初步介绍，并结合生活实际讨论了文明旅游问题。

本教材蕴含着丰富的思想教育内容，教材通过对我国一些景观的说明和分析，培养我们对祖国绚丽多彩的自然风光和悠久灿烂的历史文化的自豪感，通过对旅游景观的欣赏、旅游活动与地理环境的协调发展等问题的阐述，使我们认识到在旅游活动中应处理好与旅游客体及背景环境的关系，从而端正旅游活动的思想观念和行为规范。

本章是旅游地理模块的基础，共分三节，首先，应理解旅游活动的基本含义，清楚旅游者、旅游资源和旅游服务业是构成旅游活动的三个基本要素。其次，理解旅游资源的特性和分类，因为旅游资源是旅游活动的客体，是旅游业赖以存在的基础。再次，了解旅游资源的形成和分布。

第一节 旅游概述

基础梳理



范例剖析

以下属于旅游活动三要素的是

()

- A. 金钱
- B. 闲暇时间
- C. 旅游服务业
- D. 旅游动机

【解析】旅游活动的三要素要和旅游者所具备的条件区别开，旅游活动的三要素是旅游者、旅游服务业和旅游资源。旅游者是旅游活动的主体，其他要素都是“服务”于这个主体的。旅游资源是旅游的客体，也是旅游服务业赖以存在的基础，是旅游者主要的“消费”对象。旅游服务业常被称为旅游业的中介体，是旅游活动中联系旅游者和旅游资源的纽带。而旅游者所具备的条件包括一定的经济条件、闲暇的时间、旅游的动机等。

【答案】 C

能力检测

一、选择题（下列各小题的四个选项中，只有一项是最符合题目要求的，请将所选答案的

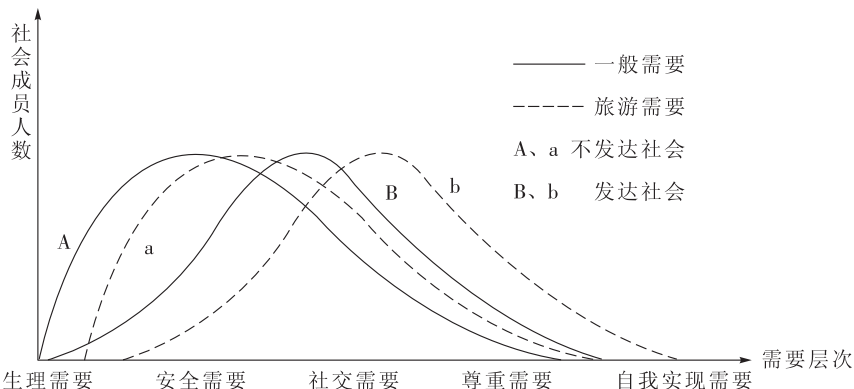
字母代号填写在题后的括号内。)

1. 旅游服务业的三大支柱是 ()
- A. 旅游饭店、旅行社和旅游交通
B. 旅游者、旅行社和旅游交通
C. 旅游者、旅游饭店和旅行社
D. 旅游资源、旅行社和旅游交通
2. 旅游活动的三个基本要素是 ()
- A. 旅游者、导游、旅游资源
B. 旅游者、交通、旅游资源
C. 旅游者、旅游资源、旅游服务业
D. 旅游者、旅游线路、旅游服务业
3. 关于旅游活动概念的正确叙述是 ()
- A. 它是指旅游者的娱乐活动
B. 它是一种人类满足生存需要的消费形式
C. 它是一种人类超出生存需要的较高层次的消费形式
D. 由于旅游服务业的加入，它又是一种特殊的生产形式
4. 旅游业进入发展的近代时期的时间是 ()
- A. 18 世纪 40 年代
B. 19 世纪 40 年代
C. 19 世纪 50 年代
D. 20 世纪 50 年代
5. 按旅游目的来说，我国多数旅游者的旅游属于 ()
- A. 度假保健
B. 科学研究
C. 购物
D. 观光
6. 旅游者主要的“消费”对象是指 ()
- A. 旅游资源
B. 旅游饭店
C. 旅游服务业
D. 旅行社
7. 现代旅游业发展的最主要条件是 ()
- A. 人们旅游欲望的增强
B. 经济的繁荣和社会的稳定
C. 自然和人文景观的改善
D. 现代化交通条件的出现
8. 下列说法正确的是 ()
- A. 旅游业属于知识密集型产业
B. 旅游业资金投入大，所需劳动力少
C. 旅游业资金投入少，所需劳动力多
D. 旅游业不需要资金投入，只需要劳动力的投入



探究拓展

读图，回答下列有关问题。



(1) 从图中可以看出旅游活动是_____的产物，是_____的消费形式。

(2) a、b 分别相对于 A、B 平移，这说明旅游需要_____。

(3) A、a 与 B、b 曲线形态的差异说明：

①_____，

②_____。



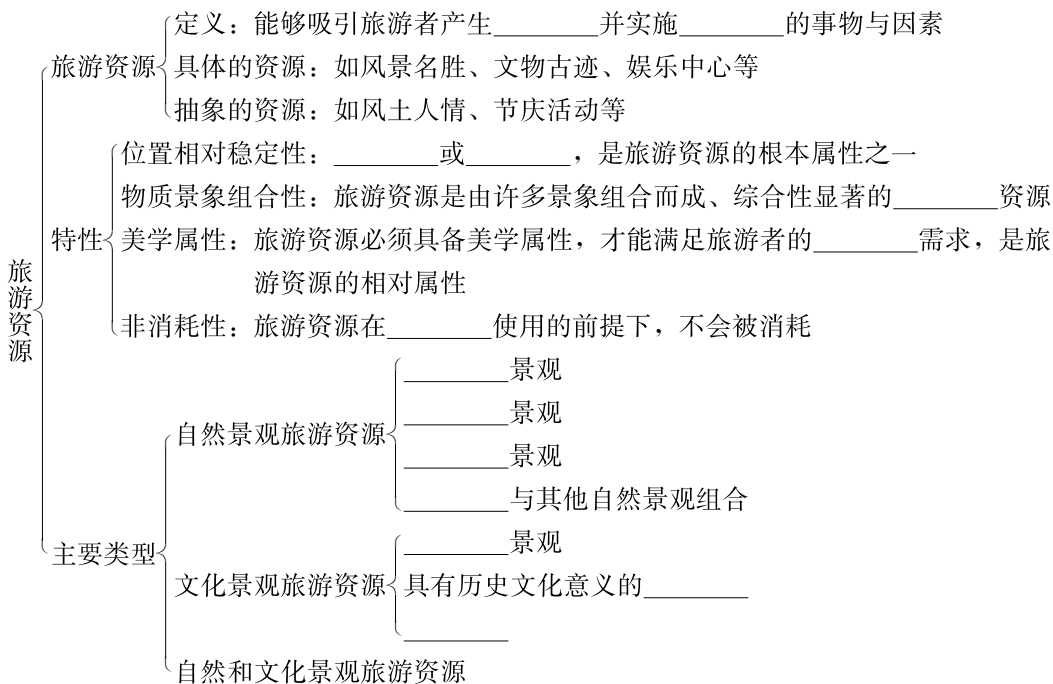
教材活动参考答案或提示

P. 4~5

提示：①调查时，对被调查的人要进行适当的沟通，学会与人打交道，注意文明礼貌；②调查的资料和数据要有代表性，要分别选择一定数量的不同年龄段、不同职业、不同居住地有代表性的人群进行调查，避免以偏概全；③对调查所获得的资料和数据进行分类和统计并进行归纳分析，报告必须根据调查资料提出论点和论据，运用资料进行阐述和说明，主题要鲜明，论据应有理，资料应客观，并尽可能转化为直观易懂的图表，行文尽可能简明扼要和条理化。

第二节 旅游资源

基础梳理



范例剖析

将下列景观分类填空：

- A. 桂林山水 B. 长江三峡 C. 曲阜三孔 D. 黄山迎客松
E. 天津水上公园 F. 大理三塔 G. 青海湖鸟岛 H. 人民英雄纪念碑
I. 傣族泼水节

- (1) 属于自然景观旅游资源的是_____。
(2) 属于人文景观旅游资源的是_____。

【解析】 本题主要考查了学生对自然景观和人文景观的理解。根据旅游景观的本质属性可以将其分为自然景观和人文景观，自然景观主要包括地质地貌景观、气象气候景观、水文景观、生物景观等；人文景观主要分为宗教文化景观、具有历史文化意义的历史遗存、风土民情等。

【答案】 (1) A、B、D、G (2) C、E、F、H、I



能力检测

一、选择题（下列各小题的四个选项中，只有一项是最符合题目要求的，请将所选答案的字母代号填写在题后的括号内。）

- 下列属于自然景观的旅游资源是 ()
A. 云冈石窟 B. 云南傣族竹楼 C. 苏州拙政园 D. 肇庆七星岩
- 下列属于人文景观的旅游资源是 ()
A. 黄山迎客松 B. 路南石林 C. 西安碑林 D. 杭州西湖
- 旅游资源与一般资源最主要的区别，就是旅游资源具有 ()
A. 文化性 B. 组合性 C. 观赏性 D. 区域性
- 下列名胜古迹全被列为世界自然与文化双重遗产的一组是 ()
A. 庐山、武夷山、青城山、都江堰 B. 泰山、庐山、黄山
C. 泰山、武夷山、峨眉山、乐山大佛 D. 黄山、黄龙、长城
- 旅游资源的根本属性是 ()
A. 位置相对稳定性 B. 物质景象组合性
C. 美学属性 D. 历史文化属性
- 关于旅游资源的正确叙述是 ()
A. 所有旅游资源都与地球、人类社会同始终
B. 所有的自然景观和人文景观都是随着旅游业的兴起和发展，才具有旅游资源的价值和功能的
C. 历史上遗留下来的文物古迹，当时就具备了旅游资源的价值和功能
D. 从理论上讲，旅游资源使用的次数越多，其价值越大
- 对旅游者来说，万里长城吸引人的地方主要是 ()
A. 具有探险猎奇的重要原因 B. 具有较高的科研价值
C. 具有非凡的历史文化价值 D. 具有雄伟的自然形态美
- 敦煌、泰山、五台山作为旅游区，具有共同的优势条件是 ()
A. 有上山的索道 B. 游客的承载量大
C. 奇丽的自然风光 D. 丰富的人文景观

二、综合题

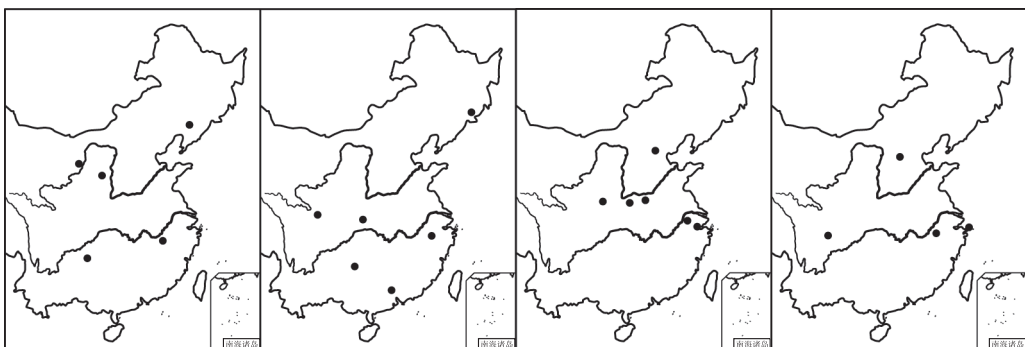
9. 就松花江沿岸的雾凇、冰城冰雕艺术和五大连池三大北国奇观，结合你所学过的地理知识，回答下列问题。

(1) 上述奇观分别属于哪类景观？

(2) 它们各分布在哪个省市？这些省的简称是什么？

(3) 它们作为旅游资源的时间不长,但现在已成为闻名国内外的旅游胜地,试分析其原因。

10. 下图是我国不同类型旅游地分布示意图,读图完成下列要求。



(1) 图中为自然保护区、佛教名山、古都、历史名城(不含六大古都)分布图,下列排序与图序相符的是 ()

- A. 佛教名山、古都、自然保护区、历史名城分布图
- B. 自然保护区、古都、佛教名山、历史名城分布图
- C. 历史名城、自然保护区、佛教名山、古都分布图
- D. 历史名城、自然保护区、古都、佛教名山分布图

(2) 就旅游资源分类而言,图中四种旅游地,属于自然景观的是_____ ; 属于人文景观的有_____和_____ ; 兼有自然景观和人文景观的是_____。

探究拓展

读“泰山位置图”,回答有关泰山的问题。

(1) 该省简称_____。图中城市 a 是_____, b 是_____, c 是_____河。

(2) 按旅游资源的分类,泰山应属于_____景观中的_____景观,但同时历史上泰山被尊为五岳中的_____,留下了许多人文景观,具有较高的_____价值。



(3) 泰山在成因上属于_____山,下列景区中成因与之不同的是_____。

- A. 庐山
- B. 武陵源群峰
- C. 黄山
- D. 华山

(4) 沿_____铁路线往南到曲阜附近,有著名的历史文化遗产_____。



高考命题趋势分析

阅读下列材料，回答问题。

APEC 会议结束后，一些记者打算在中国旅游，有些人对中国悠久灿烂文化历史感兴趣；有些人想了解中国改革开放的成果，进行都市旅游和购物消费；有些人倾慕风光无限的喀斯特地貌；还有人打算去江南水乡风味浓郁的地方小憩。

假设你是旅行社的业务经理，请根据记者要求，推荐相关地区供选择（每一地区只能选择一次，每种特色旅游提供三个地区）。

(1) 推荐地区包括：北京，井冈山，三亚，乌镇，上海，黄山，桂林，西安，宜兴，庐山，香港，周庄，普陀山，延安，大同，路南石林，泰山，广州，西塘，青岛，朱家角，遵义，拉萨。

“悠久文化历史游”有：_____、_____、_____。

“都市观光购物游”有：_____、_____、_____。

“喀斯特地貌自然风光游”有：_____、_____、_____。

“江南水乡风情游”有：_____、_____、_____。

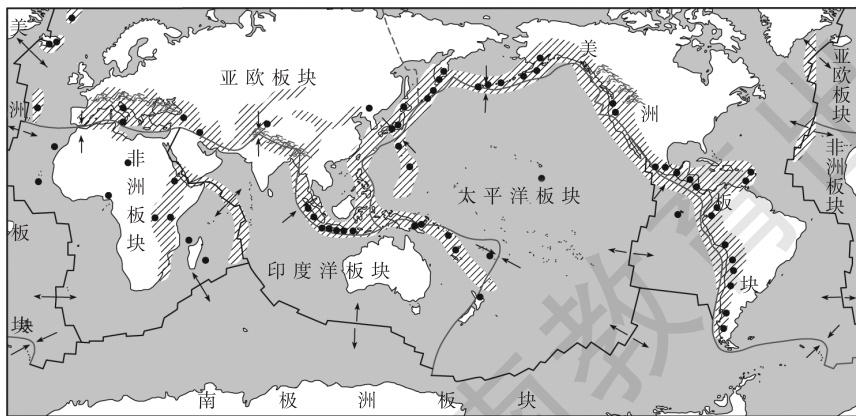
(2) 上述推荐地区中，在_____召开的中共中央政治局扩大会议，是中国共产党从幼年走向成熟的标志。

(3) 为了进一步发展西藏经济，目前正在动工兴建从青海格尔木到西藏拉萨的青藏铁路，需要克服的最大工程地质问题是_____（ ）

- A. 冻土 B. 泥石流 C. 滑坡 D. 崩塌

(4) 初到拉萨的旅游者往往会出现气喘、头晕、乏力等高山反应。人体出现高山反应的主要原因是_____。

(5) 平均海拔 4 000 米以上的青藏高原有着独特的自然景观。“板块构造”学说认为，青藏高原隆起成为世界最高的高原是因为_____板块向北推移，同_____板块的南缘相撞而成。



• 火山 // 地震带 — 生长边界(海岭、断层)
 — 消亡边界(海沟、造山带) - - - 未定板块边界 → 板块边界受力方向

(6) 自拉萨向南越过喜马拉雅山脊到南坡,从山脊到山麓,自然植被出现有规律的变化。请按地势从高到低对下列植被类型做出排列(植被类型包括针阔混交林,针叶林,高山荒漠,常绿阔叶林,高山草甸):_____、_____、_____、_____、_____。决定高山植物垂直分布的主要无机环境因素是_____。

【解析】本题为上海高考综合测试卷试题。它以“旅游地理”为视角,考查相关的旅游地理知识和地质、气候、生物等自然地理知识,具有较强的综合性特点。第(1)题,要求对推荐地区的旅游资源特色有较为准确的了解,如桂林、路南石林、宜兴等地区有较为著名的喀斯特地貌景观,朱家角、周庄、西塘、乌镇等是我国著名的江南水乡古镇,北京、西安、大同、拉萨有较为悠久的历史文化,上海、香港、广州等都是我国沿海地区的现代化大都市,等等。本题备选答案中还有好多地方不具备符合题目要求的旅游特色,从而在一定程度上起了干扰作用,增加了题目的难度。我们在解题时要有一个原则:先熟后生,先确定自己熟悉的有把握的,然后再将剩下的进行分类判断。本题还要注意题目要求“每一地区只能选择一次”,否则很易出错。第(2)题,考查的是历史知识。第(3)题,青藏铁路的建设有三大难题:多年冻土、高寒缺氧、生态保护问题。第(4)题,考查的就是高寒缺氧问题,这是因为青藏高原海拔高,空气稀薄,气压低,空气中含氧量低,使人产生高原反应。第(5)题,青藏高原位于亚欧板块与印度洋板块之间,是由于两大板块相互挤压而隆升成“世界屋脊”。第(6)题,注意抓住“从山脊到山麓”这个已知条件。随着海拔的降低,气温随之升高,植被依次由高山荒漠、高山草甸、针叶林、针阔混交林、常绿阔叶林而发生规律性的变化。

【答案】(1) 北京、西安、大同、拉萨(任选三个);上海、香港、广州;桂林、路南石林、宜兴;朱家角、周庄、西塘、乌镇(任选三个)

(2) 遵义

(3) A

(4) 高山空气稀薄,气压低,空气中氧含量也低,导致人体缺氧

(5) 印度洋 亚欧

(6) 高山荒漠 高山草甸 针叶林 针阔混交林 常绿阔叶林 温度



教材活动参考答案或提示

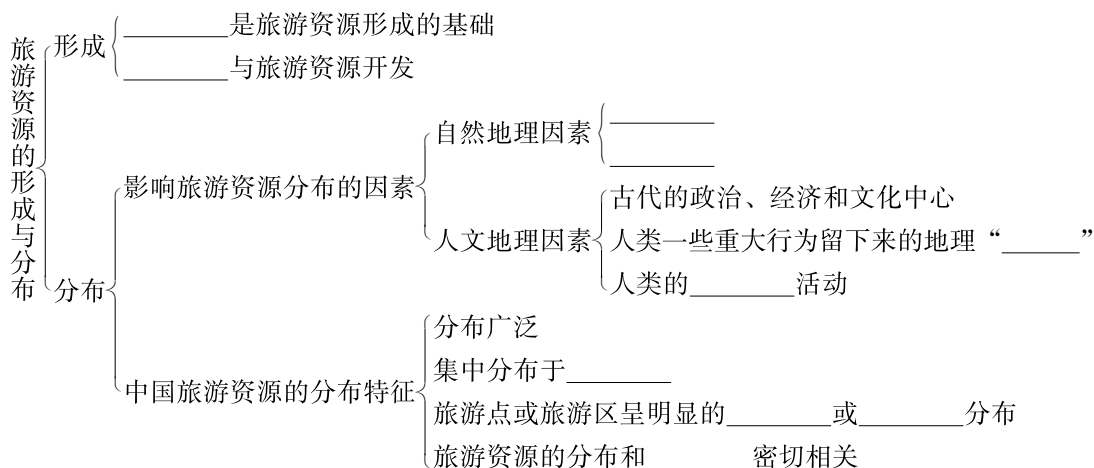
P. 11

1. 提示:要找出不同类型的旅游胜地,对旅游地特色进行全面的总结分析,找出其独到之处,然后根据自己的感受说出喜欢的理由。

2. 提示:对收集到的旅游胜地资料进行整理,可以从该旅游地的地理位置,旅游资源的类型、数量、质量、集群状况,交通状况和接待能力,风土民情以及去该地旅游时应注意的问题等方面进行详细介绍。


第三节 旅游资源的形成和分布

基础梳理



范例剖析

下图表示的是四种地貌景观。读图回答1~2题。



1. 表示花岗岩地貌景观的是 ()
- A. a图 B. b图 C. c图 D. d图

【解析】 本题考查学生阅读地貌景观并进行判断的能力。岩石表层受风化剥落，棱角处最先消失，以后层层风化剥离，而岩块内部尚未风化的部分便呈球形残留在地表。球状风化以柱状节理发育的花岗岩地区最为典型。就a图来看，应该是流水侵蚀地貌，可以推知是石灰岩地貌，另外可以看出d图是石林，也是石灰岩地貌，b图是火山地貌，而c图可以非常明显地看出有球状风化，因此为花岗岩地貌。

【答案】 C

2. a图地貌景观形成的主要外力作用是 ()
- A. 河流沉积作用 B. 湖泊沉积作用
- C. 冰川侵蚀作用 D. 流水溶蚀侵蚀作用

【解析】 a图是典型的流水溶蚀作用形成的地貌，是地表岩石（该处主要是石灰岩）受到含有二氧化碳的水的溶解和冲刷作用而形成。

【答案】 D



能力检测

一、选择题（下列各小题的四个选项中，只有一项是最符合题目要求的，请将所选答案的字母代号填写在题后的括号内。）

1. 被誉为我国的“火山地貌博物馆”的火山景观是 ()

A. 云南腾冲火山 B. 黑龙江五大连池 C. 吉林长白山天池 D. 山西大同火山

2. 地貌旅游资源根据岩性条件的差异，不同的岩石可以构成独特的山体景观，下面属于花岗岩地貌的是 ()

A. 黄山 B. 雁荡山 C. 桂林山水 D. 武陵源

3. 我国石灰岩景区主要分布于 ()

A. 云贵、广西 B. 青海、陕西 C. 四川、湖北 D. 湖南、江西

4. 关于下列风景区的地貌特征不正确的叙述是 ()

A. 海南岛天涯海角——海浪侵蚀地貌 B. 山东泰山——花岗岩地貌
C. 日本富士山——火山地貌 D. 挪威峡湾——流水侵蚀地貌

一对来自欧洲某国的老夫妇，在中国进行了为期半个月的旅游，当他们即将离开中国的时候，老人感慨地说：“中国真大，在没有登高的情况下，短短的十几天，让我们感受到了一年四季的变化。”据此完成5~6题。

5. 试问这对老人是什么季节来我国旅游的 ()

A. 春季 B. 夏季 C. 秋季 D. 冬季

6. 如果这对老人是乘火车在我国旅游，那么他们最有可能的旅游路线是 ()

A. 沿陇海—兰新线 B. 沿京哈—京九线
C. 沿京广—包兰线 D. 沿沪杭—浙赣线

7. 我国许多地方有着许多独特的民族风情，下列组合正确的一组是 ()

A. 傣族——泼水节 B. 彝族——那达慕大会
C. 朝鲜族——火把节 D. 蒙古族——芦笙节

8. 下面是中国文学作品中著名的诗句，下面代号—作者—风景名胜地正确的组合是 ()

①会当凌绝顶，一览众山小 ②朝辞白帝彩云间，千里江陵一日还 ③接天莲叶无穷碧，映日荷花别样红 ④横看成岭侧成峰，远近高低各不同

A. ①—杜甫—黄山 B. ②—李白—三门峡
C. ③—杨万里—西湖 D. ④—苏轼—衡山

9. 下列旅游点从西向东依次排列的是 ()

A. 九寨沟、苏州园林、张家界 B. 峨眉山、黄鹤楼、杭州西湖
C. 敦煌莫高窟、泰山、秦陵兵马俑 D. 武夷山、桂林山水、路南石林

10. 位于我国地势第二级阶梯上的旅游景点包括 ()

A. 黄果树瀑布、布达拉宫、敦煌莫高窟 B. 云冈石窟、陕西半坡遗址、庐山
C. 承德避暑山庄、张家界、神农架 D. 路南石林、华清池、九寨沟

11. 岳阳楼、悬空寺、兵马俑、日月潭四处名胜，按纬度由高到低依次排列正确的是 ()

A. 岳阳楼、日月潭、兵马俑、悬空寺 B. 悬空寺、兵马俑、岳阳楼、日月潭
C. 日月潭、悬空寺、岳阳楼、兵马俑 D. 岳阳楼、兵马俑、悬空寺、日月潭

二、综合题

12. 欧洲—地中海地区旅游业发达，是世界最大的出境旅游客源地产生地和国际旅游接待地。读该地区图，回答下列有关问题。



欧洲—地中海地区图

(1) 欧洲—地中海地区成为世界最大的出境旅游客源地，是因为该地区经济发达，而具备了产生旅游的条件是：

- ① _____；
- ② _____；
- ③ _____。

(2) 欧洲—地中海地区成为世界最大的国际旅游接待地，除了其_____发达外，还因为该地区拥有丰富的旅游资源。在上图填出下列国家的序号。

- ①有皑皑雪山、阳光沙滩、著名水城、古斗兽场的国家；
- ②以鲜花和风车著称的国家；
- ③拥有世界著名会议中心、WTO 总部所在地的国家。

(3) 写出法国巴黎的三处旅游名胜：_____、_____、_____。它们都属于旅游资源中的_____景观。

13. 某国外旅游团从北京入境，要游览我国的三峡、龙门石窟、黄鹤楼、东方明珠、遵义、秦始皇兵马俑、庐山、颐和园等景点，然后从上海回国。

(1) 请为该旅游团设计游览线路。要求：行程最短，不走回头路，交通工具是列车与游轮。该旅游团旅行经过的线路依次是：

从北京出发→_____线→陇海线→_____线→_____线→经内江市→_____线→_____线→川黔线→经重庆市→长江航线→经上海回国

(2) 分析上述旅游活动的社会经济意义。

(3) 庐山每年夏季游人如潮，试分析其原因。



探究拓展

阅读下列材料，回答问题。

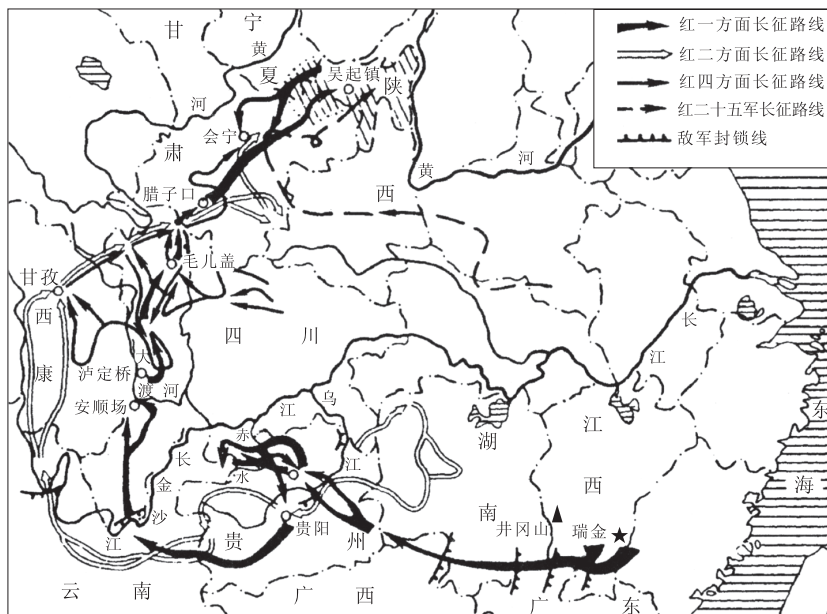
材料一：

七律·长征

毛泽东 1935 年 10 月

红军不怕远征难，万水千山只等闲。五岭逶迤腾细浪，乌蒙磅礴走泥丸。
金沙水拍云崖暖，大渡桥横铁索寒。更喜岷山千里雪，三军过后尽开颜。

材料二：



中国工农红军长征路线示意图

(1) 毛主席在《长征》诗中有一句话“五岭逶迤腾细浪”，其中的五岭即现在在我国南方著名的东西向山脉_____。该山脉是_____水系和_____水系的分水岭。该地区是我国（矿产）资源丰富的地区之一，其主要原因是_____。

(2) 沿中国工农红军长征路线，有许多著名的风景名胜，现代游客既可以瞻仰革命先辈在战斗过的地区所留下的遗迹、遗址，又可欣赏大自然的无限风光。请列举三个沿途著名的自然风光_____、_____、_____和两个革命纪念地（图中未标出的）_____、_____。

(3) 2005 年 2 月，国家发展和改革委员会、中共中央宣传部、国家旅游局联合召开的全国发展红色旅游工作会议，决定今后几年内，在全国培育形成 12 个重点红色旅游区，配套完善 30 条红色旅游精品线路，重点打造 100 个红色旅游经典景区，全面开创红色旅游发展新局面，其中红军长征的主要纪念地是重点开发的区域。

请简要说明发展红色旅游的重大意义。



高考命题趋势分析

我国正在兴起参观革命纪念地的红色旅游活动，按要求完成下列问题。

(1) 京九铁路干线通过的革命纪念地中，属于省会城市的是_____；位于鄂豫皖三省交界处的是_____（山）革命老区。

(2) 某旅游团从上海出发，乘火车到遵义、重庆、郑州和徐州等地的红色旅游景点参观游览。请按照便捷的原则，依次填出在下列城市之间通过的铁路线名称。

上海—遵义：_____线、_____线、_____线、_____线；

重庆—徐州：_____线、_____线、_____线。

【解析】红色旅游，这个内容教材里并没有完整的答案，其涉及选修教材、必修教材、初中地理等，知识面比较广。首先要清楚红色旅游景点的分布，其次要对全国的铁路网非常熟悉。

【答案】(1) 南昌 大别山 (2) 沪杭 浙赣 湘黔 川黔 襄渝 焦柳（焦枝、安康—西安） 陇海



教材活动参考答案或提示

P. 19

1. 提示：例如红色旅游路线有：

南京—镇江—句容—常熟线

主要红色旅游景点有：南京市梅园新村纪念馆，雨花台烈士陵园，侵华日军南京大屠杀遇难同胞纪念馆，渡江胜利纪念馆；镇江市句容市茅山新四军纪念地；常熟市沙家浜旅游区。

泰州—盐城—淮安—徐州线

主要红色旅游景点有：泰州市泰兴市黄桥战役纪念馆，白马庙；盐城市新四军重建纪念馆；淮安市周恩来纪念馆和故居，黄花塘新四军军部旧址，新安旅行团革命历史陈列馆；徐州市淮海战役纪念馆。

2. 提示：一是有利于加强和改进新时期爱国主义教育；二是有利于保护和利用革命历史文化遗产；三是有利于带动革命老区经济社会协调发展；四是有利于培育发展旅游业新的增长点。

P. 23

1. 略

2. 提示：影响传统旅游资源地理分布的因素主要有：自然地理因素，主要包括地质基础和自然地理条件两个方面；人文地理因素，主要体现在三个方面——古代的政治、经济和文化中心对当代旅游资源的分布有重大影响；人类一些重大行为所留下来的地理“痕迹”，本身就是旅游资源；人类对自然资源和人文景观的审美活动，提升了旅游资源的价值。

影响新旅游资源地理分布的因素主要是社会认知因素。

3. 提示：保护第一，科学管理，统一开发，永续利用。既要开发，又要利用，更要保护好。

欣赏旅游景区的秀色风情，感悟旅游景观的天工之巧，了解旅游事物的来龙去脉，洞悉旅游资源的精髓所在，是我们学习旅游地理的重要内容。旅游活动对于激发学生的地理学习兴趣、养成旅游爱好、提高审美情趣和审美能力以及形成野外实践能力和探索精神都具有重要意义。“培养审美情趣和审美能力”是高中新课程的重要理念之一，也是地理课程标准中课程目标的一个重要方面，旅游景观的欣赏是实现这一理念和目标的重要途径。

《普通高中地理课程标准》对这部分内容的要求是这样阐述的：“举例说明旅游景观的观赏方法”，“运用资料，描述若干中外著名旅游景区的景观特点，并从地理角度说明其形成原因”。本单元教材根据课程标准的要求，安排了三节内容，阐述了以上两个方面的内容。

教材针对“举例说明旅游景观的观赏方法”这一要求安排了第一节内容“旅游景观观赏方法”。对于方法，教材主要列举了五个方面：培养审美情趣、提高审美能力、优选欣赏角度、把握最佳时机、品味文化内涵。旅游是一项综合性的审美活动，要学会欣赏，并获得旅游带来的美的享受，懂得旅游景观的观赏方法很有必要，方法也很多，概括地说要做到以下八个字“读万卷书，行万里路”。“读万卷书”，就是积累较为丰富的知识，不断提高自己的文化素养和对旅游景观的欣赏水平。在观赏景观之前，多读些地理、历史、文学、民俗等方面的书籍，查找导游图和景点介绍的资料，了解景观特点、景观形成的地理背景、景观的美学价值和历史文化价值等，全面了解景观主要特征。“行万里路”，就是倡导亲身去实践，在实践中培养和提高审美情趣。“实践出真知”，审美情趣只能在实践中培养和提高。

教材针对“运用资料，描述若干中外著名旅游景区的景观特点，并从地理角度说明其形成原因”这一要求安排了第二节“中国名景欣赏”和第三节“国外名景欣赏”。对于中国名景，教材分类介绍了我国的名山、园林、溶洞和石窟四大类重要名景；对于国外名景，教材分地域介绍了亚洲、非洲、欧洲、美洲和大洋洲等旅游景区的著名旅游景观。中外名景的介绍中有许多属于“世界遗产”，因而这些旅游资源更具有代表性。对于这部分知识的学习，我们不能仅局限于教材内容，教材给我们的不是需要掌握的范围，而是为我们对于著名景观的欣赏提供的学习案例，它指导我们在学习和欣赏著名旅游景区时，要学会从景区的地理位置、景观的组成、景观的特点、景观的成因、景观的欣赏方法等方面去了解和分析。比如对于景观特点一般可以从下面几个方面加以描述：（1）旅游资源是否丰富、多样；（2）景观的主要类型，以自然景观为主还是以人文景观为主，自然景观以山林为主还是水体为主，人文景观以历史文化为主还是现代风貌为主等等；（3）景观有何地方特色和审美特色；（4）景观品位的高低，是世界级、国家级还是地方级。景观特点的地理成因要考虑自然地理因素和人文因素：自然地理因素有地质地貌、气象气候、水文、生物等；人文地理因素有人口、经济、城乡聚落、文化、政治、宗教等。

第一节 旅游景观欣赏方法

基础梳理

欣赏旅游景观	含义：游客从_____中获取高质量美感的过程，或者是在_____中获得良好的审美感受的过程
	层次 { 一是对_____的感觉和知觉 二是在感知的基础上得到_____ 享受
旅游景观欣赏方法	培养 _____
	提高 { 感受力 理解力 创造力
	优选 { 因地制宜、抓住要点，有所侧重 从不同角度欣赏，能得到不同的审美感受 选择最佳观测角度，以充分感受外表之美和内在魅力
	把握 _____：把握恰当的时间、天气、季节等观赏时机，抓住观赏的旅游景观要素的动与静、张与弛、稳定与变幻等对比组合特征，获得最佳美感
	品味 _____：了解旅游景观的来龙去脉，运用文化素养和以往经验去细心品味

范例剖析

1. 观察下图中的四种自然景观。回答下列问题。



女神司春



苍山云海



山水交映



珠帘挂川

(1) 要取得四处景观的最佳观赏效果，应遵循的原则自左向右依次为 ()

- A. 选择特定地点、雨过天晴时、乘船、仰观
- B. 远眺、仰观、低临水面、俯瞰
- C. 选择特定地点、远眺、雨过天晴时、仰观
- D. 仰观、远眺、乘船、选择特定地点

(2) 形成“女神司春”地貌景观的外力作用主要是 ()

- A. 侵蚀、沉积
- B. 溶蚀、搬运
- C. 搬运、沉积
- D. 风化、侵蚀

【解析】本组题系天津高考文综卷试题。观赏旅游景观一定要有合适的观赏方法。对上述四图中的自然景观要取得最佳的观赏效果，一是要优选欣赏角度，二是要把握观赏时机。“女神司春”之类的地貌酷似造型要求选择特定的观赏地点和观赏角度；瀑布景观宜在适当距离远观，以兼收其形、色、声、动等美感。南方的高山最宜夏季观赏，因为夏季雨水丰富，山中多云雾，景色丰富并具有变化，同时兼收避暑之效。对于山水有机组合的景观，乘船沿水路欣赏两岸风景，水流船动山移，能体会“人在画中游”的意境。

“女神司春”是地表岩石在外力的风化、侵蚀作用之下而形成的一种地貌景观，因为其具有独特的形象而被开发为旅游资源。

【答案】(1) A (2) D

2. 下图为著名的黄山风景——“石猴观海”。读图回答相关问题。



(1) 图片中石猴的逼真憨态，构成旅游景观的_____美；蓝天、白云、金色的阳光、灰色的岩石构成旅游景观的_____美；浩渺烟波、云海翻滚构成旅游景观的_____美。欣赏这一景观需要我们具有最基本的审美_____力和审美_____力。

(2) 从地质作用以及气象的原理分析这一景观的形成原因。

(3) 要想获得以上景观的最佳观赏效果，作为观赏者必须做到哪些方面？

【解析】本题侧重考查了旅游资源的美学价值、形成原因和旅游景观的欣赏方法等知识。旅游资源的美学价值表现在许多方面，如形象美、朦胧美、色彩美、动态美和声音美等。其中形象美是自然景观美的核心，河、湖、溪、瀑、泉等水文景观，与以山石为主的地貌景观组合，可产生动与静、刚与柔、旷与幽等不同美感。欣赏自然景观的这些美感，最需要的就是旅

游者的审美感受力与审美理解力。

怪石是黄山“四绝”中的一绝，“石猴观海”、“仙人晒靴”、“金龟探海”等都是黄山怪石呈现独特的形态，经过人们的丰富联想而形成的著名旅游景观。这些怪石都是黄山上的花岗岩经过长期的风化作用形成的，属于地貌景观。而“石猴观海”又不独是地貌景观，“海”即是黄山四绝中的“云海”，它是山地水汽凝结物，在多雨的夏季比较多见，因此对“石猴观海”的欣赏，除了需要优选欣赏角度，找到最神似的造型，同时还须把握观赏时机，选择多云雾的夏季且以雨过天晴时最佳。

【答案】(1) 形象美 色彩美 动态美 感受 理解 (2) “石猴观海”是景观组合形成的著名景点。“石猴”是由于花岗岩经过长时期的风化作用而形成的，“海”则是由于山上的水汽凝结形成的云雾现象。(3) 对于此景的观赏，对旅游者在观赏地点、时间的选择上都提出了要求，比如，若观赏到图片中的岩石、地貌的酷似造型，要求观赏者选择特定的观赏地点；要观赏到云海翻滚必须选择夏季，且以雨过天晴时最佳。除此之外，景观的观赏效果还因旅游者的审美情趣、审美能力等审美素养的差异而异。我们必须通过不断学习、探索等方式提高自己的审美素养，这样才能综合感受到景观的形象美、色彩美、动态美等美感，达到身心愉悦的目的。



能力检测

一、选择题（下列各小题的四个选项中，只有一项是最符合题目要求的，请将所选答案的字母代号填写在题后的括号内。）

1. 欣赏旅游景观需要一定的审美能力，尤其需要的是 ()
A. 审美感受力 B. 审美理解力
C. 审美感受力和审美理解力 D. 审美理解力和审美创造力
2. 要想达到人文旅游景观欣赏的较高境界，需要 ()
A. 培养审美情趣 B. 优选欣赏角度
C. 把握观赏时机 D. 品味文化内涵
3. 欣赏旅游景观，首先需要 ()
A. 培养审美情趣 B. 提高审美能力
C. 品味文化内涵 D. 学习科学知识
4. 下列人文旅游景观中，不能闪烁古代历史内涵和精神寓意的是 ()
A. 美国的自由女神像 B. 武则天墓的无字碑
C. 少数民族的绘画文身 D. 美国白人在感恩节必吃火鸡
5. 要想获得观赏“夔门天下雄”的最佳效果，必须抓住最佳时机是指 ()
A. 选择恰当的季节，最佳季节是春季
B. 选择合适的天气，最好是云雾天气
C. 选择恰当的时刻，最好是斜阳西下时
D. 选择最佳时机，抓住乘船顺流而过时的一两分钟的时间

6. “不游漓江，枉到桂林”。看下图，分析判断欣赏桂林山水最佳方法是 ()



- A. 在较高的亭台楼阁上俯瞰
B. 在低临水面的亭榭中观赏
C. 乘船沿水路观赏
D. 在适当距离仰视
7. 有关自然景观的观赏时机，正确的是 ()
- A. 我国季风气候显著，因此各地自然景观随季节均有春翡夏翠秋金冬银的差异
B. 我国北方地区的山水景观最宜夏季观赏
C. 黄山观日出、泰山观日落成为游山者必然的欣赏内容
D. 游览海拔较高的风景名山宜选择阴雨天为佳
8. “停车坐爱枫林晚，霜叶红于二月花”主要反映了自然景观的 ()
- A. 形象美 B. 色彩美 C. 动态美 D. 声音美
9. 去北京香山主要是为了看“香山红叶”，应该选择的季节是 ()
- A. 春季 B. 夏季 C. 秋季 D. 冬季
10. 欣赏旅游景观宜选择适当的位置，下列诗句能体现这一道理的是 ()
- A. 五岳若与黄山并，犹欠灵砂一道泉 B. 相看两不厌，惟有敬亭山
C. 不识庐山真面目，只缘身在此山中 D. 山重水复疑无路，柳暗花明又一村
11. “水光潋潋晴方好，山色空蒙雨亦奇”说明了观赏西湖 ()
- ①晴天效果更好 ②雨天效果尤佳 ③晴天与雨天西湖美景各具特色，各有情趣 ④进入物我同一，物我两忘的审美境界，晴天与雨天都能获得充分的审美享受
- A. ① B. ② C. ③④ D. 以上都不对
12. “两个黄鹂鸣翠柳，一行白鹭上青天。窗含西岭千秋雪，门泊东吴万里船。”这首诗反映了大自然的 ()
- ①色彩美 ②动态美 ③声音美 ④形象美
- A. ①② B. ③④ C. ①②③ D. ①②③④
13. 建设岳阳楼的最主要目的是 ()
- A. 提高洞庭湖的历史文化价值 B. 增加新的旅游景点
C. 便于登高俯视洞庭湖美景 D. 便于游人休息和娱乐
14. “春山淡泊而如笑，夏山苍翠而欲滴，秋山明净而如妆，冬山惨淡而如睡”说明 ()
- A. 自然景观具有地域性 B. 旅游最好登山
C. 自然景观色彩丰富 D. 自然景观具有季节性

二、综合题

15. 欣赏下列四幅景观时，怎样才能达到最佳观赏效果？



蓬莱阁“海市蜃楼”



钱塘江涌潮



庐山瀑布



长江三峡

16. 对下列各题进行分类。

(1) 许多景观在不同位置、不同时间进行观赏，得到的美感是不同的。请对下列景观进行观赏分类：

- ①武陵源群峰 ②漓江 ③泰山观日出 ④黄山观云海 ⑤武夷山九曲溪 ⑥青海湖鸟岛
⑦苏州园林 ⑧太湖风光 ⑨少林寺 ⑩北京故宫

- A. 选择一定的位置和角度观赏的是_____。
- B. 把握一定的时机观赏的是_____。
- C. 置身其中观赏的是_____。
- D. 在动态中（乘车、船或徒步）观赏的是_____。

(2) 将下列旅游景点分类:

①北京故宫 ②黄果树瀑布 ③八达岭长城 ④都江堰 ⑤京杭运河 ⑥赵州桥 ⑦承德避暑山庄 ⑧长白山天池 ⑨长江三峡 ⑩中山陵

A. 属于自然旅游景观的是_____。

B. 属于人文旅游景观的是_____。

(3) 自然景观包括形象美、色彩美、动态美、声音美等, 下列是形容自然景观的各种词语, 请将它们分类:

①高耸入云 ②雨打蕉荷 ③晶莹剔透 ④巍峨雄伟 ⑤层峦叠翠 ⑥绚丽斑驳 ⑦鸟翔长空 ⑧飘忽不定 ⑨莺啼婉转 ⑩瀑落深潭

A. 属于形象美的是_____。

B. 属于色彩美的是_____。

C. 属于动态美的是_____。

D. 属于声音美的是_____。



探究拓展

欣赏园林, 要抓住园林建筑的特点, 才能体会出造园者的匠心和园林的意境。园林常用的构景手法主要有: 一、主配。主景的鲜明突出是园林整体效果成败的关键。配景为主景起烘云托月的作用。二、层次。以有限空间, 造无限风景, 园林构景贵在层次。为丰富景观层次, 有的用障景法, 以达到“山重水复疑无路, 柳暗花明又一村”的意境; 有的用隔景法, 将园景隔为不同的景区, 以丰富景观层次。三、框景。用门框、窗框、洞框作为取景的画框, 把景象框限在从框中所看到的范围之内。四、借景。借园外的风景来衬托本园的景色, 以扩大园景。

阅读《红楼梦》中对大观园入园处的描写, 说明大观园入园设计所采用的园林构景手法及其用意。

——开门进去。只见一带翠嶂挡在面前。众清客都道: “好山, 好山!” ——说毕, 往前一望, 见白石峻嶒, 或如鬼怪, 或似猛兽, 纵横拱立。上面苔藓斑驳, 或藤萝掩映, 其中微露羊肠小径。



高考命题趋势分析

旅游景观的欣赏要求旅游者要具有较高的文化素养和审美水平，对学生的知识水平、个体经验和地理技能都有较高的要求，过去高考很少涉及。但是“旅游景观的欣赏”这部分的学习和考查能充分体现高中地理新课程“培养公民必备的地理素养”这一基本理念，因而在近年高考中也有出现（尤其是上海高考试卷），其考查的概率应有不断上升的趋势。对于这部分知识的命题，一般有以下特点：一是以旅游地理知识为背景，考查其他相关的自然或人文地理知识和技能，它要求学生首先要对旅游地理的背景知识有正确的理解，然后才能运用相关知识作答；二是给出有关旅游景观的文字、图片等材料，要求运用这些资料判断景观类型、描述景观特点、说明景观欣赏方法、分析景观形成原因等。

1. 读以下一则材料，回答（1）（2）题。

瘦西湖是扬州的风景区，它利用自然的地形，加以人工的整理，由很多小园形成一个整体，其中有分有合，有主有从，互相“因借”，虽范围不大，而景物无穷，尤其是模仿他处不落因袭，处处显示出自己的面貌，在我国古典园林中别具一格。由此可见造园虽有法但无式，如果我们能掌握“因地制宜”与“借景”等原则，那么高岗低坡，花庭水榭，随意安排，皆有法度可循，而风花雪月自然光景常新了。

（1）瘦西湖之所以“范围不大，而景物无穷”、“处处显示出自己的面貌”，是因为园林艺术家（ ）

①注意把尊重客观规律和发挥主观能动性结合起来 ②注意在处理局部的风景时照顾到园林的整体风格 ③注意系统中不同景点之间的互相呼应 ④注意现象和本质的辩证关系

A. ①②③ B. ①②④ C. ①③④ D. ②③④

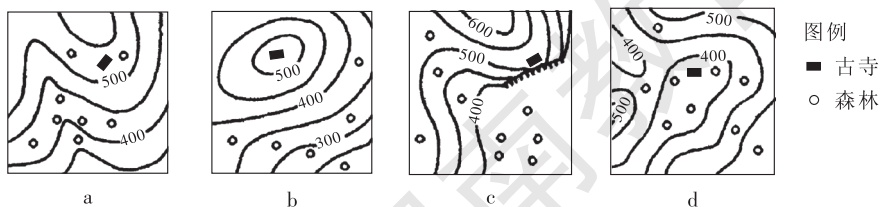
（2）造园艺术中的“借景”原则生动地体现了（ ）

- A. 事物是普遍联系的原理
- B. 事物是变化发展的原理
- C. 矛盾的普遍性与特殊性辩证关系的原理
- D. 矛盾的同一性与斗争性辩证关系的原理

【解析】 本题是江苏等省高考文综卷试题，属材料分析题，以地理知识（园林造景手法）为载体，说明园林艺术中所包括的哲学原理。材料中的因地制宜、分合、主从、因借、借景等，是园林常用的构景手法，目的是达到“以有限空间造无限风景”的目的，说明了园林艺术家能尊重客观规律，并注意发挥主观能动性，在处理局部的风景时照顾到园林的整体风格，并注意系统中不同景点之间的相互呼应。

【答案】（1）A （2）A

2. 下图是四幅等高线地形示意图，能体现“深山藏古寺”意境的是（ ）



A. a 图

B. b 图

C. c 图

D. d 图

【解析】 本题为江苏等省高考地理卷试题。它以旅游景观欣赏为背景，侧重考查等高线地形图的理解和判读。解答本题要搞清两个方面。一方面，要准确理解“深山藏古寺”的意境，自然风景区中的寺庙多建在山麓、山谷、山间小盆地的茂林之中，它体现了佛教宣扬的超脱红尘之外的思想；另一方面，要能根据等高线地形图准确判断地形类型和特点，本题四图中的寺庙依次位于山脊、山顶、陡崖和山间盆地处，从植被看，只有 d 图寺庙处森林茂密。因此能体现“深山藏古寺”意境的只有 d 图。

【答案】 D



教材活动参考答案或提示

P. 29

1. 最引人入胜的景观首先要有很高的美学价值，在照片上要能感受到它给人带来的一种特殊的美感，它可以是自然景观的自然美，也可以是具有非凡独特的历史、人文色彩的文化景观之美。其美感一般表现在以下方面：形象美，包括雄伟美、秀丽美、奇特美、幽深美、险峻美、旷远美等；色彩美，包括静穆美、激亢美、素雅美、华丽美、清纯美、深厚美等；动态美，包括韵律美、变幻美、震撼美、舒缓美等。

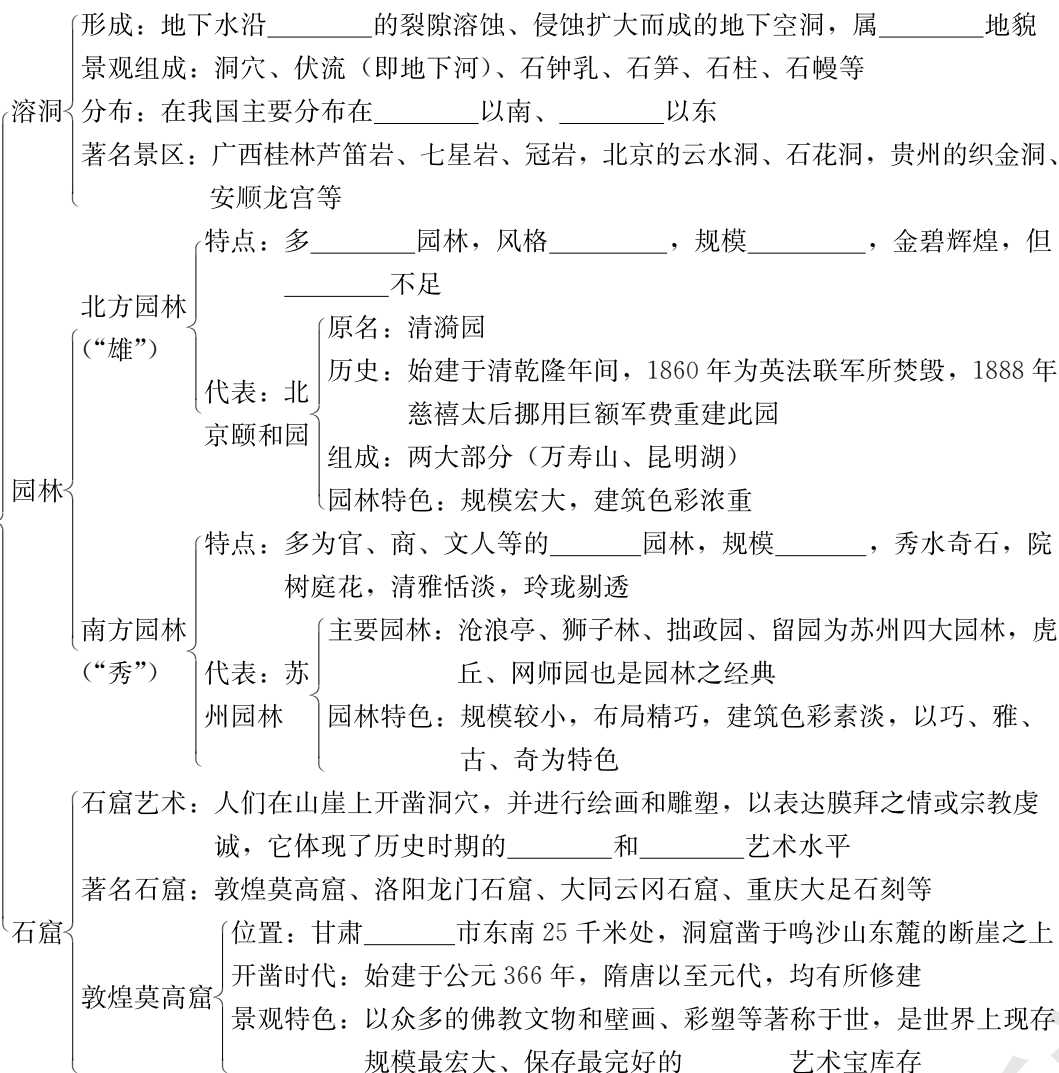
2. 描写自然或人文旅游资源的楹联很多，如“清风明月本无价，近水远山皆有情”，这是镌刻在苏州名园沧浪亭石柱上的名联，它告诉人们旅游时要善于捕捉美的信息，使清风明月为我所用，还要寄情于景，情景交融，这样才能真正感受到旅游的乐趣和美的意境。这样的名联还有，如著名的长联“大观楼长联”：“五百里滇池，奔来眼底。披襟岸帻，喜茫茫空阔无边。看东骧神骏，西翥灵仪，北走蜿蜒，南翔缟素。高人韵士，何妨选胜登临。趁蟹屿螺洲，梳裹就风鬟雾鬓。更蘋天苇地，点缀些翠羽丹霞。莫辜负四围香稻，万顷晴沙，九夏芙蓉，三春杨柳。数千年往事，注到心头。把酒凌虚，叹滚滚英雄谁在？想汉习楼船，唐标铁柱，宋挥玉斧，元跨革囊。伟烈丰功，费尽移山心力。尽珠帘画栋，卷不及暮雨朝云。便断碣残碑，都付与苍烟落照。只赢得几杵疏钟，半江渔火，两行秋雁，一枕清霜。”上联描写滇池风光，下联写出云南历史，寓情于景，情景交融，浑然一体，堪称千古佳作。

第二节 中国名景欣赏



基础梳理

中国名景欣赏	名山	五岳名山	五岳：东岳_____、南岳_____、西岳_____、北岳_____、中岳_____
		泰山	古称：岱山、岱宗
			位置：今山东省泰安市境内
			形成：是以_____为主的_____山地，自约1亿年前的燕山运动以来逐渐隆升，并经_____侵蚀切割而成
			海拔：主峰_____海拔1 532.7米
		景观特色：突兀挺拔，雄伟壮丽，历史悠久，文物众多，封建帝王_____之场所	
		佛教名山	四大佛教名山：四川_____、安徽_____、山西_____、浙江_____
峨眉山	位置：四川峨眉山市西南，属_____山地邛峡山的余脉		
	形成：_____隆升形成		
峨眉山	名称由来：古人形容“如螭首峨眉，细而长，美而艳”，故名		
	海拔：主峰_____，海拔3 079.3米		
峨眉山	景观特色：垂直高差大，山势逶迤，植被繁茂，景观_____变化明显。		
	有_____之誉		
道教名山	有武当山、青城山等		
	武当山	位置：湖北省西北部，属_____山脉	
武当山	海拔：山峰_____1 612.1米		
	景观特色：“道教第一山”，拥有最大的_____建筑群，胜迹有紫霄、太和、玉虚、南岩、五龙、遇真六宫以及元真、元和二观，是武当拳术的发源地		
其他名山	有序山、黄山、神农架、鼎湖山、武夷山等		
	庐山	位置：江西省北部，北临_____，东南为_____湖	
庐山	形成：古老的_____岩_____山		
	得名由来：相传古有匡氏兄弟在山间筑庐隐居，又名匡庐		
庐山	海拔：主峰汉阳峰海拔1 473.4米		
	景观特色：山水相依，云雾缭绕，集雄奇秀丽于一体，有“_____”之美誉；夏季凉爽，为著名_____胜地。胜迹有大天池、小天池、花径、白鹿洞、仙人洞、三叠泉、五老峰等		



范例剖析

1. 下列主要由地貌景观构成的旅游资源是 ()
- A. 钱塘江大潮
B. 桂林山水
C. 长江三峡
D. 四川卧龙自然保护区

【解析】 本题考查我国重要旅游景区的资源形成类型，必须具有一定的自然地理知识才能作答。旅游资源分为自然景观旅游资源和人文景观旅游资源以及自然和人文景观旅游资源，地貌景观属于自然景观。钱塘江大潮是一种潮汐现象，它是由月球、太阳对地球的引力而形成的海水周期性的涨落现象，在农历朔、望日前后引力最大，形成大潮，这属于一种海洋水文景观；“桂林山水甲天下”，这一景观的形成是由于可溶性岩石（桂林地区主要是石灰岩）在流水的长期作用下发生溶解冲刷作用，在地表形成了峰林、石林，在地下形成了溶洞等景观，因此

桂林山水属于喀斯特地貌景观；长江三峡属于峡谷地貌，峡谷是河流在流经崎岖的山地高原区，由于巨大的落差而产生强大的冲蚀切割动能下切侵蚀形成的，因而也属于地貌景观；卧龙自然保护区位于四川西北的青藏高原上，它是为了保护珍稀野生动物大熊猫为主的自然保护区，以生物景观为主。

【答案】B、C

2. 阅读下列有关我国名山的图片资料，回答问题。

资料一：



资料二：



- (1) 资料一的图中字母分别表示华山、黄山、五台山、泰山，其中 A 表示的是_____，C 表示的是_____。
- (2) 四座名山中属于我国著名的佛教名山的是_____，属于五岳名山的是_____。
- (3) 四座名山中被列入《世界遗产名录》的有_____、_____，根据你的理解说明它们被列入《世界遗产名录》的理由。

(4) 根据本题资料二的景观图片和你已有的知识,描述该旅游景观的特点,并分析说明对于此景观的欣赏应该注意哪些方面。

【解析】 本题主要考查了我国主要名山的空间分布的判断、名山的景观特点的分析描述、名山的欣赏方法的分析以及世界遗产等有关知识。(1)(2) 小题要求记住我国主要名山所在的省区位置及景观类型,侧重于识记。(3) “世界遗产”是全人类共同继承和拥有的具有“突出的普遍价值”的共同财富,是被世界遗产委员会确认的人类最高品位的遗产。作为世界遗产必须在自然或人文景观上具有突出性、杰出性、典型性和代表性,我国到2004年7月,被列入《世界遗产名录》的共30项,包括黄山、泰山,黄山、泰山是作为“文化与自然遗产”列入的,它们还必须同时符合真实性原则和完整性条件。对这一知识要有一定的了解。(4) 华山以奇险冠盖天下,素有“华山天下险”、“自古华山一条路”之说。本题照片反映的就是华山西峰的悬崖景观。对于此类景观的欣赏,首先要选择最佳的欣赏角度,可先选择远眺险峰和陡崖;再登临险峰,攀登危崖,亲身体验“华山之险”,达到较高的审美境界;还应探究自然界的奥秘,用科学知识分析“险峰危崖”的形成原因;如果在游前或游后能够检索与华山相关的传说、诗文、典故,并深刻领会、体验,那定能达到更高的境界。华山的西峰,又称为莲花峰,壁立千仞,“劈山救母”的神话故事就源于此。从地质作用的角度分析,悬崖是由于山体断裂,形成断层,西侧岩块断裂下陷而形成的。

【答案】 (1) 五台山 华山

(2) A B、C

(3) B、D 泰山是我国的五岳之首,其山体突兀挺拔,雄伟壮丽,蕴藏着奇、险、秀、幽、奥、旷等特点;历史悠久,自秦始皇以来成为历代帝王封禅的场所,文物众多,故被列入《世界遗产名录》。黄山具有独特的自然美景,以奇松、怪石、云海、温泉四绝著称于世,并集名山之长,泰山之雄伟,华山之险峻,衡山之烟云,庐山之瀑,雁荡之巧石,峨眉之秀丽,黄山无不兼而有之,且是著名的避暑胜地,多历史古迹。

(4) 图片反映的是西岳华山,该山多悬崖峭壁,山路险峻,自古以来就以雄伟奇险闻名天下,有“华山天下险”之说。对于此景观的欣赏,要选择最佳的欣赏角度,可先选择远眺险峰和陡崖;再登临险峰,攀登危崖,亲身体验“华山之险”,求质求真,达到较高的审美境界;还应探究自然界的奥秘,用科学知识分析“险峰危崖”的形成原因;如果在游前或游后能够检索与华山有关的诗文典故,并深刻领会、体验,那定能达到更高的境界。



能力检测

一、选择题（下列各小题的四个选项中，只有一项是最符合题目要求的，请将所选答案的字母代号填写在题后的括号内。）

黄山、庐山、泰山和桂林山水是我国著名的风景名胜区。联系相关知识，完成1~2题。

1. 下列对各旅游景观的描述，其排序与所指名胜相符的一组是 ()

- ①奇松、怪石、云海、温泉 ②山奇、水秀、石美、洞异 ③会当凌绝顶，一览众山小
④横看成岭侧成峰，远近高低各不同

A. ①庐山 ②泰山 ③桂林山水 ④黄山

B. ①黄山 ②桂林山水 ③泰山 ④庐山

C. ①黄山 ②庐山 ③泰山 ④桂林山水

D. ①泰山 ②黄山 ③庐山 ④桂林山水

2. 下列主要由外力作用形成的旅游资源是 ()

A. 庐山

B. 桂林山水

C. 泰山

D. 黄山

3. 我国著名的黄河壶口瀑布形成的主要原因是 ()

A. 地壳运动使岩石产生断层，从而形成瀑布

B. 河床岩石软硬不一，流水差异性侵蚀而成

C. 河水从陡坎处外泄而成

D. 河床坡度太陡

4. 我国的下列世界遗产中，喀斯特地貌风景著名的有 ()

A. 青城山、峨眉山

B. 武夷山、武陵源

C. 武当山、黄山

D. 九寨沟、黄龙

5. 苏州园林具有的特点有 ()

①多为私家园林 ②规模较大 ③清雅恬淡 ④金碧辉煌

A. ①②

B. ②③

C. ①③

D. ②④

6. 下列旅游名山中，山地植被垂直分布明显，并以“秀”著称的是 ()

A. 泰山

B. 青城山

C. 峨眉山

D. 庐山

读右图，回答7~8题。

7. 泉水补给区位于 ()

A. 甲地

B. 乙地

C. 丙地

D. 丁地

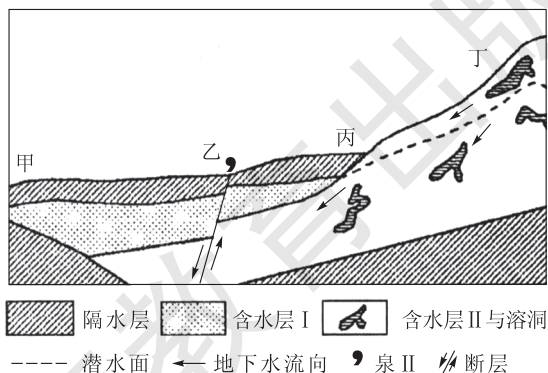
8. 溶洞常形成于 ()

A. 沉积岩中

B. 变质岩中

C. 侵入岩中


D. 喷出岩中



9. 世界上现存规模最大的佛教艺术宝库及其所在地区组合正确的是 ()

- A. 云冈石窟—四川广元
B. 莫高窟—甘肃敦煌
C. 龙门石窟—山西大同
D. 莫高窟—河南洛阳

中国的古典园林堪称世界园林艺术的瑰宝。下图为扬州瘦西湖公园的一处著名景观——吹台，“吹台”正洞是正圆，内衔五亭桥横卧波光，若莲花盛开；南洞呈椭圆，内收湖畔白塔竖立，似春笋破箨，真可谓景中有景、画中有画。据此回答10~12题。



10. 该园林建筑色彩素淡，以黑白为主色调，体现了 ()

- A. 主人追求闲适宁静的心理需要
B. 自然景观的形象美、色彩美
C. 当地的民族风情
D. 豪华高贵的皇家风范

11. 游览“吹台”时要想欣赏到上述绝佳的风光，最主要的是要 ()

- A. 把握观赏时机
B. 抓住景观特点
C. 选择好观赏位置
D. 以情观景，发挥想象

12. 其主要的构景手法是 ()

- A. 以有限空间造无限风景，用障景法丰富景观层次
B. 用圆形门框作为取景的画框，把秀丽风光限在框中，成为框景手法
C. 用隔景法将园景与塔景隔成不同的景区
D. 借园外的景物来衬托本园的景色，这属于借景的手法

13. 园林中框景的设计，是为了 ()

- ①使相邻隔绝的空间彼此贯通和渗透 ②从多角度欣赏园林美景的精华 ③突出主景
④有目的优化组合审美对象，达到纯真、精练、集中的景观美

- A. ①②③
B. ②③④
C. ①③④
D. ①②④

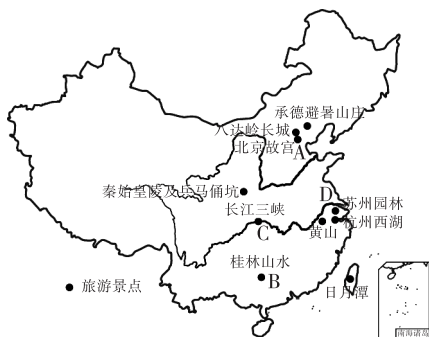
14. 下列说法正确的是 ()

- ①黄河壶口瀑布是重要的人文景观旅游资源 ②黄土高原上的塬、梁、峁、沟是典型的地质地貌景观旅游资源 ③五台山寺庙群是自然景观和人文景观相结合的旅游资源的旅游资源 ④地理环境不同，旅游资源也往往不同

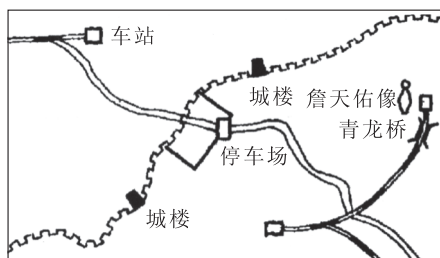
- A. ①②
B. ③④
C. ①③
D. ②④

二、综合题

15. 读“我国十大旅游胜地分布示意图”，回答问题。



- (1) 按旅游资源类型分类，图中B为_____景观，C为_____景观。
 - (2) 按旅游资源的价值类型划分，A以_____价值为主，B以_____价值为主。它们的共同价值是_____价值。
 - (3) 黄山的日落、云海奇观对匆忙的旅客如同幻影，说明旅游观光应_____。
 - (4) C、D两地，能体会“人在画中游”佳境的是_____，能达到“山重水复疑无路，柳暗花明又一村”意境的是_____。
16. 读右图，回答问题：






- (1) 按旅游资源分类，万里长城属于_____景观旅游资源，从旅游资源价值分析，长城具有_____、_____、_____等价值优势。
- (2) 若你去这里游览，如何选择最佳的观赏位置？_____。

探究拓展

桥是路的衔接和延伸，是人类智慧的结晶和体现。桥蕴含着美丽动人的神话，记载了叱咤风云的历史。它跨鸿沟，越天堑，穿山通道，凌波飞虹。

(1) 桥梁的建筑与当地的地理环境、交通状况有着密切的关系，桥与周围环境的结合构成了更具地域特征的风光。请对下列三处桥梁进行比较分析，完成表格。

桥名	桥梁形态	区域位置	气候、地形、交通特征
 卢沟桥	平直、实腹、厚墩	华北平原	
 碧溪拱桥	拱形、薄墩、薄拱		湿润气候、地势低平、 水网密布、自行车主
 泸定桥		西南山区	湿润气候、山高水急、 人背畜驮

(2) 桥不仅具有交通功能，还体现了地域历史风貌和民族文化特征。在园林里，有山有水必有桥。九曲桥是江南园林的一大景色。

①请在右图某园林里的池塘中，以 A、B 为起讫点，用实线画出九曲桥的示意图。



②园林中的九曲桥，桥身贴水而建。下列说法符合其设计理念的是_____。

- a. 利于亲水观景 b. 便于日常取水 c. 易于赏荷观鱼 d. 恍如凌波荡漾

③九曲桥蜿蜒曲折，所产生的效果是_____。

(3) “桥”历来是文学和艺术中的上佳题材，从古到今流传着许多关于桥的美丽故事。《清明上河图》里有“虹桥”、《三国演义》里有“当阳桥”、“牛郎织女”里有“鹊桥”……

①与杭州西湖“断桥”有关的神话故事是_____。

②唐代张继有诗：“月落乌啼霜满天，江枫渔火对愁眠。姑苏城外寒山寺，夜半钟声到客船。”与该诗相关的桥名是_____，该桥位于_____（填城市名称）。



高考命题趋势分析

这部分内容在近年高考中较少出现，高考命题时往往结合中国地理和旅游地理知识进行考查，单独以旅游地理为主要内容的考题很少；但在近年高考中比较重视“红色旅游”相关内容。我们在学习中要重视对以下知识的掌握：结合历史知识了解中国共产党领导人民在革命战争时期所形成的重要纪念地和标志物，结合地图了解这些重要纪念地和标志物的地理分布，结合交通地理知识了解这些重要的纪念地和标志物的交通条件和交通线路，结合资源、经济、环境等知识了解这些地区的社会经济环境发展现状以及发展红色旅游给当地带来的社会、经济和环境效益。



教材活动参考答案或提示

P. 36 (实践)

1. 有关情况见下表：

名山	主峰	主峰位置	主峰海拔
峨眉山	万佛顶	四川省峨眉山市西南	3 098 米
五台山	北台顶	山西省五台县东北	3 058 米
武当山	天柱峰	湖北省丹江口市	1 612 米
青城山	老霄顶	四川省都江堰市西南	1 600 米
庐山	汉阳峰	江西省九江市东南	1 474 米
神农架	神农顶	湖北省西北部	3 105 米
鼎湖山	鸡笼山	广东肇庆市东北	约 1 000 米

2. 提示：在调查活动之前，要对调查的主要对象和调查涉及的主要项目做好充分的准备，有针对性地调查访问，进而利用相关调查资料进行分析，才能起到调查的预期效果。访问的旅游群体要涉及不同的年龄段，不同的文化水平、经济收入，来自不同的地区，不同的旅游经历等；调查的项目可以包括有哪些名山、它们的位置、海拔、景观特色、主要景点等方面。

3. 名山的开发需要在对名山进行充分详细的调查了解的基础上，针对名山的自然和人文景观特色，开发那些“人无我有、人有我优”、具有非凡性和独特性的旅游项目，必须考虑旅游景观的集聚状况，使新开发项目与已开发项目形成较完美的资源组合。开发过程

中要注意自然和人文和谐统一，要注意保护景区的背景环境，保护动植物资源和生态系统。

P. 43 (思考)

序号	名称	始建时代和主要特色	所在省级行政单位
1	云冈石窟	始建于北魏和平年间（公元 460 年至 465 年），以气势宏伟、内容丰富、雕刻精细著称于世	山西
2	莫高窟	开凿始于公元 366 年，是一处由建筑、绘画、雕塑组成的博大精深的综合艺术殿堂，是世界上现存规模最宏大、保存最完好的佛教艺术宝库，被誉为“东方艺术明珠”	甘肃
3	榆林窟	开凿于隋唐以前，是莫高窟艺术系统的一个分支，历来被国内外学者所重视	甘肃
4	龙门石窟	始凿于北魏孝文帝迁都洛阳时（公元 493 年），龙门地区的石窟和佛龕展现了中国北魏晚期至唐代（公元 493—907 年）期间最具规模和最为优秀的造型艺术，代表了中国石刻艺术的最高峰	河南
5	麦积山石窟	洞窟所处位置极其惊险，大都开凿在悬崖峭壁之上，以其精美的泥塑艺术闻名中外	甘肃
6	炳灵寺石窟	始建于西秦建弘元年（公元 420 年），炳灵寺石窟不仅以石刻雕像作品见长，其浮雕佛塔和密宗壁画同样与莫高窟和麦积山石窟齐名	甘肃
7	克孜尔千佛洞	它是我国开凿最早、地理位置最西的大型石窟群，大约开凿于公元 3 世纪，其石窟建筑艺术、雕塑艺术和壁画艺术，在中亚和中东佛教艺术中占极其重要的地位	新疆
8	广元千佛崖摩崖造像	始于北魏时期，其特色是：从南北朝至清代，长达 1 400 多年的时间长河中，代代营造，时有出新，从中可以清楚地看到中国古典石刻造像艺术的发展脉络和宗教观念的发展历史，是不可多得的古代文化珍品	四川
9	宝顶山摩崖造像	始建于南宋淳熙六年（公元 1179 年），石刻造像依山势崖形雕刻，浮雕高大，题材广泛，龕窟衔接，布局严谨，整体感强，气象壮观。佛像构思新奇，雕刻技艺娴熟，世俗色彩浓郁，内容多属佛经故事	重庆

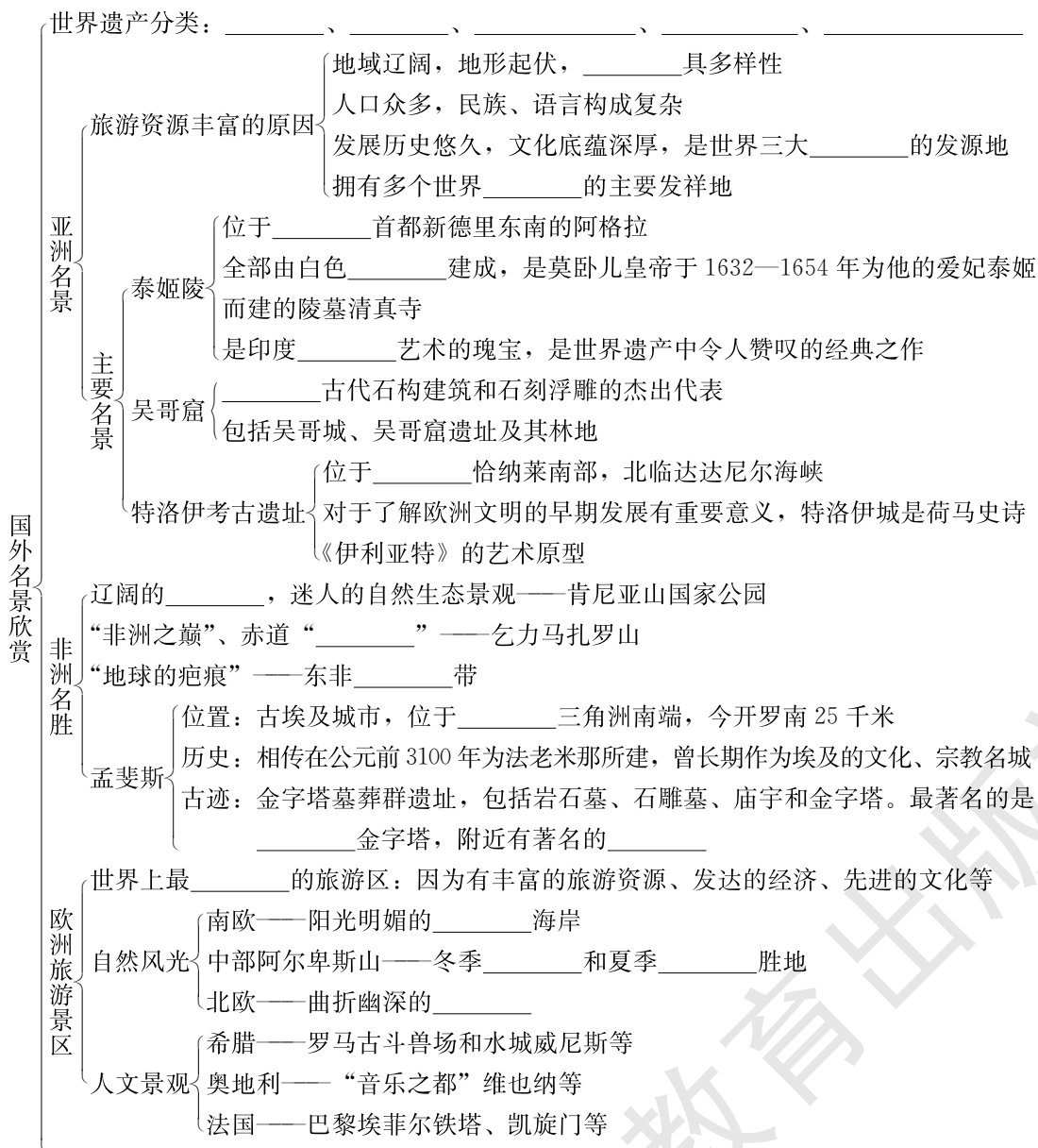
P. 46 (实践)

略

第三节 国外名景欣赏



基础梳理



美洲和大洋洲旅游景区	科罗拉多大峡谷国家公园	位于美国西部_____高原 是世界上最____的峡谷之一，全长 349 千米，最大深度约 1800 米 暴露的地层展现了数亿年的____，有“活地质史教科书”的美称
	黄石国家公园	位于美国西部_____的熔岩高原上 景观特征：山谷、瀑布、湖泊以及成群的温泉和喷泉
	加拉帕戈斯群岛 (科隆群岛)	位于_____海岸以西近 1000 千米的太平洋中的赤道附近 火山熔岩喷发堆积而成的_____岛 地球上动植物的天堂，拥有 250 多种独有物种
	复活节岛国家公园	位于_____中部，属火山岛 充满神秘色彩的岛屿：地理环境的封闭性、居民起源的神秘性、巨大的莫阿伊石像以及岛上文明的兴衰
	大堡礁	位于_____东北海岸，是世界上面积最大的_____海域 拥有丰富的海洋物种，形成著名的海底“丛林”景观



范例剖析

读某世界著名旅游景观图片，回答有关问题。

(1) 图片反映的景点名称是_____，该景点位于_____ (国家)。

(2) 该景观是享誉世界的旅游资源，试说明其体现出旅游资源的哪些价值。_____。

(3) 该古迹破坏严重，这主要是由于下列哪种作用造成的？_____

- A. 流水侵蚀作用
B. 风力侵蚀作用
C. 海浪侵蚀作用
D. 酸雨的腐蚀作用

(4) 该古迹蕴藏了许多奥秘，且有许多未解之谜。从发展旅游业的角度看，你认为是否要将谜底彻底大白于天下？



【解析】(1) 埃及的金字塔和狮身人面像是闻名于世界的著名景观，对于其景观的外表特征，尤其是金字塔和狮身人面像的组合图像更易识别。(2) 首先，该景观具有独特的美学价值，尤其是其形象美；其次，该景观具有独特的历史文化价值，它作为人类历史上遗留下来的文物古迹，对于研究人类文明发祥地之一的古埃及的工程建筑、文化艺术、社会、经济等都具有重要价值，而且金字塔的建筑还有许多未解之谜，更增强了它的特殊性和神秘色彩；该景观对世人强大的吸引力大大促进了旅游业的发展，能产生巨大的经济效益，因此还具有经济价值。(3) 该景观所处环境为热带沙漠，气候干旱，气温变化大，风力强劲，风沙多，因而风力

侵蚀作用表现突出,并对金字塔和狮身人面像的表面产生摩擦侵蚀,使景观产生破损。由于气候干旱,降水少,因而酸雨也很少,不属于引起破损的原因。(4)金字塔的奥秘如果大白于天下,也就等于揭下了披在金字塔上的神秘面纱,对游客的吸引力也大大减小,不利于促进旅游业的发展。

【答案】(1) 金字塔和狮身人面像 埃及

(2) 美学价值、历史文化价值、经济价值等

(3) B

(4) 还是保持神秘为好。因为好奇是游客主要的旅游动机,旅游景观保持神秘色彩对游客具有更大的吸引力,从而更有利于旅游业的发展。



能力检测

一、选择题(下列各小题的四个选项中,只有一项是最符合题目要求的,请将所选答案的字母代号填写在题后的括号内。)

欧洲有许多著名的自然和人文旅游景观,旅游业发达。据此回答1~3题。

1. 欧洲的下列旅游景观中,不是由于冰川作用形成的是 ()

- A. 北欧挪威西海岸曲折幽深的峡湾
B. 南欧阿尔卑斯山尖峭的山峰
C. 瑞士的湖光山色
D. 地中海边的沙滩浴场和海边风景区

2. 到法国旅游可以欣赏到 ()

- A. 地中海海边风光和围海造田工程
B. 观赏花卉、风车和斗牛表演
C. 埃菲尔铁塔和时装表演
D. 帕特农神庙和手表作坊

3. 欧洲成为世界最活跃的旅游区的原因是 ()

- ①旅游资源丰富 ②经济发达 ③地域辽阔,地形起伏,自然景观多样 ④文化教育发达
A. ①②③
B. ②③④
C. ①②④
D. ①③④

4. 下列地区中世界文化遗产与文化景观遗产最少的是 ()

- A. 亚洲
B. 欧洲
C. 大洋洲
D. 拉丁美洲

“国家公园”的设置旨在保护本国的自然和文化遗产的丰富性。据此回答5~6题。

5. 在下列的“国家公园”中,有“活地质史教科书”美称的是 ()

- A. 肯尼亚山国家公园
B. 科罗拉多大峡谷国家公园
C. 黄石国家公园
D. 复活节岛国家公园

6. 下列关于黄石国家公园的说法正确的是 ()

- A. 黄石国家公园位于我国的湖北省黄石市
B. 黄石国家公园属于“世界文化遗产”
C. 黄石国家公园以火山爆发、冰川运动痕迹、湖泊、瀑布等自然风光而著名
D. 神秘的“莫阿伊”巨石像位于黄石国家公园内

7. 下列国家不可以发展以冰雪景观欣赏为主的“白色旅游”的是 ()
 A. 意大利 B. 美国 C. 日本 D. 泰国
8. 有关东非大裂谷特征和成因的叙述, 正确的是 ()
 A. 东非裂谷带是由地壳断裂下陷形成的
 B. 裂谷带内有成串的湖泊, 包括非洲最大的湖泊维多利亚湖
 C. 裂谷带内悬崖壁立, 多流水侵蚀而成的深谷
 D. 裂谷带是由板块挤压而成的
9. 下列哪些景区不能欣赏到火山景观 ()
 A. 黄石国家公园 B. 复活节岛国家公园
 C. 东非裂谷带 D. 大堡礁
10. 下列旅游景区位于非洲的是 ()
 A. 乞力马扎罗山 B. 科罗拉多大峡谷
 C. 泰姬陵 D. 伊瓜苏瀑布
11. 下列旅游景观以人文资源旅游景观为主的是 ()
 A. 比利牛斯—珀杜山 B. 吴哥窟
 C. 加拉帕戈斯群岛 D. 中国的九寨沟
12. 下列人文旅游资源以现代风貌为主的是 ()
 A. 意大利罗马古斗兽场 B. 希腊巴台农神庙
 C. 德国慕尼黑的啤酒节 D. 中国西藏的布达拉宫
- 第 28 届奥林匹克运动会在希腊雅典举办。据此回答 13~15 题。
13. 第 28 届奥运会举办城市的气候类型与下列城市相同的是 ()
 A. 北京 B. 首尔 (汉城) C. 巴塞罗那 D. 亚特兰大
14. 第 28 届奥运会举办城市最闻名的旅游景观属于 ()
 A. 地质地貌景观 B. 建筑景观
 C. 风土民情 D. 气象气候景观
15. 许多奥运场馆成为旅游的好去处, 这突出地体现了旅游资源的 ()
 A. 非消耗性 B. 可创造性
 C. 历史文化属性 D. 位置的相对稳定性

二、综合题

16. 根据下列材料, 回答问题。

夏威夷群岛坐落在北太平洋上, 距美国本土 3 000 多千米, 被称为美国的“海外州”。在公元 4 世纪左右, 一批波利尼西亚人到此定居, 给这个岛屿起名“夏威夷”, 意为“原始之家”。夏威夷有美丽的海滨, 有宜人的气候, 有奇特的火山景观, 还有其他多彩、独特的自然风光。每年有 4 000 多万游客从世界各地来夏威夷旅游, 全岛旅游年收入高达 8 亿多美元, 已超过全岛农业、牧业的总收入。

(1) 美国是个地跨两大洲的国家, 夏威夷群岛散布在 _____ (大洋) 上, 是 _____ (大洲) 的组成部分。

(2) 根据旅游景观的分类,通常将旅游资源分为_____、_____、_____三类。夏威夷群岛属于_____。

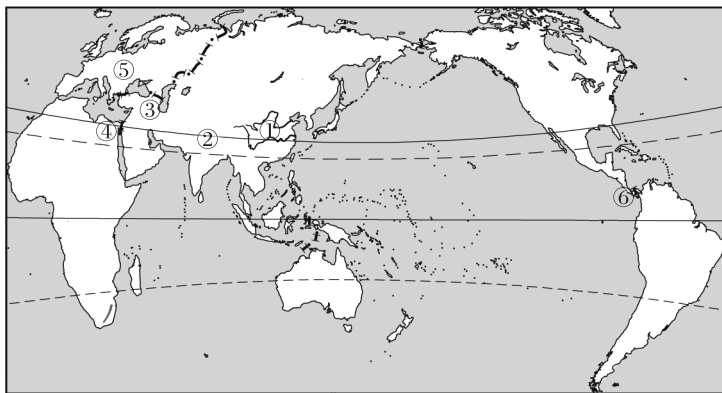
(3) 材料中的自然风光中没有提及的景观是_____。

- A. 地质地貌景观 B. 气象气候景观
C. 水文地理景观 D. 生物景观

(4) 夏威夷群岛因其多彩、独特的自然风光而区别于其他岛屿,这反映旅游资源具有_____和_____的特性;岛上建有许多游乐场以供旅游者休闲、娱乐,这反映旅游资源具有_____的特性;夏威夷群岛的旅游资源可以不断利用,反复利用,这说明了旅游资源具有_____的特性。

探究拓展

读“世界主要文明发源地分布示意图”,回答有关问题。



1. 说出数字代表的文明发源地名称:

- ① _____ ② _____
③ _____ ④ _____

2. 试说出以下地区世界著名的旅游景观名称(各说出一处),并对该景观特点做简要描述。

- ①处,景观名称 _____, 景观特点 _____
④处,景观名称 _____, 景观特点 _____

3. 试归纳①③⑤三地区主要的宗教类型及各自典型的宗教建筑的名称。

4. 简要分析亚洲旅游资源丰富的形成原因。



高考命题趋势分析

下面左图中著名的古代建筑由白色大理石筑成。读以下两图，回答1~3题。



- 大理石 ()
 - 因变质作用而形成 B. 按成因属于岩浆岩
 - 因外力作用而形成 D. 形成于地壳硅镁层
- 该建筑位于右图中的 ()
 - ① B. ②
 - ③ D. ④
- 右图中①②③④四地自然条件相比 ()
 - ①②两地均为荒漠 B. ②地年降水量最少
 - ③地有明显的旱季和雨季 D. ④地比①地气温年较差大

【解析】本题组为北京高考文科综合卷试题，属地理学科内综合题。左图建筑是世界著名的古迹——印度泰姬陵，该建筑的特征是：白色大理石筑成，中央为直径约18米的大穹隆圆顶，四周有四座高约41米的尖塔，是一座陵墓清真寺。本题侧重考查地理空间分布、岩石、气候等自然地理知识。大理石是由石灰岩经变质作用而形成的变质岩，它具有坚硬耐磨、美观等优点，是珍贵的建筑材料。本题右图为世界局部地区图，从海陆轮廓特征可判断出：①处位于埃及南部尼罗河沿岸，属比较典型的热带沙漠气候；②处位于西亚地中海沿岸的巴勒斯坦地区，属地中海气候；③处位于印度北部；④处位于恒河河口，孟加拉国境内；③④两处均位于南亚，属热带季风气候。准确地做出以上判断是成功地完成2、3两题的关键。

本题提醒我们要对世界著名的旅游景观从其名称、位置、所属国家、景观特点等加以了解和掌握。类似的著名景观比如埃及的金字塔和狮身人面像、罗马古斗兽场、巴黎埃菲尔铁塔和凯旋门、纽约自由女神像等。对这些都要认真地加以归纳，并结合相关的地理知识加以拓展。

【答案】 1. A 2. C 3. C



教材活动参考答案或提示

P. 57 (实践)

略

第三章 旅游规划

人类日益广泛的旅游行为，在推动旅游业蓬勃发展、促进区域经济持续繁荣的同时，对旅游景观乃至生态环境构成了沉重的压力。正如环境问题促使人们关注环境保护一样，旅游活动中的环境问题也促使人们关注旅游活动中的环境保护。在 20 世纪 80 年代，人们还奢谈旅游业是“无烟工业”，认为旅游业不像工业那样产生污染物污染环境。在工业“三废”污染令全世界焦虑的时代背景下，人们大肆鼓吹发展旅游业。然而不久，人们逐渐认识到，旅游活动不仅产生污染物污染环境，而且还导致其他环境问题。因此，人们提出了新的课题——旅游活动与地理环境协调发展。为了更好地进行旅游开发，促进旅游产业的持续发展，人们制订不同类型的旅游规划，目的在于确定旅游区的发展目标，合理安排各种旅游项目，改善旅游区的服务质量，提高旅游区的文化品位，保护旅游区的生态环境，并协调旅游开发与区域社会经济发展的关系。

本章教材共分三节内容。第一节阐明旅游业的发展对社会、经济、文化的作用。旅游业关联性强，可以带动相关产业的发展；发展旅游业，可以调整产业结构，改变资源消耗型经济增长模式；旅游业规模和收益大，对经济增长贡献率大。旅游可提高人的文化素质，加强文化交流；旅游业的灵魂是文化，旅游可带动文化事业的建设、文物的保护和利用、文化产业的发展。旅游促进国际交往、世界和平和祖国统一，增加就业机会，促进精神文明建设和社区建设。这些内容有助于形成综合分析能力和发散思维能力。

第二节举例说出旅游与景区建设对地理环境的影响；针对某一实例，评价旅游资源的开发条件。旅游景区建设对地理环境有重大影响，既有正面影响，又有负面影响。合理的旅游开发和建设有保护和改善自然环境与人文环境、促进社会持续发展等正面影响。不合理的旅游开发和建设有破坏生态环境、滥用土地、破坏文化遗产、破坏社区正常生活等负面影响。因此应深刻理解旅游开发的环境保护立法、旅游开发中的环境规划、旅游开发中的生态环境建设、旅游开发中的社区和文物的建设和保护、旅游开发的环境教育、旅游者环境保护习惯等重要意义。旅游资源评价要多方面综合考虑，需要对旅游资源所在地有全面了解。旅游资源评价内容包括旅游资源自身条件评价内容和旅游资源所处环境评价内容两方面。旅游资源评价类型有单体评价与景区资源评价。从高中地理课程性质和学习目标出发，应选取景区资源评价。

第三节分析旅游景区的基本要素及其影响，初步学会对旅游景区的景点交通和服务设施进行规划设计。旅游景区规划主要考虑“旅游六要素”，即“食、宿、行、游、购、娱”。这六个要素相辅相成。“食、宿”指旅游接待设施，主要是宾馆、饭店，既是旅游活动中的基础要求，又是重要的旅游收入来源。“行”指旅游交通，包括景区对外交通和内部交通，既是构成旅游的基本要素，也是游览观光的体验途径。“游”指对景点的观光和体验，除了景点建设之外，

还要建设好导游队伍。“购”指旅游商业，包括旅游商品的生产与销售。“娱”指娱乐，既有游览中的娱乐穿插，又有留宿时的娱乐活动。

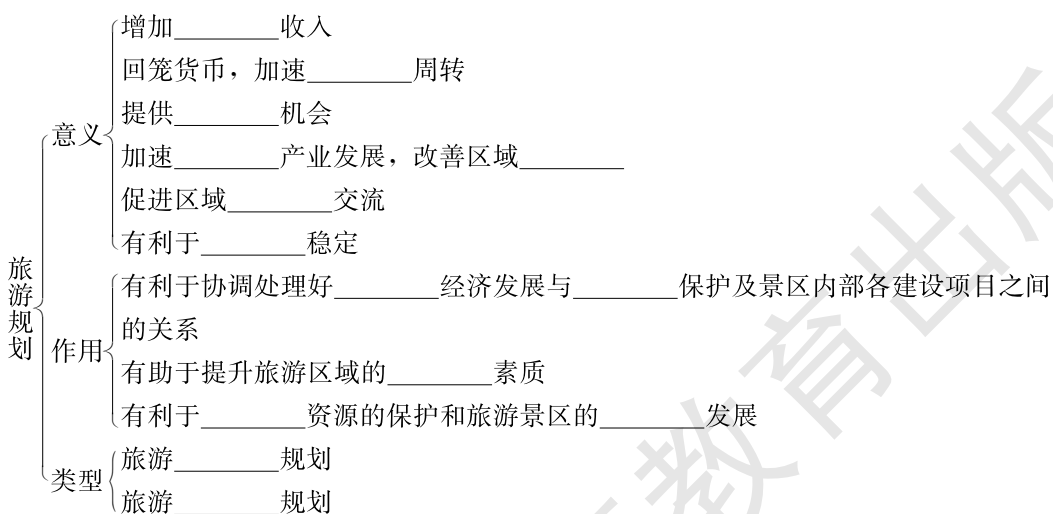
举例分析法对本章学习有非常重要的意义。如在学习旅游资源评价时，可结合实例，简述旅游资源评价的基本内容。从开发的角来评价旅游资源，基本内容如下：①旅游资源的数量和集中程度；②各种旅游资源的空间组合和匹配情况；③旅游资源的季节变化；④旅游资源的功与用途；⑤旅游资源的游客容量；⑥旅游资源的特色和品位。从开发的环境条件来评价旅游资源基本内容如下：①旅游资源的环境质量；②旅游景区的区位条件和可进入性；③旅游景区的气候舒适程度；④旅游景区的社会经济条件；⑤旅游景区的客源市场条件；⑥旅游景区的安全条件。再如结合实例分析旅游景区的基本要素及其影响，初步学会对旅游景区的景点交通和服务设施进行规划设计。旅游规划的基本做法：景区的景点是旅游业的首要生产力，要将景区的旅游资源开发成为旅游产品，包括设计游览项目（硬件）和游览活动（软件）。景区内外交通要针对景点规划设计，布设线路，规定道路等级，选择运输工具的种类。服务设施的建设规划要参照景区的性质、规模和容量来确定饭店、餐馆、商店、娱乐场所，以及旅行社的装修风格、规模和选址等。

本章内容贴近社会实际，是学以致用的重要环节，侧重方法和技能，兼顾宏观为社会服务的景区规划以及微观的可供学生自己出游用的旅游活动设计。

第一节 旅游规划概述



基础梳理





范例剖析

1. 为什么说“旅游一动百业兴”?

【解析】旅游活动是一定社会条件下的人类社会经济活动,表现为人们以娱乐享受为主要目的,离开常住地的一种综合性的物质文化生活。旅游活动的内容除观光外,还包括食、住、行、娱乐、购物、拍照等方面。为了使广大旅游者能够顺利完成上述内容,就必须有相应的交通、饮食、住宿、娱乐设施,并带动旅游地商业的发展,同时大量的拍照、摄像等又带动了照相业(包括胶卷、相机、录像带)等行业的发展,而这些行业的发展又为旅游活动的发展奠定了良好的基础。同时,旅游带动和促进相关行业的发展,既活跃了市场,繁荣了经济,又扩大了就业机会,可谓一举多得。这正是我国近年来“十一”放长假的目的所在,一方面满足人们的需要,另一方面又激活市场,带动各行业的发展。

【答案】旅游业是综合性的行业,它既以其他部门为基础,又能带动和促进其他部门的发展。旅游业不仅能带动酒店、餐饮、交通运输、建筑、商品贸易、金融等第三产业的发展,而且能促进农副产品加工、建材、交通机械等工业部门,以及为旅游业培养各类服务管理人员的旅游教育的发展。因此说“旅游一动百业兴”。

2. 有关旅游业经济职能的正确叙述是 ()

- A. 旅游业在国民经济中起主导作用
- B. 只有旅游业的发展,才能促进国民经济其他部门的发展
- C. 对国家和地区之间的文化交流起非常大的作用
- D. 旅游业的发展能带动酒店、餐饮、交通等第三产业的发展

【解析】本题主要考查的是旅游业的经济职能,所以C选项应排除在外。旅游业是综合性的行业,它与其他部门之间存在着密切的联系,但它不是国民经济发展的基础,相反,旅游业的发展以国民经济其他部门的发展为基础。它也不是国民经济的主导产业,但它的发展能带动和促进国民经济其他部门,尤其是第三产业的发展。

【答案】D



能力检测

1. 读下列材料,判断有关问题。

自助旅游是一种时尚的旅游方式,是旅游者完全自主选择 and 安排旅游活动,且没有全程导游陪同的一种旅游方式。目前,我国自助旅游者的队伍在不断壮大。

(1) 自助旅游在我国兴起的原因是 ()

- A. 因为旅游业中介服务机构严重缺乏而被迫的选择
- B. 交通及其他配套服务设施的发展为自助旅游提供了条件
- C. 自助旅游以“张扬个性、亲近自然、放松身心”为目标
- D. 自助旅游主要受经济条件限制,是在低收入情况下的旅游方式

(2) 参与自助旅游的群体主要是 ()

- A. 有较多空余时间的农民
B. 青年学生
C. 城市青年白领阶层
D. 城市中已退休的老人

(3) 自助旅游的方式有 ()

- A. 自行车旅游
B. 私家车或租车旅游
C. 由旅游网站为旅游者代订车船票及客房, 即网络自助旅游
D. 背包徒步旅行, 国外被称为 backpacker

(4) 自助旅游与团队旅游相比, 具有以下特点 ()

- A. 自助旅游者的食、住、行、游更贴近当地人的生活, 更真实地感受当地风土人情
B. 自助旅游者出行前准备更充分, 能全面地了解旅游目的地, 而不仅仅是旅游景区(点)
C. 自助旅游更侧重纯旅游或消遣性的目的, 因此一般只限于短程旅游
D. 旅游者在拥有自主权的同时, 也必须具备一定的素质和旅游经验

2. 读部分国家或地区 1994 年旅游业相关数据表, 回答下列问题。

国家或地区	西班牙	意大利	希腊	瑞士	奥地利	英国	法国	泰国	香港
国际旅游收入与国内生产总值之比 (%)	4.2	2.0	4.9	2.9	6.7	1.4	1.9	3.6	6.6
国际旅游收入与出口总额之比 (%)	29.8	12.6	40.0	11.5	29.4	7.4	10.9	16.3	5.5
国际旅游业就业人数与就业总人数之比 (%)	10.0	9.8	5.6	7.2	8.9	2.4	2.0	8.0	7.9

(1) 表中各国或地区的国际旅游收入与国内生产总值比例最高的是_____国和_____国的_____地区, 国际旅游收入与出口总额比例最高的是_____, 国际旅游业就业人数与就业总人数比重最低的是_____和_____。

(2) 由表可知, 欧洲各国中, 旅游业对国民经济贡献较大的国家主要集中在欧洲的_____部和_____部。

(3) 旅游地区接待能力与经济发展水平之间的关系, 一般是_____。

(4) 由此表做出的下列判断, 正确的是 ()

- A. 英、法两国的各项指标都相对较低, 说明其旅游业相对于其他各国比较落后
B. 从表格中可以看出国际旅游业就业人数最多的国家是西班牙
C. 发展中国家旅游业还停留在初级产业化阶段
D. 由此表可知, 欧洲旅游业整体接待能力较高

(5) 旅游业对经济发展有哪些积极作用?

3. 阅读下列材料, 回答相应问题。

昔日革命摇篮井冈山, 如今大力发展旅游业, 目前市内已有 8 大景区, 60 多处景点, 320 多处景物景观。1997 年上山游客达 100 万人次, 旅游业收入占国内生产总值的 40%, 井冈山已经成为一座新兴的风景旅游名城。

1984 年被列为全国第一批风景名胜区的井冈山, 1991 年又被评为中国旅游胜地之一。近年来, 井冈山加大了对景区景点的开发建设, 围绕“旅游兴市”这一主题开展一系列宣传和促销活动, 分别在北京、上海、广州、深圳等大城市召开旅游推介会, 吸引了大量的游客。

(1) 目前, 旅游业已成为我国发展最快的第三产业, 其具有哪些特点? 以井冈山为例, 说一说当前我国大力发展旅游业有什么积极意义?

(2) 旅游业的发展说明第三产业

()

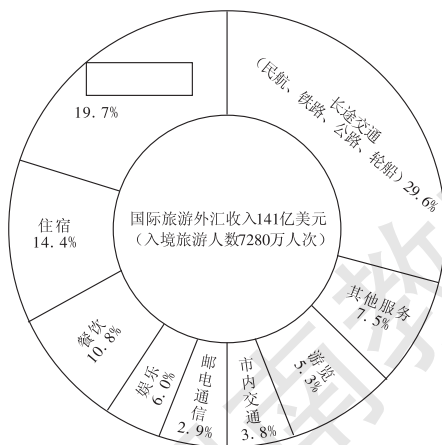
- A. 已成为我国国民经济的支柱产业
- B. 已成为一个国家经济现代化程度的标志
- C. 已成为我国国民经济发展的一个新的增长点
- D. 已成为我国国民经济的基础

(3) 从旅游业成为井冈山的支柱产业, 谈谈对革命老区发展经济的启示。



探究拓展

读我国 1999 年旅游收入统计图, 回答下列问题。



(1) 中国 1999 年入境旅游人数多达_____万人次，主要是受我国悠久的历史文化和秀美的自然风光吸引。因为这可以满足他们高层次的_____需要。

(2) 从图中可以看出，发展入境旅游，能够增加国家的_____收入。由于旅游业基本上是_____密集型的_____服务性行业，因此发展旅游业能扩大_____。而且还能带动_____、_____和餐饮等第三产业的发展。

(3) 在上图空框中最有可能的行业名称是_____。分析上图的构成，你认为_____行业还有待加强，你的建议是_____。



高考命题趋势分析

下表是一些国家某年的旅游相关数据，其中 J/R 表示国际旅游收入与国内生产总值之比 (%)，J/C 表示国际旅游收入与出口总额之比 (%)。读表并对照地图回答下列问题。

国家	J/R (%)	J/C (%)
A	4.2	29.8
B	2.0	12.6
C	4.9	40.0
D	2.9	11.5
E	6.7	29.4
F	1.4	7.4
G	1.9	10.9



(1) 表中 J/R 值最低的国家是_____ (填国名，下同)，J/C 值最高的国家是_____。与 F 国相比，C 国 J/C 值较高的主要原因有_____。

(2) A~G 字母所代表的国家，旅游业发达，其共同的优势条件有：_____。

【解析】 首先要能识图，这是解答本题的关键，其次是要熟悉这些国家的一些基本的地理特征。旅游业发展的优势条件，实际上是对旅游资源的评价。

【答案】 (1) 英国 希腊 外贸出口总额小，旅游资源更具非凡性

(2) 旅游资源丰富，游览价值高；经济发达，市场距离近；交通便利，景点的通达性高；基础设施完善，地区接待能力强



教材活动参考答案或提示

P. 62

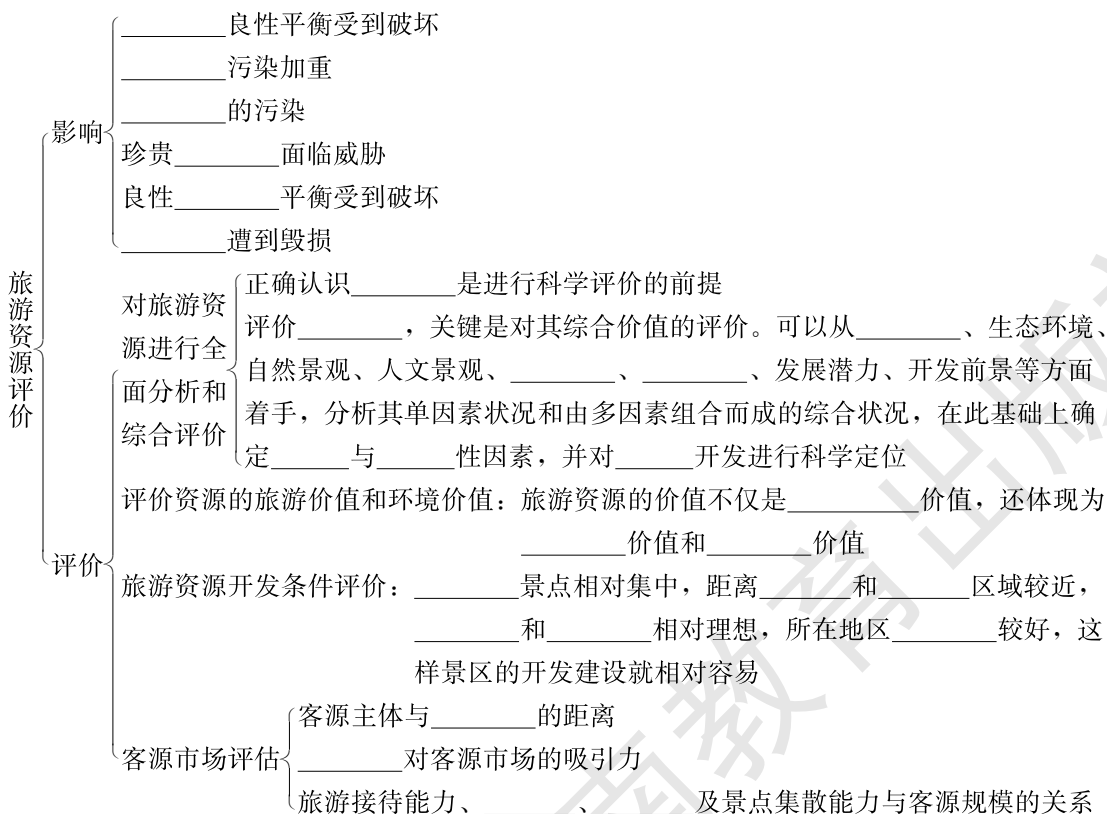
1. 提示：上述观点成立。发展旅游业能够吸纳大量的劳动力，提供较多的就业机会，促进当地的经济发展。例如，位于湘西的张家界，原是一个贫困落后的地区，自从20世纪80年代进行旅游开发以后，每年吸引了数量众多的中外游客，当地的旅馆、交通、餐饮、商业、娱乐等行业也随之迅速发展，大量原先种地的农民纷纷从事旅游行业，经济收入大为提高。

2. 提示：对景区发展目标进行科学定位，合理安排各种建设项目，协调处理好旅游经济发展与生态环境保护的关系，以实现景观资源的保护和旅游景区的可持续发展。

第二节 旅游资源评价



基础梳理





范例剖析

阅读材料，回答下列问题。

1999年12月，《北京青年报》报道海拔2303米的灵山是北京市第一高峰，素有“北京的珠穆朗玛”之称，顶部的4平方千米的高山草甸构成了北京独特的山地牧场景观，是北京著名的生态旅游景观。然而，在1993—1997年，灵山被破坏的草甸达66.36万平方米，占草甸面积总数的13.12%，过去1平方米有几十种植物、草丛高达60厘米~70厘米，而现在，1平方米只有十几种，甚至几种植物，草贴着地面长，高度不超过10厘米。随着到此地旅游的人数不断增多，水质已遭破坏，垃圾随处可见。

(1) 上述材料中出现的环境问题主要是_____，原因是_____。

(2) 灵山的生态旅游还称得上“生态旅游”吗？你认为应该如何实现生态旅游？

【解析】随着社会生产力水平的提高，人类休闲时间不断延长，旅游活动的内容和范围不断增加，加上开发商和游人的素质不高，对地理环境的影响也日益突出。因此，人们提出了一个新课题——旅游活动与地理环境的协调发展，实现旅游活动的可持续发展。

【答案】(1) 污染环境、动植物破坏 游人过多，素质低，乱扔乱倒，破坏了环境；开发商只顾赚钱不讲环保，导致草场退化，环境污染，环境恶化，不利于可持续发展

(2) 不是，生态旅游应提高游客的环境意识，自觉保护环境，并且要加强宣传教育，严格执法。



能力检测

一、选择题（下列各小题的四个选项中，请将符合题目要求的答案的字母代号填写在题后的括号内。）

1. 旅游活动与环境保护的关系为 ()
- A. 两者是相互对立的
 - B. 两者是彼此独立的
 - C. 两者可以相互支持，彼此受益
 - D. 环境是旅游业的基础

2. 近 40 年来,北京一些景点的汉白玉雕像被严重溶蚀,有的雕像溶蚀厚度已超过 1 厘米,比自然条件状态下的溶蚀速度快几十倍,这是因为 ()

- A. 城市的热岛效应
- B. 北京旅游人口增加
- C. 燃烧煤和石油产生粉尘、二氧化硫等有害物质并产生酸雨
- D. 沙尘暴的影响

3. 下列环境问题中属于旅游活动直接造成的是 ()

- A. 昆仑山附近的地震毁坏了部分青藏公路
- B. 为修黄山索道,仅建白鹅岭站就砍林 48 450 米³
- C. 图瓦卢将有被淹没的危险
- D. 伦敦的烟雾事件

4. 山西五台山是我国四大佛教名山,有卓越的历史文化价值,但常年游人不足,其原因主要是 ()

- A. 集群状况不佳
- B. 经济距离远
- C. 地区接待能力差
- D. 交通不便

5. 新加坡发展旅游业的有利条件是 ()

- A. 便利的交通,优越的位置
- B. 环境优美,自然景观多种多样
- C. 悠久的历史,灿烂的文化
- D. 独特的民族、宗教及风土人情

6. 下列哪些旅游行为不会对旅游资源造成破坏 ()

- A. 大客车开进旅游景点
- B. 驾驶木船游览湖景
- C. 在森林公园拍照留念
- D. 在名山胜景采集鲜花、野草

7. 下列关于旅游资源开发条件的叙述,正确的是 ()

- A. 游览价值高的旅游资源,无论位于何地其开发价值都高
- B. 一般来说,人们的经济收入越高,旅游的经济距离会越长
- C. 评价旅游资源的开发价值,不必考虑其交通位置
- D. 景区内尽可能容纳的游人数,即反映景区的环境承载力

8. 从旅游资源的开发条件角度,想一想,制约黄山夏季游客数量的主要因素是 ()

- A. 旅游的环境承载力
- B. 地区接待能力
- C. 与旅游消费市场的距离
- D. 游览价值

旅游已成为现代生活不可缺少的一部分。完成 9~11 题。

9. 下列旅游路线中具有观赏海岸地貌、古代文化遗迹、沙漠探险等旅游内容的是 ()

- A. 浙赣线—湘黔线—贵昆线
- B. 京哈线—京广线
- C. 陇海线—兰新线—南疆线
- D. 京沪线—沪杭线

10. 在下列哪个地方旅游有可能看到“午夜的太阳” ()

- A. 拉萨
- B. 摩尔曼斯克
- C. 汉城
- D. 漠河

11. 下列行为不会对旅游资源和环境造成破坏的是

()

- A. 驾驶快艇游览玄武湖
B. 在南京中山植物园采集鲜花
C. 在中山陵音乐台举办小型音乐会
D. 在紫金山顶建大型观景台

二、综合题

12. 读材料及“山西大同云冈石窟”照片，回答下列问题。



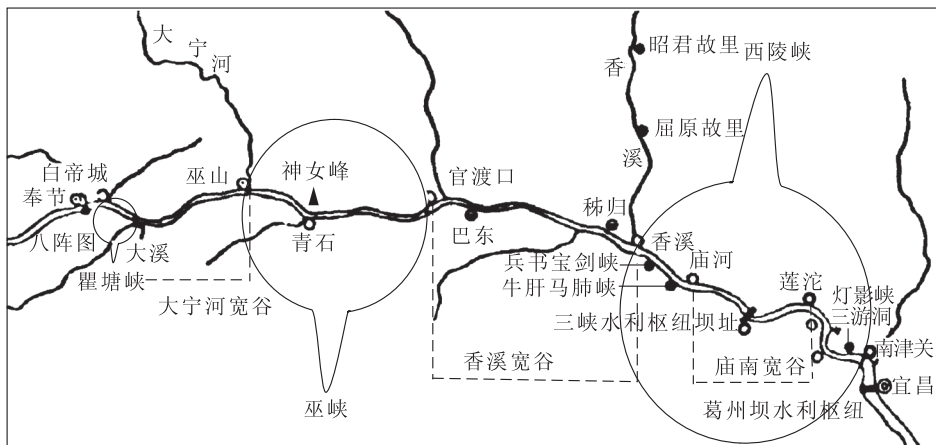
山西大同云冈石窟

云冈石窟位于大同市城西 15 千米的云冈村，是北魏时代的杰作，驰名中外。石窟依武周山南麓开凿，东西长达 1 000 米，大小石窟 53 个，是我国三大佛教石窟艺术之一。云冈石窟西部有几座大煤矿，通过云冈村的公路干线，运煤卡车穿梭往来，整日不断。多年来，大同市严禁在武周山上放牧伐林、垦荒种田。近年来，又投巨资准备将通过云冈村的公路干线改道新建。

- (1) 根据旅游资源的本质属性分类，云冈石窟属于_____景观。
(2) 严禁在武周山上放牧伐林、垦荒种田的原因是什么？

(3) 为什么要将公路干线改道？

13. 读“长江三峡旅游资源分布示意图”，结合材料完成下列各题。



长江三峡旅游资源分布示意图

材料一：三峡游览区位于渝东鄂西的巫山山脉之中，它以幽深壮丽的峡谷景观为主，配合众多的溶洞和名胜古迹，成为我国著名的风景名胜区。

材料二：三峡有雄、险、奇、幽之美，真是“无一处不可以成诗，无一处不可以入画”。山、水、泉、林、洞，相映成趣，相得益彰，可称是长江风景线上最为奇秀、最为集中的山水画廊。三峡也是一座宏大的历史博物馆，有殷商旧城、巴蜀遗物、秦时栈道、楚国阳台，有屈原故里、昭君故里、石宝寨、“鬼城”丰都、张飞庙、白帝城，等等。这些名胜古迹不但为学术研究提供了丰富的史料，而且丰富了旅游内容。

(1) 长江三峡中巫峡显著的景观特征是 ()

- A. 雄伟险峻 B. 幽深秀丽 C. 滩多水急

(2) 材料一反映了我国自然风景区的什么特色？

(3) 图中属于人文景观的旅游资源有_____。

(4) 1997年，举世瞩目的长江三峡工程大江截流成功。这对三峡地区的旅游资源产生了哪些影响？对不利影响应采取哪些措施加以克服？



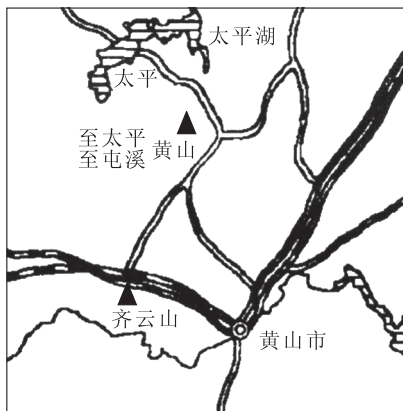
探究拓展

读以下图文材料，回答问题。

材料一：黄山国内旅游客源市场所占比重如下表：

地区	安徽	北京	江苏	广东	上海	浙江	福建	江西
比重(%)	18.5	14.7	12.6	11.1	9.6	9.6	4.3	4.3
地区	湖北	湖南	广西	河北	山东	山西	天津	
比重(%)	2.8	2.1	1.5	1.5	1.3	1.1	1.1	

材料二：黄山索道从云谷寺至北海，是目前亚洲最长的客运索道。它全长 2 804 米，上下站高差 773 米，运行速度每秒 7 米，总行程约 3 分钟，单向每小时可载客 280 人次。



黄山位置图（黄山市原为屯溪，为地级市，太平现已更名为黄山区）

(1) 若要建设一批较高档的旅游宾馆，最合适的地址是 ()

- A. 黄山 B. 太平 C. 歙县 D. 黄山市

(2) 影响黄山旅游客源的主要因素是 ()

- ①经济条件 ②距黄山的远近距离 ③黄山的知名度 ④黄山的水陆交通

- A. ①② B. ③④ C. ①④ D. ②③

(3) 关于黄山旅游观赏的叙述，正确的是 ()

- A. 黄山最吸引人的是其断块山的特有的科学价值
B. 到黄山旅游的最佳季节是秋高气爽的秋天
C. 游黄山不仅可以欣赏独特的自然景色，还可以领略其丰富的人文景观
D. 黄山“四绝”展示的都属于黄山的形象美

(4) 对旅游区修建索道的正确评价是 ()

①索道有损于风景区的自然美，会破坏背景环境 ②索道可减少游客体力消耗，缩短旅游时间，改善景区接待能力 ③索道会造成严重的环境污染 ④索道安全、省力、省时，建设投资少，见效快，比修建盘山公路优越

- A. ①④ B. ②③ C. ②③④ D. ①②④

(5) 修建索道应遵循的原则是 ()

- ①捷径原则 ②与景观协调原则 ③经济原则 ④娱乐原则

- A. ①②④ B. ①③ C. ②③ D. ①④



高考命题趋势分析

1. “五一”、“十一”假期已成为我国国内旅游的黄金周。某些景区面对急剧增多的游客，做出了限制游客人数的规定。其主要目的是 ()

- A. 保护景区环境 B. 限制到达当地的游客数量
C. 控制当地的交通流量 D. 保证旅游质量

【解析】 本题关键要正确认识旅游活动与地理环境的关系。每一地区有一定的环境承载量，限制旅游人数在环境承载量内，一方面保护了本区环境，另一方面保障了游客的旅游质量。

【答案】 A、D

2. 读“某省（区）轮廓图”，回答下列相关问题。

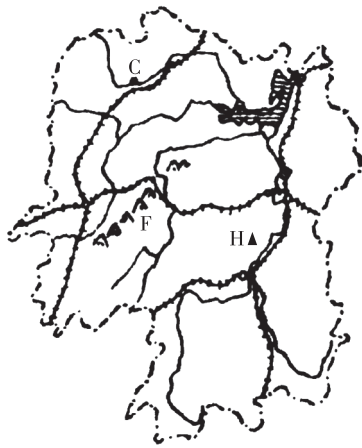
(1) 该省北部湖泊是_____，在此湖附近建有一楼，此楼因北宋文人留下千古名篇《_____》而著名。

(2) 图中C是_____（地名），与四川九寨沟、黄龙，同属我国的世界自然遗产，请从所处位置和交通的角度分析该处发展旅游业的条件较九寨沟的优越性：_____

_____。

(3) 图中H为_____山，在历史上被尊为_____。

(4) 山脉F是_____山，其地理意义是我国_____分界线。



某省（区）轮廓图

【解析】 从省区轮廓和山河、湖泊的分布，可知该省是湖南省，这是解答此题的关键。北部湖泊是洞庭湖，湖畔建有岳阳楼，因范仲淹的《岳阳楼记》而闻名，历来是赏湖的绝佳之处。张家界的区位条件较九寨沟优越，这主要从两者的市场距离和交通通达性来分析。

【答案】 (1) 洞庭湖 岳阳楼记 (2) 张家界 ①位于中部地区，比九寨沟更靠近东部发达地区，接近旅游消费市场；②有焦柳线经过，交通通达性比没有铁路经过的九寨沟要好 (3) 衡 南岳 (4) 雪峰 地势第二级阶梯与第三级阶梯



教材活动参考答案或提示

P. 65

1. 提示：游客越多，滞留时间越长，对旅游区的空气质量影响就越大，对文物古迹造成的影响也越大。

2. 提示：发展旅游一定要考虑旅游区的环境承载能力，以实现景观资源的保护和旅游景区的可持续发展。根据旅游区的环境承载能力，为保护旅游资源可采取一定的措施（如提高门票价格），以限制游客人数。

P. 67

提示：两种措施都有一定的局限性，既不能不闻不问，也不能过多地干预。

P. 67

提示：上述措施不当，因为桂林地区“名山”不高，修高层建筑会破坏当地旅游环境的整体性，影响旅游景观的审美价值。

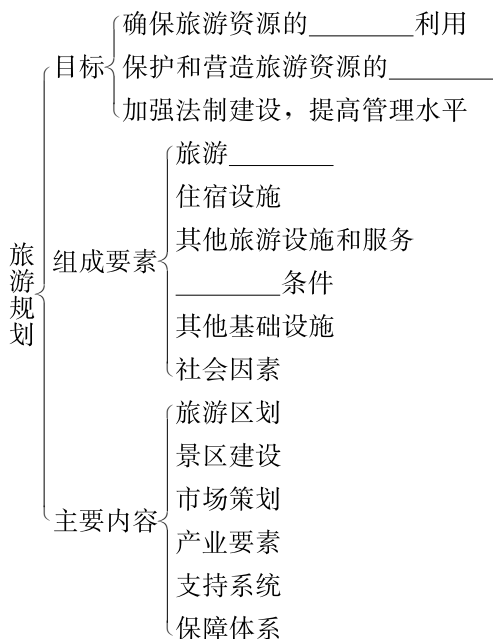
P. 69

（略）

第三节 旅游规划



基础梳理

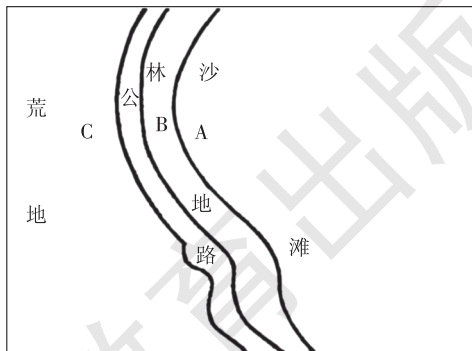


范例剖析

某单位要在海边建疗养所，如图所示，有 A、B、C 三个区域可供选择。

(1) 你认为疗养所应建在哪个区域？

(2) 谈谈你这样选择的理由。



【解析】 本题旨在考核学生的读图能力和综合分析能力。解答本题，首先要从读图入手，仔细读出图中给出的已知条件：图为海滨自然景观旅游区；A 区域为沙滩；B 区域为林地，处于海与陆的边缘地带；C 区域是荒地，距公路较近。

建立海滨疗养所，既要满足旅游者的基本疗养要求，又要达到保护风景区环境质量的要求。保证旅游活动与地理环境的协调发展，是选择疗养所区位的基本思路，是评价疗养所区位选择正确与否的科学标准。

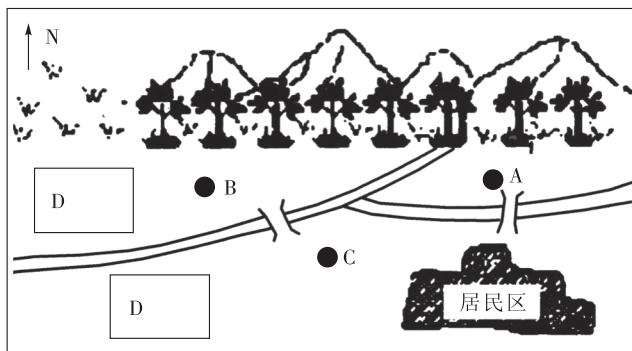
依据题中的已知条件，遵循基本的解题思路，综合分析评估 A、B、C 三区域，就会有正确的选择。

【答案】(1) 疗养所应建在 C 区域。(2) A 区域是沙滩，这是海滨主要风景区游人活动的主要区域。B 区域是林地，它是海与陆的边缘地带，既有保护沙滩的作用，又是海滨风景区的重要组成部分。C 区域是荒地。所以，在 C 区域建疗养所，既不破坏海滨风景，不占用土地，又离海较近且紧靠公路，可满足疗养要求。



能力检测

1. 读下图，某城镇位于河边，该河上游水流湍急，北有高山，森林茂密，D 为工业区，当地盛行东北风。回答下列问题。



某城镇区位示意图

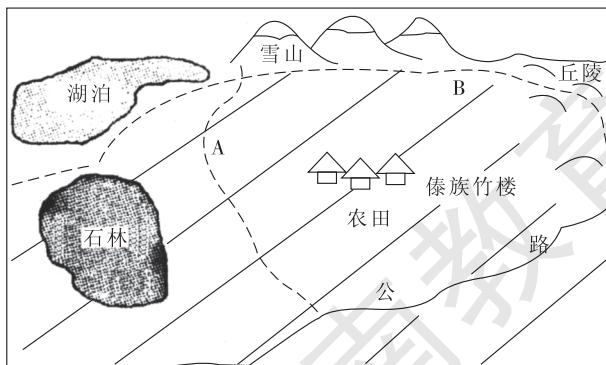
(1) 该镇要建大型园林公园，A、B、C 三处中，你认为建在哪处较好？理由是什么？

(2) 根据当地自然条件，你认为在园林的布局上，用什么构景手法能充分利用自然优势？说出你的理由。

(3) 若大型园林由若干个景区组成，且有路相通，它的构景手法属于_____。

(4) 建园林时，在河边也修建亭、台、榭等的目的是_____。

2. 读“某地区示意图”，回答下列问题。



某地区示意图

(1) 从图中看, 该地可以开发利用的旅游资源有_____、_____、_____、_____等。

(2) 该地旅游业发展的主要优势有:

不利条件有:

(3) 为发展当地的旅游业, 准备修建公路, 图中 A、B 两条路线各有利弊, 其主要表现在:

A 线_____;

B 线_____。

(4) 发展当地旅游业最需要注意的问题是_____, 这主要是因为: _____

_____。

3. 云雾山为亚热带丘陵地区一佛教名山, 山清水秀, 云雾缭绕, 是著名的旅游胜地。分析回答下列问题。

(1) 景区管理处欲在环境优美的天然高山湖泊上填湖造地, 修建一大型野味餐馆, 突出山林地区的饮食特色。你如何看待此建议, 并说出你的理由。

(2) 景观管理处欲在主要山峰景点间的上空建一索道, 以方便游客。你对此的建议及理由是什么?

(3) 由于雾淞景区位于山顶，山高坡陡，交通不便，仅有一段危险山路，游人一直很少。景点管理处规划建造一条盘山公路，为此需砍伐大批千年古树，你对此的建议及理由是什么？

(4) 旅游旺季，云峰景区山路上游人络绎不绝，早已超过了其环境承载量。从管理角度来看，你的建议是什么？

(5) 白居易的“湖上春来似画图，乱峰围绕水平铺”诗句点出西湖采用了园林构景中的_____手法，以远处的_____来衬托西湖景色。试想，该处是否也可以借用此手法来进行旅游景区规划？

4. 2005年2月，国家正式颁布实施《2004—2010年全国红色旅游发展规划纲要》就发展红色旅游的总体思路和主要措施做出了明确规定。

(1) 纲要提出要培育12个“重点红色旅游区”，使其成为主题鲜明的革命旅游胜地。请将下列主题形象的序号填入表中相应的位置。

①延安精神，革命圣地

②抗联英雄，林海雪原

③川陕苏区，红岩精神

④人民胜利，国旗飘扬

红色旅游区名称	京津冀红色旅游区	陕甘宁红色旅游区	大别山红色旅游区	川陕渝红色旅游区	东北红色旅游区
主题形象			千里跃进， 将军故乡		

(2) 红色旅游不同于一般的观光旅游，具有重要的政治、经济和文化意义。请在下表中做简要表述。

政治意义	
经济意义	
文化意义	

(3) 根据纲要, 以上海为中心的“沪浙红色旅游区”被列为全国“重点红色旅游区”, 主题形象是“开天辟地, 党的创立”。最能体现这一主题的景点是_____。

(4) 如果请你开发上海的红色旅游资源, 可以从哪些角度切入? 试举两个例子, 例如, 开发纪念章、明信片等红色旅游纪念品。

- ① _____ ;
 ② _____ 。



探究拓展

阅读下列材料, 回答问题。

我国有数千年的历史, 七大古都都各有其值得骄傲的辉煌, 古城西安、北京、洛阳更是驰名世界。它们都是我国古城中的精华, 它们本应在世界文化遗产中占有一席之地, 却偏偏让鲜为人知的、历史地位远不如上述城市的平遥、丽江中了头彩。

四合院在明清北京城的规划建设中占有突出的地位, 北京城的棋盘格局就是通过四合院来体现的。

1994年, 北京市加快危房改造时, 房地产开发商纷纷介入, 成片保存完好的四合院被列入危房而拆除……美术街22号的四合院集建筑价值、人文价值和文物价值于一身, 可是它却面临着彻底拆毁的危险, 取代它的将是一座现代商业楼。

20世纪70年代我们已经拆了北京的城墙……今天, 同样的错误又在继续。

北京城能够独立于世界的不是高楼大厦, 而是它整齐划一的棋盘式格局, 没有了它, 就没有了北京。

(1) 上述材料反映了什么问题?

(2) 你认为拆除北京的城墙和四合院是否合理? 为什么?

(3) 你认为应该采取什么措施保护北京的四合院?

(4) 材料中提到的丽江、平遥分别位于我国_____省和_____省, 试分析它们是以何种特色被收入《世界遗产名录》的?

(5) 试分析北京没有被列入《世界遗产名录》的原因。



高考命题趋势分析

2004年3月10日是上海市24家公园第一个免费开放日, 有人对其中A、B两个公园进行了调查, 数据见下表:

A、B公园调查表

公园名称	面积 ($\times 10^4$ 米 ²)	餐厅面积 (米 ²)	厕所蹲位 (个)	设计日容量 (万人)	高峰时段人数 (万人)	日总人数 (万人)
A	125	3 000	100	5	10	20
B	50	1 500	40	2	3	5

(1) 请以高峰时段人数计算3月10日A公园的游客人均面积、游客人均餐厅面积和每厕所蹲位的服务人数, 并填入空格中。

游客人均面积: _____米²,

游客人均餐厅面积: _____米²,

每厕所蹲位的服务人数: _____人/个。

(2) 根据上述表格, 请分析公园免费接待日产生的问题, 试举两例, 并分析原因。

(3) 针对上题列举的一个问题，请你从以下角度各提一项改进措施。

从游客自身角度：_____；

从公园管理角度：_____；

从政府决策的角度：_____。

(4) 调查中发现，免费开放的公园内，各种塑料袋、水果皮等废弃物随处可见，游客任意践踏草地，少数游客还带着工具去挖野菜，致使不少草坪伤痕累累。为了保护绿地，请你为电视台设计一条公益广告词。

【解析】 本题开放性较强，不是单纯地考查课本上的知识点，而是重在考查学生分析实际问题的能力，引导学生平时注意研究性学习。

【答案】 (1) 12.5 0.03 1 000.0 (2) 公园人满为患；餐厅拥挤；用厕困难。造成这些问题的主要原因是游客人数超过了设计标准。(3) 不盲从，遵守秩序 加强宣传，加强管理 增加开放公园数量，增加开放次数加强宣传引导，加强宏观管理 (4) 略



教材活动参考答案或提示

P. 73

(略)

第四章 文明旅游

本章是全册书的最后一章，是前三章的“升华”。因为前面着重介绍了旅游资源及其形成与分布、中外著名的旅游景观及欣赏方法、旅游资源的评价及旅游规划，这些着重从理论上进行了阐述；而第四章则是开始让学生从理论走向实践，需要学生多接触社会实际（如旅行社、旅游公司、景区等），开展系列旅游方面的社会活动（如红色之旅、科技之旅、民俗民情之旅、自然风光之旅等）。

随着科学技术的日新月异，生产力的飞速发展，劳动生产效率大幅提高，人民生活水平也不断提高，旅游活动已经成为世界范围内越来越重要的生活生产活动。历史上的自然和人类的不朽文明就是现在的旅游资源；而现代的人们既要传承历史又要开创未来，则就是通过旅游活动来缅怀昔日的辉煌和文明，探究创新让人们向更高的文明境界迈进。因此，学习“文明旅游”，已经成为人们不断提升文化品位、个人素质的需要，更是可持续的和谐社会发展的需要。

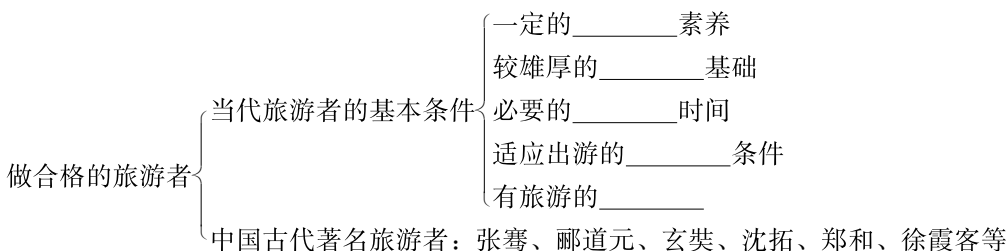
本章从“做合格的旅游者”着手，谈“旅游者”应具备的条件及古代著名的“旅游者”，意在教育学生不断塑造自我、提升自我，将来才能成为当代出色的“旅游者”。那么，旅游前该准备什么？当然是“物质和精神”两方面。就“物质”而言，“必需物品”的准备非常重要，充分和合理是原则；就“精神”而言，文化底蕴和对“旅游目的地认知了解”也同样重要，“旅游路线的选择”和“出游方案的定夺”则是一次旅游是否方便、快捷、经济的保证。掌握旅游常识和导游基础知识对保证旅行的充实、愉快和安全有着重要的作用，也为学生走向社会奠定了一些知识基础。“旅游安全”是旅游活动的重中之重，关乎人们的生命和财产安全；教材从地理学的角度（如地形、气象、气候等自然因素，交通、景区、食品卫生、社会治安等社会因素），阐述了影响旅游安全的因素，提出了防范安全的措施（如购买保险、带好必要的药品等）。因此，该教材不失为提高国民素质、规范国民道德、文明国民风貌的好教材。

在学习本章的过程中，要特别注重“理论联系实际”，既可以听老师讲，也可以询问家长、亲朋好友；既可以通过看书、报、电视、上网等手段间接获取知识和经验，也可以通过亲身的旅游活动来直接获取知识和经验；既要谈古又要论今，既要方便快捷又要安全可靠，既要继承又要开拓，把历史与现实融合、经济与文化融合、自然与人文融合——这就是学好本章的根本方法，开放思维、拓展视野、综合分析、独立判断。

第一节 做合格的旅游者



基础梳理



范例剖析

1. “十一”假期已成为我国国内旅游的黄金周。某些景区面对急剧增多的游客，做出了限制游客人数的规定。这两个时期游客增多的主要原因是 ()

- A. 文化素养的提高
- B. 经济基础较雄厚
- C. 有了闲暇时间
- D. 生理身体条件好

【解析】随着经济的发展，人民生活水平的提高，外出旅游成为人们生活中的一种要求；但由于平时工作节奏紧，时间长，无暇实现这一愿望。到“十一”这种法定长假，人们有了一定长度的闲暇时间，这就为大多数人步入旅游者的行列创造了条件。

【答案】C

2. 自2000年以来，我国出现了“假日经济”，“春节”、“五一”、“十一”期间，外出旅游度假的人越来越多，出游的距离越来越远。你能解释这种现象吗？

【解析】解释这种现象的关键是从影响旅游的因素入手。因为随着经济的发展，人们经济收入的不断提高，人们利用假期出游的动机增强，人们有充足的时间，宽余的经济条件，可以到达较远的地方旅游。

【答案】旅游活动是人类社会经济和文化发展到一定阶段的产物，是人类超出生存需要的较高层次的消费形式。改革开放30多年来，我国综合国力不断增强，人民生活水平有了很大的提高，有的地区已基本达到了小康水平。与此同时，人们对精神生活的需求增加，旅游活动日益成为人们生活过程的一部分。2000年国家调整政策，延长了“春节”、“五一”、“十一”等节假日的放假时间。于是全国利用节假日外出旅游度假的人数越来越多，出游的距离越来越远，可乘飞机双飞游，可以出国旅游，充分体现了旅游主体的大众化和旅游空间的扩大化，假日经济十分繁荣。



能力检测

一、选择题（下列各小题的四个选项中，只有一项是最符合题目要求的，请将所选答案的字母代号填写在题后的括号内。）

1. 一般说来，旅游者需要具备的基本条件不包括 ()
- A. 旅游伙伴
 - B. 经济条件
 - C. 旅游动机
 - D. 闲暇时间

有旅游爱好的上海退休工人王大爷，虽年过“花甲”，但体力还不错，他总想用自己的退休工资在“古稀”之前，完成一年一次的旅游活动，他又不想打扰子女，只想一个人无拘无束地活动。今年他积攒了2 500元的旅游经费，去了A旅行社，准备结团旅游。阅读上述材料，回答2~4题。

2. 下列旅游目的地中最适合王大爷去旅游的是 ()
- A. 水乡古镇周庄
 - B. 澳大利亚大堡礁
 - C. 承德避暑山庄及周围寺庙
 - D. 肯尼亚山国家公园
3. 王大爷成为旅游者的最“优越”条件是 ()
- A. 文化素养高，审美情趣浓
 - B. 闲暇时间多
 - C. 经济基础雄厚
 - D. 身体体能条件好

4. 王大爷的这次旅游活动的选择，充分说明 ()

①每个人都可以有许多选择 ②旅游是一种高雅的消费行为 ③量力而行、适度消费，是人们旅游过程中普遍接受的准则 ④只要具备了起码的身体条件，有一定的经济实力，又有旅游爱好，就可以成为旅游者

- A. ①②
- B. ②③④
- C. ①③④
- D. ①②③

夏威夷群岛坐落在北太平洋上，在公元4世纪左右，一批波利尼西亚人到此定居，给这个岛屿取名为“夏威夷”，意即“原始之家”。它是世界著名的旅游胜地，有美丽的海滨，有宜人的气候，有奇特的火山景观，还有其他多彩的自然风光，每年有4 000多万游客慕名而至。阅读上述材料回答5~7题。

5. 对于我国去夏威夷旅游，下列哪一类人群最有可能 ()
- A. 解放军
 - B. 大学生、中学生
 - C. 政府公务员
 - D. 工人农民
6. 夏威夷最具特色的旅游资源就是“火山景观”，这里多火山的原因是 ()
- A. 处于太平洋板块与美洲板块的挤压地带（消亡边界）
 - B. 处于太平洋板块与美洲板块的拉张地带（生长边界）
 - C. 处于环太平洋火山地震带上
 - D. 处于北太平洋中部、地壳薄弱的地带上

7. 2005年5月19日,《江海晚报》刊载了《布什想卖掉夏威夷填赤字》。理由是:“它(夏威夷)是那么的遥远,它看上去根本不像美国的领土。另外,我已经与我父亲谈过这个岛屿。他说,夏威夷岛上没有石油,只有菠萝和椰子。”据材料判断,下列说法正确的是()

①夏威夷属北美洲 ②夏威夷属大洋洲 ③夏威夷有水文地理景观 ④夏威夷有气象气候景观 ⑤夏威夷有生物景观 ⑥夏威夷有地质地貌景观

A. ①③④⑤ B. ②⑤⑥

C. ②③⑤ D. ②④⑤

8. 为开通古老而伟大的洲际商路——丝绸之路奠定了坚实基础的人物是()

A. 普雷斯顿·詹姆斯 B. 李约瑟

C. 张骞 D. 郑和

9. 开我国古代山水散文之先河的研究水文的地质巨著是()

A. 《地理学思想史》 B. 《大唐西域记》

C. 《梦溪笔谈》 D. 《水经注》

10. 下列四大名著中哪一部的写作与唐三藏西游古印度有关()

A. 《红楼梦》 B. 《西游记》

C. 《三国演义》 D. 《水浒传》

11. 郑和航海的“宝船”是世界公认的15世纪帆船之王,古“宝船”的建造可能在现在哪一座城市()

A. 上海 B. 苏州

C. 福州 D. 南京

12. 下列哪一位古代旅游者重点考察喀斯特地貌的分布及发育规律,并写下了大量的考察日记()

A. 沈括 B. 徐霞客

C. 陶潜 D. 酈道元

13. 北京市国内旅游者的地区分布所占比例居前三位的省份是河北、辽宁、山东,原因是()

A. 与其他省份比这三个省的居民收入最高

B. 这三个省的经济距离较短

C. 北京有众多的风景名胜,吸引力大

D. 居民中老年人多,闲暇时间多

14. 近十年来到“人间天堂”的苏州、杭州旅游的游客中,大部分是工薪阶层和农民,这种现象主要反映了()

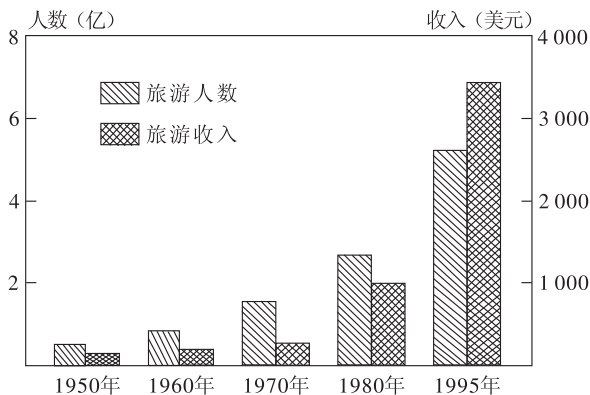
①旅游主体的大众化 ②旅游内容的丰富性 ③旅游方式的多样性 ④我国国民经济的发展和人民生活水平的提高

A. ①④ B. ①②

C. ②③ D. ③④

二、综合题

15. 读“世界旅游人数及收入随时间变化示意图”，回答问题。



从图中可以看出从 1950—1995 年国际旅游人数和收入都呈_____趋势。这说明从 1950 年以来，国际局势从整体上来说是从_____，世界经济_____，人民的收入相应_____，使人们旅游的欲望日趋_____。同时，随着科技的进步，劳动生产率迅速_____，人们的工作时间_____，闲暇时间_____，为外出旅游提供了_____保证。交通条件的改善和生活观念的变化，使现代旅游空间日趋_____，旅游方式和内容呈_____，旅游的主体也具有_____的特点。而旅游目的的_____，既是现代旅游的一大特点，又是旅游发展的一大原动力。

16. 分析下表有关数据资料，回答问题。

某年苏州外地游客统计表

来源地	占苏州游客总数的比例	平均逗留天数
上海	45%	2 天
江浙两省	25%	3 天
华东其他省份	20%	3 天
其余省市	10%	4 天
总计	100%	2.65 天

- 到苏州旅游的人主要来自于周围地区。这说明旅游资源的_____是有限的。
- 赴苏州旅游的客人中，主要以_____途和_____期旅游为主。
- 来自上海和江浙的游客占绝大多数，而来自其他地区的游客仅占少部分，这说明_____是旅游的主要消费市场。
- “其余省市”（如四川省）的游客到苏州旅游的耗资要比上海游客_____，周期比上海的游客_____。
- 从“经济基础”看，下列四省区中出游人数比例最高的应该是_____（ ）
 - 广东
 - 河南
 - 西藏
 - 内蒙古



探究拓展

阅读下列材料，回答问题。

我国部分城市地区生产总值、三大产业产值统计表（2000年）

城市	地区生产总值 (亿元)	第一产业 (亿元)	第二产业 (亿元)	第三产业 (亿元)	人均生产总值 (元)
甲	2 332.30	62.46	879.48	1 390.36	24 077.39
乙	1 392.88	35.59	697.98	659.31	20 443.24
丙	4 098.64	41.68	1 941.27	2 115.69	36 204.43
丁	786.20	66.06	384.17	335.97	9 038.24
克拉玛依	138.59	0.52	116.59	21.48	50 857.54
兰州	270.64	7.35	143.56	119.73	15 051.39

(1) 材料中的甲、乙、丙、丁为我国四个直辖市，分析表中数据后写出对应城市的简称：甲_____、乙_____、丙_____、丁_____。

(2) 试用“扇形结构图”画出甲城市的三大产业构成。

(3) “旅游业”按“三大产业”来说，应归于_____产业。甲城市或附近著名的旅游景点有（写出三个已列入《世界遗产名录》的景点）：_____。

(4) 克拉玛依是一个_____（职能）城市，其盛产_____。这里第一产业落后的原因有_____。

克拉玛依市的居民旅游，若考虑旅游经费和旅游时间不多，最好的旅游目的地首选（ ）

- A. 盛京三陵
B. 黔县西递和宏村
C. 莫高窟
D. 武陵源风景名胜区

(5) 甲、乙、丙、丁四城市中去下列名山旅游最方便快捷的是_____城市。

- ①峨眉山 ②青城山 ③梵净山 ④武陵源 ⑤神农顶 ⑥武当山

(6) 材料的各城市中，第三产业比重最大的是_____，该城市的主要职能是_____。

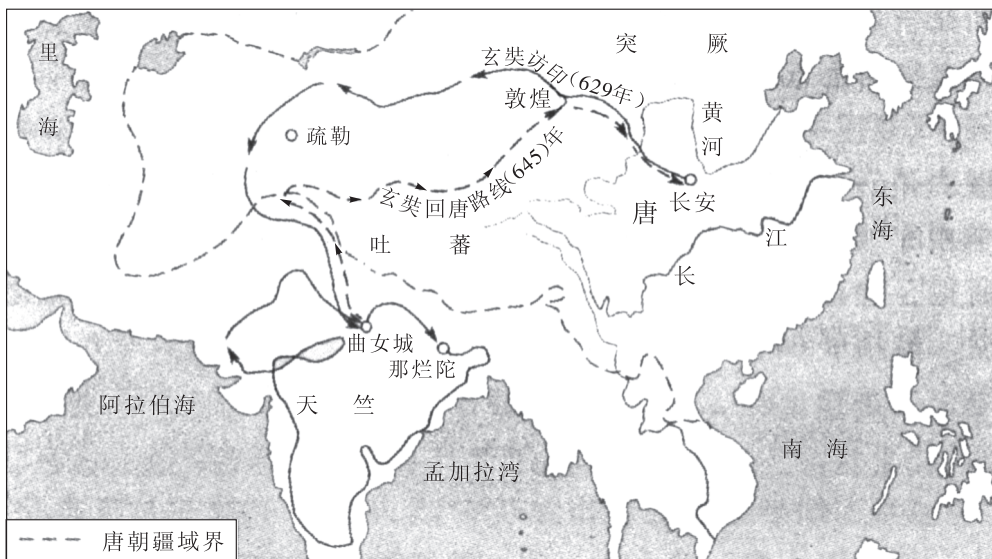
(7) 兰州“第二产业”中最主要的工业部门是_____，若有一定的水体污染，则首先污染_____河。

(8) 上述城市中经济总量最大的是_____城市，该城市发展的有利区位是_____。
该城市中最著名的“红色旅游”景点是_____。



高考命题趋势分析

读玄奘西游古印度图，回答下列问题。



(1) 唐玄奘西游古印度，出发地为_____，该城市最著名的旅游景点有_____、_____等。古诗云：“长安回望绣成堆，山顶千门次第开。一骑红尘妃子笑，无人知是荔枝来。”诗中描写的人物和景观发生在我国_____（朝代）。

(2) 唐玄奘西行过程中努力学习_____文，在_____寺经严格考核，获得了“三藏法师”的称号，16年后毅然载誉归国，唐太宗亲自安排在洛阳行宫接见玄奘。

(3) 唐朝廷为玄奘提供了多处存经、译经场所，译出 75 部佛经，并把在域外的见闻写成名著_____。

(4) 古印度在当时称_____国，其著名的圣城曲女城、那烂陀，均分布于_____河流域，该河被称为圣水（河）。

(5) 古中国、古印度的文明得益于_____。

(6) 唐初，吐蕃的藩王_____（人名）迎娶了唐朝的_____公主，吐蕃即为今天的_____。

(7) 敦煌是唐玄奘来去都经过的城市，敦煌最著名的景观有_____。敦煌也是历史上西部富裕地区之一，它邻近_____重要产粮地区，农畜产品均很丰富。

(8) 唐玄奘的西行，对于改革开放的今日之中国人民有何重要启迪？

【解析】 本题主要考查同学们的读图、分析、综合的能力，以及对古中国、古印度等历史地理知识的考查；题目难度不大，但覆盖面广。其实整个第一节“做一个合格的旅游者”知识难度都不大，但均涉及重要的历史人物：张骞、郦道元、唐玄奘、沈括、郑和、徐霞客等，因此这一节应紧密结合历史知识进行教学，同时要阐述历史人物、事件对今天的中国的启迪，做到古为今用、洋为中用。这些地理知识均易成为高考出题的知识点。

【答案】 (1) 长安 秦陵兵马俑 华清池 唐

(2) 梵 那烂陀

(3) 《大唐西域记》

(4) 天竺 恒

(5) 农业文明（河流为农业的发展提供了必需的物质条件）

(6) 松赞干布 文成 西藏

(7) 莫高窟 河西走廊

(8) 努力学习国外的先进技术、先进的经验和管理方法，做到古为今用、洋为中用，增强开放意识，提高开放水平，一心一意谋发展，努力增强综合国力；同时也要把自己的成就向海外输出，提高我国的国际声誉，增强民族凝聚力。



教材活动参考答案或提示

P. 81

1. 提示：该题答案具有多样性，选择了不同的崇拜对象就有自己不同的崇拜理由。下面以“郑和”为例来说明：2005年是郑和下西洋600周年，郑和的故乡晋宁县举行系列活动（去郑和公园参观郑和雕像等方式）来纪念他，东南亚、南亚等地的国家也用各种不同的方法来纪念他。他的行动证实中国在600年前拥有当时世界上最先进和最大规模的船队，造船技术和航海技术在世界上遥遥领先，为人类“征服”海洋，促进西方近代文明的发展做出了巨大贡献等等。（只要言之有理，语句通顺均可）

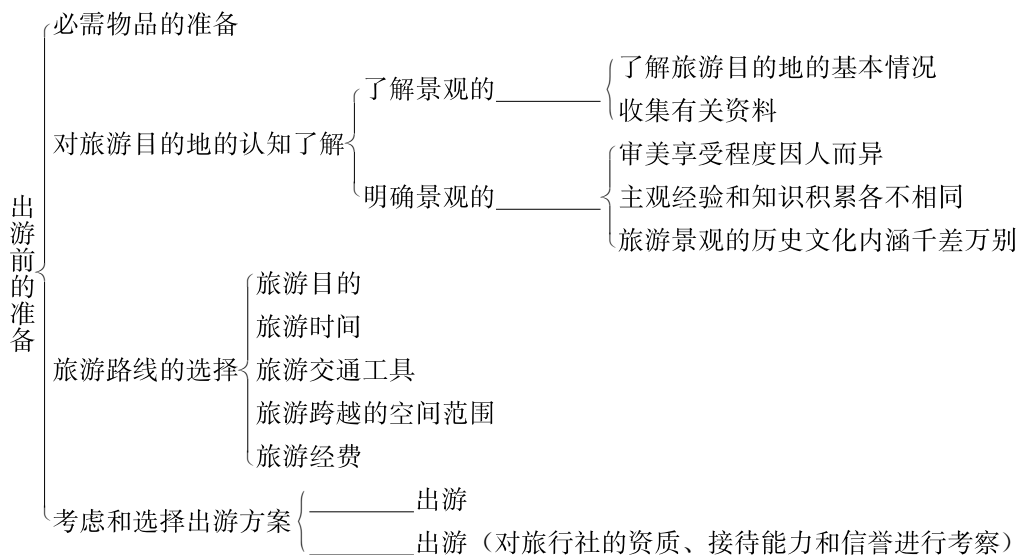
2. 提示：想法是多样的。大多数学生应该是想成为旅游者，个别性格内向的学生可能回答不想成为旅游者。另外，可能有部分的学生回答学习太紧张，要完成大量的功课，或利用假期补习功课，无闲暇时间旅游；或者部分学生回答自己没有较好的经济基础（经济实力不强），家里经济状况不好，故不能成为旅游者。不管怎样回答，只要言之有理，语句通顺均可。

关于在旅游过程中是否坚持写日记或札记，有的学生可能因为太烦琐、不方便而选择不做，只想用相机或摄像机留下当地的声像情景，其实对旅游景点的感知，用文字表达出自己当时的感受或在旅行结束后用文字来表述这一次旅行过程或感受，会提高我们的写作水平、鉴赏水平以及对旅游的整体感知能力。

第二节 出游前的准备



基础梳理



范例剖析

上海的陈教授及其夫人皆已年过花甲，月工资收入共计3 500元左右。至暑假，酷热难耐，陈教授幸有12天的闲暇，欲偕夫人找一旅游地，避暑疗养，以解长期工作之疲倦。因收入不丰，故他们盘算着这次旅游的花费，希望能省就省。

(1) 好友甲建议他们赴昆明，好友乙建议赴北戴河，好友丙建议赴庐山。你认为最合适的是_____。理由是_____

(2) 请本着节约、便利和休闲的原则设计这次旅游的往返线路。

湖南教育出版社

(3) 陈教授夫妇在作为“当代旅游者的基本条件”中, 何种条件处于最劣势地位?

【解析】游客在出游前有多种的准备。如, 陈教授夫妇要有一定的物质准备(经费等), 要有一条适合自己的旅游线路(须自行确定), 旅游目的地要符合陈教授夫妇的旅游目的, 旅行必需品的准备等。

【答案】(1) 庐山 从他们的年龄、旅游目的、经济条件综合考虑宜选择庐山。三地均是避暑的好地方, 但庐山离上海很近, 交通又方便, 可减少往返时间, 减少花费和长途旅行的劳累, 将有限的闲暇时间最大限度地用于避暑疗养上。此外, 从老年人疗养需要环境幽静、空气清新、运动量小等方面考虑, 也最好选择庐山; 而且到庐山疗养, 不存在登山之苦。

(2) 上海 $\xrightarrow{\text{飞机}}$ 庐山(暑期半价) $\xrightarrow[\text{(长江)}]{\text{顺水船}}$ 上海

(3) 年龄大, 运动量不适宜太大; 暑期气温过高, 对老年人出游影响很大。



能力检测

一、选择题(下列各小题的四个选项中, 只有一项是最符合题目要求的, 请将所选答案的字母代号填写在题后的括号内。)

1. 江苏徐州某一中学的高一学生想观赏钱塘江大潮涌景观, 宜选时机在 ()

- A. 农历正月十五
B. 农历八月十八
C. 农历八月二十八
D. 农历九月初九

2. 去我国最大的瀑布——黄果树瀑布观赏, 最需准备的旅游物品是 ()

- A. 望远镜
B. 矿泉水
C. 保健箱
D. 导游旗

3. “吴楚东南坼, 乾坤日夜浮”是描写下列哪一景观的 ()

- A. 文津阁
B. 吴哥窟
C. 大雁塔
D. 岳阳楼

昆明的一组初中学生想结伴去“三星堆”、“杜甫草堂”、“都江堰”进行一次名为“新发现”的旅游。据此回答4~7题。

4. “新发现”旅游的学生们如乘火车旅行必经的铁路线是 ()

- A. 宁西线
B. 宝成线
C. 成渝线
D. 成昆线

5. “新发现”旅游学生们会选的旅游方案是 ()

- A. 由全体同学的父亲或母亲做领队去旅游
- B. 自主出游
- C. 跟团出游
- D. 自助旅游

6. “新发现”旅行团的学生们在不增加多少旅游经费和旅行时间的前提下还可增加的旅游景点是 ()

- A. 青城山
- B. 贡嘎山
- C. 峨眉山
- D. 九寨沟

7. “三星堆”这种旅游资源属于 ()

- A. 自然景观
- B. 宗教化景观
- C. 历史文化景观
- D. 风土民情

“种豆南山下，草盛豆苗稀。晨兴理荒秽，带月荷锄归。”据此回答 8~9 题。

8. 这首诗的作者是 ()

- A. 孙髯
- B. 李商隐
- C. 陶渊明
- D. 李煜

9. 诗中的景观文化定位属于 ()

- A. 世界遗产
- B. 自然遗产
- C. 有历史文化内涵的旅游景观
- D. 人类口头和非物质文化遗产代表作品

10. 江苏南通某小学一个班的 45 名学生准备在暑假期间去距学校 12 公里外的“中国八小佛教名山”——狼山旅游（一日游）。请为这班学生出谋划策，选择合理的做法 ()

- ①用小轿车接送数趟
- ②用 48 座的旅游大巴车
- ③带足需换洗的衣服
- ④了解有关佛教文化的知识、资料
- ⑤狼山是江海大平原独特地质地貌景观，可适当了解一些地质知识
- ⑥联系一家合格的旅行社，办理好“旅游保险”，请一名好的导游
- ⑦收听收看旅游这一天的当地天气预报，选择带雨伞还是遮阳帽等
- ⑧准备好矿泉水等必需食品和必需药物
- ⑨准备足旅游经费
- ⑩邀请班主任或其他老师担任领队
- ⑪自主出游
- ⑫跟团出游

- A. ②③④⑤⑨⑪
- B. ②④⑤⑥⑦⑧⑨⑩⑫
- C. ②③④⑤⑥⑦⑧
- D. ①③⑥⑦⑧⑨⑩⑪

“衔远山，吞长江，浩浩汤汤，横无际涯。”据此回答 11~14 题。

11. 下列关于文中描述的旅游景观组合正确的一组是 ()

- A. 庐山、鄱阳湖
- B. 黄山、太湖
- C. 岳阳楼、洞庭湖
- D. 玉女峰、明潭

12. 北京的某游客想游览文中的旅游景点，考虑到旅游既要快捷又要价廉，可选择（ ）

- A. 乘火车——京九线
B. 乘火车——京广线
C. 乘汽车——107国道
D. 乘飞机——北京—长沙

13. 北京的这位游客如果是自主出游，且仅游览文中的景点，游期为（ ）

- A. 1天
B. 2~4天
C. 5~7天
D. 10~15天

14. 北京的这位游客如果还想游览“南岳衡山”，下列有关说法正确的是（ ）

- ①旅游日程将增加
②旅游经费将有所增加
③可以欣赏到花岗岩断块山
④乘小船荡于湘江，可以更好地观赏衡山
⑤衡山是我国的佛教和道教圣地
⑥奇松、怪石、云海、温泉为衡山四绝
⑦继续沿湘黔线南下

- A. ①②③④⑤
B. ①②③⑤⑥
C. ①②③⑥⑦
D. ①②④⑥⑦

二、综合题

15. 读“我国‘古都’分布示意图”，完成下列问题。



(1) 这六大古都分别是：A _____； B _____； C _____； D _____； E _____； F _____。

(2) 六大古都位置变化的总体趋势是_____（方向）。

(3) 如果某游客想乘火车游览这六大古都，不走重复的路线，从C城开始，可以经过哪些路线遍游这六大古都？

(4) 从C城到B、A城去旅游，应乘_____（单次或双次）列车，从D到E、F应乘_____（单次或双次）列车。

(5) 该游客出行前，除了清楚地知道自己的出行线路外，还须考虑哪些条件？

(6) 我国另两个“古都”是_____、_____，与上述六大古都并称为“中国八大古都”。

(7) 该游客到了 A 城。可供旅游的并已列入《世界遗产名录》的主要景点有_____。

到了 E 城，可供旅游的并已列入《世界遗产名录》的主要景点有_____；

到了 F 城，可供旅游的并已列入《世界遗产名录》的主要景点有_____。

(8) 假设这一游客是一名中学生，选择这样的旅游路线可行吗？

(9) 2005 年 4 月 26 日—5 月 3 日，国民党主席连战访问大陆，“和平之旅”——南京、北京、西安、上海；2005 年 5 月 5 日—5 月 13 日，亲民党主席宋楚瑜访问大陆，“寻根之旅”——西安、南京、上海、长沙、北京；2005 年 7 月 6 日—7 月 13 日，新党主席郁慕明访问大陆，“民族之旅”——广州、南京、大连、北京。这三位主席，都共同旅行了大陆的_____、_____两城市；在_____（城市）他们又共同拜谒了_____，它是伟大的革命先行者_____的陵墓，_____先生政治学说的核心内容是“三民主义”和“五权宪法”，其详细内容是_____，

_____；“天下为公”和“博爱”也正是其一生的极好概括和写照。

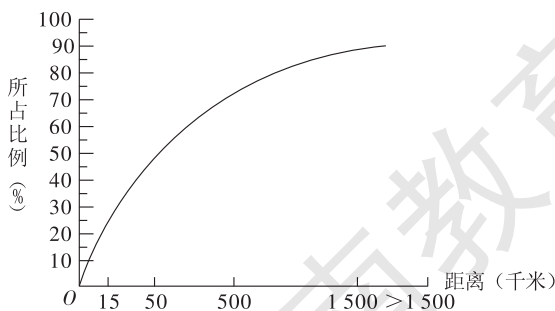


探究拓展

根据下表和图回答。

北京市国内旅游者地区分布

地区	河北	辽宁	山东	江苏	湖北	河南	黑龙江	四川
所占比例 (%)	12.35	10.30	6.91	5.45	5.40	5.25	5.02	5.02
地区	吉林	山西	湖南	上海	蒙古	陕西	广东	
所占比例 (%)	4.82	4.80	3.84	3.52	3.40	3.02	3.00	



我国城市居民出游空间分布示意图 (2001 年)

(1) 河北、辽宁、山东成为去北京旅游人数前三位的省份，这说明 ()

- A. 这三个省距离北京较近，旅游费用相对较少
- B. 这三个省比其他省份居民收入水平高
- C. 居民中老年人多，闲暇时间多
- D. 北京有众多的风景名胜，文物古迹，吸引力大

(2) 据图在 2001 年高考结束后的暑假，大多数的北京高考考生可能选择的旅游地是 ()

- A. 西双版纳、天涯海角
- B. 肯尼亚山国家公园、狮身人面像
- C. 比利牛斯—珀杜山、阿波罗神庙
- D. 承德避暑山庄、北戴河海滨

(3) 随着经济的发展和人民生活水平的提高，交通运输业的飞速发展，关于我国城市居民出游空间分布的说法正确的有 ()

- A. 旅行出游的空间越来越大
- B. 中长途旅游人数将不断增加
- C. 旅游目的地将越来越远
- D. 太空旅游也将变为可能

(4) 请根据自己的实际，完成你在最近的一些年旅游的情况。(表格可增减，因人而异)

时间	目的地	行程(旅游距离)	主要景点	体会或经验教训

(5) 假若你是海南三亚市的一个中学生，春节去北京旅游，应准备哪些生活必需品？

(6) 去天安门广场看“升国旗”是北京旅游独特的人文景观，请问 3 月 21 日看“升国旗”的时间约为北京时间_____，原因是_____



高考命题趋势分析

材料一：2005 年 7 月，澳门古街道被列入《世界遗产名录》。

材料二：当前我国正在大力发展“红色旅游”，重点“红色旅游区”有：

- ①上海为中心的“沪浙红色旅游区”；
- ②韶山、井冈山、瑞金为中心的“湘赣闽红色旅游区”；
- ③百色为中心的“左右江红色旅游区”；

- ④遵义为中心的“黔北黔西红色旅游区”；
- ⑤滇北、川西为中心的“雪山草地红色旅游区”；
- ⑥延安为中心的“陕甘宁红色旅游区”；
- ⑦松花江、鸭绿江流域和长白山为重点的“东北红色旅游区”；
- ⑧皖南、苏北、鲁西南为主的“鲁苏皖红色旅游区”；
- ⑨鄂豫皖交界地域为中心的“大别山红色旅游区”；
- ⑩山西、河北为主的“太行红色旅游区”；
- ⑪渝中、川东北为重点的“川陕渝红色旅游区”；
- ⑫北京、天津为中心的“京津冀红色旅游区”。

(1) 阅读上述材料，在“中国轮廓示意图”中填注 12 个红色旅游区并注上相应代码；并标注出澳门，代码为 31。



(2) 请查阅资料，说说“澳门古街道”是我国第_____项被列入《世界遗产名录》的景点，它成为“世界遗产”的主要理由是什么？

(3) 若按“黄山—泰山旅游线”旅游，可结合的“红色旅游区”有哪些？

(4) 若有青岛的游客想按“黄山—泰山旅游线”旅游，请为他设置一条经济实惠、方便快捷的具体行程图。

【解析】 本题主要考查学生们对各类旅游资源的分布、组合状况及与重要交通铁路线的组合。这类知识对学生的识记能力、读图能力要求较高，易出现“偏题”、“死角题”、同时还能融入其他地理知识和其他学科的知识，难度往往可能较大。

【答案】 (1) 略

(2) 31 略(可参考2005年7月各大新闻媒体提供的资料)

(3) 鲁苏皖红色旅游区、大别山红色旅游区

(4) 青岛 $\xrightarrow{\text{胶济线}}$ (济南) $\xrightarrow{\text{京沪线}}$ 泰安 $\xrightarrow{\text{京沪线}}$ (南京) $\xrightarrow{\text{宁芜线}}$ (芜湖) $\xrightarrow{\text{皖赣线}}$ 黄山



教材活动参考答案或提示

P. 84

旅游线路的选择是多样的。如，从北京到包括四川广汉三星堆在内的旅游目的地去旅游，因其目的地不同而线路不同；因选择的交通工具或运输方式不同而旅游线路不同；因旅游经费的多少不同而不同等。通常旅游线路的选择首要考虑经费、日程长度和安全便捷。教材中的三条路线均可，只要学生说得有道理，如作为四川省内的旅游者，则主要看旅游者自己喜好的景点。4条线路中，③成都平原古蜀文化精品旅游线，景点间距最小，组合程度高；①四川自然—人文精品综合旅游线最长。同时还需考虑旅游者所在地与四条旅游路线的空间配置状况，及学生的闲暇时间长短、经费状况等。如作为江苏省南京市的旅游者，去四川（包括三星堆）旅游，旅游路线可这样安排（仅供参考）：

①南京 $\xrightarrow{\text{飞机}}$ 成都（包括三星堆） ②南京 $\xrightarrow[\text{宁西线}]{\text{火车}}$ 安康→达州→成都（包括三星堆）

③南京 $\xrightarrow[\text{宁西线}]{\text{火车}}$ 汉中→成都（包括三星堆）

P. 85

设计旅游活动方案（为南京及周边地区有7天假期的游客设计的“5日游”，仅供参考）

一、旅游目的地：五台山、平遥古城、乔家大院（太原）

二、出发地：南京

三、交通：

南京 $\xrightarrow{\text{飞机}}$ 太原

太原 $\xrightarrow{\text{火车}}$ 南京

旅游目的地的交通工具：空调旅游车

四、酒店或宾馆：二星或同级酒店双标间（单男单女请补房差）

五、门票：行程内景点第一道大门票

六、导游服务：当地优秀导游

七、结算价：1520元/人

(以上报价不含餐费,以下行程景点、住宿可以互换,但不减少。因人力不可抗拒因素造成损失,旅行社只负责退还门票差额,不承担由此造成的责任和损失。该费用指2005年7、8月市面价。)

八、具体行程:

D1 南京飞太原,接机入住酒店。

D2 早餐后赴五台山(95),午餐后游览五台山最大黄庙——菩萨顶,中国最早的佛教寺院之一的显通寺,五台山标志(大白塔)——塔院寺。住五台山。

D3 早餐后朝拜五台山许愿最灵验的寺院——万佛阁(五爷庙),素有五台山“小朝台”之称的寺院——黛螺顶,午餐后乘车返太原,参观山西醋文化园区。住太原。

D4 早餐后乘车赴平遥古城(120),游览中国的华尔街——明清一条街,淘古玩,观赏古城内的街楼牌坊,登雄伟壮观的古城墙,观县衙县太爷升堂,参观中国银行鼻祖——日升昌票号;午餐后游览电影《大红灯笼高高挂》的拍摄地——乔家大院(40),乘车返太原,晚乘火车返南京。住火车上。

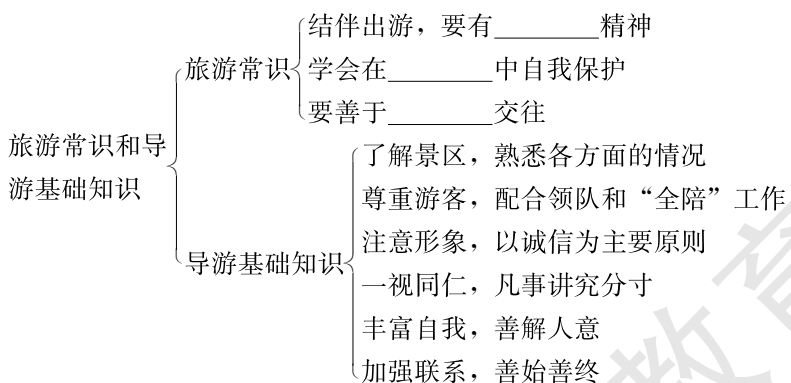
D5 中午抵南京,结束愉快的旅程。

九、备注:团队出行,一团一议,多条行程可自主选择。

第三节 旅游常识和导游基础知识



基础梳理





范例剖析

阅读下列材料，回答问题。

材料一：一个60人的旅游团队，在当日游完北京最后一个景点天安门广场之后，次日准备飞往桂林。也许是天安门的雄姿吸引了游客，晚上清点人数时发现有一位日本游客丢失，这可急坏了团队全陪。全陪让团队在长城饭店住下之后，迅速通知了饭店值班经理及旅行社经理，并与国际饭店团队电话联络，以期获得游客求助的消息，及时与其联系。此时游客发现自己脱离队伍也急坏了，幸好找到一家贵宾楼饭店，饭店主管经理依据经验与几家经常接待日本团队的酒店联系，几经周折，终于有了音讯。该团队在得知游客消息后，迅速前去迎接，并向游客深深地道歉，同时向积极提供帮助的人们致以谢意。

材料二：陕西“青旅”每年暑假都要搞一次青少年夏令营，参加者均为在校中小学生。2002年暑假期间，陕西“青旅”接待了一个成都团，共86人，组织西安—延安六日游。按照行程安排，在延安停留两天，主要活动包括听老红军作报告，参观王家坪、杨家岭等革命纪念地。第一天早上参观延安革命纪念馆，并在此举行开营仪式，为时三个半小时。回住地后，清查人数，发现少了一个小男生，老师及陪同全慌了，大家分头去找。结果当地一位好心的老太太把孩子收留了近两小时，最后被地陪找到，小孩并未有人身损伤或不正常现象，但回住地后却不吭声，此后小孩一直心理状态不佳。在结账时，成都“青旅”就此事提出赔偿，理由是对小孩造成了负面影响及心理负担，因为确属延安当地导游的失职，陕西“青旅”赔偿人民币258元，即免去了小男孩在延安的一切费用。

(1) 据材料一、二说出团队旅游往往易于出现的一大事故是_____，因此，团队出游就要有_____的团队精神。

(2) 材料一中，由于导游人员处理合理，给游客留下了美好的印象。请你分析这里的全陪导游员成功的秘诀在于_____。

(3) 材料二中“走失的游客”——小男生，与材料一中“走失的日本游客”有差别，这种差别主要在于_____。

(4) 材料二中导游和领队老师在“小男生”走失后出现心理异常时需要做好_____等工作。

【解析】在异地他乡，导游是全团游客的主心骨。游客在跟团旅游的过程中偶然走失的情况并不少见。导游应该弄清情况，迅速寻找，向旅行社等相关旅游部门通报，积极做好善后工作。这样的内容在以往的教材中从未出现过，但对考察学生的判断是非的能力、逻辑思维能力、社会活动能力等是大有好处的。

【答案】(1) 走失游客 甘苦与共，互谅互助，相互关照与合作

(2) 及时清点人数，迅速向旅行社等有关部门报告和求援，措施得力，组织周全，善解人意，把握游客心理，整个过程善始善终

(3) 两人的生活阅历、年龄差异

(4) 对“小男孩”的关心、宽慰和心理疏导



能力检测

一、选择题（下列各小题的四个选项中，只有一项是最符合题目要求的，请将所选答案的字母代号填写在题后的括号内。）

1. 下列关于旅游常识的说法正确的是 ()

- A. 旅游是一种纯休闲活动
- B. 一般情况下，提倡个人“单独旅游”
- C. 外出旅游能锻炼学生的独立生活和处理问题的能力
- D. 有些人士去境外（如拉斯维加斯）赌博，是一种健康的旅游方式

2. 作为一名参与“团队旅游”的中学生，下列做法不正确的是 ()

- A. 要必备通信工具、小药箱、指南针、旅游地图等有用工具
- B. 在与境外或国外的游人交往时要保持不卑不亢的态度
- C. 要有同甘共苦、互谅互助的团队精神
- D. 遇到难解决的问题时，要独立处理，不向有关部门反映和求助

3. “团队旅游”中的每一位游客，必须做到记住下列哪些情况 ()

- ①“团队”的旅游标识（如导游旗、旅游帽、胸卡等）
- ②重要的团队成员的外貌
- ③出行旅游车的“车牌号”及车的外部特征（如颜色、款式、车的品牌等）
- ④领队的电话号码，尤其是适用于野外的移动通信工具的号码
- ⑤导游员的可移动通信工具的号码
- ⑥住宿的宾馆、饭店的电话号码
- ⑦旅行社的电话号码

A. ①②④⑤⑥

B. ①②③④⑤⑥⑦

C. ②④⑤⑥⑦

D. ①③④⑤⑥⑦

4. 关于旅游地图的说法正确的一组是 ()

- ①没有指向标的旅游地图，通常是上北下南，左西右东
- ②旅游地图，特别是景点旅游地图，通常是大比例尺地图
- ③有些景点导游地图，通常主要表述景点的相对方位，而实地距离因地势的高低差异有一定的误差

④通常要在旅游地图上标识“住宿的饭店、宾馆”及其他重要参照物

⑤要能在旅游地图上读出通往“住宿地、用餐地的饭店或宾馆”的公交车号

⑥在自由活动或自助旅游时，会用“旅游地图”非常重要

A. ①②③④⑤⑥

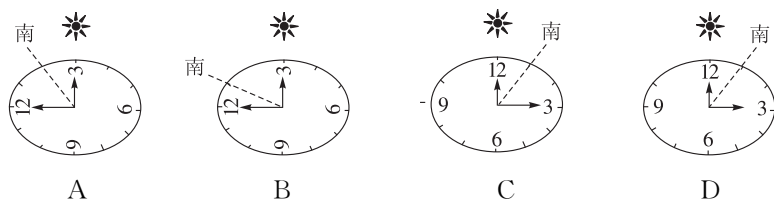
B. ①③④⑤

C. ①③④⑥

D. ②③④⑤⑥

5. 从旅游地图中读得某旅游地位于东经 105° ，北纬 29° 附近，现在是北京时间 15:00，某游客想借助太阳位置用手表确定正南方向（表面朝上），图中所示的四种方法中正确的是

()



6. 对旅游地的地形、区位、生态、环境、历史、文化、风俗民情等必须娴熟于心的是 ()

- A. 地陪 B. 全陪 C. 领队 D. 游客

7. 导游人员应具备的能力有 ()

- ①执行政策与宣传政策的能力
- ②组织协调能力
- ③善于交际的能力
- ④独立分析、解决问题的能力
- ⑤熟练地讲解和应答旅游地景区基本情况的能力

- A. ①②③④ B. ②③④⑤
C. ①②③④⑤ D. ①③④⑤

8. 有关导游员在仪容、仪表上的做法正确的是 ()

- ①导游员的着装要符合职业身份，不能引起游客的反感，要方便导游服务工作
- ②衣着整洁、大方、自然，佩戴首饰要适度，不浓妆艳抹
- ③导游员上团时，必须佩戴胸卡，随身携带导游证
- ④面部常带笑容，语言流畅幽默，尊重游客
- ⑤态度要热情，服务要周到，语言、行为要得体适度

- A. ①②③④ B. ①②④⑤
C. ②③④⑤ D. ①②③④⑤

9. 旅客在下车去景点游玩前，要牢记导游提醒的 ()

- ①天气情况，带好适合天气特征的雨具或其他工具
- ②此景点的大致旅游时间，避免在这一景点上耽误时间
- ③此景点旅游结束后的集合地点和旅游车的停放方位
- ④跟紧地陪，认真听讲，用心鉴赏，不擅自离队
- ⑤注意行程中的财物安全和人身安全
- ⑥通常在景区要多购物

- A. ①②③④⑤ B. ①③④⑤⑥
C. ②③④⑤⑥ D. ①②③⑤⑥

10. 雨季去我国的南方山区（如黄山、武夷山等），旅游必需的野外自我保护包括 ()

- ①不随意从没有道路的地方登山
- ②在有活动石头的山路上行进要保持适当的前后距离
- ③在雷雨天气时要避开孤立的山包、大树等易遭雷击的物体

④在山地和山前遭遇暴雨天气，要躲进地势低的谷地当中

⑤不品尝不认识的野山果

⑥不随意触摸不知属性的植物

⑦不随意喝疫病流行区的自然水

A. ①②③④⑤⑥⑦

B. ①②③⑤⑥⑦

C. ①②④⑤⑥⑦

D. ①②③⑤⑦

11. 当一名中学生旅游者与团队走散后，下列需做的事是 ()

①保持镇定，冷静思考，不乱窜瞎跑

②用通信工具直接与团队领队、导游联系

③没有通信工具可向周围的游客借用，或去公用电话亭打电话

④在周围无其他游客和其他公用设施的地方，应寻找新的旅游人群和有公共设施的地区

⑤运用旅游地图、确定自己的方位，找最近的一个景点

⑥不轻信不熟悉的人，更不能轻信没有任何旅行标志和景区管理标志的人

⑦向景区管理部门求援

⑧清晰地记忆和准确地说出自己所在的地方的名称和标志物

A. ①②③④⑤⑥⑦⑧

B. ①②③④⑥⑦⑧

C. ①②③⑤⑦⑧

D. ①③④⑤⑥⑦

12. 导游在带团中不应参与游客间的看相、算命、测字等迷信活动，如有游客参与，应 ()

A. 一般不予干涉

B. 要加以劝阻

C. 要澄清自己的观点

D. 要提出批评

13. 旅游者在一家大型定点商场购买了一串价格不菲的珍珠项链，后发现有问题，要求导游人员帮助退换，导游人员应 ()

A. 可以不管，因为购物是个人行为

B. 应积极协助但不必陪同前往

C. 应积极协助，必要时陪同前往

D. 应负责退换

14. 下列关于导游的做法正确的是 ()

A. 客房内不干净，有蟑螂、臭虫、老鼠等，旅游者要求换房，应满足其要求

B. 万一发生火灾，导游要镇定地判断火情；紧急时，要让大家搭乘电梯快速逃生

C. 导游是“杂家”，歌曲、谜语、脑筋急转弯、小游戏都可涉猎，广泛的知识可用于消除长时间的旅行疲劳

D. 一旦发生了交通事故，导游应立即组织现场人员迅速抢救受伤游客，特别是抢救重要游客

二、综合题

15. 请据材料分析，这一导游存在的问题与由此而带来的危险隐患有哪些？

1998年6月，广东某公司十几名职员利用假期到湖南衡山旅游。经过与广东一家旅行社联系，旅行社派给了他们一名导游，湖南人，据说很熟悉衡山。于是这些游客在导游的带领下去了衡山。看了南岳大庙、麻姑仙境。导游劝说这些游客夜登祝融峰，于是游客听从了导游的

建议，可是导游却带他们走上了岔路，晚上山上大雾夹杂着雨水，把游客淋得够呛。游客提议下山，不想导游又是一通乱走，走岔了路，翻到了山的那一边，一直走下山到一个村子，村民告诉他们那里根本没有其他的路走出去，只有往回走再上祝融峰，然后从山的另一边下去。于是游客不得不冒着大雨翻过南岳最高峰再下山，几位游客因受雨淋感冒发烧，其他游客也被折腾得不能动弹。



探究拓展

阅读下列材料，回答问题。

某旅行社组织一旅游团在 H 城市购物大厦购物时，其中一游客王某被商场售货人员叫住，称其偷拿了该柜台的金戒指。王某矢口否认，售货人员便强行搜身，而该旅游团的导游为防止引起事端，也要求王某接受检查。搜查完毕，一无所获，商场保安人员强行扣留游客达两小时以上，导游也未就此事据理力争，而一味埋怨王某惹是生非。后经查实，戒指实际上掉落在柜台下的角落里。事后王某就此事件要求依法处理，经过多方协商，导游被旅行社处以公开向游客王某道歉、公开检查，并扣罚当月奖金。当地法院裁决商场向游客公开道歉，赔偿王某精神损失费 2000 元，并根据《消费者权益保护法》对商场罚款 1 万元。

- (1) 商场对游客王某的做法，侵犯了_____，伤害了游客的_____。
- (2) 请对材料中的“导游”的过失做适当的评价。



高考命题趋势分析

阅读下列三则材料，回答问题。

材料一：据世界旅游理事会预测，1985 年远程旅游人数占全球国际旅游人数的 14.9%。预计到 2010 年，这一比重将增加到 25%。其中德国和英国是欧洲远程旅游最强的国家。该理事会还预测，中国远程游客 1995 年为 125 万人次，到 2010 年将会增长 7 倍，达 1 000 万人次。

材料二：1984—1997 年，中国居民国内旅游人次年均增长 9.4%，旅游支出年均增长 31.3%，中国公民出境旅游人次 1987—1997 年年均增长率为 32.1%。1997 年已达 523.4 万人

次，使中国成为亚太地区重要的客源市场。

材料三：据中国国家旅游局的抽样调查：在国内游客中，1993年抽样调查的人数为9379人，其中大专以上学历程度的游客占25.79%；1996年抽样调查的8743人中，大专以上学历的游客已上升到31.9%。在海外来华游客中，虽然抽样调查时未对游客的文化程度进行分类，但是可以从政府官员、科技人员和医生、律师这些文化层次较高的游客所占比重间接看出，1994年抽样调查的人数为31459人，这三种职业的海外游客占抽样总人数的17.8%，到1996年，抽样人数为40564人，这三类职业的海外游客所占比重上升到24.9%。

(1) 从材料一、二中可以看出，全球旅游业发展的趋势是_____。其形成原因是_____。

(2) 从材料三中可以看出，游客的文化层次在_____，他（她）们对知识需求的广度和深度也在_____，这就要求导游人员要_____。

(3) 从材料一、二、三中可以推断出，全球旅游业在_____，旅游市场在_____，当然从业人员也会不断_____。如果你将来也想成为一名优秀的旅游业的从业人员（如一名优秀的导游），将为之如何去努力？

【解析】这一部分知识是教材中未出现过的知识，却是生活中最广泛接触的知识之一。教师在课堂上必须讲好，也是高考极有可能考到的地理知识，实际上，说这些是地理知识是不够确切的，它还更多地涉及历史、宗教、民俗、法律、政策、法规、心理学、审美学、社会学、建筑学等众多学科的知识。因此在这一部分如果出现高考题，将极可能是综合性相当强、实践能力相当高、思维广度和深度都比较大的题目。而这些知识的获得更广泛的渠道并非全部来自课堂，社会更重要些。

【答案】(1) 无论国内旅游还是国际旅游，人数均在不断增加 全球经济的发展、人民生活水平的提高，以及世界局势的相对稳定

(2) 不断提高 不断加强 不断充实和更新自己的知识

(3) 快速发展 不断扩大 增多

①不断地学习和丰富自己的旅游知识（如史地文化、政策法规、心理学、审美学、社会学等知识）。

②不断提高自己的科学、文化、情操和道德素养。

③不断增强自己的独立工作能力和创新精神、竞赛意识和进取精神以及社会交往能力。

④不断提高自己的语言表达能力和导游服务技能水平。

⑤不断培养“诚信”思想品质，增强自己的体质和体能。

（只要言之有理，语句通顺均可）



教材活动参考答案或提示

P. 88

(1) 首先向学生解释“一日游”的含义。“一日游游客”指那些不在访问地或访问国集体或私人的住宿设施中过夜的游客；我国定义的“国内一日游游客”与此相同，但明确规定：离开常住地到其他地区旅行的距离在10千米以上，出游的时间在6小时以上、24小时以内。

(2) 确定旅游线路（根据学生的实际、选择学生最熟悉的旅游地），假如是南通市的学生，可以选择“狼山一日游”，具体方案如下：

① 日程安排：

A. 简要介绍狼山的位置，地质、地貌的成因及狼山的名称由来和佛教八小名山的简介、紫琅路的由来。

B. 游狼山：护潮台—金刚门—轮藏殿、大悲殿—法乳堂—幻公塔—三仙祠、平倭碑—沙淦碑亭—葵竹山房—白雅雨墓、振衣亭—大观台—上山门—萃景楼—圆通宝殿—支云塔—大圣殿—望城台—金沧江、骆宾王墓—北麓园。

（线路方位：从西南门入—登高—下山—东南门—狼山隧道—北门；可有的特色服务：狼山是我国的佛教八小名山，可提醒游客买香、敬香；午餐：狼山广教寺有“素斋”，午餐可建议在狼山上完成。）

C. 游马鞍山、黄泥山：龙爪岩—狮踞亭—鉴真东渡纪念塔—梅林春晓—望虞楼—沈寿墓。

（线路方位：从西向东）

D. 游剑山、军山：卧佛—文殊院—特莱克墓—刘郎路—君山气象台—玉佛寺。

（线路方位：从东向西）

F. 啬园：张謇纪念馆—百花园—鱼乐廊—鹤雕—张謇墓—张孝若墓。

② 汽车运行路线：南通市区—跃龙路—紫琅路—狼山西南门—北麓园大门—龙爪岩—沿江公路—军山—剑山—啬园—工农路—南通市区。

③ 地方特色：狼山广教寺及素斋、梅林春晓江鲜、沈寿与南通刺绣、军山气象台——中国最早的民建气象台、张謇——民族实业家、特莱克与南通水利等。

④ 特殊情况及对策：

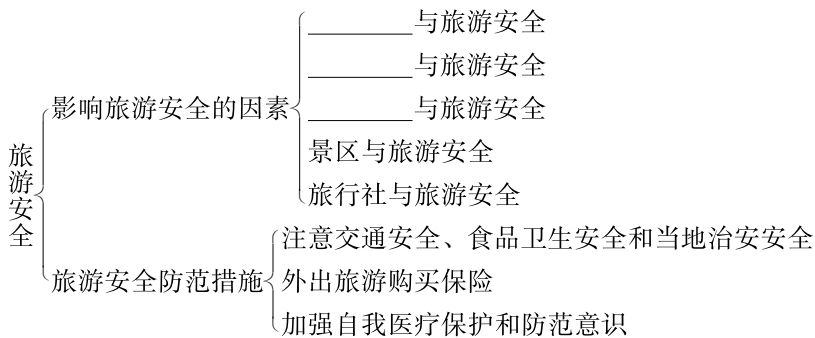
A. 景点多，介绍难度大——详细准备导游材料。

B. 交通安全和饮食安全——山陡、路滑、紧靠长江，江鲜、海鲜多（多督促忌口），缆车乘坐安全。

C. 卖香人对游客的“倾销”或“拉客”——对游客提醒。

第四节 旅游安全

基础梳理



范例剖析

阅读下列材料，回答问题。

材料一：某旅行社在组织王某等 10 人去华山游览过程中，王某认为旅行社避险就安，一些好景点没有看上，便主动提出中止与旅行社合作，遂自行登山游览。因不慎跌入山谷，摔伤后找旅行社帮助解决意外保险索赔（游览前，旅行社已给旅游者保险），但旅行社声称已不负有责任。

材料二：一旅游团参加某旅行社组织的旅游，他们坐着汽车公司的大客车行驶在崎岖不平的山路上，当驶至一急转弯时，司机并未放慢速度，致使转弯时，车碰在崖壁上，将靠在窗口的一位游客头部撞伤，因诊治无效，致使右脸面部神经麻痹。据查，在山路行驶时，路况极差，车体抖动厉害，车上导游人员并未有任何警示言语和采取必要的措施（如让司机减慢行车速度），事后该游客提出索赔事宜，向旅行社索赔，旅行社只付部分保险金，认为该伤害主要由司机引起，旅行社不承担责任。该游客于是向质监所投诉要求用质量保证金进行赔偿。同时，该游客又向司机所属的汽车公司进行索赔。

(1) 上述两则材料中提及的是 ()

- A. 气象、气候与旅游安全
- B. 水文与旅游安全
- C. 地形与旅游安全
- D. 交通与旅游安全

(2) 材料一中提及的华山位于_____省境内，是独特的_____岩地貌景观，属_____山脉的支脉，以奇险冠盖天下，素有_____之说。与华山具有相似成因的山脉有 ()

- A. 九华山
- B. 黄山
- C. 武陵源天子山
- D. 武夷山

(3) 材料一中王某等 10 人只有购买何种保险，王某才可能有赔偿 ()

- A. 旅游救助保障险
- B. 人身意外伤害保障险
- C. 财物损失保障险
- D. 健康保障险

(4) 材料一中提及“旅行社声称已不负有责任”，你认为旅行社的这种做法对吗？说明理由。

(5) 材料二中，导游工作存在哪些失误？

(6) 材料二中，受伤游客向司机单位、导游及单位提出索赔，你认为合理吗？

【解析】旅游安全这一节知识，是学生终生受用的知识，教材着重从地理学的角度，阐述了一些地理现象对游客安全的影响。人是自然的产物，人的生存和发展受到许多自然因素、社会因素的影响和制约；人的生命对于全球的科技发展和地球的环境恶化来说，越来越显得脆弱。珍爱生命、珍视人类现在唯一的生存家园——地球，对于我们人类的延续和可持续发展有着重要的现实意义和深远的历史意义。

【答案】(1) D

(2) 陕西 花岗 秦岭 “千古华山一条路” A

(3) B

(4) 不对，因为王某出现伤害时间还在保险期间内，王某并未终止旅行社规定的旅游行程，因此旅行社应予赔偿。

(5) ①未提醒司机谨慎驾车，尤其在窄路、山区行车或遇到雨、雾、雪等恶劣天气条件时，司机要随时注意前方路况，谨慎驾驶。

②未提醒游客，警示警告客人注意安全。

(6) 合理。



能力检测

一、选择题（下列各小题的四个选项中，只有一项是最符合题目要求的，请将所选答案的字母代号填写在题后的括号内。）

1. 2004年底，北印度洋海区因地震发生海啸，导致巴厘岛等地区大批游客和当地居民死亡。上述材料说明的是 ()

A. 气候与旅游安全

B. 气象与旅游安全

C. 景区与旅游安全

D. 交通与旅游安全

2. 江苏如东有一项重要的旅游项目——“海上迪斯科”（即在海滩上踩文蛤），这样的一种游客参与性强又健身的旅游活动，要特别注意的安全隐患是 ()

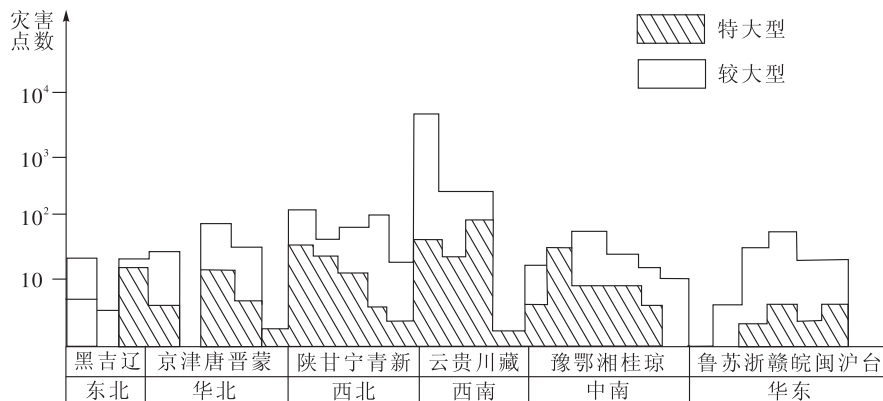
A. 海啸

B. 潮汐

C. 洪水

D. 泥石流

读“我国特大、较大型山崩、滑坡和泥石流分布直方示意图”，回答3~4题。



我国特大、较大型山崩、滑坡和泥石流分布直方示意图

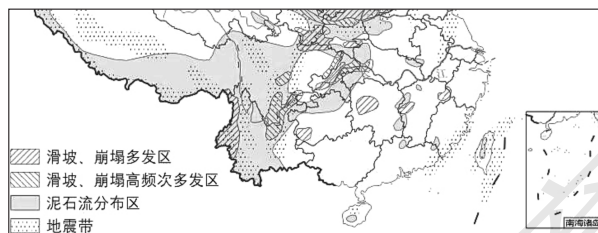
3. 去我国六大区的景区旅游，山崩、滑坡和泥石流对游客带来安全威胁最严重的地区是（ ）
- A. 东北地区 B. 华东地区
C. 西南地区 D. 华北地区

4. 看下列表格资料，结合我国地形地貌特征，说出我国哪一地区是山洪暴发隐患最严重的地区（ ）

省、市、自治区	1953—1975年暴雨次数
黑吉辽	25~27次
晋	27次
豫	24次
湘鄂	27~28次
粤桂	51~64次

- A. 黑吉辽 B. 晋豫 C. 湘鄂 D. 粤桂

读“我国局部地区滑坡、地震、泥石流分布图”，回答5~6题。



我国局部地区火山、地震、泥石流分布图

5. 图中滑坡、地震、泥石流最严重的发生地区在（ ）
- A. 川、滇、黔交界的地带
B. 川、藏、渝交界的地区
C. 滇、桂、渝交界的地带
D. 陕、川、鄂交界的地区

6. 结合我国重要的旅游地（名山、世界遗产等）的分布，说出完全位于该地质灾害频繁区的一组是（ ）

- A. 九寨沟、青城山、丽江古城
B. 玉龙雪山、武夷山、峨眉山
C. 三江并流、梵净山、恒山
D. 武当山、黄龙、平遥古城

7. 阅读下列材料，回答以色列的旅游业遭到严重打击的原因是（ ）

材料一：2001年底，美、英、法、德、日等国纷纷召回驻以色列的外交官、游客等，并向本土居民发布了暂时禁止去以色列旅游、观光、洽谈等活动。

材料二：2002年3月底，以色列、巴勒斯坦爆发了自1999年以来最为严重的武装冲突。以军占领了拉马拉市阿拉法特的官邸，与此同时，多起自杀炸弹在以色列城市爆炸，人员伤亡惨重。

- A. 交通不安全
B. 社会秩序不稳，治安状况差
C. 地形状况差
D. 气候恶劣

8. 山东省30人组成的旅游团，去某大城市的“野生动物园”游玩，在观赏过程中，一只老虎突然冲向游客群，将一个14岁的男孩咬伤、抓伤，后经查实游客无任何责任。上述材料反映的旅游安全问题出在（ ）

- A. 旅行社派出的导游人员
B. 景点护栏、旅游通道检查、维护
C. 景点的消防
D. 交通运输

9. 肠炎、痢疾等传染病最易在下列哪一地区被传染（ ）

- A. 皖南古村落
B. 长白山
C. 博格达峰
D. 平遥古城

10. 有很多的游客晕车、晕船，为防止晕车、晕船带来的不适，在出发前常服一种药物，它是（ ）

- A. 黄连素片
B. 奎宁片
C. 晕可平
D. 硝酸甘油

11. 交通事故的报警电话是（ ）

- A. 120
B. 119
C. 110
D. 122

12. 在游览过程中，如遇有旅游者病重需要立即抢救，在抢救过程中，导游人员应要求患者亲友或（ ）在场，并详细记录患病前后的症状及治疗情况。

- A. 医院相关专科负责人
B. 旅行社领导
C. 部分游客
D. 领队

13. 在旅游饭店、住宿的宾馆、大型旅游购物商场等，万一发生火灾，导游要镇定地判断火情，情况紧急时要让大家（ ）

- A. 分散着从各个安全通道逃生
B. 搭乘电梯快速逃生
C. 从楼上直接跳下逃生
D. 操起身边的消防器材，如灭火器等积极参加灭火

14. 下列属于导游欺骗旅游者消费的是（ ）

A. 导游甲引领旅游团成员到当地一定点商店购物，后发现该商店的商品价格较高，但甲事前并不知情

- B. 导游乙陪同游客购物时，建议游客购买一青瓷器，后经鉴定，该青瓷器物有所值
- C. 游客一直未给导游丙小费，丙心怀不满，在一次购物活动中，故意怂恿该游客高价购买一件假玉器
- D. 某游客欲购买一工艺品，但对该工艺品上标示的质量等级表示怀疑，导游丁也不掌握此方面的鉴定知识，但因急于回饭店，就劝游客购买，后发现该工艺品是次品

二、综合题

15. 某旅游团在某餐馆用完晚餐，按计划安排，晚上为自由活动时间。到晚上 10 点钟左右，有两位游客反映浑身怕冷，且上吐下泻。导游小施取出随身携带的感冒药、止泻药让两位游客服下，并安慰游客说没事，吃点药就会好的。岂料过了半小时后又有不少客人也出现此种症状。导游小施感觉事情不妙，怀疑有可能是在餐馆晚餐时引起食物中毒。请问：

- (1) 食物中毒症状是什么？
- (2) 如果是一般疾病，小施在处理中有哪些不妥之处？
- (3) 如果是食物中毒，小施应怎样处理？



探究拓展

日本某一旅行社组团，西安某旅行社接团，在游览西安后，由领队和某旅行社的一位全陪陪同前往敦煌，由敦煌某旅行社作为地接社。

地陪带领团队参观了有关景点后，有客人提出要去马场骑马，这项活动不包括在日程安排的内容中，经有关人员同意，在客人的要求下，地陪带领游客来到马场，然后地陪解释说：“骑马很危险，年纪大的或有病不宜骑马的客人最好不要骑。”当时日本的领队也在场，他亲耳听见地陪的解释。

事情就出在骑马上，一位年事偏高的客人不慎摔下，导致脑溢血，在他刚摔下来时，地陪、全陪、领队都积极联系医院，报告公安部门，向各自的旅行社汇报。最终客人还是抢救无效死亡。

死者的家属得知这一消息后，坚决要求有关旅行社做出赔偿。但地陪说：“我做了骑马危险的解释，劝老年人别骑。”全陪说：“行程自始至终，我没有介绍任何有关马场情况，这是客人自己要求去的，当时他们也得到了骑马危险的信息，但这位客人还是坚持骑了，这纯属自愿。”于是，地陪、全陪和领队各自写了一份报告说明情况。这起事故，最后按意外事故处理，日本那家旅行社按规定赔付意外保险金。

阅读上述材料回答。

- (1) 日本的旅游团在敦煌旅游期间，至少有_____名旅游服务人员，他们分别是_____、_____及其他景点、住宿、用餐点的服务人员。

(2) 这一材料提醒每一位游客在旅游过程中要_____。

(3) 从导游人员的角度看,从这一“案例”应得到的启示是_____。

(4) 对于全陪,应把客人的安危放在首位,他在旅行过程中应该_____。

(5) 材料中出现的旅游安全事故属_____ ()

A. 交通事故 B. 旅游事故 C. 景区事故 D. 导游事故

(6) 如果你将来有机会出行旅游,你将从哪些方面采取防范措施,保证旅游安全?



高考命题趋势分析

江苏某公司职员 A 先生,与南京的 B 旅行社一直有业务往来,他请该旅行社的汤女士安排他一家四口春节期间去海南旅游,汤告之 B 旅行社春节期间没有去海南的团队。根据 A 先生的意见,汤又联系了另外的 C 旅行社,说明了行程及报价情况,经 A 先生本人同意后。汤女士帮 A 先生一家订了往返机票,按 A 的要求,制订了接待计划,写明了由海南的 D 旅行社接待,参加 1997 年 2 月 3 日—2 月 9 日的海南环岛游,B 旅行社收取 4 人旅游费共计 15 880 元。但 D 旅行社接到此业务后,瞒着 B 旅行社和 A 一家人,将此业务转让给海南 E 旅行社。E 旅行社质量差,不按计划线路游览,伙食差。在万泉河畔餐馆用餐时,因粉条中混有碎骨头,致使 A 的妻子假牙咬断两颗。

A 一家人回江苏后,认为上当受骗,向 B 旅行社提出了索赔,同时也向江苏省消协投诉。

阅读上述材料回答下列问题。

(1) A 一家人这次未能旅游好的原因在哪里?

(2) 南京的 B 旅行社和海南的 D 旅行社哪一个存在严重的问题?为什么?

(3) 海南 E 旅行社在旅游服务过程中存在什么问题?

(4) 根据你的理解,说说影响旅游安全的主要因素有哪些,其中材料中出现的安全因素是什么。

【解析】旅游应该是现代社会中存在的一种普遍性行为，只不过是旅游行程或长或短而已；这也是学生比较乐于接受的社会实践活动之一，尤其是探险、猎奇、求知类的旅游活动。人们的旅游更多的是首先接触旅行社、导游，因此找一个资信程度高、服务质量好的旅行社和素质高的导游是旅游活动实现得好的关键。

【答案】(1) 未能选择到好的旅行社，特别是地接、地培的 D、E 两旅行社，信誉低、质量差，服务没有能得到良好的保障。因此旅行社资质和资格的认定是出游安全的重要保证。旅行社将旅游者转让给别的旅行社并从中牟利，转让次数越多，旅游者的权益危险性就越大。

(2) 海南的 D 旅行社。D 旅行社存在“卖团”行为；而且是卖给了一个资信程度差的 E 旅行社，这对 A 一家人的旅游带来潜在的不安全因素。

(3) ①不按计划旅游线路游览，损害了旅游者利益。②伙食差，甚至出现饮食事故。

(4) 地形、气象气候、交通、水文、景区、食品、旅行社等。

旅行社（关注旅行社的资质和服务质量）。



教材活动参考答案或提示

P. 91

提示：教材中出现了影响旅游安全的几个重要因素：地形、气候、水文、交通。另外的因素请学生根据自己的旅游经历来填写，只要写出的答案是合理的、不重叠的均可。下面提供部分答案供参考：

①气象（浓雾、雷雨、大风、冰雹、台风、龙卷风、风暴潮等）；

②景区（景点、饭店、宾馆的消防、安全、卫生；景点护栏、旅游通道、娱乐设施、索道的检查与维护；景区商业网点及个体摊位的市场秩序整治、公共突发事件的应对措施等）；

③旅行社（旅行社的资质和服务质量、导游员的资质与服务质量）；

④个人体能、体质（旅游者的年龄、身体状况等不同，旅游目的地的选择、旅游项目的选择就不一样，要因人制宜）；

⑤当地的社会治安（旅游的目的地治安和社会秩序混乱，最好不要去）；

⑥食品卫生（具有地方特色的旅游食品游客多喜欢消费，一定要区分真伪优劣）；

⑦旅游目的地的地方性疾病（要做好预防工作），传染性病区不要去旅游；

⑧财物（往往旅游者在旅游过程中要携带摄像机等贵重物品，注意保管和随身携带）；

⑨地质灾害（山崩、泥石流、滑坡、地震及引起的海啸等）。

参考答案

第一章 旅游和旅游资源

第一节 旅游概述

能力检测

一、选择题

1. A 2. C 3. C 4. B 5. D 6. A 7. B 8. C

探究拓展

(1) 人类社会经济和文化发展到一定阶段 人类超出生存需要的较高层次 (2) 与日常生活中的—般需求是同型的,但又处于较高的层次 (3) ①A 曲线说明:在人类生产力不发达的社会,人类的生活需要是生活中的最主要的需要 ②B 曲线说明:随着社会的发展,旅游需要进入人类的需要系统,在发达社会,旅游已经成为现代人的一种重要的生活方式

第二节 旅游资源

能力检测

一、选择题

1. D 2. C 3. C 4. C 5. A 6. D 7. C 8. D

二、综合题

9. (1) 雾凇属于气象气候景观,五大连池属于地貌景观,冰城冰雕艺术属于文化艺术景观。雾凇和五大连池属于自然景观,冰城冰雕艺术属人文景观。 (2) 冰城冰雕艺术在哈尔滨,五大连池在五大连池市,它们属于黑龙江省,简称黑。松花江雾凇在吉林市,属于吉林省,简称吉。 (3) 自然环境中早已存在的、具有很强吸引力的非凡性特点的事物或现象,能否成为人们欣赏的旅游资源,是随着社会生产力的发展,经济的快速增长,人民生活水平提高所决定的。我国自 20 世纪 70 年代末实行改革开放以来,国民经济稳步增长,人民生活水平不断提高,再加上公休闲暇时间增加,社会长治久安,于是要求高层娱乐、享受的旅游活动逐渐发展起来,那些供人们游山玩水的旅游资源被逐渐开发利用。

10. (1) D (2) 自然保护区 古都 历史名城 佛教名山

探究拓展

(1) 鲁 济南 青岛 黄 (2) 自然 地质地貌 东岳 历史文化 (3) 断块 B (4) 京沪 三孔(孔府、孔林、孔庙)

第三节 旅游资源的形成和分布

能力检测

一、选择题

1. B 2. A 3. A 4. D 5. A 6. B 7. A 8. C 9. B 10. D 11. B

二、综合题

12. (1) 有较高的经济收入 有较多的闲暇时间 文化素养较高, 旅游愿望相对强烈 (2) 经济填写序号①意大利; ②荷兰; ③瑞士 (3) 巴黎圣母院、凯旋门、埃菲尔铁塔、罗浮宫等 人文

13. (1) 京广 宝成 成渝 内昆 贵昆 (顺序必须正确) (2) 增加外汇收入、扩大就业机会、带动相关产业促进国民经济的发展、促进文化交流、满足人类需求 (3) 庐山游览价值大, 丰富且组合较好; 夏季是观赏庐山云多和避暑的最佳时期; 庐山靠近经济发达地区, 市场距离小; 水陆交通便利; 地区接待能力强; 旅游环境承载量大。

探究拓展

(1) 南岭 长江 珠江 岩浆活动频繁 (2) 喀斯特地貌 峨眉山 九寨沟 遵义 延安 (3) 保持革命传统, 发扬革命精神, 促进地方经济发展。

第二章 旅游景观的欣赏

第一节 旅游景观欣赏方法

能力检测

一、选择题

1. C 2. D 3. A 4. A 5. D 6. C 7. B 8. B 9. C 10. C 11. C 12. D 13. C 14. D

二、综合题

15. 海市蜃楼是大气中由于光线的折射作用而形成的一种自然现象, 它多发生在夏季的沿海一带或沙漠地带, 要欣赏这种奇异的景象, 必须把握最佳观赏时机; 钱塘江大潮的潮汐形成是日、月对地球的引力的海水周期性的涨落现象, 每年的中秋节是日、月对地球的引力最大的时候, 由于海水的摩擦作用使海水的涨落有一个滞后性, 形成“八月十八观大潮”的现象, 因此钱塘潮的观潮也必须抓住观赏时机; 瀑布是因河床跌落而形成, 要想获得“飞流直下三千尺”的观感, 必须在适当距离仰视, 以兼收其形、声、色、动等美感; 山水有机组合景观的观赏, 要体会人在画中游的意境, 需要乘船沿水路观两岸风景, 否则, 收不到“山不转水转, 水不转人转”的观赏效果。

16. (1) A. ①⑧ B. ③④⑥ C. ⑦⑨⑩ D. ②⑤ (2) A. ②⑧⑨ B. ①③④⑤⑥⑦⑩ (3) A. ①④⑤ B. ③⑥ C. ⑦⑧⑩ D. ②⑨

探究拓展

《红楼梦》中大观园入园设计采用的是障景法，以假山为障。障景的目的就是避免游客一入园便对园景一览无遗，因而采用欲露先藏、欲扬先抑的艺术手法，以达到山重水复、曲径通幽的意境。

第二节 中国名景欣赏

能力检测

一、选择题

1. B 2. B 3. B 4. D 5. C 6. C 7. D 8. A 9. B 10. A 11. C 12. B 13. D 14. B

二、综合题

15. (1) 自然 自然 (2) 历史文化 美学 经济 (3) 把握观赏时机 (4) C D

16. (1) 人文 美学价值 历史文化价值 经济价值 (2) 在适当距离总览全貌方能体会其雄伟

探究拓展

(1) 半湿润气候、地势平坦、车行为主 江南地区(或东南地区、江浙地区) 悬索桥或铁索桥、桥身不固定、无墩 (2) ①图略 ②a、c、d ③扩展空间，移步换景 (3) ①白蛇传 ②枫桥 苏州或姑苏

第三节 国外名景欣赏

能力检测

一、选择题

1. D 2. C 3. C 4. C 5. B 6. C 7. D 8. A 9. D 10. A 11. B 12. C 13. C 14. B 15. B

二、综合题

16. (1) 太平洋 大洋洲 (2) 自然景观旅游资源 人文景观旅游资源 自然和人文景观旅游资源
自然景观旅游资源 (3) D (4) 多样性 非凡性 可创造性 非消耗性

探究拓展

1. 中国的黄河、长江流域(古华夏文明) 印度河流域(古印度文明) 两河流域(或美索不达米亚平原, 古巴比伦文明) 尼罗河流域(古埃及文明)

2. ①处如长城、秦陵兵马俑、洛阳龙门石窟、泰山等; ④处如金字塔、狮身人面像、尼罗河风光、阿斯旺水坝等

3. ①处主要是佛教、道教, 佛教建筑为寺庙、佛塔等, 道教有道观建筑; ③处西亚地区以伊斯兰教为主, 宗教建筑为清真寺; ⑤处南欧主要为基督教, 宗教建筑为教堂。

4. 亚洲地域辽阔, 是世界面积最大的大洲, 地形起伏, 自然景观具多样性, 因而具有丰富多样的自然景观旅游资源; 亚洲人口众多, 民族、语言构成复杂, 有丰富多彩的民族风情、文化艺术及多样的人

文旅游景观；亚洲发展历史悠久，拥有多个世界文明的主要发祥地，是世界三大宗教的发源地，文化底蕴深厚。

第三章 旅游规划

第一节 旅游规划概述

能力检测

- (1) B、C (2) B、C (3) A、B、C、D (4) A、B、D
- (1) 奥地利 中 香港 希腊 英国 法国 (2) 南 中 (3) 经济发展水平越高，地区接待能力越强 (4) D (5) 增加外汇收入；回笼货币；提供就业机会；带动和促进国民经济其他部门发展。
- (1) ①特点：旅游业是一项综合性的服务行业，具有投资少、收效快、利润高等特点，成为世界各国重要的经济部门，在某些地区（如井冈山）已成为支柱性产业。②在当前的积极意义：旅游业不仅能扩大就业，增加国家和地方的财政收入和创汇，而且还可以带动国民经济发展，带动工业、农业、建筑、商业、邮电、运输、文化等行业的发展。(2) B、C (3) 革命老区旅游资源极为丰富，是发展特色旅游最理想的地区，在老区经济发展中要充分重视发展以旅游业为龙头的第三产业。像井冈山这样经济落后而旅游资源丰富的革命老区，发展旅游业不仅可以加速当地经济发展的步伐，而且可以提供大量的就业机会，带动当地其他相关产业的发展，从而缩小与发达地区的经济差别。

探究拓展

- (1) 7 280 享受 (2) 外汇 劳动 就业 酒店 交通 (3) 商业 娱乐建议略

第二节 旅游资源评价

能力检测

一、选择题

1. C、D 2. C 3. B 4. D 5. A 6. B、C 7. A 8. A 9. C 10. D 11. C

二、综合题

12. (1) 人文 (2) 保护植被，防止水土流失，防治山体滑坡和对古迹造成破坏。(3) 因为运煤车辆沿路抛撒大量煤灰，给旅游区带来大量固体废弃物，并造成大气污染，更严重的是污染了石窟石刻。为防止污染，保护石窟，所以将运煤公路干线改道。

13. (1) B (2) 自然景观和人文景观融为一体，突出自然美 (3) 白帝城、昭君故里、屈原故里、黄陵庙等 (4) 不利影响：破坏背景环境，原有的急流险滩将消失，使有些景点失去从前的魅力；影响部分水生生物和珍稀物种的生存；有些风景名胜和文物古迹将被淹没。有利影响：在水库及支流上

游形成新的旅游景点，特别是“高峡出平湖”将成为世界奇观。对策：①对一些名胜古迹拆迁重建或原地保护；②对尚未发掘的历史文物古迹，尽快抢救发掘；③对受淹的珍稀物种采取移植、人工培育及建立植物园和保护区加以解决；④加强旅游规划和管理，加强自然景观的保护，开发新的旅游景点。

探究拓展

(1) D (2) A (3) C (4) D (5) C

第三节 旅游规划

能力检测

1. (1) A 贴近自然山、水、森林，远离工业区，靠近居民区；地处上风向，空地大。 (2) 借景 (3) 隔景法 (4) 供游人欣赏和休憩

2. (1) 雪山 湖泊 石林 傣族风情 (2) 自然风光秀丽、人文风情奇特；资源种类多样；自然、人文景观兼备，表现出旅游资源自身质量高，集群情况好，地域组合合理 距市场距离远；交通不便，通达性差；地区接待能力有限；环境承载量有限 (3) A 线线路短，建路成本低，但经过农田，会减少耕地 B 线路程长，会加大成本，但节约耕地，设计出合理的旅游路线可顺次旅游 (4) 旅游活动的规模要与旅游区的环境承载量相适应 该地有石林、高地，环境脆弱，开发不合理极易引起破坏

3. (1) 不要填湖和以景区野生动植物资源为餐饮业原料。 题目资料显示湖泊是景点景观的组成部分，填湖将破坏景观的完整性和旅游价值；旅游区的野生动植物资源属于背景环境的重要组成部分，野味餐饮业将严重破坏背景环境。以上都会对旅游资源的可持续开发利用造成不利影响。 (2) 山地旅游景点之间的交通通达度往往是旅游发展的主要限制性因素。 利用高空索道可以提高游客游览速度，间接提高接待能力，同时又减少了因扩建公路造成的地表植被破坏和背景环境破坏，间接减少水土流失、滑坡等灾害的发生以及车辆运输带来的环境污染和破坏。 (3) 建议放弃公路规划，设计索道运输。

景观的通达度直接影响到旅游资源的开发，但同时通达度的提高不应以背景环境和生态的破坏为代价。因此考虑到雾峰景点的独立性和相对高度大的特点，建议采用高空索道方式提高通达度，又能最大限度保留原有植被。 (4) 建议不要超过环境承载量。 保持旅游景观的长存性和旅游资源的可持续利用是景区旅游业可持续发展的前提。景区旅游活动的规模与环境承载量相适应是保持旅游景观长存性和环境背景稳定的必要条件。从管理角度来说：一方面，进一步开发景区旅游资源和配套设施、提高景区接待能力；另一方面，控制旅游活动规模以适应现有环境承载量。 (5) 借景法 山景

4. (1) ④ ① ③ ② (2) 使旅游者接受爱国主义和革命传统教育 带动旅游业及相关产业发展，增加当地人民的经济收入 促进各地对革命遗迹、遗址和文物的保护，推动地方的文化建设 (3) 中共一大会议址（或嘉兴南湖） (4) 开发红色旅游路线；开发新的红色旅游景点（开发红色旅游活动等）

探究拓展

(1) 北京城的现代化建设和开发商随意拆除四合院严重破坏了北京市的棋盘式格局形状，使北京这

一历史名城的历史文化价值遭到严重破坏。(2)不合理。因为北京城墙和四合院是北京作为历史文化名城的象征,其内涵丰富的深厚文化,有极高的历史文化价值,失去了它,北京就失去了它的特色。

(3)加强管理,严禁拆毁棋盘格局的四合院;城市建设和危房改造要以历史时期的北京城为蓝本,尽量体现老北京的建筑风格和面貌;严格限制北京城新建筑的高度。(4)云南 山西 (5)虽然北京是我国历史文化名城,有浓郁的帝都色彩,荟萃皇家建筑之精华。但北京现代化城市建设,严重破坏了北京原有的建筑风格,改变了北京作为一个古都的面貌,特别是古建筑的拆除,严重降低了北京的历史文化价值。

第四章 文明旅游

第一节 做合格的旅游者

能力检测

一、选择题

1. A 2. C 3. B 4. C 5. C 6. D 7. B 8. C 9. D 10. B 11. D 12. B 13. B 14. A

二、综合题

15. 增长 稳定 快速发展 增加 增强 提高 缩短 增长 时间 扩大 多样化 大众化 娱乐性、享受性 16. (1) 最优吸引半径 (2) 短 短 (3) 发达地区 (4) 大 长 (5) A

探究拓展

(1) 京 津 沪 渝 (2) 略 (3) 第三 明清故宫、颐和园、天坛、周口店北京人遗址、明十三陵(任意三个就行) (4) 矿业 石油 自然条件恶劣(如干旱缺水、平原少、热量不充足等)、种植业落后、畜牧业也不强、缺少林业和渔业 C (5) 丁(重庆) (6) 甲(北京) 全国的政治、文化中心,国际交往城市 (7) 石油化工 黄 (8) 丙(上海) 地形平坦、平原广阔、气候优越、濒江临海、水陆交通便利、科技先进、劳动力密集、人才众多 中共一大会址

第二节 出游前的准备

能力检测

一、选择题

1. B 2. A 3. D 4. D 5. C 6. A 7. C 8. C 9. C 10. B 11. C 12. B 13. B 14. A

二、综合题

15. (1) 北京 南京 杭州 开封 洛阳 西安 (2) 自西向东 (3) 沪杭线—京沪线—京广线—陇海线 (杭州)(上海 南京 北京)(郑州)(开封 洛阳 西安) (4) 双次 单次 (5) ①“自主出游”还是“跟团出游”的选择;②旅行的时间长短;③旅游经费多少;④旅游目的地的主要景

观及各城市的主要景点旅游图及简介资料；⑤带足衣物、保健药品、相机、手机等工具；⑥到达旅游目的地城市后，乘用车的情况及食宿等条件等

(6) 安阳 邯郸 (7) 八达岭长城、明清故宫、颐和园、天坛、周口店“北京人”遗址、明十三陵、清东陵等 龙门石窟 秦始皇陵 (8) ①中学生“自主出游”这一方式不可取，可选择“随团出游”。②中学生利用暑期有较长的闲暇时间，可行；但功课和作业量大，是否可以挤出这样多的时间去旅游？能承受如此行程的旅游费用吗？几乎不可能。③旅游经费全由家长承担，家庭经济基础至关重要。其余言之有理的陈述均可。

(9) 北京 (A) 南京 (B) 南京 中山陵 孙中山 孙中山 “民族、民权、民生”三民主义和“行政、立法、司法、监察、考试五权分立的宪政体制”

探究拓展

(1) A (2) D (3) ABCD (4) 略 (5) 海南三亚地处热带，常年气温较高。春节的北京处在冰天雪地的冬季，因此，防寒防冻防风沙的生活必需品应多带，如羽绒服、棉鞋、防冻开裂霜、手套、眼镜等；适应冰上或雪上运动的小型器材也可携带。

(6) 6:08 中华人民共和国国旗与日同升起，3月21日“日升”时的地方时为6:00，也就是北京时间6:08，因为北京经度约为 118°E ，比东经 120° 晚8分钟

第三节 旅游常识和导游基础知识

能力检测

一、选择题

1. C 2. D 3. B 4. A 5. A 6. A 7. C 8. D 9. A 10. B 11. A 12. B 13. C 14. A

二、综合题

15. 存在问题：(1)设计的旅游线路要合理，踩点要准确，时间一般要有富余，决不能想当然。不合理的旅游线路或没有清晰的旅游线路，会让游客身心疲惫。(2)导游员不了解景区，不熟悉各方面的情况。(3)导游员不尊重游客的意见和选择，私拿主见，游说游客。(4)导游员自我推崇“很熟悉衡山”，其实不然，缺乏“诚信”；旅行社的管理也自然存在问题。(5)导游员应变能力、组织能力差，按说只要与旅游点接待部门等保持畅通的联系，就不可能出现这样大的误差。

危险隐患：(1)让游客多走弯路，心力交瘁。(2)雨雾的夜晚登山，迷路危险增加，很易导致不必要的危险的产生，危及健康和人身安全。如滑倒、遇上毒蛇、野兽等；如遇上山洪、泥石流结果会更惨。(3)导致游客产生“不信任”和“反感”情绪，长期下来会影响该旅行社的经济、社会效益。(回答其他的内容，只要言之有理，语句通顺就可)

探究拓展

(1) 人权 人格尊严 (2) ①导游应该清楚公民人身自由不可侵犯。商场强行搜身和扣人是不合法的，是对消费者的侮辱、诽谤，导游竟附和，这是大错特错的。②导游应当主动维护游客的正当权益，

据理力争。更不能埋怨游客“惹是生非”。③导游应当果断控制事态发展，在个人无力所及的情况下应向旅游主管部门、公安部门等权威部门迅速通报情况。不能作为一个旁观者，任其发展。④旅游购物天经地义。导游应该能清楚在异地他乡的游客心理，游客只身在外，出于同情之心，也应与商场论理一番。（其余的答案，只要言之有理，语句顺畅均可。）

第四节 旅游安全

能力检测

一、选择题

1. B 2. B 3. C 4. D 5. A 6. A 7. B 8. B 9. A 10. C 11. D 12. D 13. A 14. C

二、综合题

15. (1) 食物中毒症状是：上吐下泻，潜伏期短，发病快，集体发病。(2) ①应劝其及早就医，并多休息，不应跟客人说没事；②导游小施没有上前去询问身体状况，没有主动关心旅游者的病情；③向旅游者讲清就医费用自理；④严禁导游擅自给患者用药。(3) ①设法催吐，让食物中毒者喝300~500毫升水，以加速排泄，缓解毒性；②立即将患者送医院抢救，或向当地120求救；③请医生开具诊断证明；④迅速报告旅行社并追究供餐单位的责任。

探究拓展

(1) 3 敦煌某旅行社的地陪、西安某旅行社的全陪、日本团的领队 (2) 时刻注意安全，如果涉及带有危险性的项目，应先看自身是否符合条件；为了尽可能降低风险，旅游时选择适当的保险是十分重要的 (3) 不要随便增加日程里没有的景点；如果是游客自愿要求，也应对新增项目做详细解释，包括其危险性，哪些人是不适合的等；当然对于不是新增的项目，只要游客参与的，都要做说明 (4) ①对客人的要求，要进行详尽的解释，以免有意外；②事故一旦发生，特别是涉及人身安全，要联系医院、公安部门和旅行社；③检查自身是否有责任，本人及旅行社是否应做赔偿等；④写出书面报告 (5) C (6) ①注意交通安全、食品卫生安全和当地社会治安安全；②外出旅游购买保险；③加强自我医疗保护和防范意识。（上述答案，只要言之有理，语句通顺均可）